

Directorate of Education
Govt. of NCT of Delhi

Practice Test Material

2015-2016

Subject : Geography
Class : XII

Under the guidance of :
Addl. DE (School/Exam)

Coordination by :
Mr. Uday Singh, Principal
RPVV, Link Road, Karol Bagh

Prepared by :

- | | | |
|--------------------|----------|-----------------------------------|
| 1. Pushpa Tripathi | Lecturer | R.P.V.V. Link Road |
| 2. Vijita | Lecturer | R.P.V.V. Shalimar Bagh |
| 3. Meena Kumari | Lectuer | R.P.V.V. Yamuna Vihar |
| 4. Nirmal Arora | Lecturer | G.G.S.S.S. AP Block Shalimar Bagh |
| 5. Neerja Lamba | Lecture | R.P.V.V. Dwarka |

PRACTICE TEST-1

CLASS: XII

SUBJECT: GEOGRAPHY (PART-I)

HUMAN GEOGRAPHY : NATURE AND SCOPE (CHAPTER-1)

Time : 2 hrs.

M.M. 25

1. मानव भूगोल की परिभाषा दीजिये। 1
Give the definition of Human Geography.
2. “प्रकृति के आदेशों के अनुसार मानव अपने को ढाल लेता है।” भूगोल की कौन-सी विचारधारा इस कथन से सहमत है? 1
“The Human being adapt themselves to the dictates of nature.” Which geographical thought support this statement.
3. मानव भूगोल के उपागम ‘क्षेत्रीय विभेदन’ के अन्तर्गत किन बातों पर बल दिया जाता है? 1
Approach of Areal differentiation in geography emphasize on which things?
4. ‘रूको और जाओ’ निश्चयवाद से आप क्या समझते हैं? 1
What do you understand by Stop and Go determinism?
5. आर्थिक भूगोल के किन्हीं दो उपक्षेत्रों के नाम लिखिये। 1
Write the name of any two subfields of Economic Geography.
6. प्रौद्योगिकी का विकास करने के लिये प्रकृति के नियमों को समझना आवश्यक है। इस कथन को उदाहरण सहित स्पष्ट करें।
7. संभावनावाद की परिभाषा दीजिये। मानवीय क्रियाओं द्वारा पर्यावरण पर पड़ने वाले दुष्प्रभावों को रोकने के लिये किन मानवीय मूल्यों को अपनाने की आवश्यकता है? किन्हीं दो को बतायें। 3
Define possibilism. To prevent the bad effects on environment due to human activities, which human values are needed to be adopted? Mention any two.
8. प्रकृति के मानवीकरण से क्या अभिप्राय है? 3
What do you mean by humanization of nature. Elaborate.
9. समय के गलियारों से मानव भूगोल अध्ययन के उपागम किस तरह परिवर्तित हुए हैं? विवरण दें।

या

मानव भूगोल के क्रमिक विकास की प्रक्रिया को समझाइये। 3

How is approaches of studying Human Geography changed through the corridors of time. Describe.

OR

Explain the steady development of Human Geography.

10. दो उदाहरणों के साथ स्पष्ट करें कि प्रकृति एवं मानव अविभाज्य तत्व है। 3

Explain that nature and man are intricately interwind. Give two examples.

11. निश्चयवाद से क्या अभिप्राय है? मानव के प्राकृतिकरण की व्याख्या कीजिये। 5

What is determinism? Explain naturalization of Humans.

PRACTICE TEST-2

CLASS: XII

SUBJECT: GEOGRAPHY (PART-I)

PART-I (CHAPTER-2)

Time : 2 hrs.

M.M. 25

1. विश्व में जनसंख्या वितरण के प्रारूप की कोई दो विशेषतायें बताइये। 1
Write any two features of population distribution pattern in the world.
2. प्रवास के गन्तव्य स्थान से क्या तात्पर्य है? 1
What is understood by place of destination in migration?
3. जनसंख्या की प्राकृतिक वृद्धि किसे कहते हैं? 1
What is natural growth of population?
4. बेरोजगारी को प्रवास को प्रभावित करने वाले कारकों के किस समूह में रखोगे। 1
In which group of factors that influence migration shall unemployment be put?
5. बीसवीं शताब्दी में जनसंख्या की तीव्र वृद्धि के लिये जिम्मेदार प्रमुख कारण क्या है? 1
What is the main factor responsible for rapid population growth in twentieth century?
6. जनसंख्या की वृद्धि दर कैसे व्यक्त की जाती है? जनसंख्या परिवर्तन के प्रमुख घटकों को लिखिये। 3
How is population growth rate expressed? Write about the main factors of population change.
7. जनसंख्या घनत्व किसे कहते हैं? विश्व के सघन जनसंख्या घनत्व वाले क्षेत्रों का विवरण दीजिये।
What is population density? Give a brief account of areas with high population density.
8. जनांकिकीय संक्रमण की तीनों अवस्थायें एवं उनकी विशेषतायें लिखिये।
Write about the main features of three stages of demographic transition stages.
9. प्रवास को प्रभावित करने वाले कारकों के दोनों समूहों का वर्णन कीजिये।
Describe the two groups of factors influencing migration.
10. विश्व के दिये हुए मानचित्र में अंकित छाया क्षेत्र को निम्न संकेतों के आधार पर पहचानिये।

A - सर्वाधिक जनसंख्या वाला देश।

B – जनसंख्या के कम घनत्व वाला देश।

C - यूरोप का सघन आबाद क्षेत्र (Map दिया गया है)

In the given map of world show the places, with appropriate symbols, on the basis of given hints:

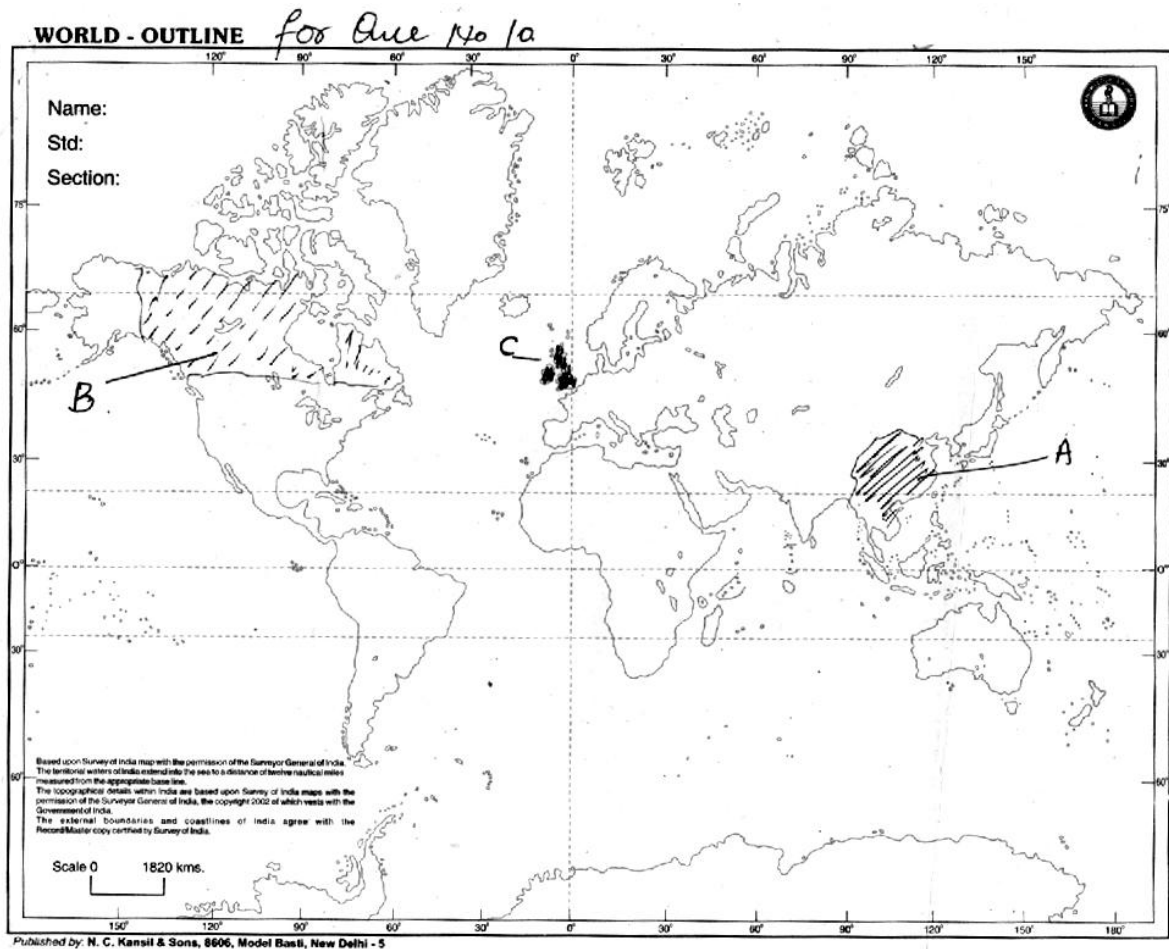
A. A country with maximum population in the world

B. A country with low population density

C. A densely populated area of Europe

11. विश्व में जनसंख्या वितरण को प्रभावित करने वाले कारकों को उदाहरण सहित स्पष्ट करें।

Explain the factors affecting the population distribution in the world with example.



PRACTICE TEST-3

CLASS: XII

SUBJECT: GEOGRAPHY (PART-I)

POPULATION COMPOSITION (CHAPTER-3)

Time : 2 hrs.

M.M. 25

1. विश्व के किस देश में न्यूनतम लिंग अनुपात है? 1
Which country has the lowest sex ratio in the world?
2. 2011 जनगणना के अनुसार विश्व की औसत घनत्व जनसंख्या कितनी है? 1
What is the average density of population in the world according to 2011 census?
3. विश्व का सबसे बड़ा भाषाई समूह कौन-सा है? 1
Which is the largest linguist group in the world?
4. विश्व के किस देश में अधिकतम लिंग अनुपात है? 1
Which country has the highest sex ratio in the world?
5. विश्व के कितने देशों में लिंग अनुपात प्रतिकूल है? 1
How many countries have the unfavourable sex ratio in the world?
6. साक्षरता अनुपात को प्रभावित करने वाले कारकों को समझाएं। 3
What are the factors that influence literacy ratio?
7. विस्तृत जनसंख्या पिरामिड किस प्रकार स्थिर जनसंख्या से भिन्न है? 3
How is expanding population pyramid different from constant population pyramid?
8. लिंग अनुपात किसे कहते हैं? विश्व के कुछ देशों में लिंग अनुपात स्त्रियों के प्रति प्रतिकूल क्यों है? समझाएं। 3
What is sex ratio? Why is sex ratio unfavourable to women in some countries of the world? Explain.
9. वे कौन से कारक हैं जो भारत में स्त्रियों को ग्रामीण क्षेत्रों से नगरीय क्षेत्रों की ओर प्रवास को हतोत्साहित करते हैं? 3
State the factors which discourage women to migrate from rural to urban areas in India.

10. जनसंख्या पिरामिड की आकृति जनसंख्या की विशेषताओं को परिलक्षित करती है। समझाएं। 3

The shape of the pyramid reflects the characteristics of the population. Explain.

11. विश्व के विभिन्न क्षेत्रों में नगरीकरण की प्रक्रिया किस प्रकार नगरों और ग्रामीण जनसंख्या के आकार में भिन्नता और असंतुलन लाती है? 5

How the process of urbanization brings differentiation and imbalance in population size between urban and rural population size in various parts of the world.

PRACTICE TEST-4

CLASS: XII

SUBJECT: GEOGRAPHY (PART-I)

HUMAN DEVELOPMENT(CHAPTER-4)

Time : 2 hrs.

M.M. 25

1. मानव विकास की संकल्पना किसने प्रतिपादित की? 1
Who introduced the concept of human development?
2. किस देश का मानव विकास सूचकांक सर्वाधिक है? 1
Which country has the highest human development index?
3. मानव विकास के चार स्तम्भ बताइए। 1
What are the four pillars of human development?
4. आई.एल.ओ. (ILO) का विस्तृत रूप लिखो। 1
What is the full form of I.L.O.?
5. किस देश को GNH (सकल खुशी राष्ट्रीय) की मान्यता दी गई है? 1
Which country has given the recognition of 'Gross National Happiness' country in the world?
6. मानव विकास किसे कहते हैं? मानव विकास के चार स्तम्भों को वर्णित कीजिए। 3
Define human development. Explain the four pillars of human development.
7. निम्न मानव विकास सूचकांक वाले चार देशों के नाम लिखो। निम्न मानव विकास के लिए उत्तरदायी तीन कारण लिखो। 3
Name four countries having low human development index. Discuss three reasons for low human development index.
8. महबूब-उल-हक और अमर्त्य सेन द्वारा दिए गए विकास के वैकल्पिक दृष्टिकोण की विस्तार से चर्चा कीजिए। 3
Discuss in detail about the alternative view of development given by Dr. Mahbub-ul-Haq and Prof. Amartya Sen.
9. क्या कारण है कि विश्व के कुछ देशों में उच्च व निम्न मानव विकास सूचकांक है'' उदाहरण सहित स्पष्ट करें। 3

Why does the particular region of the world keep reporting low or high levels of human development? Explain by giving suitable examples.

10. मानव विकास सूचकांक को मापने वाले मापकों का वर्णन कीजिए। 3

Explain the three parameters of HDI.

11. मानव विकास का मूल उद्देश्य क्या है? मानव विकास के विभिन्न उपागमों का वर्णन कीजिए। 5

What is the basic goal of human development? Describe various approaches of Human Development.

PRACTICE TEST-5

CLASS: XII

SUBJECT: GEOGRAPHY (PART-I)

HUMAN GEOGRAPHY : NATURE AND SCOPE (CHAPTER-1)

Time : 2 hrs.

M.M. 25

1. प्राथमिक क्रियाओं में शामिल क्रियाएँ कौन-सी हैं? 1
Name the some primary activities.
2. भोजन संग्रह विश्व में कहाँ किया जाता है? 1
Gathering is existing as an economic activity in which region of the world.
3. वाणिज्य पशुधन पालन की क्या विशेषता है? 1
Write the characteristics of commercial livestock rearing.
4. गहन निर्वाह कृषि के अन्य दो प्रकार कौन-से हैं? 1
Name the two types of intensive subsistence agriculture.
5. भूमध्य सागरीय प्रदेश में किस विशेष फल की खेती की जाती है? 1
Which specialized fruit is grown in the Mediterranean region?
6. विश्व के मानचित्र में निम्नलिखित बिंदुओं को दर्शाइए? 3
क. एशिया का टुंड्रा प्रदेश
ख. अफ्रीका में वाणिज्य पशुधन क्षेत्र
ग. एशिया महाद्वीप में चलवासी पशुचारण क्षेत्र
On a physical map of the world, mark the following feature with appropriate label.
i. Tundra region in Asia
ii. Commercial livestock region in Africa
iii. Areas of nomadic herding in Asia
7. “डेरी व्यवसाय दुधारू पशुओं के पालन पोषण का सर्वाधिक उन्नत एवं दक्ष प्रकार है।”
उपरोक्त कथन की पुष्टि कीजिए। 3
“Dairy is the most advanced and efficient type of rearing of milch animals”.
Explain it.
8. खनन कार्य की लाभप्रदता किन दो बातों पर निर्भर करती है? स्पष्ट कीजिए। 3

Write two profitability of mining operations.

9. “विकसित अर्थव्यवस्था वाले देश उत्पादन की खनन प्रसंस्करण एवं शोध कार्य से पीछे हट रहे हैं? उपयुक्त कथन की पुष्टि कीजिए। 3

“The developed economies are retreating from mining, processing and refining stages of production”. Why?

10. रोपण फसलों की शरूआत औपनिवेशीकरण का एक महत्वपूर्ण पहलू था। स्पष्ट कीजिए। 3

Plantation agriculture was a important part of colonialism. Explain it.

11. मिश्रित कृषि विश्व के अत्यधिक विकसित देशों में क्यों की जाती है? कारण बताइये। 5

Why mixed farming is found in the highly developed parts of the world?

PRACTICE TEST-6

CLASS: XII

SUBJECT: GEOGRAPHY (PART-I)

SECONDARY ACTIVITIES (CHAPTER-6)

Time : 2 hrs.

M.M. 25

1. प्रौद्योगिकीय नवाचार द्वारा देश का विकास तीव्र होता है। एक पंक्ति में स्पष्ट कीजिए। 1
Technological innovation plays a important role in the faster development of the nation. Explain it.
2. आधुनिक निर्माण के मुख्य संकेन्द्रण कुछ ही स्थानों में सीमित है। ऐसा क्यों? 1
Major concentration of modern manufacturing have flourished in a few number of places. Comment on it.
3. उद्योग का आकार किन बातों पर निर्भर करता है? 1
What are those things which determine the size of the industry?
4. 'कृषि उद्यम' (व्यवसाय) को परिभाषित कीजिए। 1
Define the term 'Agri business'.
5. नया रूहर किस तरह से पुराने रूहर से अलग भूदृश्य प्रस्तुत करता है। तर्क दीजिए। 1
How does new Ruhr show a different scenario from the earlier Ruhr region?
6. बाजार की अभिगम्यता उद्योग की स्थापना में सबसे प्रमुख कारक है। स्पष्ट कीजिए। 3
"The existence of a market for manufacturing goods is the most important factor in the location of industries". Give reasons.
7. परंपरागत बड़े पैमाने वाले औद्योगिक प्रदेशों के दो पहचान बिंदुओं के बारे में लिखिए। 3
Write two recognition points for traditional large scale industries.
8. लौह इस्पात उद्योग को सभी उद्योगों का आधार क्यों कहा जाता है। कोई तीन तर्क दीजिए। 3
"The iron and steel industry forms the base of all industries". Comment on it.
9. विनिर्माण शब्द की व्याख्या कीजिए। 3
Define the term 'Manufacturing'.
10. आधुनिक निर्माण अपृथक्करण ढंग से परिवहन तंत्र से जुड़ हैं। स्पष्ट कीजिए? 3
Modern industry is inseparably tied to the transportation. Explain it.
11. उच्च प्रौद्योगिकी निर्माण प्रक्रिया की एक महत्वपूर्ण कड़ी है। व्याख्या कीजिए। 5
"High technology plays an important role in manufacturing process." Explain it.

PRACTICE TEST-7

CLASS: XII

SUBJECT: GEOGRAPHY (PART-I)

TERTIARY AND QUARTERNARY ACTIVITIES (CHAPTER-7)

Time : 2 hrs.

M.M. 25

1. दो आर्थिक क्रियाओं के नाम लिखिए जो तृतीयक क्रियाकलाप में सम्मिलित हैं। 1
Write the name of two economic activities included in tertiary activities.
2. “पंचम क्रियाकलाप” से क्या अभिप्राय है? 1
What are ‘Quinary Activities’.
3. भारत के महानगरीय क्षेत्रों में अर्थव्यवस्था के कौन से सेक्टर सर्वाधिक रोजगार उपलब्ध कराते हैं? 1
Which sectors of economy provides highest employment in metropolitan cities of India?
4. विश्व के किन्हीं दो विकासशील देशों के नाम लिखिए जो चिकित्सा पर्यटन से सर्वाधिक लाभ प्राप्त करते हैं? 1
Write the names of any two developing countries of the world which receives abundant benefits from medical tourism?
5. “जनसंचार माध्यम” से आप क्या समझते हैं? 1
What do you understand by “Telecommunication”?
6. “ज्ञान प्रक्रमण बाह्यस्रोतन”, “व्यवसाय प्रक्रमण बाह्यस्रोतन” से किस प्रकार भिन्न है? वर्णन कीजिए। 3
How “Knowledge Processing Outsourcing” is different from ‘Business Processing Outsourcing’. Explain.
7. ग्रामीण विपणन केन्द्रों की विभिन्न विशेषताओं का वर्णन कीजिए। 3
Explain the different characteristics of rural marketing centres.
8. किसी देश के आर्थिक विकास में सेवा सेक्टर के योगदान का वर्णन कीजिए। 3
Describe the contribution of service sector in economic development of a country.
9. तृतीयक क्रियाकलाप के रूप में पर्यटन के महत्व का वर्णन कीजिए। 3

Explain the importance of tourism as a tertiary activity.

10. “केन्द्रीय व्यापारिक क्षेत्र”, नगरीय आकारिकी (Morphology) का मुख्य भाग होता है।
इसके महत्व को स्पष्ट कीजिए। 3

“Central Business Zone” is the main part of urban morphology. Discuss its importance.

11. पर्यटन को प्रभावित करने वाले कारकों का वर्णन कीजिए। 5

Discuss the factors affecting tourism industry.

PRACTICE TEST-8

CLASS: XII

SUBJECT: GEOGRAPHY (PART-I)

TRANSPORT AND COMMUNICATION (CHAPTER-8)

Time : 2 hrs.

M.M. 25

1. विश्व का प्रथम सार्वजनिक रेलमार्ग किन दो स्थानों के मध्य प्रारम्भ हुआ? 1
The first public railway line was opened between which two places?
2. “महामार्ग” को परिभाषित कीजिए। 1
Define “Highways”.
3. सीमावर्ती सड़कों के दो उद्देश्यों क्या हैं? 1
What are two objectives of Border roads?
4. दक्षिणी गोलार्द्ध में 10° - 35° अक्षांशों के मध्य सीमित वायुसेवाएँ उपलब्ध होने के क्या कारण हैं? 1
What are the reasons for limited air services between 10° - 35° latitudes in the southern hemisphere?
5. परिवहन की सबसे सस्ती विधा का नाम लिखिए। 1
Write down the name of cheapest mode of transport.
6. विश्व के सबसे लम्बे रेलमार्ग का नाम लिखिए। इस रेलमार्ग का आर्थिक महत्व स्पष्ट कीजिए। 3
Write down the name of world's longest railway line. Explain its economic benefits.
7. स्वेज नहर के निर्माण से यूरोप और एशिया महाद्वीप के मध्य व्यापार में वृद्धि हुई है, वर्णन कीजिए। 3
Due to Suez Canal, there is a increase in trade between Europe and Asia. Explain.
8. पाइपलाइन परिवहन के लाभ और हानियों का वर्णन कीजिए। 3
Discuss the merits and demerits of pipeline transport.
9. वे कौन-सी विधाएँ हैं जिनके द्वारा साइबर स्पेस मनुष्यों के समकालीन आर्थिक व सामाजिक स्पेस में वृद्धि करेगा? 3
What are the modes by which cyber space will expand the contemporary economic and soil space of humans?

10. विश्व के दिए गए मानचित्र में चिह्नित स्थानों को निम्नलिखित संकेतों के आधार पर पहचानिए - 3

क. दक्षिण अफ्रीका का हवाई पत्तन

ख. मिस्र की नौ-परिवहन नहर

ग. पार महाद्वीपीय रेलमार्ग

On the basis of following indicators, identify the marked place on the outline map of India:

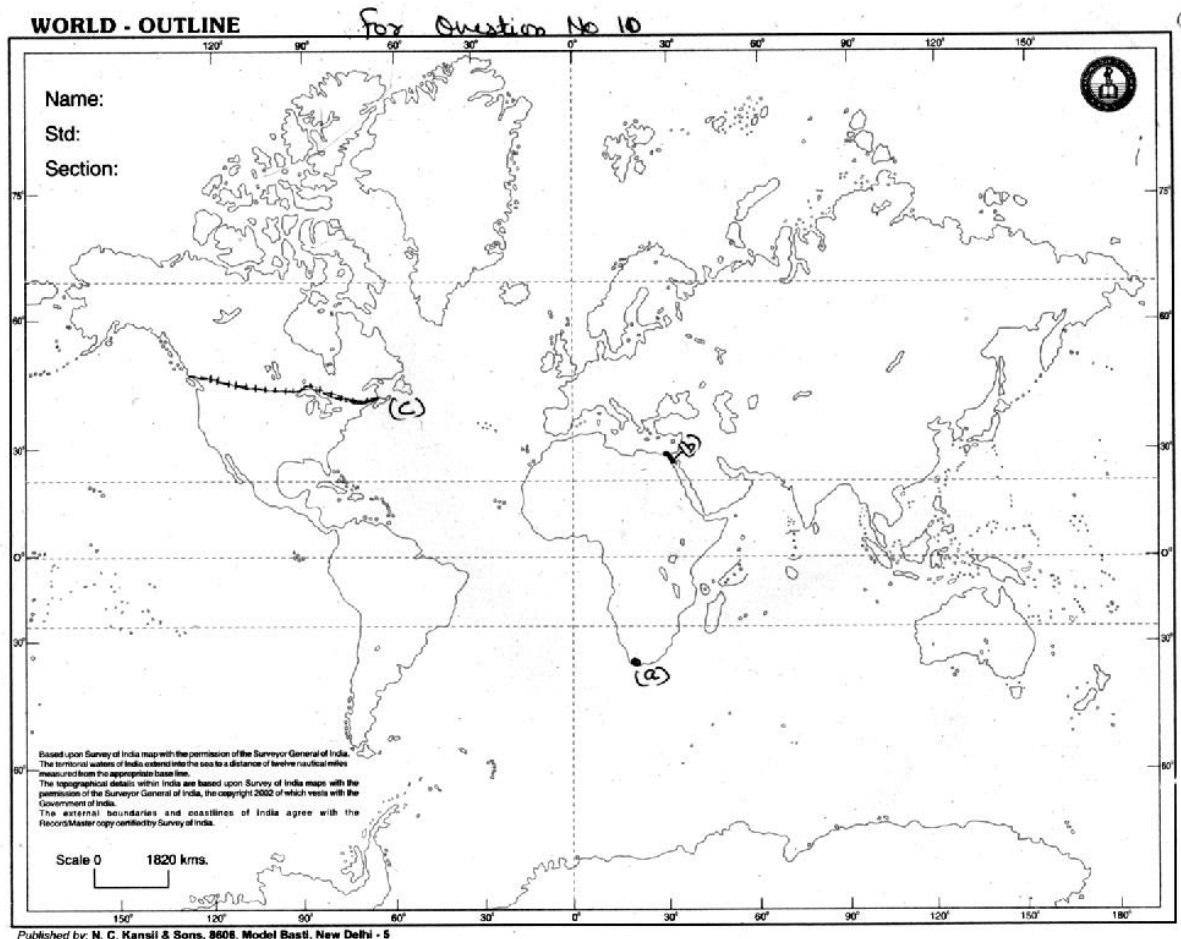
a. Airport of South Africa

b. Shipping Canal of Egypt

c. Trans Continental Railway

11. विश्व का व्यस्ततम जलमार्ग कौन-सा है? अंतर्राष्ट्रीय व्यापार में इसकी भूमिका का वर्णन कीजिए। 5

Which is world's busiest waterways? Explain its relevance for international trade.



PRACTICE TEST-9

CLASS: XII

SUBJECT: GEOGRAPHY (PART-I)

HUMAN GEOGRAPHY : NATURE AND SCOPE (CHAPTER-1)

Time : 2 hrs.

M.M. 25

1. व्यापार का आशय स्पष्ट कीजिए। 1
Explain the meaning of trade.
2. व्यापार के प्रमुख दो स्तर कौन से हैं? 1
Which are the two main levels of Trade?
3. आदिम समाज में व्यापार का आरम्भिक स्वरूप क्या था? 1
What is the initial form of trade in primitive societies?
4. रेशम मार्ग किन दो देशों को मिलाता था? 1
Which two countries were connected by the 'Silk Route'?
5. 'डंपिंग' का अर्थ स्पष्ट कीजिए। 1
Explain the meaning of 'Dumping'.
6. द्विपार्श्विक और बहुपार्श्विक व्यापार में अन्तर स्पष्ट कीजिए। 3
Differentiate between Bilateral Trade and Multi-Lateral Trade.
7. राष्ट्रीय संसंधानों में भिन्नता किस प्रकार अन्तर्राष्ट्रीय व्यापार को प्रभावित करती है? 3
How does the difference in national resources influence the international trade?
8. 'मुक्त व्यापार नीति' की तीन महत्वपूर्ण विशेषताओं को स्पष्ट कीजिए। 3
Clarify the three main characteristics of Free Trade.
9. 'विश्व व्यापार संगठन' द्वारा किए गए कार्यों का तीन बिन्दुओं में वर्णन कीजिए। 3
Explain the three main features of World Trade Organization.
10. 'व्यापार संतुलन' का अर्थ स्पष्ट करते हुए प्रतिकूल व अनुकूल व्यापार संतुलन में अन्तर बताइए। 3
Clarify the meaning of 'Balance of Trade' and also differentiate between the favourable and unfavourable balance of trade.
11. 'पत्तनों को अन्तर्राष्ट्रीय व्यापार के प्रवेश द्वार कहा जाता है।' इस कथन का स्पष्टीकरण उदाहरण सहित कीजिए। 5
'Ports are called the Gateways of International Trade'. Clarify this statement with suitable examples.

PRACTICE TEST-10

CLASS: XII

SUBJECT: GEOGRAPHY (PART-I)

HUMAN GEOGRAPHY : NATURE AND SCOPE (CHAPTER-1)

Time : 2 hrs.

M.M. 25

1. मानव बस्ती किसे कहते हैं?
Define human settlements?
2. उपनगरीकरण क्या है?
What is sub-urbanisation?
3. 'मेगोलोपालिस' शब्द का अर्थ बताइए।
What is the meaning of Megalopolis?
4. ग्रामीण बस्तियों की प्रमुख आर्थिक क्रिया क्या है?
What is the major economic activity in rural settlements?
5. किस प्रकार की बस्तियाँ सड़क, नदी या नहर के किनारे होती हैं?
Which form of settlement develops along either side of roads, rivers or canals?
6. ग्रामीण व नगरीय बस्तियों में अन्तर स्पष्ट कीजिए।
Differentiate between Rural and Urban Settlements.
7. ग्रामीण बस्तियों की आकृति के आधार पर तीन प्रमुख प्रकारों का वर्णन कीजिए।
Explain the three main types of rural settlements on the basis of forms or shapes.
8. 'ग्रामीण बस्तियों की स्थिति कई कारकों द्वारा प्रभावित होती है।' किन्हीं तीन कारकों का वर्णन कीजिए।
'Many factors affect the location of rural settlements'. Explain any three factors.
9. संहत व प्रकीर्ण बस्ती में अन्तर स्पष्ट कीजिए। 3
Differentiate between compact and dispersed settlements.
10. विकासशील देशों में ग्रामीण बस्तियों की प्रमुख समस्याओं का तीन बिन्दुओं में वर्णन कीजिए। 3
Explain the problems of rural settlements in the developing countries in three main points.
11. विकासशील देशों की नगरीय बस्तियों की आर्थिक व पर्यावरण सम्बन्धी समस्याओं का विश्लेषण कीजिए। 5
Describe the economic and environmental problems of urban settlements in developing countries.

PRACTICE TEST-11

CLASS: XII

SUBJECT: GEOGRAPHY (PART-II)

**POPULATION :DISTRIBUTION, DENSITY, GROWTH,
COMPOSITION (CHAPTER-1)**

Time : 2 hrs.

M.M. 25

1. अरुणाचल प्रदेश का आकार बहुत बड़ा है पर देश की केवल 0.98% जनसंख्या यहाँ रहती है। कारण बताइए। 1

Arunachal Pradesh has a large area but only 0.98% of population of the country live here. Why?

2. जनसंख्या के किस आयु वर्ग में सर्वाधिक वृद्धि दर पाई जाती है? 1

Which age group of population has the maximum growth rate?

3. वर्ष 2003 की युवा नीति में किशोर वर्ग के लिए किस नीति की शुरुआत की गई। 1

Which policy was started in the year 2003 for the youth?

4. लघुत्तम भाषा वर्ग में कौन-कौन से भाषा समूह शामिल है? 1

Which language groups comprises smallest linguistic composition?

5. 'जनसंख्या वितरण' को परिभाषित कीजिए। 1

Explain the term "Population Distribution".

6. सन् 1951-81 के दशकों को भारत में जनसंख्या विस्फोट की अवधि के रूप में जाना जाता है विवेचना कीजिए। 3

The decades 1951-81 are referred to as the period of population explosion. Explain it.

7. उत्तर भारत में जनसंख्या की अति उच्च वृद्धि दर पायी जाती है। कारण बताइए। 3

Northern India has high population growth rate. Why?

8. "भारत के तटीय मैदान तथा नदीय मैदानों में विशाल जनसंख्या के सांद्रण वाले प्रदेश रहे हैं। कारण स्पष्ट कीजिए। 3

"Regions of river plains and coastal areas of India have larger population concentration." Explain its reasons.

9. वृद्धि दर के अधिक होने तथा जनसंख्या के दोगुने होने के समय में सीधा संबंध है। कारण बताइए। 3

Population doubling time and high growth rate are dependent to each other. Give reasons.

10. “भारतीय भूदृश्य पर धर्म की अभिव्यक्ति स्पष्ट रूप से अभिव्यक्त होती है।” कथन को स्पष्ट करें। 3

Formal expression of regions on landscape is manifested. Give reasons of it.

11. भारत में जनसंख्या घनत्व के स्थानिक भिन्नता के लिए उत्तरदायी कारकों की विवेचना कीजिए। 5

Elaborate the reasons for spatial disparity in population density in India.

PRACTICE TEST-12

CLASS: XII

SUBJECT: GEOGRAPHY (PART-II)

MIGRATION : TYPES, CAUSES AND CONSEQUENCES (CHAPTER-2)

Time : 2 hrs.

M.M. 25

1. भारत की जनगणना में प्रवास के दो मुख्य आधार कौन से हैं? 1
In the census of India, migration on which two bases is enumerated?
2. आंतरिक प्रवास के अंतर्गत कौन-सी चार धाराएँ शामिल होती हैं? 1
Which four streams are identified under the internal migration?
3. अंतरराज्यीय प्रवास में पुरुष वर्ग की प्रधानता होती है। ऐसा क्यों? 1
Inter-state migration comprises by the male only. Why?
4. किस राज्य में आप्रवासी सर्वाधिक दर्ज किए गए हैं। 1
Name the state which recorded the highest in-migrants?
5. कौन-सा नगरीय समूह सर्वाधिक प्रवासी आकर्षित करता है? 1
Which urban agglomeration attract the highest migrants?
6. 1960 के दशक के बाद भारत में प्रवास के स्वरूप में क्या बदलाव आए। व्याख्या कीजिए। 3
Which trend was noticed in the migration in India migrants after the 1960s?
7. प्रवास के द्वारा हुए नकारात्मक प्रभाव कौन-कौन से हैं। किन्हीं तीन को लिखिये। 3
Write the negative effects of migration. Give any three points.
8. पुरुषों तथा स्त्रियों के लिए प्रवास के कारण भिन्न-भिन्न होते हैं? उपर्युक्त कारण लिखिए। 3
Why reasons for males and females are different for migration?
9. प्रवासी सामाजिक परिवर्तन के अभिकर्ताओं के रूप में कार्य करते हैं? व्याख्या कीजिए। 3
“Migrants act as an agents of social change”. Explain it.
10. अंतर्राष्ट्रीय प्रवासी किस तरह देश की आर्थिक विकास में महत्वपूर्ण भूमिका निभाते हैं उदाहरण देते हुए समझाइए। 3
How does international migrants plays a important role in the economic development of a country?
11. प्रवास के लिए उत्तरदायी प्रतिकर्ष तथा अपकर्ष कारकों की व्याख्या कीजिए। 5
Explain the factors for each factor of migration (i) push factors (ii) pull factors

PRACTICE TEST-13

CLASS: XII

SUBJECT: GEOGRAPHY (PART-II)

HUMAN DEVELOPMENT (LESSON-3)

Time : 2 hrs.

M.M. 25

1. भारत में किन दो राज्यों में जनसंख्या का उच्चतम अनुपात गरीबी रेखा से नीचे है? 1
Which of the two states of India have the highest proportion of population below poverty line?
2. मानव-विकास रिपोर्ट का प्रकाशन (अंतर्राष्ट्रीय स्तर पर) किस संस्था द्वारा किया जाता है? 1
Human Development report was published by which organisation. Write its name.
3. स्वस्थ जीवन के सूचक के रूप में स्वास्थ्य संबंधी किन सूचकों को लिया जाता है? किन्हीं दो को लिखिये। 1
As a indicator of healthy life, which are the health related measures that have been adopted? Mention any two.
4. केरल मानव विकास सूचकांक क्रम में सबसे ऊपर है? इस उपलब्धि के लिये जिम्मेदार कारकों के बारे में लिखिये। 1
Kerala is placed at the top rank in Human Development Index. Write any two factors responsible for this achievement.
5. 2011 की रिपोर्ट के अनुसार मानव विकास सूचकांक में कोटिक्रम में विश्व में भारत का कौन-सा स्थान था? 1
What is the rank of India in World Human Development Index according to the 2011 Report?
6. 'भारत के लिये विकास अवसरों के साथ-साथ उपेक्षाओं एवं वंचनाओं का मिला-जुला थैला है।' इस कथन को स्पष्ट करें। 3
For India, 'Development is a mixed bag of opportunities as well as neglect and deprivations'. Explain.
7. भारत ने स्वतन्त्रता के बाद उल्लेखनीय प्रगति की है लेकिन कई राज्य आज भी गरीबी, अशिक्षा एवं उच्च मृत्युदर का सामना कर रहे हैं। उन मानवीय मूल्यों की चर्चा करें जो इन समस्याओं को दूर करने में सहायक हों। 3
After independence India made a remarkable progress but many states are facing the problems of poverty, illiteracy and high death rate. Which human values may help to solve these problems successfully. Explain.

8. जनसंख्या एवं संसाधनों के बीच उचित संतुलन मानव विकास के लिये आवश्यक है। इस कथन को स्पष्ट करें। 3

Proper balance between population and resources is necessary for Human Development. Explain this statement in brief.

9. भारत के बच्चों में घटते लिंगानुपात के दो कारण बताइये। 3

Write any two reasons, responsible for decreasing sex ratio among children in India.

10. उत्तर भारत के अधिकतर राज्यों में मानव विकास का निम्न सूचकांक पाये जाने के क्या कारण हैं? 2 बिन्दुओं में बताइये। 3

Give two reasons for low levels of human development in most of the northern states of India.

11. भारत में स्त्री साक्षरता % के स्थानिक प्रतिरूप का विवरण दीजिये एवं स्थानिक भिन्नता के कारणों को बताइये। 5

Discuss the spatial patterns of female literacy in India and bring out the reason responsible for it.

PRACTICE TEST-14
CLASS: XII
SUBJECT: GEOGRAPHY (PART-II)
HUMAN SETTLEMENTS (CHAPTER-4)

Time : 2 hrs.

M.M. 25

1. नगरों के विकास काल के आधार पर हैदराबाद एवं लखनऊ को किस वर्ग में रखेंगे? 1
On the basis of evolution of towns in India, in which category Hyderabad and Lucknow can be put?
2. भारत में एक तरफ जहाँ मध्यभारत के बुंदेलखण्ड जैसे क्षेत्रों में गुच्छित बस्तियाँ पाई जाती हैं वहीं दूसरी तरफ राजस्थान में भी गुच्छित बस्तियाँ पाई जाती हैं। कारण लिखिये। 1
In India clustered settlements are found in Bundelkhand as well as in Rajasthan. Give the reason for both.
3. अनुषंगी नगर किन्हीं कहते हैं? 1
What are satellite towns?
4. किन्हीं दो नगरों के नाम लिखिये जिन्हें वाणिज्यिक नगर के रूप में वर्गीकृत किया जा सकता है? 1
Write the name of any two towns that may be classified as commercial towns in India.
5. भारत में प्रथम वर्ग के नगर किन्हीं कहा जाता है? 1
Mention the one characteristic which is necessary for a urban centre to be called as a class I town?
6. ग्रामीण एवं नगरीय बस्तियों में तीन आधारभूत अंतर स्पष्ट कीजिये। 3
Write any three basic differences between rural and urban settlement.
7. भारत में ग्रामीण बस्तियों के विभिन्न प्रकारों के लिये मुख्य रूप से कौन से कारक उत्तरदायी हैं? किन्हीं तीन का उल्लेख करें। 3
Which are the main factors responsible for having different types of rural settlements in India? Describe any three.
8. किसी नगरीय संकुल के बनने के लिये कौन-सी दशाएँ सहायक होती हैं? स्पष्ट करें। 3
What are the combinations that help to develop urban agglomerations? Explain.
9. नगरों के प्रकार्यात्मक वर्गीकरण से क्या आशय है? गैरीसन नगरों के दो उदाहरण दें। 3

What do you mean by functional classification of towns? Give any two examples of Garrison (Cantonment) towns.

10. मेगा नगर किन्हे कहते हैं? भारत में कुल कितने मेगा नगर हैं? (2001 के आँकड़ों के अनुसार) 3

What are Mega cities? According to 2011 census how many Mega cities are there in India?

11. मानव बस्ती को परिभाषित कीजिये। भारत में ग्रामीण बस्तियों के प्रमुख प्रकारों का संक्षिप्त वर्णन करें। 5

Define human settlements. Describe the main types of rural settlements in India.

PRACTICE TEST-15

CLASS: XII

SUBJECT: GEOGRAPHY (PART-II)

LAND RESOURCES AND AGRICULTURE (CHAPTER-5)

Time : 2 hrs.

M.M. 25

1. निवल बोया क्षेत्र का अर्थ स्पष्ट कीजिये। 1
Clarify the meaning of 'Net Area Sown'.
2. भारत में चारागाह भूमि में कमी का एक प्रमुख कारण क्या है? 1
What is the main reason for the decline in land under grazing lands in India?
3. कृषि गहनता की गणना किस प्रकार की जाती है? 1
How is Cropping Intensity (CI) calculated?
4. पश्चिम बंगाल में उगाई जाने वाली चावल की तीन फसलों के नाम बताइए। 1
Name the three crops of rice grown in West Bengal.
5. दालें किस प्रकार मिट्टी की प्राकृतिक उर्वरकता को बढ़ाती हैं? 1
How Pulses increase the natural fertility of soils?
6. भारत की तीन फसल ऋतुएँ कौन सी हैं? प्रत्येक की विशेषता बताइए। 3
Which are the three crop seasons in India? Write their characteristics.
7. वर्तमान परती भूमि व पुरातन भूमि में अन्तर स्पष्ट कीजिए। 3
Differentiate between current fallow and fallow other than current fallow.
8. 'किसी क्षेत्र का भूमि उपयोग, अधिकतर वहाँ की आर्थिक क्रियाओं की प्रकृति पर निर्भर है।' इस कथन का स्पष्टीकरण उचित उदाहरणों द्वारा कीजिए। 3
'Land-use in a region, to a large extent, is influenced by the nature of economic activities carried out in that region'. Clarify this statement with suitable examples.
9. आर्द्रता के प्रमुख स्रोत के आधार पर कृषि के दो प्रमुख प्रकारों का वर्णन कीजिए। 3
Explain two main types of farming on the basis of main source of moisture.
10. स्वतन्त्रता प्राप्ति के बाद खाद्यान्नों का उत्पादन बढ़ाने हेतु किए गए प्रमुख तीन उपायों को बताइए। 3
Suggest any three measures that were adopted to increase the production of foodgrains after independence.
11. भारतीय कृषि की पाँच प्रमुख समस्याएँ कौन-सी हैं? वर्णन कीजिए। 5
What are the main five problems of Indian Agriculture? Explain.

PRACTICE TEST-16

CLASS: XII

SUBJECT: GEOGRAPHY (PART-II)

LAND RESOURCES AND AGRICULTURE (CHAPTER-5)

Time : 2 hrs.

M.M. 25

1. साझा संपत्ति संसाधन व निजी भूसंपत्ति में एक प्रमुख अन्तर क्या है? 1

What is the main difference between common property resources and private land?

2. भारत में गेहूँ प्रमुखतया किस फसल ऋतु में बोया जाता है? 1

In which season is wheat cultivation done in India?

3. 1960 के दशक में कौन-से देशों में गेहूँ व चावल की अधिक उत्पादकता की किस्में विकसित की गई थीं? 1

In which countries were the high yielding varieties of wheat and rice developed in 1960?

4. अमेरिकन कपास को देश के उत्तर पश्चिम भाग में किस नाम से पुकारा जाता है? 1

By which name is American cotton called in north-western parts of the country?

5. भारत की दो प्रमुख खाद्यान्न फसलों के नाम तथा उनके उत्पादक राज्य बताइए। (एक-एक) 1

Name two main cereals of India and their producing states. (each one)

6. 'भू-संसाधनों का महत्व उन लोगों के लिए अधिक है जिनकी आजीविका कृषि पर निर्भर है।' इस कथन को उचित उदाहरणों द्वारा स्पष्ट कीजिए। 3

'Land Resource is more crucial to the livelihood of the people depending on agriculture'. Clarify this statement with suitable examples.

7. भारत के दिए गए रेखा-मानचित्र में निम्नलिखित की स्थिति उपयुक्त चिह्नों से दिखाइए और उनके नाम लिखिए - 3

क. जूट का सबसे बड़ा उत्पादक राज्य

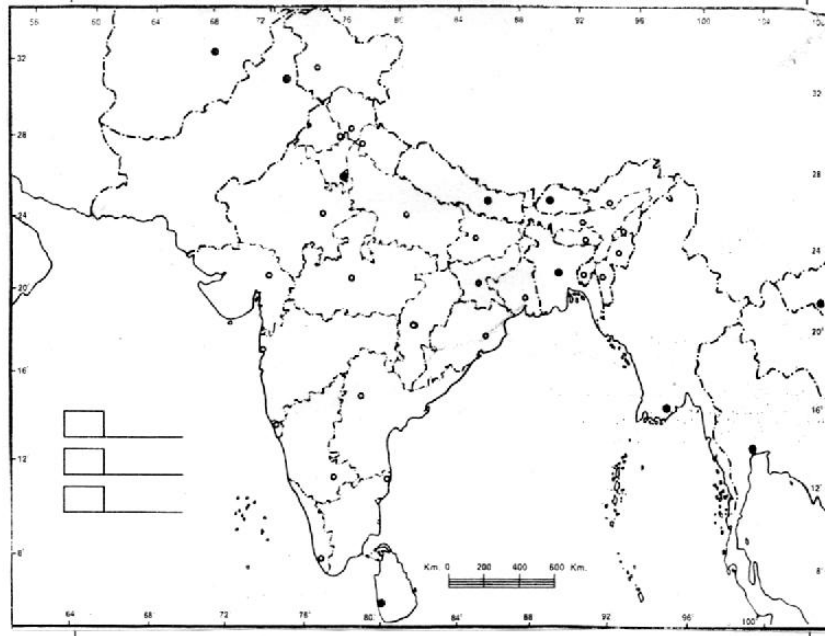
ख. कॉफी का सबसे बड़ा उत्पादक राज्य

ग. मूँगफली का सबसे बड़ा उत्पादक राज्य

On the given political outline map of India locate and label the following with appropriate symbols:

- i. The leading jute producing state

- ii. The leading coffee producing state
- iii. The leading groundnut producing state



8. हरित क्रान्ति से क्या तात्पर्य है? इसकी प्रमुख दो विशेषताएँ बताइए। 3
What is Green Revolution? Explain its two main characteristics.
9. भारत में शुष्क व आर्द्र कृषि में अन्तर स्पष्ट कीजिए। 3
Differentiate between Dryland farming and Wetland farming.
10. भारत में भू-निम्नीकरण के लिए उत्तरदायी तीन कारकों का वर्णन कीजिए। 3
Explain three factors responsible for the degradation of cultivable land.
11. पिछले 50 वर्षों में भारत में कृषि उत्पादन में वृद्धि और प्रौद्योगिकी के विकास का वर्णन कीजिए। 5
Explain a significant increase in agricultural output and improvement in technology in India.

PRACTICE TEST-17

CLASS: XII

SUBJECT: GEOGRAPHY (PART-II)

HUMAN GEOGRAPHY : NATURE AND SCOPE (CHAPTER-1)

Time : 2 hrs.

M.M. 25

1. लैगून के दो उपयोग लिखिए। 1

Write the two uses of lagoons.
2. भारत में अर्थव्यवस्था के किस सेक्टर में धरातलीय और भौम जल का सर्वाधिक उपयोग किया जाता है? 1

Which sector of economy uses maximum amount of surface and ground water in India?
3. राजस्थान और महाराष्ट्र में अधिक जल निकालने के कारण भूमिगत जल में किस तत्व का संकेन्द्रण बढ़ गया है? 1

The concentration of which element increases in groundwater in Rajasthan and Maharashtra due to high extraction of groundwater?
4. “जल संभर प्रबंधन” से आप क्या समझते हैं? 1

What do you understand by “Watershed Management”?
5. “जल गुणवत्ता” को परिभाषित कीजिए। 1

Define “Water Quality”.
6. किन मानवीय मूल्यों को अपनाकर जल संसाधनों को संरक्षण दिया जा सकता है? वर्णन कीजिए। 3

Which human values can be adopted to conserve water resources? Explain.
7. केन्द्रीय और राज्य सरकारों द्वारा जल संभर विकास और प्रबंधन के लिए चलाए गए कार्यक्रमों का वर्णन कीजिए। 3

Explain the different programmes started by Central and State Government for watershed development and management.
8. भारत में सिंचाई के लिए जल संसाधनों की सर्वाधिक मांग क्यों है? स्पष्ट कीजिए। 3

Why, there is a highest demand of water resources in irrigation in India? Explain.
9. जल संसाधनों का ह्रास सामाजिक द्वंद्वों और विवादों को जन्म देता है। उदाहरण सहित स्पष्ट कीजिए। 3

The depleting water resources may lead to social conflicts and disputes. Elaborate it with suitable examples.

10. भारत में जल संसाधनों की उपलब्धता में तेजी से कमी आ रही है। इसके लिए उत्तरदायी कारकों का वर्णन कीजिए। 3

There is a rapid decline in availability of water resources in India. Explain the factors responsible for its decline.

11. “वर्षा जल संग्रहण” से क्या अभिप्राय है? इसके संग्रहण की विभिन्न विधियों का वर्णन कीजिए। 5

What is ‘Rain Water Harvesting’? Explain different methods of its harvesting?

PRACTICE TEST-18

CLASS: XII

SUBJECT: GEOGRAPHY (PART-II)

MINEALS AND ENERGY RESOURCES (CHAPTER-7)

Time : 2 hrs.

M.M. 25

1. भारत में प्रथम परमाणु संयंत्र कहाँ और कब स्थापित किया गया? 1
Where and when was the first atomic station set up in India
2. मोनाजाइट बालू से कौन सा खनिज प्राप्त किया जाता है? 1
Which mineral is obtained from Monazite sand?
3. कोयले के निर्माण के दो युग बताइए। 1
Name the two ages or eras of formation of coal.
4. भारत में सबसे बड़ी तेल परिष्करणशाला कौन-सी है? 1
Which is the largest oil refinery in India?
5. सीमेंट उद्योग के लिए कच्चा माल कौन-सा है? 1
Which mineral is used as raw material in cement industry?
6. भारत में खनिजों का संरक्षण क्यों आवश्यक है? खनिजों के संरक्षण के उपाय बताइए। 1
Why conservation of minerals is necessary? Give three reasons.
7. सौर ऊर्जा की विशेषताएँ बताइए। 3
What are the characteristics of solar energy?
8. परम्परागत तथा गैर-परम्परागत ऊर्जा स्रोत में अंतर स्पष्ट कीजिए। 3
Distinguish between conventional and non-conventional sources of energy.
9. भारत में पेट्रोलियम के किन्हीं तीन व्यावसायिक उत्पादन क्षेत्रों का वर्णन कीजिए। 3
Describe three commercial producing oil fields in India.
10. भारत के मानचित्र पर निम्नलिखित दर्शाइए- 3
क. हाल्दिया ख. झरीया ग. मयूरभंज
On the outline map of India mark the following :
(i) Haldia (ii) Jharua (iii) Mayurbhanj
11. भारत में खनिजों का वितरण मुख्यतः तीन पट्टियों में केन्द्रित है। प्रत्येक पट्टी के खनिजों के उदाहरण देते हुए इस कथन की पुष्टि कीजिए। 5
Describe the three broad belts of mineral concentration and distribution in India.

PRACTICE TEST-19

CLASS: XII

SUBJECT: GEOGRAPHY (PART-II)

MANUFACTURING INDUSTRIES (CHAPTER-8)

Time : 2 hrs.

M.M. 25

1. लौह इस्पात उद्योग की आदर्श स्थिति कच्चे माल के स्रोतों के निकट क्यों होती है? 1
Why the favourable location of Iron and Steel industry is near the source of raw material?
2. कोयला क्षेत्र से दूर स्थित लौह इस्पात संयंत्र का नाम लिखिए। 1
Write down the name of iron and steel plant, located far away from coal fields.
3. वैश्वीकरण से क्या अभिप्राय है? 1
What do you understand by Globalisation?
4. दो पेट्रो रसायन उद्योगों के नाम लिखिए। 1
Write the names of two petro chemical industry.
5. भारत में आधुनिक सूती मिल की स्थापना कहाँ और किस वर्ष में हुई? 1
Where and when, the first modern cotton mill was established?
6. भारत में सूती वस्त्र उद्योग के विकास के लिए उत्तरदायी कारकों का वर्णन कीजिए। 3
Elaborate the factors responsible for development of Cotton Textile Industry in India.
7. “चीनी उद्योग एक मौसमी उद्योग है”, उदाहरण सहित स्पष्ट कीजिए। 3
‘Sugar Industry is a seasonal industry’. Explain with examples.
8. भारत की नई औद्योगिक नीति (1991) के विभिन्न उद्देश्यों का वर्णन कीजिए। 3
Describe the different objectives of New Industrial Policy (1991) in India.
9. “हुगली आद्योगिक क्षेत्र” की मुख्य विशेषताओं का वर्णन कीजिए। 3
Elaborate the main characteristics of Hugli Industrial Area.
10. भारत के मानचित्र में निम्नलिखित को दर्शाइए : 3
क. जर्मनी की सहायता से स्थापित इस्पात संयंत्र
ख. हिमाचल प्रदेश का सॉफ्टवेयर टेक्नोलॉजी पार्क

ग. प्रथम पत्तन आधारित इस्पात संयंत्र

Locate the following in outline map of India.

- i. Steel plant established with collaboration of Germany
- ii. Software Technology Park of Himachal Pradesh
- iii. First Port Based Steel Plant

11. भारत में उद्योगों का विवरण प्रारूप असमान है। उदाहरण सहित विस्तार से वर्णन कीजिए। 5

There is a uneven distribution pattern of Industries in India. Elaborate in detail with suitable examples.

PRACTICE TEST-20
CLASS: XII
SUBJECT: GEOGRAPHY (PART-II)
GEOGRAPHY (CHAPTER-9)

Time : 2 hrs.

M.M. 25

1. नियोजन शब्द का अर्थ स्पष्ट कीजिए। 1
Define Planning.
2. नियोजन के दो प्रमुख उपागमन कौन-से हैं? नाम दीजिए। 1
What are the two approaches of planning? Name them.
3. सतत पोषणीय विकास का अर्थ स्पष्ट कीजिए। 1
Explain the meaning of sustainable development.
4. भरमौर क्षेत्र की अर्थव्यवस्था को प्रभावित करने वाले दो कारक बताइए। 1
State the two main factors that influenced the economy of Bharmaur Region.
5. 'गद्दी' जनजातीय समुदाय के आवास क्षेत्र का नाम बताइए। 1
Which area/state is inhabited by Gaddi Tribes.
6. "खण्डीय नियोजन" व प्रादेशिक नियोजन में अन्तर स्पष्ट कीजिए। 3
Differentiate between 'Sectoral Planning' and 'Regional Planning'.
7. जनजातीय समन्वित विकास योजना के लागू होने से हुए सामाजिक लाभों की तीन बिन्दुओं में विवेचना कीजिए। 3
Explain social advantages due to introduction of integrated development programme for tribes.
8. 'सूखा संभावी क्षेत्र विकास कार्यक्रम' के प्रमुख उद्देश्यों का संक्षेप में वर्णन कीजिए। 3
Explain the main objectives of 'Drought Prone Area Programme' in brief.
9. भारत में सूखा संभावी क्षेत्र के अन्तर्गत आने वाले प्रमुख क्षेत्र कौन-कौन से हैं? 3
Which are the main areas that come under drought prone areas in India?
10. इंदिरा गाँधी नहर कमान क्षेत्र के फसल प्रतिरूप पर क्या असर पड़ा? 3
What were the effects of Indira Gandhi canal command area on the crop pattern of the area?
11. 'इन्दिरा गाँधी नहर कमान क्षेत्र' में सतत् पोषणीय विकास को बढ़ावा देने वाले प्रस्तावित पाँच उपायों का वर्णन कीजिए। 5
Explain the five main measures taken for the promotion of Sustainable Development in the Indira Gandhi Canal Command Area.

PRACTICE TEST-21

CLASS: XII

SUBJECT: GEOGRAPHY (PART-II)

TRANSPORT AND COMMUNICATIONS (CHAPTER-10)

Time : 2 hrs.

M.M. 25

1. जी.टी. रोड के प्रमुख दो भागों के नाम बताइए। 1
Write two bifurcated segment of G.T. Road.
2. एम.एच.ए.आई. का पूरा नाम बताइए। 1
Write the full form of N.H.A.I.
3. स्वर्णिम चतुर्भुज परियोजना शुरू करने के क्या उद्देश्य थे? 1
What were the reasons for the constitution of the Golden Quadrilateral?
4. पहली रेललाइन किन दो स्टेशनों के बीच निर्मित की गई? 1
Between which two stations was the first railway line constructed in India?
5. भारत के प्राचीन तथा नवीन संचार के विभिन्न माध्यमों के नाम बताइए? 1
Write the name of new method of communication and earlier methods of communication.
6. बी.आर.ओ. (सीमा सड़क संगठन) का महत्व स्पष्ट करें। 3
Write the importance of BRO.
7. नगरीय केन्द्रों से दूर ग्रामीण सड़कों की गुणवत्ता क्यों घटती चली जाती है। विवेचना कीजिए। 3
Why does the quality of rural roads deteriorate away from the urban centres?
8. “भारतीय रेल ने विविध संस्कृति के लोगों को एक साथ लाकर भारत में स्वतंत्रता संग्राम में योगदान दिया है” स्पष्ट कीजिए। 3
“Indian Railways’ brought people of diverse cultures together to contribute to India’s freedom struggle”. Discuss it.
9. कोंकण रेलवे भारतीय रेलवे को महत्वपूर्ण उपब्धि कही जाती है। क्यों? कोई तीन तर्क दीजिए। 3
One of the important achievement of Indian Railway is construction of Konkan Railways. Explain.
10. वायु परिवहन के तीन लाभ बताइये। 3
Give any three advantages of air transport.
11. सड़कों का असमान वितरण किसी क्षेत्र के आर्थिक विकास को परिलक्षित करता है। उपयुक्त उदाहरण देते हुए चर्चा कीजिए। 5
Spatial unequal distribution of roads depicts the picture of economic development. Comment on it.

PRACTICE TEST-22

CLASS: XII

SUBJECT: GEOGRAPHY (PART-II)

INTERNATIONAL TRADE (CHAPTER-11)

Time : 2 hrs.

M.M. 25

1. अंतर्राष्ट्रीय व्यापार से क्या तात्पर्य है? 1
What is meant by international trade?
2. भारत का भू-आबद्ध पत्तन कौन-सा है? 1
Name the land locked harbour of India.
3. भारत किस व्यापार समूह का एक सहायक सदस्य है? 1
In which of the trade block is India an associate member?
4. परंपरागत वस्तुओं के व्यापार में गिरावट का मुख्य कारण क्या है? 1
What is the main cause of decline of the trade of conventional commodities?
5. महाराष्ट्र के उस पत्तन का नाम बताइए जिसे मुख्य पत्तन के भार को कम करने के लिए विकसित किया गया है। 1
Name the port of Maharashtra which has been constructed to reduce the pressure on the existing major port.
6. भारत में पत्तनों को व्यापार का प्रवेश द्वार क्यों कहा जाता है? 3
Why are ports called as gateways of trade in India?
7. भारत के असन्तुलित विदेशी व्यापार के क्या कारण हैं? 3
What are the causes of trade imbalance of India?
8. भारत एक कृषि प्रधान देश होने के बावजूद भी खाद्य तेल और दालों का आयात करता है। कारण बताइए। 3
Why does India import edible oil and pulses inspite of being an agriculturally rich country?
9. भारत के विदेशी व्यापार की विशेषताएँ बताइए। 3
Write the characteristic of foreign trade of India.
10. भारत के मानचित्र पर निम्नलिखित दर्शाइए - 3
क. मुख्य पत्तन

ख. मुख्य अंतर्राष्ट्रीय हवाई पतन

On the outline map of India mark the following:

i. Major ports

ii. Major international airports

11. भारत के आयात संघटन के बदलते प्रारूप का वर्णन कीजिए।

5

Describe the changing pattern of India's import.

PRACTICE TEST-23

CLASS: XII

SUBJECT: GEOGRAPHY (PART-II)

GEOGRAPHICAL PERSPECTIVE ON SELECTED ISSUES AND PROBLEMS
(CHAPTER-12)

Time : 2 hrs.

M.M. 25

1. गंगा नदी के तट पर बसे किन्हीं 2 नगरों के नाम लिखिये जो घरेलू कचरे से नदी को प्रदूषित करते हैं। 1

Name two main cities situated on the bank of River Ganga, pollute the river with their domestic waste?

2. जीवाश्म ईंधन के जलने से निकलने वाली प्रमुख गैसों कौन-सी हैं जो वायुमंडल को प्रदूषित करती हैं? 1

Name the two main gases, emitted by combustion of fossil fuel, into the atmosphere resulting in the pollution of air?

3. धूम्र कोहरा किसे कहते हैं? 1

What is smog?

4. अम्ल वर्षा को परिभाषित कीजिये। 1

Define Acid rain.

5. जल प्रदूषण से होने वाले किन्हीं दो रोगों के नाम लिखिये। 1

Write the name of any two diseases caused by water pollution.

6. भू-निम्नीकरण से क्या अभिप्राय है? इसके दो प्रमुख प्राकृतिक कारणों का उल्लेख करें। 3

What is Land degradation? Mention any two natural reasons for land degradation.

7. भारत के नगरीय क्षेत्रों में अपशिष्ट निपटान में होने वाली प्रमुख समस्याओं को स्पष्ट करें। 3

Mention the main problems related to the urban waste disposal in India.

8. उद्योग किस प्रकार धरातलीय जल को प्रदूषित करते हैं? किन्हीं दो उद्योगों के नाम लिखिये जो जल को सर्वाधिक प्रदूषित करते हैं? 3

How do industries pollute surface water? Write the name of any two industries which are the main polluters?

9. किन्हीं 3 मानवीय मूल्यों की चर्चा कीजिये जिन्हें अपनाकर शहरी गन्दी बस्तियों की पर्यावरणीय एवं सामाजिक समस्याओं से निपटा जा सकता है? 3

Discuss any three human values that may be helpful to face the environmental and social problems of slums in Urban India.

10. वायु प्रदूषण किस तरह मानव स्वास्थ्य के लिए खतरा है? तीन बिन्दुओं में स्पष्ट करो। 3

What are the effects of air pollution on human health? Describe in three points.

11. गाँवों से शहरों की ओर तेजी से होते प्रवास के कारण नगरों में गंदी बस्तियों (स्लम्स) एवं उनमें पर्यावरणीय समस्याओं की वृद्धि हुई। उपयुक्त उदाहरणों के साथ स्पष्ट करो। 5

Migration from rural areas to urban areas has increased the slums and their environmental problems in cities.