

# CHAPTER 1

## WHAT IS LONG, WHAT IS ROUND

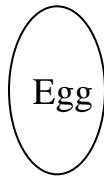
Ques.1 Draw any one round object:  
किसी एक गोल वस्तु का चित्र बनाईये ।

Ques.2 Draw any one long object:  
किसी एक लम्बी वस्तु का चित्र बनाईये ।

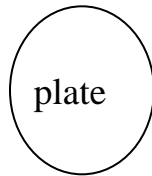
Ques.3 Tick the odd one out:  
निम्नलिखित में से अलग पर निशान लगाओ ।



a)



b)



c)



d)

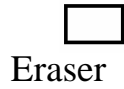
Ques.4 Name any three long objects?  
किन्हीं तीन लंबी वस्तुओं के नाम लिखो ।

\_\_\_\_\_

\_\_\_\_\_

\_\_\_\_\_

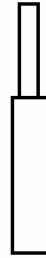
Ques.5 Circle the shortest object:  
इनमें से सबसे छोटी वस्तु क्या है ।



a)



b)



c)




d)

Ques.6 Choose the object that can roll and slide ?  
इनमें से किसे लुढ़काया भी जा सकता है और खिसकाया भी ।



a)



b)



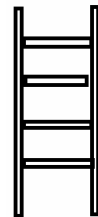
c)



d)

Ques.7 Colour the round object with green colour and long object with blue colour .

गोल वस्तु मे नीला रंग और लम्बी वस्तु मे हरा रंग भरिए ।



Ques.8 Name any three round objects.  
किन्हीं तीन गोल वस्तु के नाम लिखो ।

\_\_\_\_\_

\_\_\_\_\_

\_\_\_\_\_

Ques.9 Make a two rupee coin:  
दो रूपये का सिक्का बनाइये ।

Ques.10 Fill in the blanks:  
प्र० रिक्त स्थान भरो :

Objects which can roll चीजे जो लुढ़क सकती है ।	Objects which can slide चीजे जो खिसकाई जा सकती है ।


## ANSWERS(उत्तर सूची)

- Ans.1 Do yourself.  
छात्र स्वयं करे।
- Ans.2 Do yourself.  
छात्र स्वयं करेंगे।
- Ans.3 d)
- Ans.4 Bat, bottle, pencil etc.  
बल्ला, बोतल, पेन
- Ans.5 a)
- Ans.6 a)
- Ans.7 Do yourself.  
छात्र स्वयं करेंगे
- Ans.8 Ball, coin, cattie cap  
गेंद, सिक्का, चूड़ी
- Ans.9 Do yourself.  
छात्र स्वयं करेंगे।
- Ans.10 coin सिक्का straw डिब्बा  
Button बटन pencil पेंसिल

## CHAPTER 2 COUNTING IN GROUP

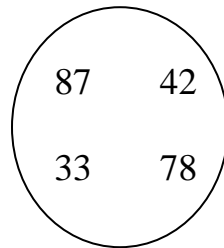
Ques.1 Count the leaves of given plant.

दिए गए पौधे की पत्तियों को गिनो ।



Ques.2 Arrange the following number in ascending order.

नीचे दिए गई संख्याओं को बढ़ते हुए क्रम में लिखो ।



\_\_\_\_\_

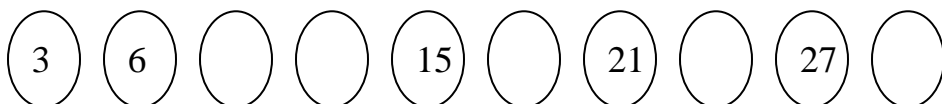
Ques.3 Complete the series

दिए गए क्रम को पूरा करो ।

101, 105, 110, 115, \_\_\_\_\_, \_\_\_\_\_.

Ques.4 Count by 3's and complete the pattern .

3 से गिनते हुए, नीचे दिए क्रम को पूरा करो ।



Ques.5 Double of 6 is.

६ का दुगुना है ।

i) 14

ii) 13

iii) 12

Ques.6 Write expanded form of

प्र० विस्तारित रूप में लिखो ।

$5065 = \underline{\hspace{1cm}} + \underline{\hspace{1cm}} + \underline{\hspace{1cm}}.$

Ques.7 20 flowers are required to make a garland. How many flowers are required for making 10 garlands?

एक माला को बनाने के लिए २० फूलों की आवश्यकता होती है । १० माला बनाने के लिए कितने फूलों की आवश्यकता होगी ?

Ques.8 The numeral for two thousand three is

दो हजार तीन की अंक संख्या है ।

1) 2030    2) 2003    3) 2013

Ques.9 How many legs are there in 2 cows?

२ गायों के पैरों की संख्या कितनी होगी ?

Ques.10 Group the numbers correctly

दी गई संख्याओ को सही समूह मे लिखो ।

18, 15, 77, 21  
19, 25, 22  
78, 15, 11, 80, 82, 68

Even

Odd

Ques.11 Meena has 32 books and 44 colours. How many things does she have in all?

प्र० मीना के पास ३२ पुस्तकें और ४४ रंग है बताओ, मीना के पास कुल कितनी चीजें है ।

Ques.12 What comes between

बीच मे क्या आएगा ।

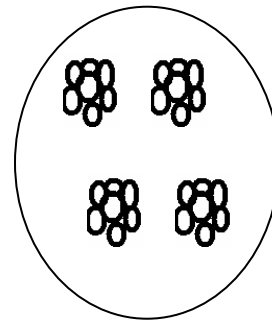
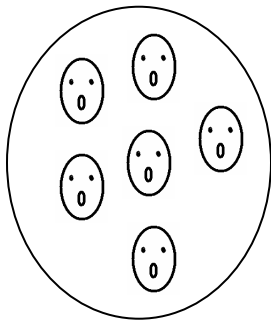

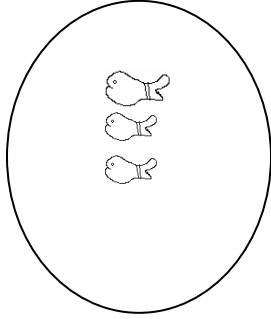
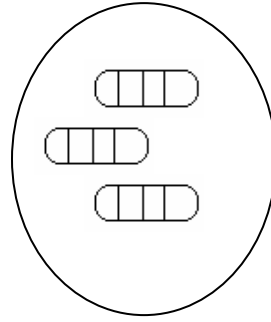

18 \_\_\_\_\_ 20

Ques.13  $100 - 80 =$

$१०० - ८० =$

Ques.14 Draw lines to match the correct group.

प्र० सही समूहों को लाइने खींचते हुए मिलान कीजिए ।



Ques.15 Answer the following.

निम्न के उत्तर दीजिए।

1)  $9 + 9 + 9 + 9 =$   
 $९ + ९ + ९ + ९ =$

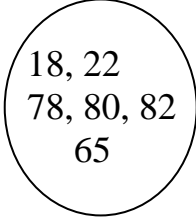
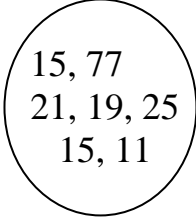
2)  $6 + 6 + 6 =$   
 $६ + ६ + ६ =$

3)  $7 + 7 =$   
 $७ + ७ =$



## ANSWERS

(उत्तर माला)

- Ans.1 14  
१४
- Ans.2 33, 42, 78, 87  
३३, ४२, ७८, ८७
- Ans.3 120, 125  
१२०, १२५
- Ans.4 9, 12, 18, 24, 30  
९, १२, १८, २४, ३०
- Ans.5 iii) 12  
iii) १२
- Ans.6  $5000 + 60 + 5$   
 $५००० + ६० + ५$
- Ans.7 200 flowers  
२०० (फूल)
- Ans.8 2) 2003  
२) २००३
- Ans.9 8 legs  
८ (पैर)
- Ans.10 Even (सम) Odd (विषम)
- |   |   |
|---|---|
|  |  |
|---|---|
- Ans.11 76  
७६
- Ans.12 19  
१९
- Ans.13 20  
२०

Ans.14    A    C

          B    A

          C    B

Ans.15

i)    36

      ३६

ii)    18

      १८

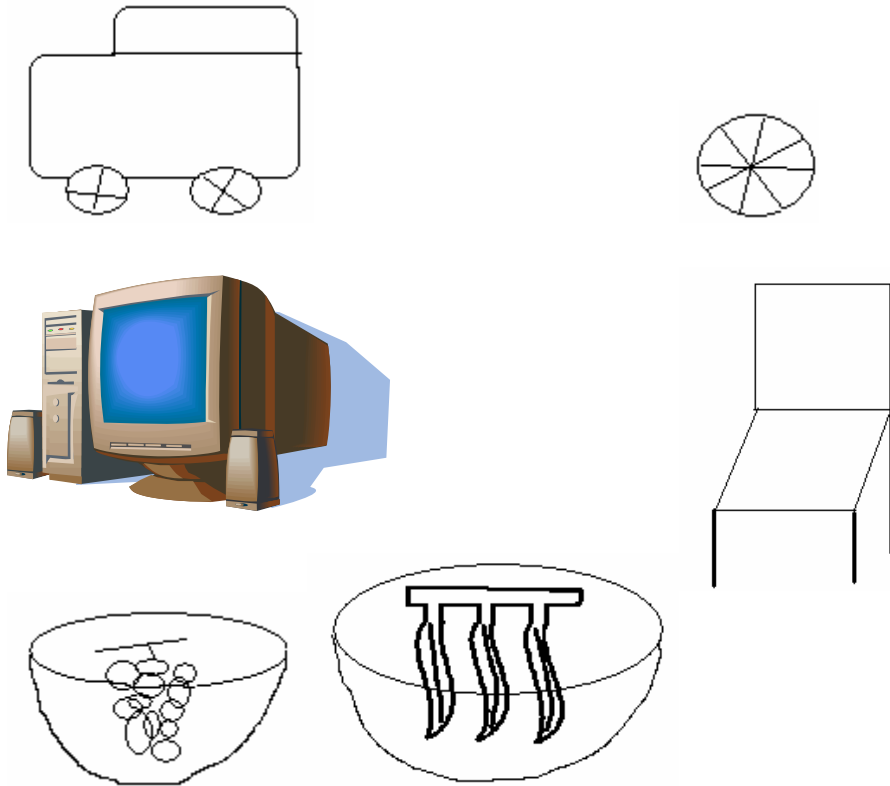
iii)    14

      १४

## CHAPTER 3 HOW MUCH CAN YOU CARRY


Ques.1 Tell which one is heavier.

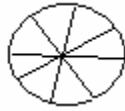
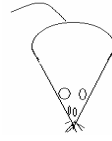
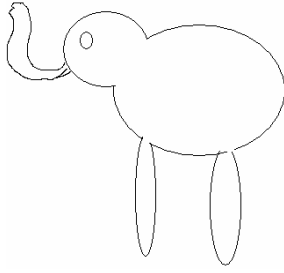
इन आकृतियों के मध्य मे से भारी वस्तु को पहचान कर नाम लिखिए ।



Ques.2 Colour the side which has more weight?

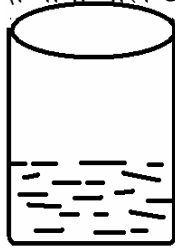
वजन में भारी साइज मे रंग भरओ ।



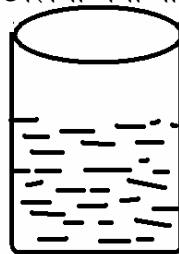


Ques.3 Draw fishes in the tank having more water?

ज्यादा पानी वाले टैंक में मछलियाँ बनाओ।



A



B

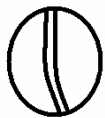
Ques.4 Raja is 29 years old and Ramu is six years younger. Tell the Ramu's actual age?

राजा की उम्र २९ वर्ष है और रामू की उससे ६ वर्ष छोटा है। रामू की उम्र बताओ ?

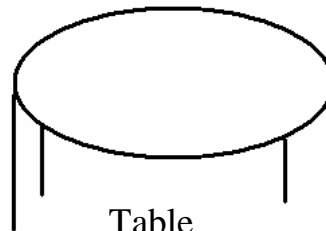
Ques.5 Recognize the lighter figure and fill the colour?

हल्की वस्तु को पहचान कर रंग कीजिए।

1



Ball



Table

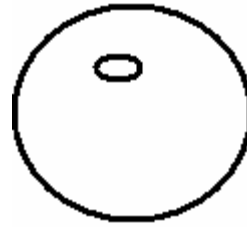

2



Cup

Bucket

3



Jug

Tomato

4



Butterfly

Tree

Ques.6 Arrange the following figures from smaller to bigger size?


इन आकृतियों में से छोटे से बड़े बढ़ते क्रम में लगाइये।



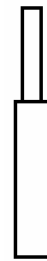
a)



b)



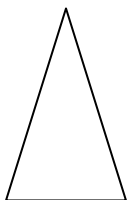
c)



d)

Ques.7 Arrange the following figure from bigger to smaller size?

इन आकृतियों को बड़े से छोटे (घटते क्रम) क्रम में लगाइये।



a)

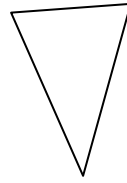

b)

a)

d)

Ques.8 Fill the colour in smallest figure?

इन आकृतियों में से सबसे छोटी आकृति में रंग भरिए?



## ANSWERS

Ans.1

- a) Car कार
- b) Chair कुर्सी
- c) Bananas केले

Ans.2

- A) B
- B) A
- C) A

Ans.3 B

Ans.4 23

Ans.5

- a) Ball गेंद
- b) Cup कप
- c) Tomato टमाटर
- d) Tree पेड

Ans.6 a, d, b, c

Ans.7 d, a, b, c

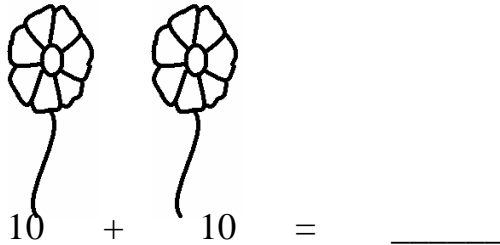
Ans.8



## CHAPTER 4 COUNTING IN TENS

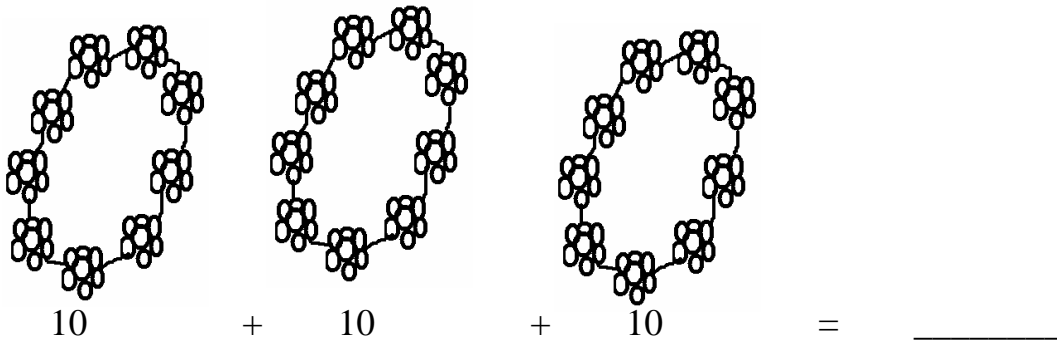
Ques.1 How many in petals of the flowers:

फूलों में कितनी पंखुडियाँ दहाई अंक में है:-



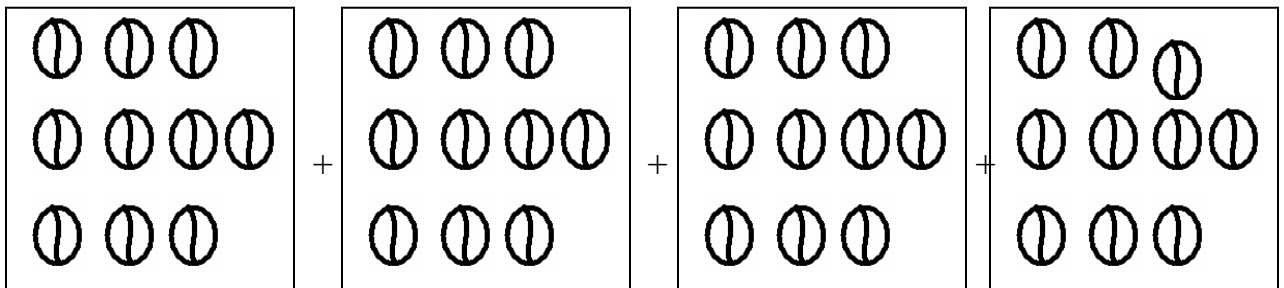
Ques.2 How many pearls in tens in the garland?

माला में कितने मोती दहाई अंक में है ।



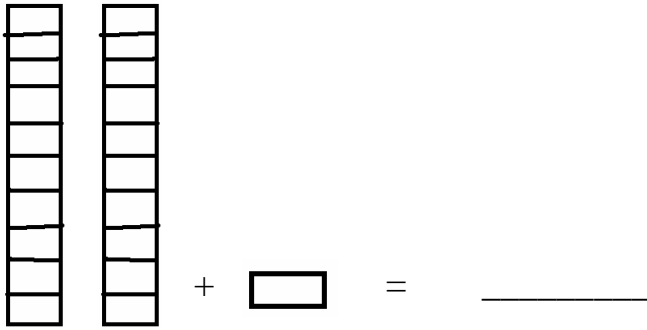
Ques.3 How many balls in the box?

बॉक्स में कितने दहाई गेंदे हैं ।



Ques.4

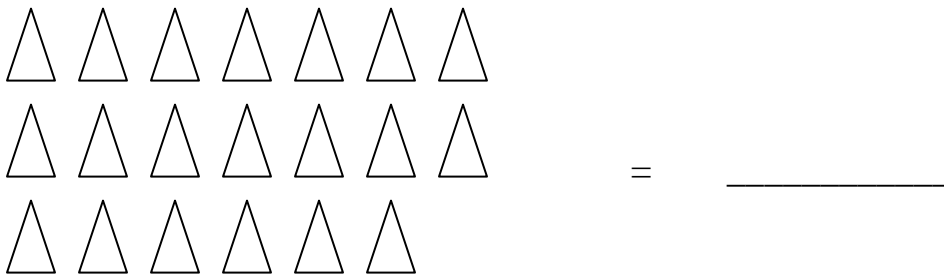




2 tens + 1 ones = \_\_\_\_\_  
 दहाई      इकाई

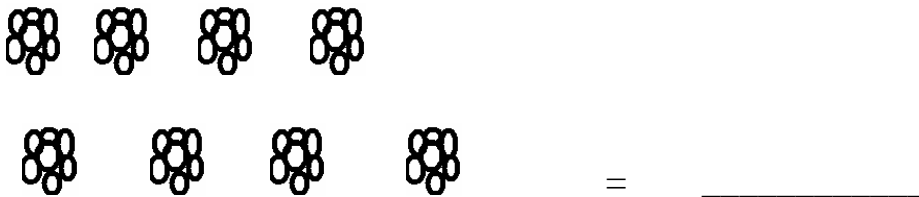
Ques.5 How many tens are count it in the figure.

कितने दहाई है? गिनो।



Ques.6 How many flowers are count it in tens.

फूल कितने है, दहाई मे गिनो।

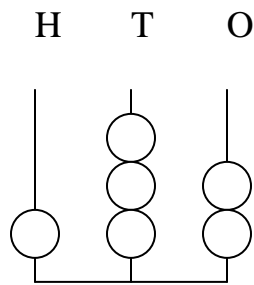


Ques.7

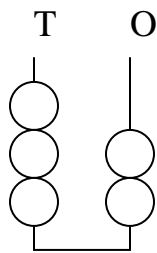


2 tens + 2 tens

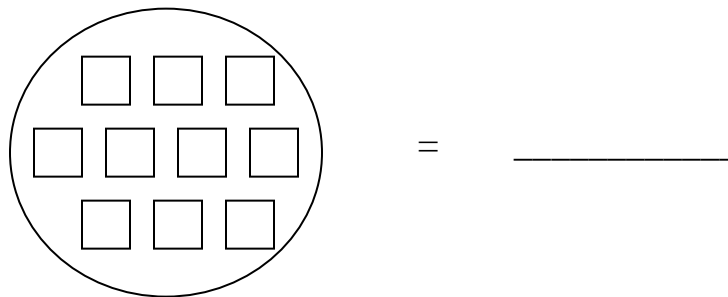
Ques.8



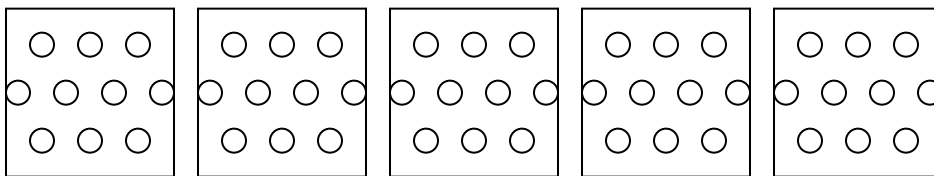
Ques.9



Ques.10 How many 10 boxes in the circle.  
गोले में कितने १० बाक्स है?



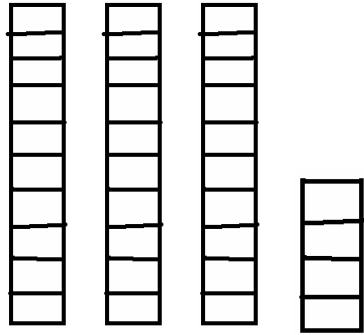
Ques.11 How many 10 circle in the box.  
दहाई अंको में गिनो।



10 + 10 + 10 + 10 + 10 = \_\_\_\_\_

Ques.12 Count it in tens.


दहाई मे गिनो।



$$10 + 10 + 10 + 5 = \underline{\hspace{2cm}}$$


Ques.13 Count it tens.

दहाई मे गिनो।



Ques.14 How many leaves count it in tens.

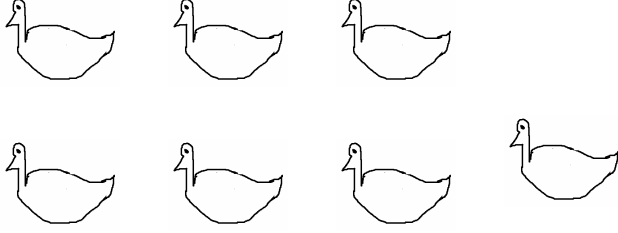
पत्तियाँ कितनी है दहाई मे गिनो?



$$= \underline{\hspace{2cm}}$$

Ques.15 How many ducks count it tens.

कितने बत्तख है दहाई में गिनो?



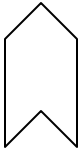







## **ANSWERKEY**





1. 20
2. 30
3. 40
4. 21
5. 20
6. 10
7. 40
8. 132
9. 32
10. 10
11. 50
12. 35
13. 70
14. 20
15. 10

## CHAPTER 5


Ques.1 Match the following-  
निम्न का मिलान करो

1.		a	
2.		b	
4.		c	
4.		d	


Ques.2 Complete it – match the following.  
निम्न का मिलान करो

			
A	B	C	

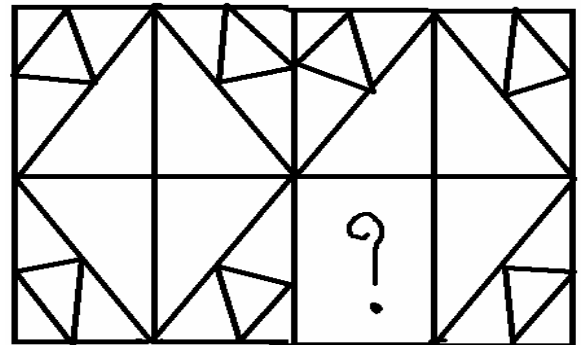
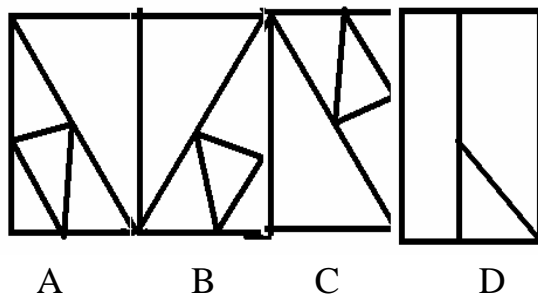
Ques.3 Match the following.  
निम्न का मिलान करो



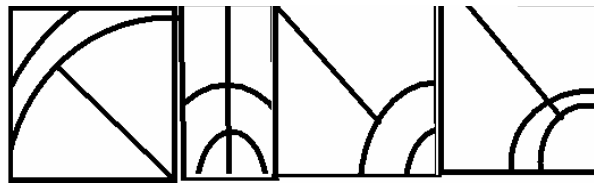
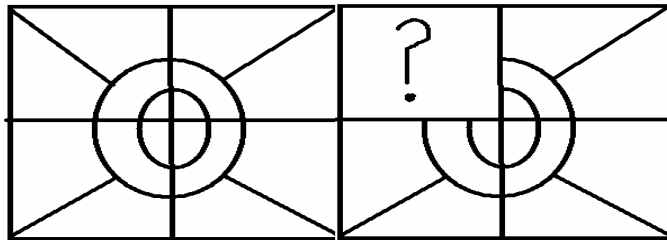
Ques.4 Match the following.  
निम्न का मिलान करो



Ques.5 Complete the pattern-  
पैटर्न को पूरा करो।

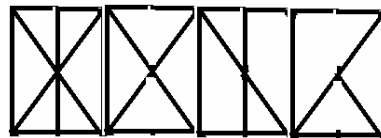
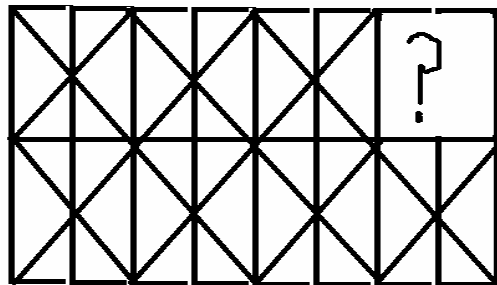


Ques.6 Complete the pattern-  
 पैटर्न को पूरा करो।




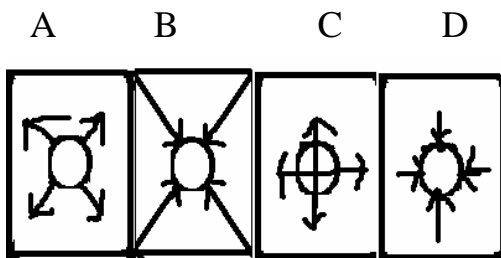
A B C D

Ques.7 Complete the pattern-  
 पैटर्न को पूरा करो।



A B C D

Ques.8 Complete the pattern-  
 पैटर्न को पूरा करो।





9	HOT	COLD	HOT		
10	3	6	9		
11	4	8	12		
12	5	10	15		
13	10	20	30		
14	5	10	20		
15	100	98	96		
16	AZ	BY	CX		
17	90	86	82		
18	50	100	15		

## ANSWERS

Ans.1

1. b
2. a
3. d
4. c

Ans.2

- i) A
- ii) B
- iii) C

Ans.3

- i) B
- ii) A
- iii) C

Ans.4

- i) B
- ii) A
- iii) C

Ans.5 A

Ans.6 C

Ans.7 A

Ans.8 B

Ans.9 Cold, hot

Ans.10 12, 15  
12, 15

Ans.11 16, 20  
16, 20

Ans.12 20, 25  
20, 25

Ans.13 40, 50  
40, 50

Ans.14 40, 80  
40, 80

Ans.15 94, 92, 90  
94, 92, 90

Ans.16 DW, EV

Ans.17 78, 76  
78, 76

Ans.18 200, 250  
200, 250

## CHAPTER 6 FOOTPRINTS

Ques.1 A rectangle is formed by using \_\_\_\_\_ lines.  
एक आयत \_\_\_\_\_ रेखाओं से बनता है।


Ques.2 A square is formed by using \_\_\_\_\_ lines.  
एक आयत \_\_\_\_\_ रेखाओं से बनता है।

Ques.3 In a circle there are \_\_\_\_\_ corner.  
एक वृत्त में \_\_\_\_\_ कोने होते हैं।

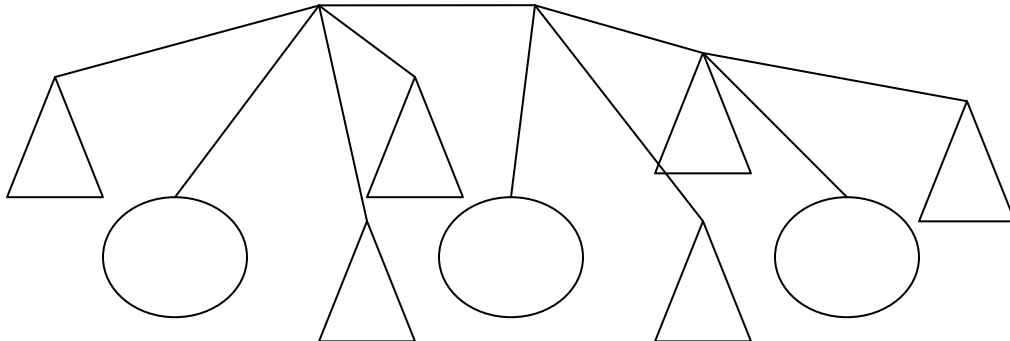
Ques.4 In a rectangle \_\_\_\_\_ sides are equal.  
एक वृत्त में \_\_\_\_\_ कोने होते हैं।

Ques.5 In a square, all sides are \_\_\_\_\_.  
एक वर्ग की \_\_\_\_\_ भुजाएँ बराबर होती हैं।

Ques.6 Draw square and rectangle using dots.  
बिन्दुओं को इस्तमाल करके वर्ग और आयत बनाओ।



Ques.7 Count the number of circle in the given pattern.  
दिये गए पैटर्न में वृत्तों की संख्या गिनो।

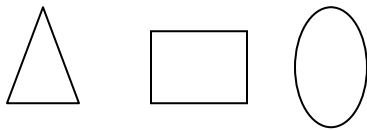


Ques.8 Which shape is formed by using three matchsticks?  
तीन माचिस की तीलियों से कौन सी आकृति बनती है?

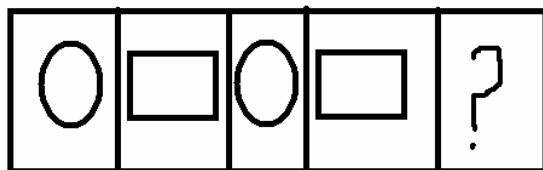
Ques.9 How many shapes are used in the given figure.  
दिखाए गए चित्र में कितनी आकृतियाँ इस्तमाल हुई है?



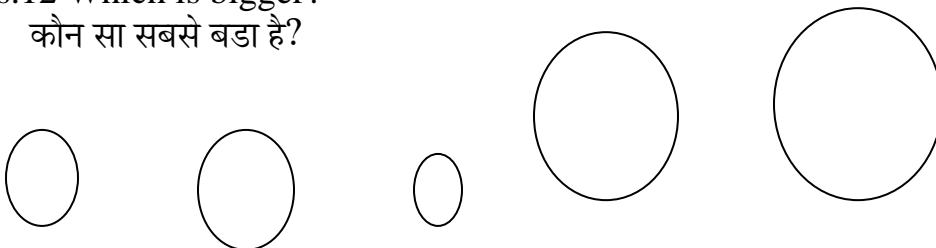
Ques.10 Which figure has 4 edges?  
कौन सी आकृति की चार भुजाएँ हैं?



Ques.11 Look at the pattern and complete the boxes.  
पैटर्न को पूरा करो।



Ques.12 Which is bigger?  
कौन सा सबसे बड़ा है?



A

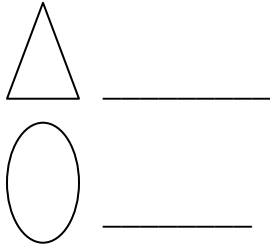

B

C

D

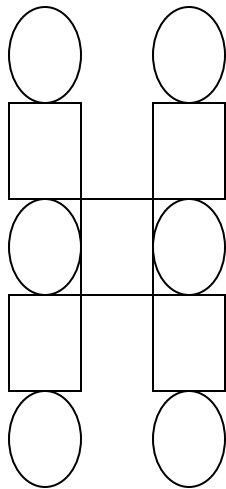
E

Ques.13 Count and write?  
गिनो और लिखो।



Ques.14 How many lines a circle have?  
एक वृत्त की कितनी रेखाएँ होती है?

Ques.15 Colour the squares in the figure?  
चित्र में वर्ग में रंग भरो:-



## ANSWERS

Ans.1 4

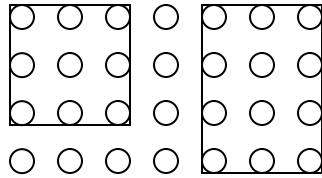
Ans.2 Four

Ans.3 No or zero

Ans.4 Opposite sides

Ans.5 Equal

Ans.6



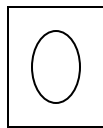
Ans.7 Four circles

Ans.8 Triangle

Ans.9 Two

Ans.10 B

Ans.11




Ans.12 E

Ans.13 Four triangles

Three circles

Ans.14 Zero

Ans.15




## CHAPTER 7

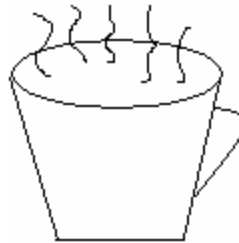
### MUGS & JUGS

Ques.1 if cost of one small glass of orange juice is Rs 8. What is the cost of 5 small glasses of orange juice?

एक छोटे गिलास सन्तरे के रस का मूल्य ८ रुपये है, सन्तरें के रस के ५ छोटे गिलासों का मूल्य क्या होगा?

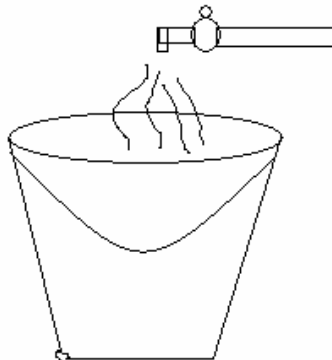


Ques.2 A family has 5 members. Each member drinks 3 cups of tea everyday. How many cups of tea are drinks everyday that family.  
किसी परिवार मे ५ सदस्य हैं प्रत्येक व्यक्ति दिन में ३ कप चाय पीता है उस परिवार के सदस्यों द्वारा प्रतिदिन कितनी चाय पी जाती है?



Ques.3 A tap fills one bucket in 5 min. How much time is required to fill 7 buckets?

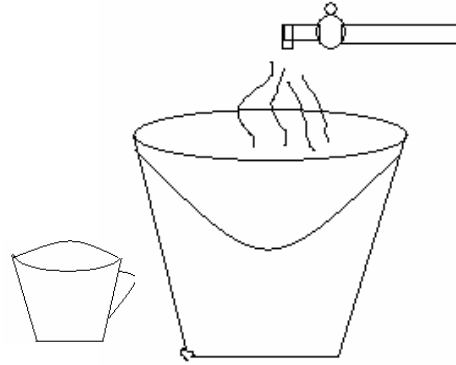
एक नल ५ मिनट मे एक बाल्टी भरता है उसे ७ बाल्टी भरने के लिए कितना समय चाहिए?





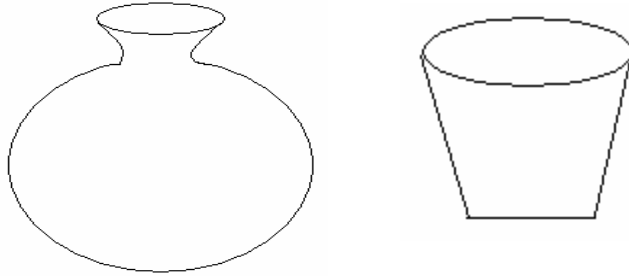
Ques.4 Ramesh take bath twice a day he uses one bucket for each bath. If 10 mugs fill a bucket. How many mug of water he uses for bath every day?

रमेश दिन मे दो बार नहाता है एक बार नहाने मे वह एक बाल्टी इस्तमाल करता है यदि १० मग एक बाल्टी को भरें तो वह प्रतिदिन कितने मग नहाने में इस्तमाल करता है?



Ques.5 20 glasses fill a pitcher. How many glasses fill 3 pitchers?

किसी मटके को भरने में २० गिलास लगते हैं इस तरह के ३ मटके भरने मे कितने गिलास पानी चाहिए?



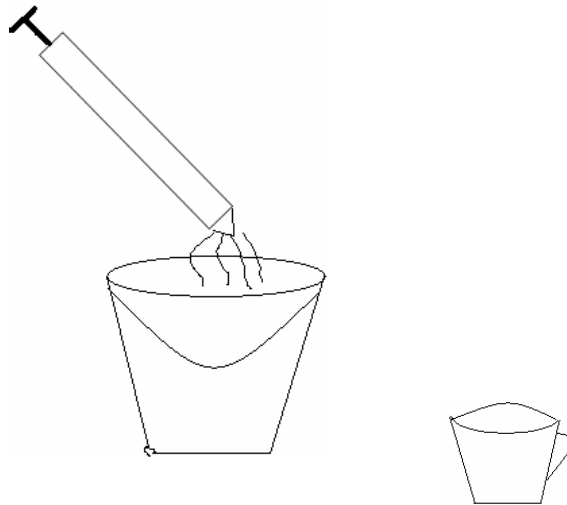
Ques.6 A pot contains 20 spoons of sugar. 2 spoons of sugar is used to prepare a glass of lemon drink. How many glasses of lemon drink can be prepared with the pot of sugar?

एक पात्र मे २० चम्मच चीनी आती है यदि एक गिलास नीबू पानी बनाने के लिए २ चम्मच चीनी चाहिए हो तो उस पात्र की चीनी से कितने गिलास नीबू पानी बनेगा?



Ques.7 15 mug of water can fill a bucket 5 pichkaries (water gun) can be filled by one bucket. How many mugs of water is required for 1 pichkari?

एक बाल्टी को भरने में १५ मग पानी चाहिए। एक बाल्टी में से ५ पिचकारियाँ भरी जा सकती हैं। एक पिचकारी को भरने के लिए कितने मग पानी चाहिए?




Ques.8 One jug of water fills 3 water bottle fills 4 glasses. How many glass of water contain by a jug?

एक जग ३ पानी की बोतलों को भर सकता है एक पानी की बोतल से ४ गिलास भरे जा सकते हैं कितने गिलास पानी एक जग में हो सकता है?

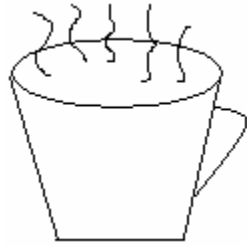


Ques.9 A can contain 15 liters of milk. If 7 liters poured in jug. How much milk is remains in the can?

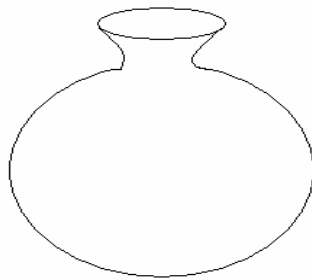
एक दूध के डब्बे में १५ लीटर दूध है इसमें से ७ लीटर दूध एक जग में डाल दिया तो अब डब्बे में कितना दूध बचा?



Ques.10 Cost of one cup of tea is Rs. 5. What the cost of 9 cups of tea?  
 यदि एक कप का मूल्य ५ रुपये है तो ९ कप चाय का मूल्य क्या होगा?

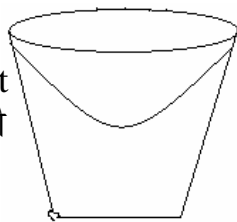


Ques.11 3 pots of water in used by a housewife everyday in her kitchen.  
 How many pots are used in a week?  
 एक गृहणी प्रतिदिन रसोई मे ३ मटके पानी इस्तेमाल करती है वह सप्ताह मे कितने मटके इस्तेमाल करेगी?



Ques.12

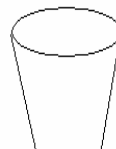

1. 1 bucket  
 एक बाल्टी = 18 mugs  
 १८ मग



2. 3 bucket  
 तीन बाल्टी = mugs  
 = मग

Ques.13

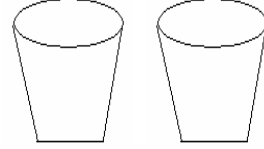
1. 1 jug  
 एक जग = 4 glasses  
 = ४ गिलास



2. 3 jug = glasses  
३ जग = गिलास

Ques.14

1. 1 boy = 2 glasses  
एक लडका = २ गिलास



2. 3 boys \_\_\_ glasses  
दो लडके \_\_\_ गिलास

Ques.15

1. 1 jug 5 glasses  
एक जग ५ गिलास



2. 5 jugs \_\_\_ glasses  
पाँच जग \_\_\_ गिलास

## ANSWERS

Ans.1      Rs. 40

Ans.2      15 Cups

Ans.3      35 Minutes

Ans.4      20 Mugs

Ans.5      60 Glasses

Ans.6      10 Glasses

Ans.7      3 Mugs

Ans.8      12 Glasses

Ans.9      8 Liters

Ans.10     Rs. 45

Ans.11     21 Pots

Ans.12     54 Mugs

Ans.13     12 Glasses

Ans.14     6 Glasses

Ans.15     25 Glasses

## CHAPTER 8 FUN WITH TENS

Ques.1 Find the value:  
कुल मूल्य बताओ।

i) 

10 Rs
-------

10 Rs.
--------

10 Rs.
--------

    =    

--

 Rupees

ii) 

5 Rs
------

5 Rs
------

2 Rs
------

    =    

--

 Rupees

iii) 

2 Rs
------

10 Rs.
--------

2 Rs.
-------

    =    

--

 Rupees

Ques.2 Divide the number into two parts:-  
संख्या को दो हिस्सों में बाँटो:-

i) 

95
----

    =    

90
----

    +    

5
---

ii) 

29
----

    =    

--

    +    

--

iii) 

35
----

    =    

--

    +    

--

iv) 

41
----

    =    

--

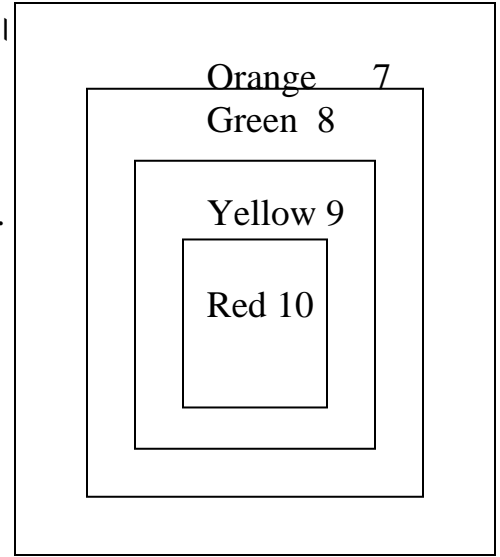
    +    

--

Ques.3 Hit the target. Get the points.

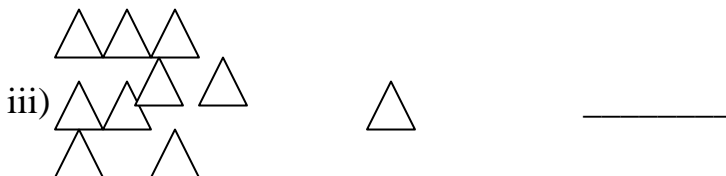
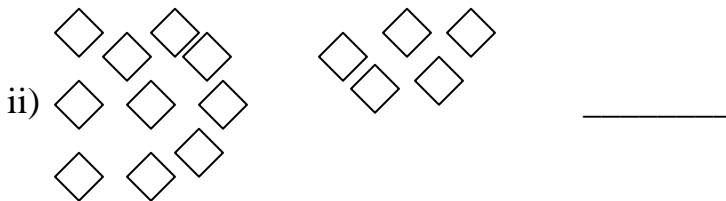

दिये गये टारगेट पर निशाना लगाओ। और अंक बताओ।

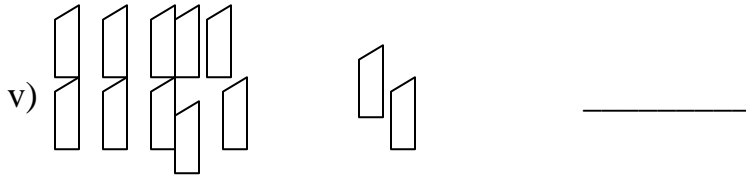
- i) Red + Yellow = \_\_\_\_\_ Points.  
लाल + पीला = \_\_\_\_\_ अंक।
- ii) Green + Orange = \_\_\_\_\_ points.  
हरा + संतरी = \_\_\_\_\_ अंक।
- iii) Orange + Red = \_\_\_\_\_ Points.  
संतरी + लाल = \_\_\_\_\_ अंक।
- iv) Yellow + Green = \_\_\_\_\_ Points.  
पीला + हरा = \_\_\_\_\_ अंक।
- v) Yellow + Orange = \_\_\_\_\_ Points.  
पीला + संतरी = \_\_\_\_\_ अंक।
- vi) Green + Red = \_\_\_\_\_ Points.  
हरा + लाल = \_\_\_\_\_ अंक।



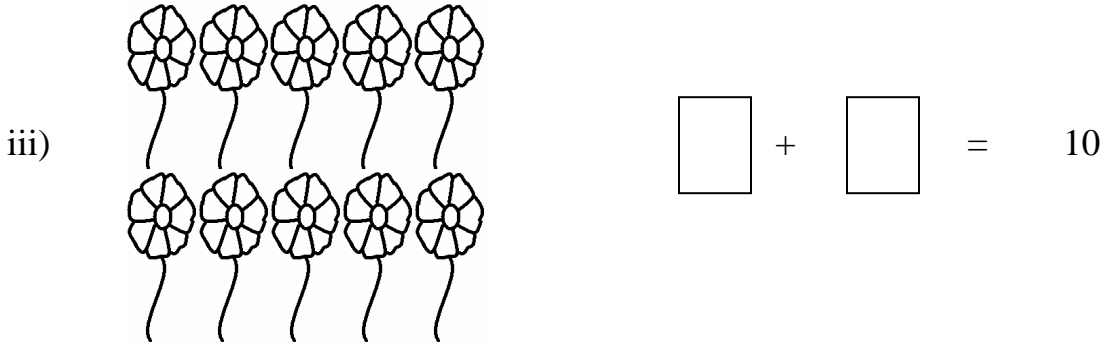


Ques.4 Pack sweets in box, Which contains 10 pieces. Tell ! How much left?

आओ मिठाई पैक करें, मिठाई के दस दस टुकड़ों को एक डिब्बे में पैक करो बताओ कितने टुकड़े बाकी बचे।





Ques.5 Divide into two equal parts.  
बराबर दो हिस्सों में बाँटो।



Ques.6 Score runs by hitting boundary or sixer.  
आओ रन बनाये, चौका लगाये छक्के लगाये।



$$2 \text{ four} = 4 + 4 = 8 \text{ runs}$$

$$२ \text{ चौके} = ४ + ४ = ८ \text{ रन}$$

a) 1 four and 1 sixer =  $\_\_ + \_\_ = \_\_ \text{ runs}$

$$१ \text{ चौका } १ \text{ छक्का} = \_\_ + \_\_ \text{ रन।}$$

b) 2 sixer =  $\_\_ + \_\_ = \_\_ \text{ runs}$

$$२ \text{ छक्के} = \_\_ + \_\_ \text{ रन।}$$

c) 2 fours and 3 runs =  $\_\_ + \_\_ = \_\_ \text{ runs}$

$$\text{दो चौके } ३ \text{ रन} = \_\_ + \_\_ \text{ रन।}$$

d) 1 sixer and 5 runs =  $\_\_ + \_\_ = \_\_ \text{ runs}$

$$१ \text{ छक्का } ५ \text{ रन} = \_\_ + \_\_ \text{ रन।}$$

e) 1 sixer and 2 fours =  $\_\_ + \_\_ = \_\_ \text{ runs}$

$$१ \text{ छक्का } २ \text{ चौके} = \_\_ + \_\_ \text{ रन।}$$

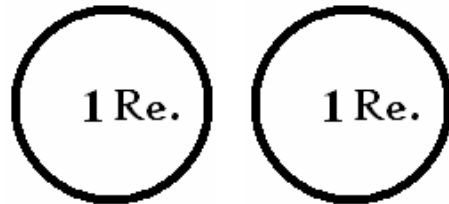
TEAM INDIA

Ques.7 Let us see, Who got how many silver coins?

देखें किसके पास कितने चाँदी के सिक्के?



=



Coins

A



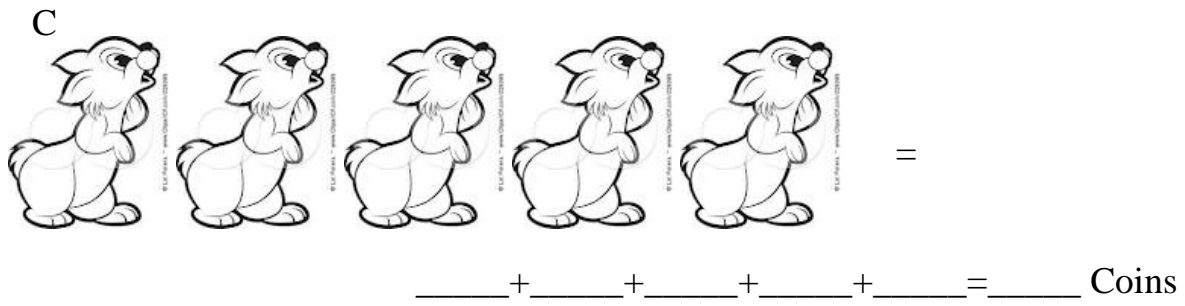
$$= \_\_ + \_\_ = \_\_ \text{ Coins}$$

B

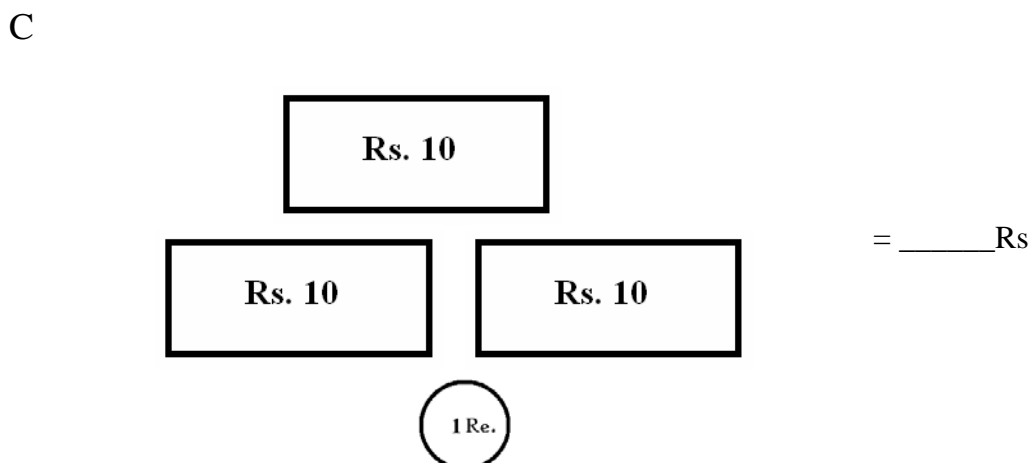
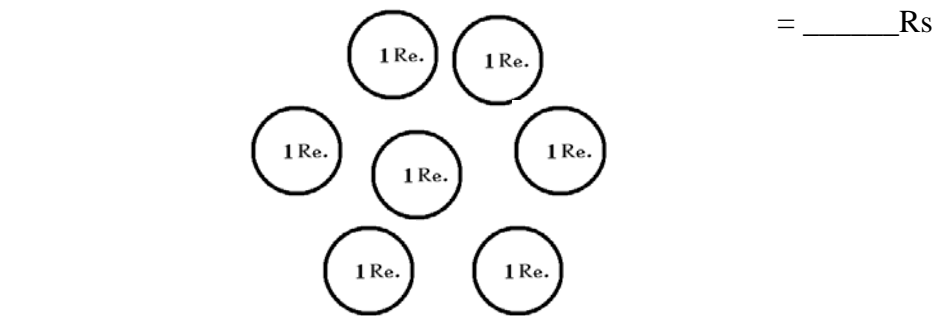
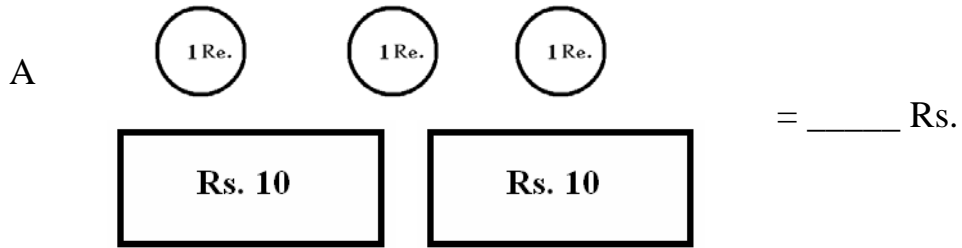


$$= \_\_ + \_\_ + \_\_$$

$$= \_\_ \text{ Coins}$$



Ques.8 Count total money in rupees.  
इन नोट और सिक्कों का कुल मूल्य बताओ:-



Ques.9 There are 48 student in the second class. Teacher made a team of ten students. Now fill up a team given below:-

कक्षा दो में कुल ४८ बच्चे हैं। दस दस बच्चों की एक टीम बनानी है तो कुल कितनी टीम बनेगी और कितने बच्चों को टीम में स्थान मिल पाएगा?  
इसी प्रकार अब कक्षा ३, ४ और ५,६ की तालिका पूरी करो।

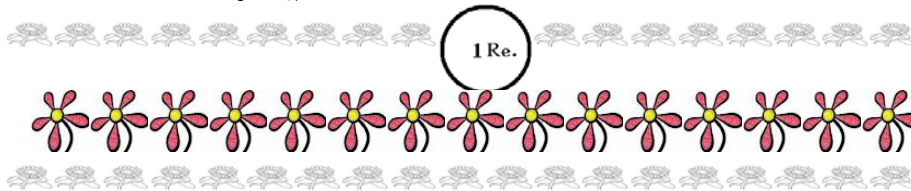
s. no कक्षा	Class कक्षा	Total student कुल छात्र	No. of teams टीमों की संख्या	Student left बाकी बचे छात्रों की संख्या
1.	3	32	_____	_____
2.	4	56	_____	_____
3.	5	25	_____	_____
4.	6	49	_____	_____

Ques.10 Throw the coin, play the game.

You can play this game with your four friends. Throw the coin on flower bed and them count the marks by counting flowers hidden under the coin. Who won the match?

पासा फेकों तमाशा देखो। अपने चार साथियों के साथ मिलकर एक सिक्के की सहायता से यहाँ बनी फूलों की क्यारी पर सिक्का फेंककर यह खेल खेलो व तालिका भरो व जानो कौन जीता?

[सिक्के के नीचे छुपे फूलों की गिनती करो व अपने खाने में लिखो]



Term टीम	Kasturi कस्तूरी	Raman रमन	I (write name) मैं (अपना नाम लिखो)	Aastha आस्था	Total who won कुल कितने कौन जीता?
I					
II					
III					
IV					
V					
VI					

Ques.11 Make tokens to show the value.

निम्नलिखित संख्याओं को दिखाने के लिए टोकन बनाओ।

i)  $25 = 1$  10 1 1 1 10 1

ii)  $37 =$

iii)  $80 =$

iv)  $66 =$

## ANSWERS

Ans.1

- i) 30  
३०
- ii) 12  
१२
- iii) 32  
३२

Ans.2

- i)  $29 = 20 + 9$   
 $२९ = २० + ९$
- ii)  $30 + 5$   
 $३० + ५$
- iii)  $40 + 1$   
 $४० + १$

Ans.3

- i) 18  
१८
- ii) 16  
१६
- iii) 17  
१७
- iv) 19  
१९
- v) 15  
१५

Ans.4

- i) 3  
३
- ii) 5  
५
- iii) 1  
१
- iv) 2  
२

Ans.5

- i)  $4 + 4$

- $४ + ४$   
 ii)  $3 + 3$   
 $३ + ३$   
 iii)  $5 + 5$   
 $५ + ५$

Ans.6

- i)  $4 + 6 = 10$   
 $४ + ६ = १०$   
 ii)  $4 + 4 + 3 = 11$   
 $४ + ४ + ३ = ११$   
 iii)  $6 + 5 = 11$   
 $६ + ५ = ११$   
 iv)  $6 + 4 + 4 = 14$   
 $६ + ४ + ४ = १४$

Ans.7

- i)  $2 + 2 = 4$   
 $२ + २ = ४$   
 ii)  $2 + 2 + 2 = 6$   
 $२ + २ + २ = ६$   
 iii)  $2 + 2 + 2 + 2 + 2 = 10$   
 $२ + २ + २ + २ + २ = १०$

Ans.8

- i) 14  
 $१४$   
 ii) 7  
 $७$   
 iii) 51  
 $५१$

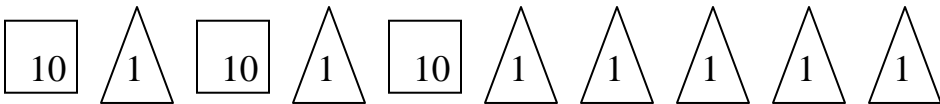
Ans.9

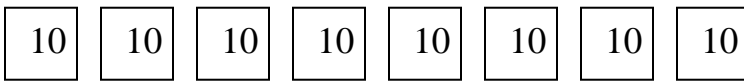
	No. of teams	remaining student
i)	3 $३$	2 $२$
ii)	5 $५$	6 $६$
iii)	2 $२$	5 $५$
iv)	4 $४$	9 $९$

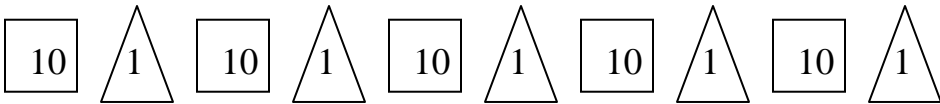
Ans.10 Winner will be declared according to the score gained by every member. (Children can enjoy by playing their self)  
छात्रों द्वारा प्राप्त अंकों के आधार पर जीतने वाले खिलाड़ी का नाम घोषित किया जाएगा।  
(बच्चे स्वयं अपने साथियों के साथ यह खेल, खेलकर आनंद ले सकते हैं।)

Ans.11

i) 

ii) 

iii) 

iv) 

## CHAPTER 9

### MY FUNDAY

Ques.1

- a) First month of the year \_\_\_\_\_.  
साल का पहला महीना कौन सा है?
- b) Month comes after august \_\_\_\_\_.  
अगस्त के बाद कौन सा महीना आता है?
- c) Last month of the year \_\_\_\_\_.  
साल का आखिरी महीना कौन सा है \_\_\_\_\_

Ques.2 If your birthday is on Friday then tell which day was it day after tomorrow?

अगर तुम्हारा जन्मदिन शुक्रवार को आता है तो परसो कौन सा दिन आयेगा?

Ques.3 If angel celebrate Christmas on Thursday then on what day she will celebrate new year?

ऐंजल बडा दिन (२५ दिसंबर) गुरुवार को मनाती है तो बताओ नया साल वो कौन से दिन मनाएगी?

Ques.4 Which day will come

कौन सा दिन आयेगा

After Monday\_\_\_\_\_.

सोमवार के बाद\_\_\_\_\_.

Before Sunday\_\_\_\_\_.

रविवार के बाद\_\_\_\_\_.

Ques.5 If third week of a year falls in January then twelfth week will fall on which month?

साल का तीसरा हफ्ता जनवरी में आता है तो साल का बाँरवा हफ्ता कौन से महीने में आता है।

Ques.6 In which month did you come to class II?

कौन से महीने में तुम दूसरी कक्षा में आए?



Ques.7 If 1 year = 52 weeks, Then 2 years = \_\_\_\_\_ weeks.

Ques.8 If January is February, February is March, March is April then tell what is September?

अगल जनवरी फरवरी है, फरवरी मार्च है, मार्च अप्रैल है तो बताओ सितंबर क्या है?

Ques.9 What month comes after 6 months after July?

जुलाई के ६ महीने बाद कौन सा महीना आता है?

Ques.10 If you have five period of Hindi in a week then how many periods of Hindi will you have in 14 weeks?

अगर हिन्दी को हफ्ते में पाँच कालांश (पीरियड) है तो पन्द्रह दिन में कुल कितने कालांश होंगे?

Ques.11 Complete the calendar

कैलेंडर को पुरा करो

Sunday	Monday	Tuesday	Wednesday	Thursday	Friday	Saturday
		1		4		7
	9			12		
15			16			17

Ques.12

<b>BIRTH CERTIFICATE</b>	
Name	Avni
नाम	अवनी
Sex	female
लिंग	स्त्री
Date of birth	10/15/10
जन्मतिथि	१०/०५/२०१०
Place of birth	saroj hospital
जन्मस्थान	सरोज होस्पिटल
Name of father	siddharth
पिता का नाम	सिद्धार्थ
Name of mother	saroj
माता का नाम	सरोज
Date of registration	12/05/11
पंजीकरण की तिथि	१२/०५/२०११
Registration no.	816/04
पंजीकरण संख्या	८१६/०४

- a) How many month old was avni on 10/11/2010  
अवनी कितने महीने की है?1
- b) How many years old is avni on 10/11/2011  
अवनी १०.११.२०१२ को कितने साल की हो जाएगी?

Ques.13 Which year comes  
कौन सा साल आयेगा?

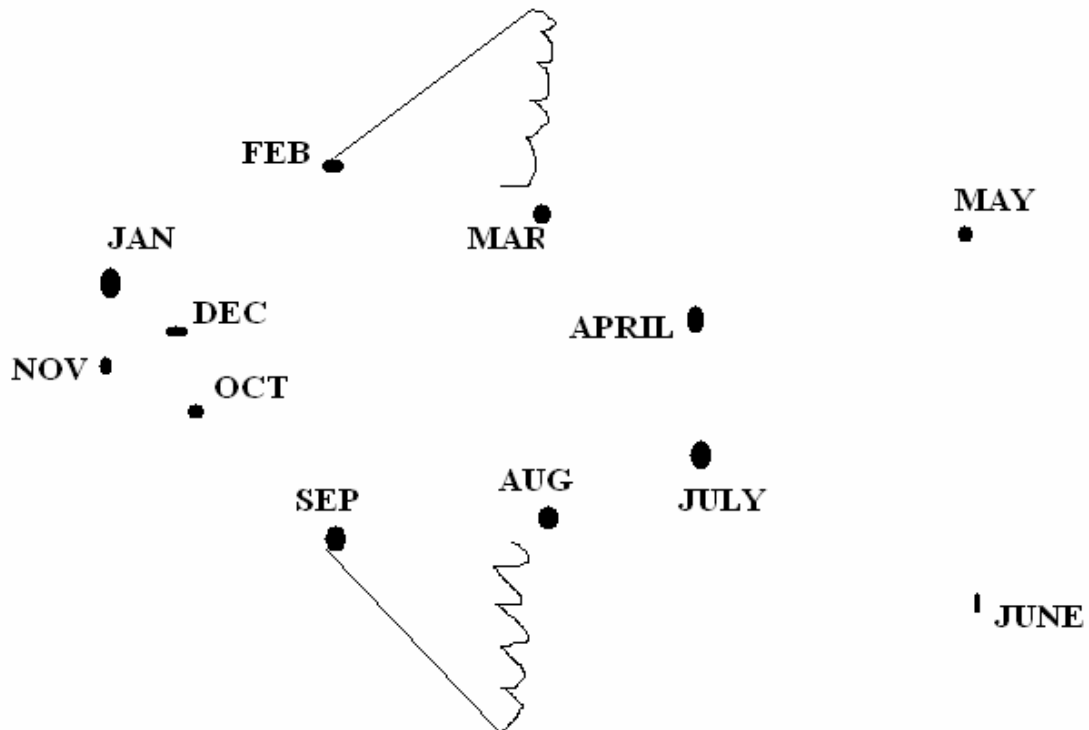
3 years after 2009  
२००९ के तीन साल बाद

4 year after 2006  
२००६ के चार साल बाद

Ques.14 circle the odd one out  
गोला लगाओ

- a) day, week, hours, month  
दिन, इन्द्रधनुष, महाद्वीप, महीने
- b) July, January, November, August  
जुलाई, जनवरी, नवम्बर, अगस्त

Ques.15 Join the points  
बिन्दु मिलाओ



## ANSWERS

1

Ans.1      January  
              September  
              December

Ans.2      Sunday

Ans.3      Wednesday

Ans.4  
              a)     Tuesday  
              b)     Saturday

Ans.5      March

Ans.6      April

Ans.7      104 Weeks

Ans.8      October

Ans.9      January

Ans.10     10 periods

Ans.11

Sunday	Monday	Tuesday	Wednesday	Thursday	Friday	Saturday
		1	2	3	4	5
6	7	8	9	10	11	12
13	14	15	16	17	18	19
20	21	22	23	24	25	26
27	28	29	30	31		

Ans.12

a) 6 months

b) 1 year and 6 month

Ans.13

2012

2010

Ans.14

a) Hours

b) November

Ans.15

Fish

## CHAPTER 10

### ADD MY POINTS

Ques.1 Add:  
जोड़ो।

$$\begin{array}{r} \text{a) T O} \\ 6 \quad 1 \\ + 3 \quad 7 \\ \hline \\ \hline \end{array}$$

$$\begin{array}{r} \text{b) T O} \\ 5 \quad 3 \\ + 4 \quad 6 \\ \hline \\ \hline \end{array}$$

Ques.2 Add the numbers as shown in the example  
जैसे उदाहरण में दर्शाया गया है उस प्रकार से जोड़ो।

$$9 + 4 = 13$$
$$९ + ४ = १३$$

$$\text{a) } 13 + 5$$
$$१३ + ५$$

$$\text{b) } 16 + 4$$
$$१६ + ४$$

Ques.3 Fill in the blanks  
जोड़ो तथा खाली स्थान भरें

$$4 + 2 = 2 + 4 = 6$$
$$४ + २ = २ + ४ = ६$$

$$\text{a) } 18 + 9 = \underline{\quad} + \underline{\quad} = \underline{\quad}$$
$$\text{a) } १८ + ९ = \underline{\quad} + \underline{\quad} = \underline{\quad}$$

$$\text{b) } 26 + 15 = \underline{\quad} + \underline{\quad} = \underline{\quad}$$
$$\text{b) } २६ + १५ = \underline{\quad} + \underline{\quad} = \underline{\quad}$$

Ques.4 Match the following:  
मिलान करो।

$$16 + 9$$

$$१६ + ९$$

$$21$$

$$२१$$

$$22 + 8$$

$$२२ + ८$$

$$25$$

$$२५$$

$$14 + 7$$

$$१४ + ७$$

$$51$$

$$५१$$

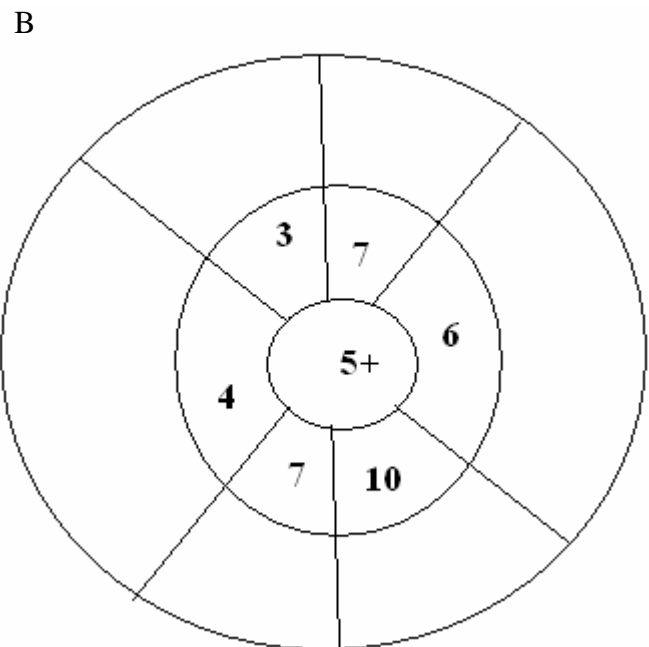
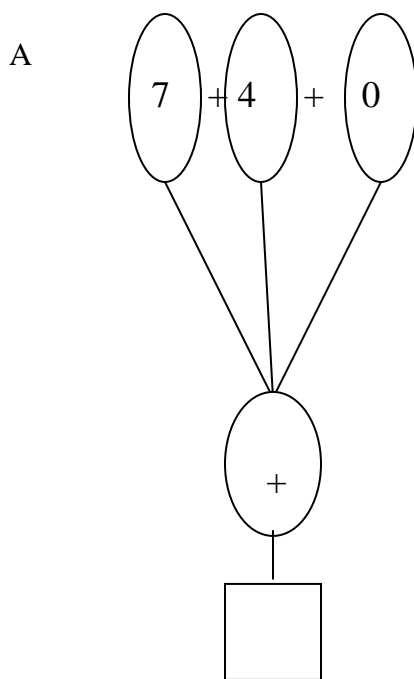
$$36 + 15$$

$$३६ + १५$$

$$30$$

$$३०$$

Ques.5 Write the correct answer:  
सही उत्तर लिखो।

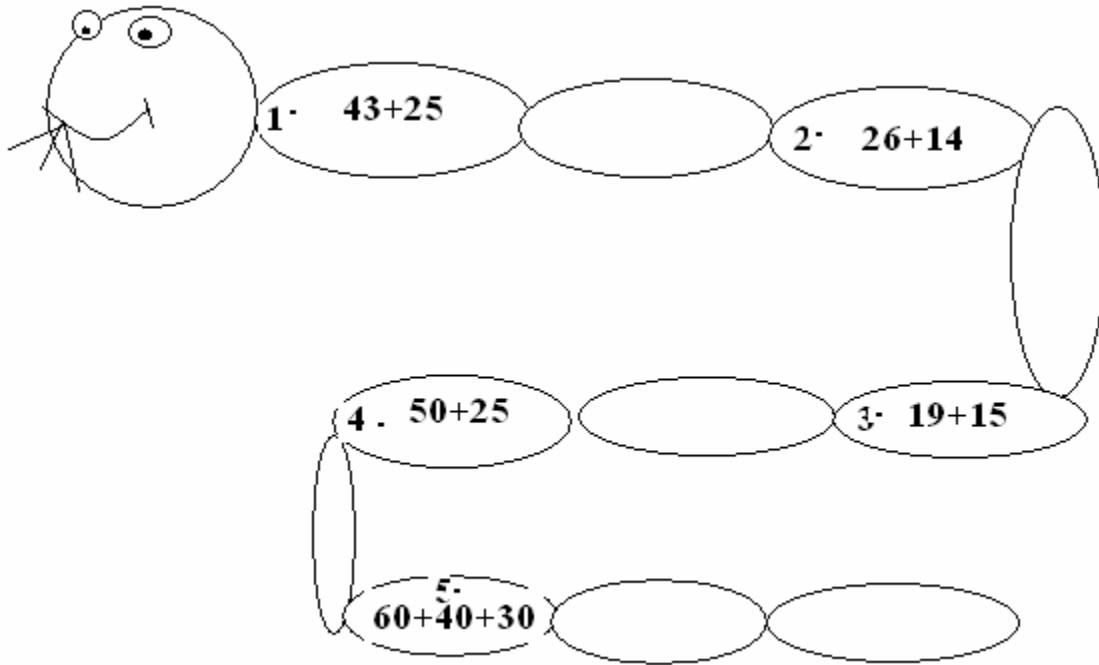


Ques.6 Do complete:-  
पूरा करो।

a)  $36 + 15 + 9 =$

b)  $50 + 30 + 8 =$

Ques.7 Complete it  
पूरा करो।



Ques.8 Write the missing points  
छूटे हुए अंक लिखो।

- a)  $15 + \square = 36$
- b)  $\square + 17 = 32$
- c)  $30 + \square = 50$
- d)  $17 + 27 = \square$


Ques.9 Colour the box having highest value :  
उस बाक्स में रंग भरो जिसका मूल्य सबसे अधिक है।

- a)  $19 + 7$        $31 + 6$        $52 + 4$
- b)  $30 + 7 + 5$        $18 + 16 + 6$        $14 + 5 + 7$



Ques.10 How many fish big and small are swimming altogether? Also colour the fish.

कितनी छोटी तथा बड़ी मछलियाँ तालाब में एक साथ तैर रही हैं उनमें रंग भरो



Big fish बड़ी मछली

Small fish छोटी मछली

Total fish कुल कितनी मछली

## ANSWERS

Ans.1

- a) 98  
98  
b) 99  
99

Ans.2

- a) 18  
18  
b) 20  
20

Ans.3

- a)  $9 + 18 = 27$   
 $9 + 18 = 27$   
b)  $15 + 26 = 41$   
 $15 + 26 = 41$

Ans.4

$16 + 9$	25	
$16 + 9$	25	
$25 + 8$	30	
$25 + 8$	30	30
$14 + 7$	21	
$14 + 7$	21	21
$36 + 15$	51	
$36 + 15$	51	

Ans.5 (a) 11

11

(b) draw

Ans.6

- a) 60  
60  
b) 88  
88

Ans.7

- a) 68  
६८
- b) 40  
४०
- c) 34  
३४
- d) 75  
७५
- e) 130  
१३०

Ans.8

- a) 21  
२१
- b) 15  
१५
- c) 20  
२०
- d) 44  
४४

Ans.9

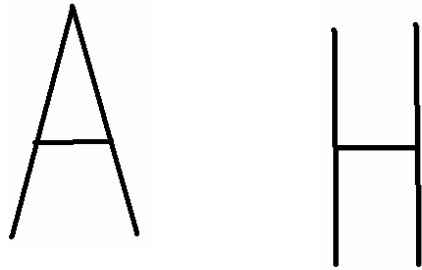
- a)  $52 + 4$   
 $५२ + ४$
- b)  $30 + 7 + 5$   
 $३० + ७ + ५$

Ans.10

Big fish बडी मछली	३
Small fish छोटी मछली	५
Total fish कुल कितनी मछली	८

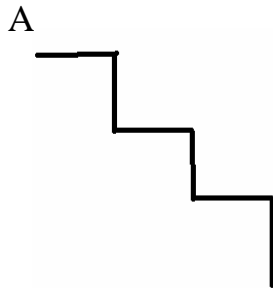
## CHAPTER 11 LINES & LINES

Ques.1



Which figure has standing lines?  
कौन से अक्षर में खड़ी लाईनो का प्रयोग किया गया है?

Ques.2



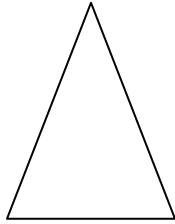
Which line will come next in the given patterns if we started from point A?  
यदि हम A बिन्दु से शुरू करें तो आगे कौन सी रेखा आयेगी?

Ques.3 Draw a hut using standing and slanting lines.  
टेढी तथा खड़ी रेखाओं का प्रयोग करके एक झोपड़ी बनाओ।

Ques.4 Write all those English alphabets which have curved lines.  
अंग्रेजी वर्णमाला के वे सभी अक्षर लिखो जिनमे मुड़ी रेखाओं का प्रयोग होता है।

Ques.5 Use matchstick and make the digit 32.  
माचिस की तीलियों का उपयोग करके ३२ अंक बनाओ।

Ques.6 Which figure has more lines?  
किस आकृति में रेखाएँ ज्यादा हैं?

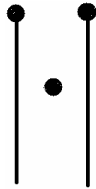


A

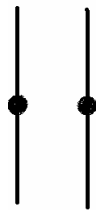


B

Ques.7



A



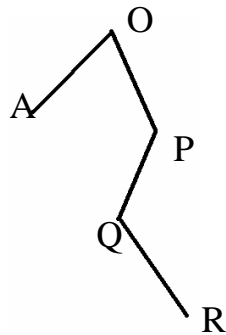
B



C

Join the point and make alphabets of English.  
बिन्दु मिलाओ और अंग्रेजी वर्णमाला के अक्षर बनाओ।

Ques.8

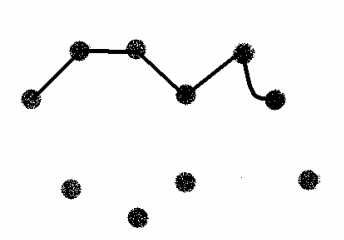


A. AO is \_\_\_\_\_ line.

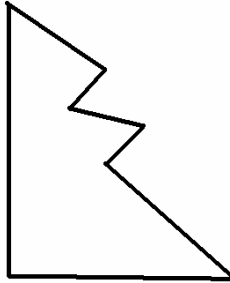
Ao रेखा एक \_\_\_\_\_ रेखा है।

B. OP is \_\_\_\_\_line.  
Op रेखा एक \_\_\_\_\_ रेखा है।

Ques.9 Complete the fish and colour it.  
मछली को पुरा करो तथा रंग भरो।



Ques.10 Count lines and write.  
रेखाँए गिनो तथा लिखो।



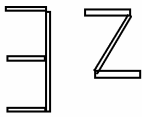
## ANSWERS

Ans.1 H

Ans.2 Sleeping

Ans.3 Do it yourself

Ans.4 B C D G J O P Q R S U

Ans.5 

Ans.6 B

Ans.7

a) M

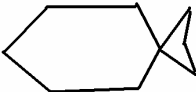
b) H

c) Z

Ans.8

a) Slanting

b) Standing

Ans.9 

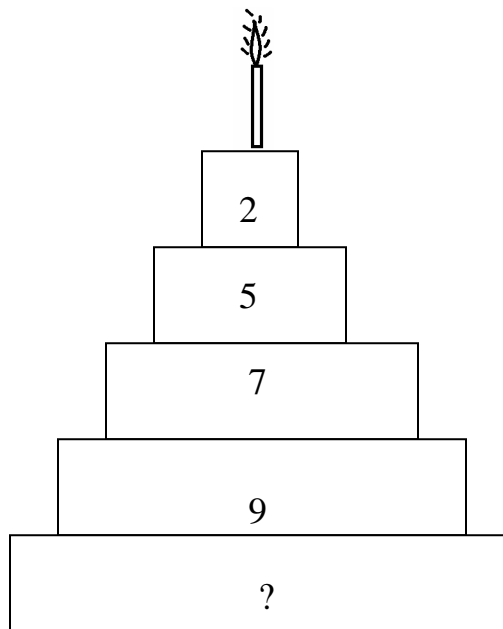
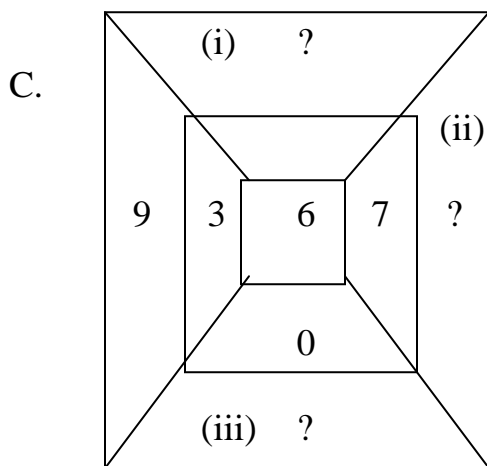
Ans.10 7

## CHAPTER 12

Ques.1 Write the correct answer  
सही उत्तर दीजिए।

A.  $\bigcirc 3 + \bigcirc 4 + \bigcirc 5 = \underline{\hspace{2cm}}$

B.  $\star 4 + \star 2 + \star 3 + \star 0 + \star 1 = \underline{\hspace{2cm}}$





Ques.2 Complete the table  
बाक्स को पूरा करो।

	- 15	24	18
5	$15 - 5 = 10$		
7		$24 - 7 = 17$	
12			$18 - 12 = 6$

Ques.3 Picture subtraction  
बाक्स को पूरा करो।



1 ball = 10 unit

A) - =   
 $70 - 30 = 40$

B) - = \_\_\_\_\_  
 1 flower = 10 unit

C)

$9 - 6 = \underline{\hspace{2cm}}$

D)

$15 - 8 = \underline{\hspace{2cm}}$

## ANSWERS

- a) 16
- b) 6
- c) 19
- d) 16

### Worksheet-I

- a) 12
- b) 10
- c)
  - I. 10
  - II. 13
  - III. 6

- d) 23

Puzzle

2	7	6
9	5	1
4	3	8

Solution of worksheet II

10	19	13
8	17	11
3	12	6

### Worksheet-III

- A. 15 Units.
- B. 70 Units.
- C. 35 Units.

## CHAPTER 13

### THE LONGEST STEP

Ques.1 Which is longer? Write

- a) door of your class
- b) window of your school

कौन सा लंबा है लिखो।

- (क) आपकी कक्षा का दरवाजा।
- (ख) आपकी कक्षा की खिडकी।

Ques.2 which is shortest? Tick ( ✓ )

- a) Pencil (     )
- b) Eraser (     )
- c) Sketch pen (     )

कौन सी वस्तु सबसे छोटी है सही का चिन्ह लगाओ।

- (क) पेंसिल।
- (ख) रबड।
- (ग) ✕ स्कैच पेन।

Ques.3 Which has the longest neck? Write the name of an animal?

- a) Giraffe
- b) Dog
- c) Cow

किसकी गर्दन सबसे लम्बी है? उस जानवर का नाम लिखो?

- (क) जिराफ।
- (ख) कुत्ता।
- (ग) गाय।

Ques.4 Which member of your family has shortest height? Write  
आपके परिवार मे किस व्यक्ति की ऊँचाई सबसे छोटी है? लिखो।

Ques.5 Whose ear is bigger? The elephant or the cow?  
किसके कान बडे है? हाथी या गाय?

Ques.6 The carpet is 10 feet long. Who will first complete the carpet papa or  
son? Who takes the biggest step?

एक चटाई की लम्बाई १० फीट है कौन चटाई की दूरी को पहले पूरा करेगा। पापा या बेटा?  
किसके बडे कदम है?

Ques.7 Draw pencil longer than this pencil.  
नीचे दी गई पेंसिल से बडी पेंसिल बनाओ।



Ques.8

Write the colour of rabbit and farther from the tree.  
कौन से रंग का खरगोश पेड से दूर है?



Ques.9 Draw a banana 5 hands pan a way from the monkey?  
बंदर से ५ हथेली दूरी पर एक केला बनाओ।

Ques.10 Write the length or height of the things shown below?  
नीचे दिए गए चित्रों की लम्बाई व ऊँचाई लिखो।

Name of the thing  
वस्तु का नाम

my result  
मेरा परिणाम



Bottle  
बोतल

\_\_\_\_\_ hand spans/ fingers  
हथेली/अंगुलियाँ

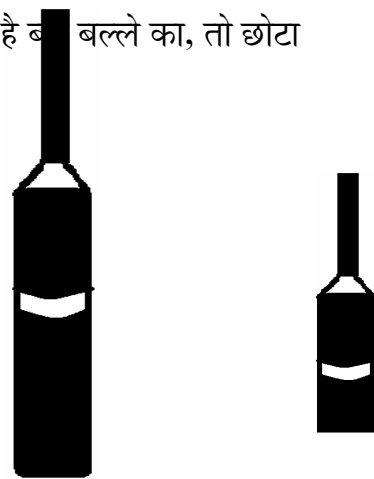


Candle  
मोमबत्ती

\_\_\_\_\_ hand spans/ fingers  
हथेली/अंगुलियाँ

Ques.11 If the bigger bat is 8 meter high and smaller bat is half of bigger bat  
what is the length of smaller bat?

अगर बड़ा बल्ला ८ मीटर लम्बा है और छोटा बल्ला आधा है बड़े बल्ले का, तो छोटा  
बल्ले की लम्बाई कितनी होगी।



Ques.12 Which word has the longest spelling? Write

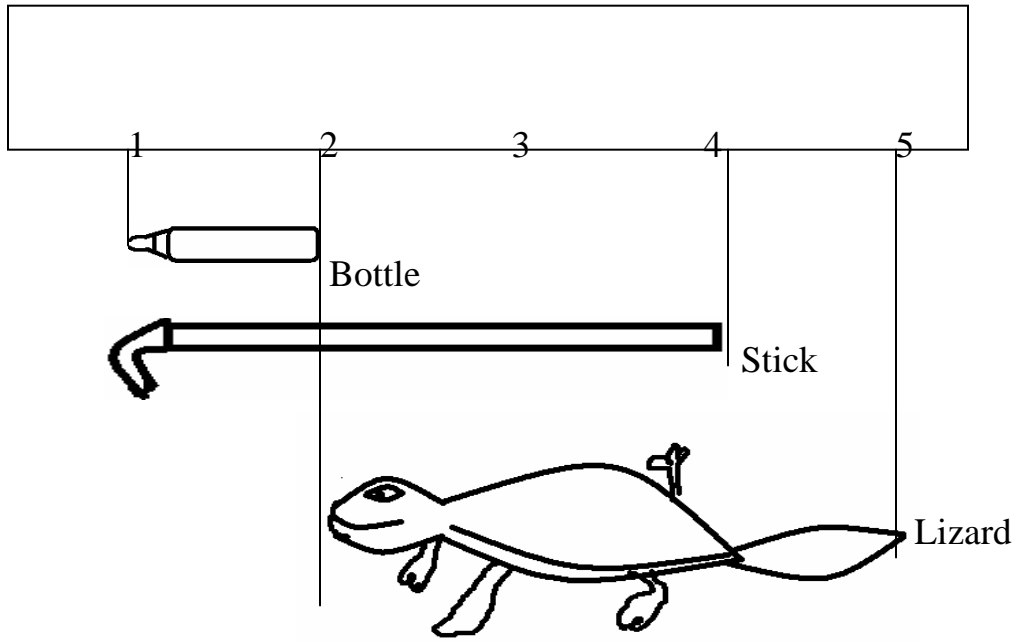
- a) Moon
- b) Sunlight
- c) Knowledgeable

कौन सा शब्द सबसे लम्बा है? लिखो:-

मून

सनलाईट

नोलेजेबल



Ques.13 The lizard is \_\_\_\_ meter long.  
छिपकली \_\_\_\_\_ मीटर लम्बी है।

Ques.14 How much the bottle is long?  
बोतल कितनी लंबी है?

Ques.15 The stick is \_\_\_\_ meter long.  
बोतल कितनी लंबी है?

## ANSWERS

Ans.1 Door of my class  
मेरी कक्षा का दरवाजा ।

Ans.2 Eraser  
रबड ।

Ans.3 Rabbit.  
खरगोश ।

Ans.4 My bother  
मेरा भाई ।

Ans.5 Elephant  
हाथी ।

Ans.6 Papa, papa's step  
पापा, पापा के कदम ।

Ans.7



Ans.8 Near – orange  
पास संतरी चिडिया ।

Father – yellow  
पास संतरी चिडिया ।

Ans.9 Do it yourself  
पास संतरी चिडिया ।

Ans.10 Do it yourself  
पास संतरी चिडिया ।

Ans.11 4 meters  
४ मीटर ।

Ans.12 Knowledgeable  
Knowledgeable

Ans.13 5 meters  
५ मीटर ।

Ans.14 1 meter  
१ मीटर ।

Ans.15 4 meters  
४ मीटर ।



## CHAPTER 14

### BIRDS COME BIRDS GO

Ques.1 Write in expanded form?  
विस्तृत रूप में लिखो।

a)  $37 = 30 + \boxed{\phantom{00}}$

b)  $74 = \boxed{\phantom{00}} + 4$

Ques.2 Write the value and draw beads on the abacus of the encircled digits.  
गिनती सिखाने वाले में गोलाकृत संख्याओं के दाने बनाओ।

a)  $\textcircled{4}7$  T    O

--	--

b)  $9\textcircled{6}$  T    O

--	--

Ques.3 Look at the key for place values and writes down the sums.  
खानों में स्थानीय मान भरो तथा योगफल लिखो।

T	U
★	○

<table style="width: 100%; height: 100%; border-collapse: collapse;"> <tr> <td style="width: 33%; text-align: center;">★</td> <td style="width: 33%; text-align: center;">★</td> <td style="width: 33%; text-align: center;">★</td> </tr> <tr> <td style="text-align: center;">○</td> <td style="text-align: center;">○</td> <td></td> </tr> </table>	★	★	★	○	○		+	<table style="width: 100%; height: 100%; border-collapse: collapse;"> <tr> <td style="width: 33%; text-align: center;">★</td> <td style="width: 33%; text-align: center;">★</td> <td style="width: 33%; text-align: center;">★</td> </tr> <tr> <td style="text-align: center;">★</td> <td style="text-align: center;">○</td> <td style="text-align: center;">○</td> </tr> <tr> <td></td> <td style="text-align: center;">○</td> <td style="text-align: center;">○</td> </tr> </table>	★	★	★	★	○	○		○	○	=	
★	★	★																	
○	○																		
★	★	★																	
★	○	○																	
	○	○																	



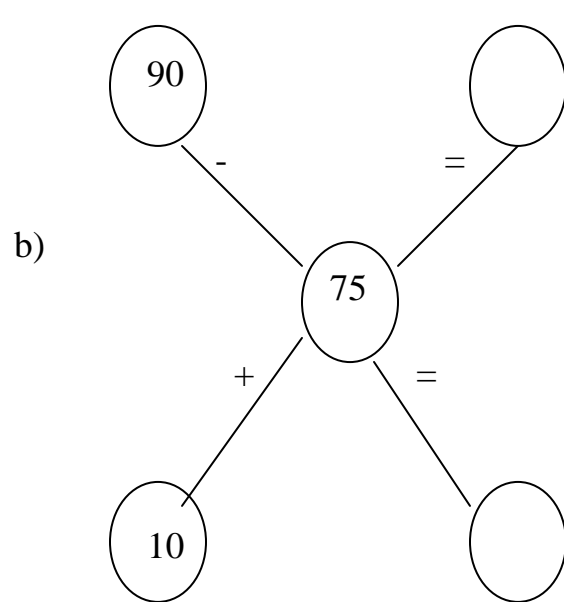
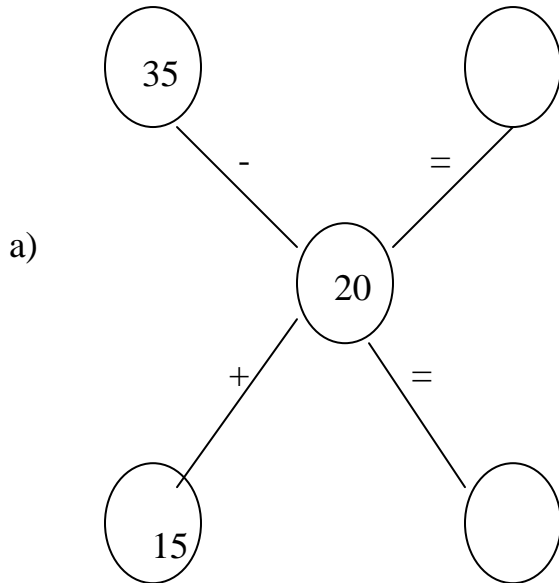
Ques.4 Colour the tens

दहाई वाली संख्याओ में रंग भरो ।

16	5	12
9	30	4
15	2	75

Ques.5 Complete the following.

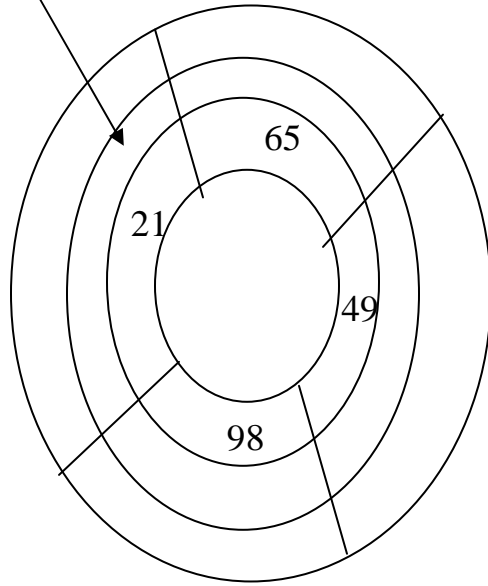
निम्न को पूरा करो:-



Ques.6 Write ones and tens and also colour the picture.

इकाई तथा दहाईयों को लिखो तथा तस्वीरों में रंग भरो:-

Two tens + seven ones


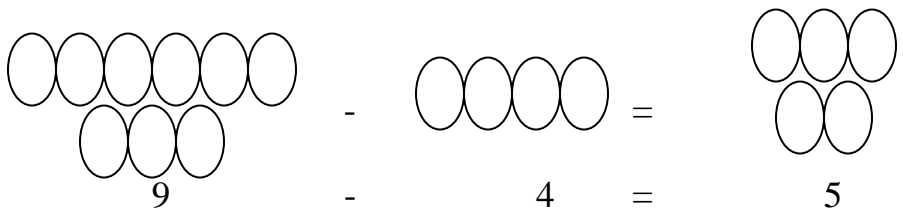


Ques.7 Put correct symbol (+, -)  
 सही चिन्ह भरो:-

a)  $65 \square 50 = 15$

b)  $40 \square 30 = 70$

Ques.8 picture subtraction  
 चित्र देखकर घटाओ:-



a)  $\diamond \diamond \diamond - \quad =$

b)  $\begin{array}{ccc} \star & \star & \star \\ \star & \star & \star \end{array} - \star \star =$


Ques.9 Solve –  
हल करो:-

a)  $38 + 45 = \square$

b)  $76 - 47 = \square$

Ques.10 complete:-  
पूरा करो:-

10 Complete


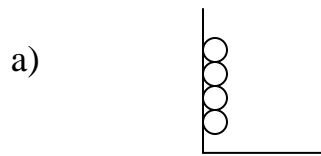


## ANSWERS

Ans.1

- a) 7
- b) 70

Ans.2



Ans.3  $32 + 43 = 75$

Ans.4 Do it your self

Ans.5

$$\begin{array}{r} \text{a)} \quad 35 \quad - \quad 20 \quad = \quad 35 \\ \quad 15 \quad + \quad 20 \quad = \quad 15 \end{array}$$

$$\begin{array}{r} \text{b)} \quad 90 \quad - \quad 15 \quad = \quad 85 \\ \quad 10 \quad + \quad 15 \quad = \quad 15 \end{array}$$

Ans.6

$$65 = 6 \text{ tens} + 5 \text{ ones}$$

$$49 = 4 \text{ tens} + 9 \text{ ones}$$

$$98 = 9 \text{ tens} + 8 \text{ ones}$$

Ans.7

a) -

b) +

Ans.8

a)  $8 - 3 = 5$

b)  $6 - 2 = 4$

Ans.9

a) 83

b) 29

Ans.10

a) 37

b) 74

c) 61

d) 10

e) 109

f) 99