

Name _____

Roll No. _____

SA-I

कक्षा - छः

कार्यपत्र

भूगोल

अप्रैल 1

नीचे दिए गए शब्दों का उपयोग करके वाक्यों को पूरा कीजिए :-

उल्का पिंड प्रकाश	ध्रुवतारा उष्मा	पूर्णिमा सूर्य	27 दिन 15 करोड़	सप्तऋषि आकाश गंगा	8 मिनट भू-आम।
----------------------	--------------------	-------------------	--------------------	----------------------	------------------

1. पृथ्वी के समान आकार
2. पूर्ण चन्द्रमा वाली रात कहलाती है।
3. सूर्य के चारों ओर चक्कर लगाने वाले पत्थरों के छोटे छोटे टुकड़ों को ..
..... कहते हैं।
4. सात तारों का समूह कहलाता है।
5. उत्तर दिशा की ओर दिखने वाले तारे को कहा जाता है।
6. सूर्य के प्रकाश को पृथ्वी पर पहुंचने में समय लगता है।
7. कुछ खगोलीय पिंड में एवं नहीं होता।
8. चन्द्रमा पृथ्वी का एक चक्कर लगभग में पूरा करता है।
9. पृथ्वी प्रकाश एवं उष्मा से प्राप्त करती है।
10. सूर्य पृथ्वी से लगभग किलोमीटर दूर है।
11. लाखों तारों के समूह की पट्टी है।

Name _____

Roll No. _____

SA-I

कक्षा - छः

कार्यपत्र

इतिहास

अप्रैल 2

निम्न में से सही विकल्प छांट कर उत्तर दीजिए :

1. सबसे पहले किस जानवर को पालतू बनाया। कुत्ता / घोड़ा
2. सबसे पहले उगाई जाने वाली दो फसलें
1. ज्वार, चावल, 2. गेहूँ जौं
3. 'महान स्नानागार' हड़प्पा सभ्यता के किस नगर से मिला?
मोहन जोदड़ो / लोथल।
4. हड़प्पा सभ्यता में तोल के बाट किस पत्थर के बने थे।
लाल पत्थर / चकमक पत्थर।

मिलान कीजिए :-

तांबा	गुजरात
सोना	अफगानिस्तान
टिन	राजस्थान
बहुमूल्य पत्थर	कर्नाटक

सही गलत पर (✓) या (×) निशाल लगाईए।

1. हल्लूर में ज्वार-बाजरा मिला है। ()
2. बुर्जहोम में लोग आयताकार घरों में रहते थे। ()
3. चिराँद कश्मीर का एक पुरास्थल है। ()
4. जेडाइट, जो दाओजली हेंडिंग में मिला है, चीन से लगाया गया होगा। ()

Name _____

Roll No. _____

SA-I

कक्षा - छः

कार्यपत्र

भूगोल

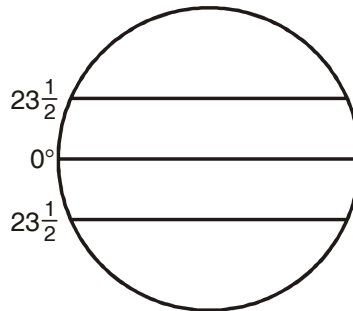
मई 1

निम्नलिखित प्रश्नों के सही उत्तर दीजिए।

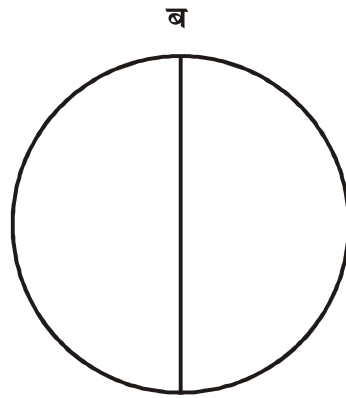
1. भारत की मानक याम्योत्तर रेखा कौन सी मानी गई है?
 $0^\circ / 82^\circ 30'$
2. उत्तरी ध्रुव तथा दक्षिण ध्रुव को जोड़ने वाली संदर्भ रेखाओं को क्या कहते हैं?
अक्षांश रेखाएँ / देशान्तर रेखाएँ।
3. जब भारत में शाम को 7.30 बजे हैं और लंदन में दोपहर के 2 बजे हैं तो भारत और इंग्लैंड के बीच समय का क्या अंतर है?
5.30 घण्टे / 9.30 घण्टे
4. दोपहर के समय परछाई और सूर्योदय तथा सूर्यास्त के समय होती है।
सबसे लम्बी, सबसे छोटी

चित्र अ में तीनों रेखाओं के नाम लिखिये।

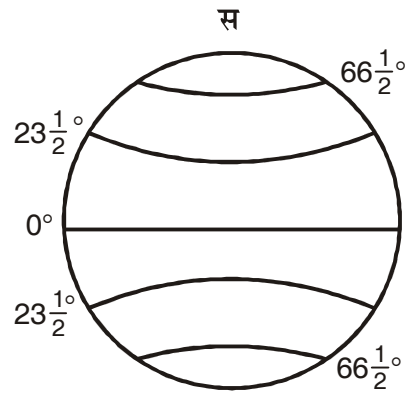
अ



चित्र ब में दोनों ध्रुवों को मिलाने वाली रेखा का नाम लिखिए।



चित्र स में ताप कटिबन्धों का नाम लिखिए।



Name _____

Roll No. _____

SA-I

कक्षा - छः

कार्यपत्र

इतिहास

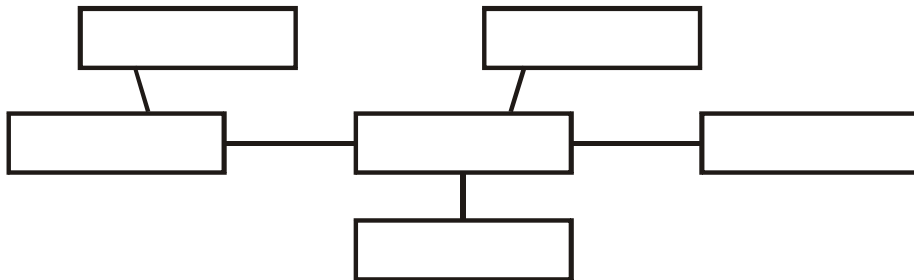
जुलाई 1

निम्न में सही उत्तर छाँटकर लिखिए।

1. युद्ध में बंदी बनाए गए लोग
दस्यु / आर्य
2. ऋग्वेद की वैदिक प्रार्थनाओं की रचना किसने की?
ऋषियों ने / देवताओं ने
3. संघ शब्द का प्रयोग किसके लिए होता था?
सभा या संगठन के लिए / राज्य के लिए

नीचे दिए गए खानों में निम्नलिखित शब्द भरिए :-

शिकारी संग्राहक कृषक व्यापारी शिल्पकार पशुपालक



सही गलत लिखिए :-

1. अश्वमेघ के घोड़े को अपने राज्य से गुजरने की छूट देने वाले राजाओं को यज्ञ में आमंत्रित किया जाता था।
2. राजा के ऊपर सारथी पवित्र जल का छिड़काव करता था।
3. पुरातत्वविदों को जनपदों की बस्तियों में महल मिले हैं।
4. चित्रित धूसर पात्रों में अनाज रखा जाता था।

Name _____

Roll No. _____

SA-I

कक्षा - छः

कार्यपत्र

नागरिक शास्त्र

जुलाई 2

1. निम्न में सही विकल्प छांटिए।

1. भारत का देश है।

(क) धर्मों

(ख) भाषाओं

(ग) त्योहारों

(घ) विविधताओं।

2. गैर बराबरी का रूप है-

(क) विभिन्न धर्म

(ख) गरीबी अमीरी

(ग) विभिन्न संस्कृति

(घ) अलग-अलग जाति

3. गानों तथा कविताओं का समूह मौखिक संग्रह है

(क) लद्दाख में

(ख) केरल में

(ग) लद्दाख

(घ) तमिलनाडु

4. ग्रंथ 'केसर सागा' कहाँ प्रचलित है-

1. केवल

2. राजस्थान

3. लद्दाख

4. तमिलनाडु

5. चीनाचट्टी क्या है?
1. मछली पकड़ने का जाल
 2. चीनी जाल
 3. मुख्य भोजन
 4. तलने के लिए बर्तन
6. पंडित जवाहर लाल नेहरू ने पुस्तक लिखी-
1. पंचतंत्र
 2. भारत की खोज
 3. गोदान
 4. मेघदूत
7. 'ओणम' कहाँ मनाया जाता है?
1. जम्मू कश्मीर में
 2. केरल में
 3. बंगाल में
 4. राजस्थान में
8. अरबी तथा यहूदी व्यापारी सबसे पहले कहाँ आये थे?
1. केरल
 2. उड़ीसा
 3. कर्नाटक
9. डॉ. भीमराव अम्बेडकर कौन थे?
1. राष्ट्रपति
 2. मुख्यमंत्री
 3. संविधान के पिता
10. विकलांग शब्द को बदलकर आज किस शब्द का प्रयोग किया जाता है?
1. विशेष विचार वाले बच्चे
 2. सामान्य स्कूल में पढ़ने वाले बच्चे
 3. खास जरूरत वाले बच्चे

Name _____

Roll No. _____

SA-I

कक्षा - छः

कार्यपत्र

भूगोल

जुलाई 3

सही विकल्प चुनकर उत्तर दीजिए।

- लीप वर्ष में कितने दिन होते हैं?
365
366
- 21 जून को इन क्षेत्रों में सबसे लम्बा दिन तथा सबसे लम्बी रात होती है।
पृथ्वी की इस अवस्था को कहते हैं।
उत्तर अयनांत
दक्षिण अयनांत
- पृथ्वी अपने अक्ष पर एक चक्कर पूरा करने में का समय लेती है।
24 घण्टे
 $365\frac{1}{4}$ दिन
- पृथ्वी अगर घूर्णन नहीं करे तो सूर्य के तरफ वाले पृथ्वी के भाग में हमेशा होगा।
रात
दिन
- गर्मी में क्रिसमिस का पर्व कहाँ मनाया जाता है?
जापान
आस्ट्रेलिया
- पृथ्वी का अपने अक्ष पर घूमना कहलाता है।
घूर्णन
परिक्रमण।

7. पृथ्वी के घूर्णन के कारण एवं तथा परिक्रमण के कारण में परिवर्तन होता है।

ऋतुएं

रात

दिन

8. किन महीनों में दिन एवं रात लगभग बराबर होते हैं

जून

सितम्बर

दिसम्बर

मार्च

9. लीप वर्ष में किस महीने में एक दिन अधिक होता है।

.....

Name _____

Roll No. _____

SA-I

कक्षा - छः

कार्यपत्र

इतिहास

अप्रैल 2

उपयुक्त शब्द भरिए :-

पांडुलिपि	इंडस	सोन	ताड़	मगध
-----------	------	-----	------	-----

1. गंगा की सहायक नदी है।
2. पांडुलिपि के पत्तों पर लिखी जाती थी।
3. गंगा के दक्षिण में राज्य स्थित है।
4. हाथ से लिखी पुस्तकें कही जाती हैं।
5. इंडिया शब्द से निकला है।

निम्न में से उपयुक्त शब्द (उत्तर) छांटकर लिखिए।

1. जिस काल में हमें पर्यावरणीय परिवर्तन मिलते हैं।
उसे पुरापाषाण काल कहते हैं
उसे मध्यपाषाण काल कहते हैं
2. भीमबेटका स्थित है-
आन्ध्र प्रदेश
मध्य प्रदेश

मिलान कीजिए :-

नर्मदा घाटी

पहला बड़ा राज्य

गारो पहाड़ियां

शिकार तथा संग्रहण

मगध

लगभग 2500 वर्ष पूर्व के नगर

सिंधु तथा इसकी सहायक नदियाँ

आरंभिक कृषि

गंगा घाटी

प्रथम नगर

Name _____

Roll No. _____

SA-I

कक्षा - छः

कार्यपत्र

नागरिक शास्त्र

अगस्त 2

निम्न में से सही विकल्प छाँटिए।

- सरकार स्तरों पर कार्य करती है।
(क) तीन (ख) दो
(ग) चार
- गाड़ी चलाने वाले के पास होना चाहिए।
(क) लाइसेंस (ख) पासपोर्ट
(ग) राशन कार्ड
- राजतंत्रीय सरकार में निर्णय लेने तथा सरकार चलाने की शक्ति के पास होती है।
(क) राजा या रानी (ख) जनता
(ग) नागरिक
- लोकतंत्र में लोगों को देने का अधिकार होता है।
(क) धन (ख) वोट
(ग) शिक्षा

5. अमरीका में औरतों को वोट देने का अधिकार में मिला।
(क) 1910 (ख) 1920
(ग) 1930
6. 'सफ्रेज' का मतलब होता है
(क) वोट देने का अधिकार (ख) स्कूल जाने का अधिकार
7. दक्षिण अफ्रीका एक ऐसा देश है जहाँ के लोग रहते हैं।
(क) एक प्रजाति (ख) कई प्रजातियों
(ग) तीन प्रजाति
8. दक्षिण अफ्रीका की पार्टी अफ्रीकी राष्ट्रीय कांग्रेस के नेता थे।
(क) महात्मा गांधी (ख) नेल्सन मंडेला
9. भारत में चुनाव में एक बार होते हैं।
(क) तीन वर्ष (ख) चार वर्ष
(ग) पांच वर्ष
10. कर्नाटक का कावेरी नदी के ऊपरी छोर पर है।
(क) कृष्णा सागर बांध (ख) भाखड़ा बांध
(ग) मेटूर बांध
11. लोकतंत्र में सरकार के प्रति उत्तरदायी होती है।
(क) जनता (ख) प्रधानमंत्री

Name _____

Roll No. _____

SA-I

कक्षा - छः

कार्यपत्र

भूगोल

अगस्त 3

इन रंगों का इस्तेमाल मानचित्र में क्या दर्शाता है? मिलान कीजिए।

अ

भूरा रंग

पीला रंग

हरा रंग

नीला रंग

ब

पठार

मैदान

जलाशय

पर्वत

सही शब्द छाँट कर लिखिये।

एटलस उत्तर दक्षिण छोटे पैमाने बड़े पैमाने दिग्सूचक खाका

1. जब बहुत से मानचित्रों को एक साथ रख दिया जाता है तब बन जाता है।
2. एक छोटे क्षेत्र का बड़े पैमाने पर खींचा गया रेखाचित्र कहा जाता है।
3. दिशा का पता की सहायता से लगा सकते हैं।
4. चुम्बकीय सुई की दिशा हमेशा दिशा में जाती है।
5. बड़े क्षेत्रफल वाले भागों पर का उपयोग होता है।
6. छोटे क्षेत्रफल वाले भागों पर का उपयोग होता है।

मानचित्र के तीन घटक कौन-कौन से हैं?

1.
2.
3.

जलवायु दूरी वातावरण दिशा प्रतीक

विशेष जानकारियाँ प्रदान करने वाले मानचित्र को किस नाम से जाना जाता है?

भौतिक मानचित्र

थिमैटिक मानचित्र

ये रूढ़ चिन्ह क्या दर्शाते हैं?

1. 

2. 

3. 

4. 

5. 

6. P.T.O.

Name _____

Roll No. _____

SA-II

कक्षा - छः

कार्यपत्र

इतिहास

अक्टूबर 1

सही पर (✓) का और गलत (×) का निशान लगाइए :-

1. बुद्ध ने अपना पहला उपदेश कुशीनगर में दिया। ()
2. महावीर जैन धर्म के संस्थापक थे। ()
3. बुद्ध ने पशुबलि को बढ़ावा दिया। ()
4. गौतम बुद्ध तथा महावीर ने अपनी शिक्षा संस्कृत भाषा में दी। ()
5. अशोक ने धम्म की खोज की। ()
6. कलिंग का प्राचीन नाम पटना था। ()
7. मौर्य साम्राज्य की शुरुआत 2300 साल से पहले हुई थी। ()

उपयुक्त शब्द छाँटकर खाली स्थान भरिए :-

शरण-स्थल	सारनाथ	गौतम बुद्ध	चन्द्रगुप्त	कर
1. बौद्ध धर्म के संस्थापक		थे।		
2. विहार भिक्षु-भिक्षुणियों के		थे।		
3. महात्मा बुद्ध ने अपना पहला उपदेश		में दिया।		

4. जहाँ पर सम्राटों का सीधा शासन था वहाँ अधिकारी वसूलते थे।
5. मौर्य साम्राज्य की नींव ने रखी।

सही विकल्प बताइए :-

1. अर्थशास्त्र पुस्तक के लेखक थे
चाणक्य चन्द्रगुप्त
2. बुद्ध ने ज्ञान प्राप्त किया।
बोध गया कलिंग

Name _____

Roll No. _____

SA-II

कक्षा - छः

कार्यपत्र

भूगोल

अप्रैल 1

सही विकल्प चुनकर एक शब्द में उत्तर दीजिए :-

वायुमंडल	आस्ट्रेलिया	माउंट	महासागरीय बेसिन
जीवमंडल	8848 मी.	सहारा रेगिस्तान	अफ्रीका
यूरेशिया	महाद्वीप	अटलांटिक महासागर	भारत

1. बड़े स्थलीय भू-भाग को कहते हैं।
2. पृथ्वी को कहा जाता है।
3. द्वीपीय महाद्वीप कहा जाता है।
4. विश्व का सबसे ऊँचा शिखर
5. एक ऐसा महाद्वीप जिससे कर्क, विषुवत तथा मकर तीनों रेखाएँ गुजरती हैं
6. हिंद महासागर का नाम के नाम पर रखा गया है।
7. अंग्रेजी के S अक्षर का आकार का महासागर है।

8. यूरोप तथा एशिया के संयुक्त भूभाग कहते हैं।
9. उत्तर अमेरिका दक्षिण अमेरिका से एक संकरे स्थल से जुड़ा है जिसे कहते हैं।
10. माउंट एवरेस्ट की ऊंचाई है।
11. हमारी पृथ्वी चारों ओर से गैस की एक परत से घिरी है, जिसे कहा जाता है।
12. स्थल, जल, हवा के बीच का सीमित भाग है।
13. विश्व का सबसे गर्म रेगिस्तान है।
14. बड़े जलाशयों को के नाम से जाना जाता है।

Name _____

Roll No. _____

SA-II

कक्षा - छः

कार्यपत्र

नागरिक शास्त्र

अक्टूबर 3

निम्नलिखित में से सही विकल्प छाँटिए :-

1. ग्रामसभा का सदस्य बनने के लिए व्यक्ति की आयु वर्ष या उससे अधिक होनी चाहिए।
(क) 17 (ख) 18 (ग) 19
2. पंचायत क्षेत्र के लोग मिलकर को चुनते हैं।
(क) प्रधानमंत्री (ख) सरपंच (ग) शिक्षा मंत्री
3. ग्राम पंचायत के सचिव की नियुक्ति द्वारा की जाती है।
(क) सरकार (ख) जनता (ग) ग्राम सभा

रिक्त स्थानों की पूर्ति कीजिए :-

1. लोग चोरी झगड़े आदि की शिकायत में लिखवा सकते हैं।
(क) विद्यालय में (ख) पुलिस थाने में (ग) अस्पताल में
2. जमीन को नापने और रिकार्ड रखने का कार्य करता है।
(क) प्रोपर्टी डीलर (ख) पटवारी

3. पटवारी जमीन नापने के लिए जिस लोहे की जंजीर का उपयोग करते हैं उसे कहते हैं।
(क) नजीर (ख) जरीब
4. पटवारी जमीन के नक्शे और सूचनाओं के रिकार्ड रखते हैं उसे
..... कहते हैं।
(क) खसरा (ख) कानूनगो
5. पटवारी के कार्य का निरीक्षण करता है।
(क) थानेदार (ख) तहसीलदार
6. विद्यार्थियों को जाति प्रमाण पत्र जारी करता है।
(क) पटवारी (ख) थानेदार
(ग) तहसीलदार

Name _____

Roll No. _____

SA-II

कक्षा - छः

कार्यपत्र

इतिहास

नवम्बर 1

निम्न वाक्यों के उत्तर छाँटकर लिखिए :-

1. समुद्रगुप्त की प्रशस्ति कवि हरिषेण द्वारा भाषा में लिखी गई।
संस्कृत पाली
2. 1400 साल पहले शासन था
हर्ष वर्धन समुद्रगुप्त
3. संस्कृत रामायण का लेखक माना जाता है
वाल्मीकि आर्यभट्ट
4. मंदिरों की सबसे महत्वपूर्ण भाग का नाम
गर्भगृह शिखर
5. पुराण किस भाषा में लिखे गए
हिन्दी सरल संस्कृत

उपयुक्त शब्द छाँटकर वाक्यों को पूरा कीजिए :-

महरौली	आर्यभट्ट	शून्य	काई लून	टीला
1. स्तूप का शाब्दिक अर्थ				होता है।
2. भारत के गणितज्ञों ने				के लिए एक नए चिह्न का आविष्कार किया।
3. कागज का आविष्कार 1900 साल पहले				नाम के व्यक्ति ने चीन में किया।
4.				एक बड़े गणितज्ञ थे।
5.				के लौह स्तंभ में जंग नहीं लगा है।

निम्नलिखित का सुमेल कीजिए :-

स्तूप	देवी-देवता की मूर्ति स्थापित करने का स्थान
शिखर	टीला
मण्डप	स्तूप के चारों ओर वृत्ताकार पथ
गर्भगृह	मंदिर में लोगों के एकत्रित होने का स्थान
प्रदक्षिणापथ	गर्भगृह के ऊपर लंबाई में निर्माण

Name _____

Roll No. _____

SA-II

कक्षा - छः

कार्यपत्र

भूगोल

नवम्बर 2

कालम क और ख का मिलान कीजिए :-

कालम क	कालम ख
1. कुछ पर्वतों पर हमेशा जमी रहने वाली बर्फ की नदियाँ होती हैं।	संग्रहागार होते हैं।
2. पर्वत जल के	तिब्बत का पठार है।
3. विश्व का सबसे ऊँचा पठार	हिमानी।
4. भारत में गंगा का मैदान	देश में सबसे अधिक जनसंख्या वाला क्षेत्र है।
5. भारत के छोटे नागपुर के पठार में	ठंडी होती जाती है।
6. जैसे-जैसे आप ऊँचाई पर जाएंगे जलवायु	सबसे उपयोगी क्षेत्र होते हैं।
7. हिमाचल तथा आल्पस	लोहा, कोयला मैंगनीज के भंडार पाए जाते हैं।
8. मैदान मनुष्यों के रहने के लिए	वलित पर्वत हैं।

उपयुक्त शब्द रिक्त स्थान में भरिए :-

जब बहुत बड़ा भाग टूट जाता है तथा उर्ध्वाधर रूप से विस्थापित हो जाता है तब पर्वतों का निर्माण होता है। ऊपर उठे हुए खंड को तथा नीचे धंसे हुए खंडों को कहा जाता है।

उत्खंड	भ्रशोत्थ	द्रोणिका भ्रंश
--------	----------	----------------

Name _____

Roll No. _____

SA-II

कक्षा - छः

कार्यपत्र

नागरिक शास्त्र

नवम्बर 3

निम्नलिखित में से सही विकल्प चुनिए :-

1. नगर निगम के चुने हुए सदस्यों को कहते हैं।
(प्रधानमंत्री, पार्षद, पंच, सरपंच)
2. नगर निगम के चुनाव वर्ष में होते हैं।
(दस वर्ष, पांच वर्ष, सात वर्ष)
3. प्रत्येक वार्ड में कितने पार्षदों का चुनाव होता है।
(तीन, दो, एक, चार)
4. शहर विभिन्न में बँटा हुआ होता है।
(वार्डों, तहसीलों, पंचायतों)
5. नगर निगम के निर्णयों को लागू करने का कार्य करता है।
(आयुक्त तथा प्रशासनिक कर्मचारी, पार्षद, थानेदार)
6. नगर निगम को सम्पत्ति कर से कुल प्रतिशत आय होती है।
(15-20 प्रतिशत, 20-30 प्रतिशत, 25 से 30 प्रतिशत)
7. छोटे कस्बों का प्रशासन चलाती है।
(ग्राम पंचायत, नगर निगम, नगर पालिका)
8. वह राशि है जो लोग सरकार द्वारा उपलब्ध कराई गई सुविधाओं के लिए सरकार को देते हैं।
(धन, आय, कर (टैक्स), पैसा)

Name _____

Roll No. _____

SA-II

कक्षा - छः

कार्यपत्र

नागरिक शास्त्र

दिसम्बर 1

रिक्त स्थानों की पूर्ति कीजिए :-

1. रामलिंगम की खेती की जमीन एकड़ थी।
(10 एकड़, 20 एकड़, 30 एकड़)
2. नागालैंड के लोग खेती करते हैं।
(सीढ़ीनुमा, सपाट टुकड़ों पर)
3. समुद्रतटीय इलाकों में अधिकांश लोग का काम करते हैं।
(मछली पकड़ना, लकड़ी काटने)
4. चिजामी गाँव में रहने वाले लोग समुदाय के हैं।
(चखेसंग, कलपट्टू)
5. किसानों की आत्महत्या का मुख्य कारण का बोझ है।
(भूख, गरीबी, कर्ज)
6. पक्की दुकानों का लाइसेंस से प्राप्त होता है।
(पंचायत से, नगर निगम)
7. भारत में पांच हजार से अधिक शहर हैं और महानगर हैं।
(25, 26, 27)
8. बच्चू एक दिन में रुपये कमा लेता है। (50-100, 80-100)
9. बच्चू गाँव से आया था वह अपने दोस्तों के साथ के कमरे में रहता था। (किराये, निजी)

Name _____

Roll No. _____

SA-II

कक्षा - छः

कार्यपत्र

भूगोल

दिसम्बर 2

सही विकल्प को छांटकर वाक्यों को पूरा कीजिए :-

1. क्षेत्रफल की दृष्टि से भारत का सबसे बड़ा राज्य तथा सबसे छोटा राज्य है।

गोवा

राजस्थान

2. 2004 में द्वीप समूह को सुनामी ने प्रभावित किया था।

लक्षद्वीप

अडमान निकोबार

3. भारत को श्रीलंका से अलग करती है।

पाक जलसंधि

स्थलसंधि

4. भारत में राज्य तथा केन्द्रशासित प्रदेश हैं।

7

28

5. हिम+आलय का मतलब होता है

हिमालय

बर्फ का घर

6. भारत के पश्चिम में पूर्व में तथा दक्षिण में हिन्द महासागर है।

बंगाल की खाड़ी

अरब सागर

7. स्थल का वह भाग जो तीन तरफ से जल से घिरा होता है
कहलाता है।
महाद्वीप प्रायद्वीप
8. भारतीय महामरुस्थल भारत के भाग में स्थित है।
पूर्वी पश्चिमी
9. पश्चिम की तरफ से बहकर अरब सागर में गिरने वाली नदियाँ
तथा हैं।
गंगा यमुना नर्मदा तापी
10. सुनामी एक विशाल सागरीय तरंग है जो समुद्र तल पर के कारण
उत्पन्न होती है।
बाढ़ भूकंप

Name _____

Roll No. _____

SA-II

कक्षा - छः

कार्यपत्र

इतिहास

जनवरी 1

निम्न वाक्यों में सही विकल्प छाँटकर लिखिए :-

1. तमिल में बड़े भू-स्वामी को कहते हैं।
वेल्लला
ग्रामभोजक
2. सबसे पुराने सिक्के आहत सिक्के थे जो लगभग
1000 साल चले
500 साल चले
3. सात वाहनों का सबसे प्रमुख राजा था।
गौतमी पुत्र श्री सातकर्णी
कुषाण
4. रोम में काला सोना कहते थे।
काली मिर्च
दालचीनी
5. ईसाई धर्म के संस्थापक थे
ईसा मसीह
महावीर

निम्नलिखित गद्यांश को पढ़िए और अंत में लिखे प्रश्नों के उत्तर दीजिए-

सिल्क रूट पर नियंत्रण रखने वाले शासकों में सबसे प्रसिद्ध कुषाण थे। पेशावर और मथुरा इनके दो मुख्य शक्तिशाली केन्द्र थे। तक्षशिला भी इनके ही राज्य का हिस्सा था। इनके शासनकाल में ही सिल्क रूट की

एक शाखा मध्य एशिया से होकर सिन्धु नदी के मुहाने के पत्तनों तक जाती थी। इस उपमहाद्वीप में सबसे पहले सोने के सिक्के जारी करने वाले शासकों में कुषाण थे। सिल्क रूट पर यात्रा करने वाले व्यापारी इनका उपयोग किया करते थे।

1. सिल्क रूट पर नियंत्रण रखने वाले शासकों में सबसे प्रसिद्ध शासक कौन थे?
2. इसके मुख्य शक्तिशाली दो केन्द्र कौन-कौन से थे?
3. कुषाण शासकों ने सबसे पहले कैसे सिक्के जारी किए?

Name _____

Roll No. _____

SA-II

कक्षा - छः

कार्यपत्र

भूगोल

जनवरी 2

वाक्यों को पूरा कीजिए :-

खारे पानी सदाबहार वन	मौसिनराम जलवायु	मानूसनी वन शुष्क भागों	तापमान प्राकृतिक वनस्पति
-------------------------	--------------------	---------------------------	-----------------------------

1. किसी स्थान पर अनेक वर्षों में मापी गई मौसम की औसत दशा को कहते हैं।
2. घास, झाड़ियाँ तथा पौधे जो बिना मनुष्य की सहायता से उपजते हैं उन्हें कहा जाता है।
3. विश्व में सबसे अधिक वर्षा में होती है।
4. मैंग्रोव वन में भी रह सकते हैं।
5. उष्ण कटिबंधीय वर्षा वन को कहा जाता है।
6. ऊँचाई बढ़ने के साथ-साथ में कमी आती रहती है।
7. कटीली झाड़ियों की वनस्पतियाँ देश के में पाई जाती है।
8. उष्ण कटिबंधीय पतझड़ वनों को कहा जाता है।

9. कालम (क) और (ख) का मिलान कीजिए :

क	ख
A गर्म स्थान	मुम्बई तथा कोलकाता
B मध्यम जलवायु	जम्मू तथा कश्मीर के द्रास एवं कारगिल
C बर्फीली ठंड	राजस्थान के मरुस्थल जैसलमेर
D मौसम	वायुमंडल में दिन-प्रतिदिन होने वाला परिवर्तन

10. अगर किसी वर्ष मानसूनी वर्षा कम हो या नहीं हो तो क्या होगा सही उत्तर पर चिन्ह (✓) लगाओ।

1. फसल	प्रभावित होगी / नहीं होगी
2. कुए के पानी का स्तर	ऊपर जाएगा / नीचे चला जाएगा
3. गर्मी का मौसम	लम्बा होगा / छोटा होगा

DIRECTORATE OF EDUCATION
Govt. of NCT of Delhi

WORKSHEETS

FOR THE SESSION : 2012 - 2013

SOCIAL SCIENCE

Class : VI

Under the guidance of :

Dr. SUNITA S. KAUSHIK

Addl. DE (School/Exam)

Coordination by :

KRISHAN GOPAL

Vice Principal

Prepared by :

Ms. POONAM TYAGI
TGT (S.St.)

Govt. Girls Sr. Sec. School
Begumpur, Delhi

Ms. ANITA SHARMA
TGT (S.St.)

Govt. Girls Sr. Sec. School
Begumpur, Delhi