

ورک شیٹ-1

کلاس-VI

جغرافیہ

1- درج ذیل الفاظ کی مدد سے جملوں کو مکمل کیجیے۔

شہاب ثاقب، قطب تارا، پورنیا، 27 دن، سپت رشی (دب اصغر)، 8 منٹ، روشنی، حرارت، سورج، 15 کروڑ، آکاش گنگا، جی-آئنڈ

- (i) کا مطلب ارض نما یعنی زمین جیسی شکل ہے۔
- (ii) پورے چاند والی رات کو..... کہتے ہیں۔
- (iii) سورج کے چاروں طرف چکر لگانے والے پتھروں کے چھوٹے ٹکڑوں کو..... کہتے ہیں۔
- (iv) سات ستاروں کا مجموعہ..... کہلاتا ہے۔
- (v) سورج کی روشنی کو زمین پر پہنچنے میں..... لگتے ہیں۔
- (vi) شمال کی سمت میں نظر آنے والے ستارہ کو..... کہتے ہیں۔
- (vii) کچھ فلکی اجسام میں..... اور..... نہیں ہوتی۔
- (viii) چاند زمین کا ایک چکر..... میں مکمل کر لیتا ہے۔
- (ix) زمین، روشنی اور حرارت..... سے حاصل کرتی ہے۔
- (x) سورج اور زمین کے درمیان کا فاصلہ..... کلومیٹر ہے۔
- (xi) لاکھوں ستاروں کے مجموعہ پر مشتمل دو دھیا پٹی کو..... کہتے ہیں۔

ورک شیٹ-2

کلاس-VI

تاریخ

- 1- درج ذیل سوالوں میں صحیح متبادل کا انتخاب کیجیے۔
- (i) سب سے پہلے کس جانور کو پالتو بنایا گیا؟
..... (کتا/گھوڑا)
- (ii) سب سے پہلے اگائی جانے والی دو فصلیں
..... (جوار، چاول/گیہوں، جو)
- (iii) بڑا غنسل خانہ ہڑپا تہذیب کے کس شہر میں دریافت ہوا؟
..... (موہن جوڈڑو/لوٹھل)
- (iv) ہڑپا تہذیب میں تول کے بانٹ کس پتھر کے بنے تھے؟
..... (لال پتھر/پتھر چھمق پتھر)

2- درج ذیل کالموں کو ملائیے۔

کالم-A	کالم-B
(i) تانبہ	گجرات
(ii) سونا	افغانستان
(iii) ٹن	راجستھان
(iv) بیش قیمت پتھر	کرناٹک

3- درج ذیل میں صحیح اور غلط بیان کی نشاندہی کیجیے۔

- (i) ہلور میں جوار باجرہ ملا ہے۔ ()
- (ii) برزہوم میں لوگ مستطیل نما گھروں میں رہتے تھے۔ ()
- (iii) چرانڈ، کشمیر کا ایک آثار قدیمہ ہے۔ ()
- (iv) جیڈائٹ، جو داؤد جلی ہیڈنگ سے ملا ہے، چین سے لایا گیا ہوگا۔ ()

ورک شیٹ-3

کلاس-VI

جغرافیہ

1- درج ذیل سوالوں میں صحیح متبادل کا انتخاب کیجیے۔

(i) ہندوستان کا معیاری راس..... ہے۔

($0^{\circ}/82^{\circ}30'$)

(ii) شمالی قطب اور جنوبی قطب کو جوڑنے والے حوالے کے خطوط..... کہلاتے ہیں۔

(طول البلد/عرض البلد)

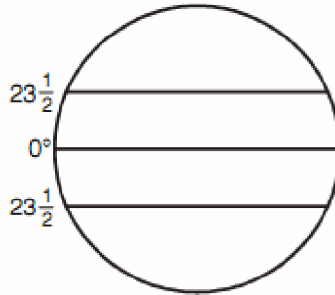
(iii) جب ہندوستان میں شام کے 7.30 بجے ہوں تو لندن میں دوپہر کے 2 بجے کا وقت ہوتا ہے۔ ہندوستان اور انگلینڈ کے درمیان وقت کا فرق کیا ہے؟

(5.30 گھنٹے/9.30 گھنٹے)

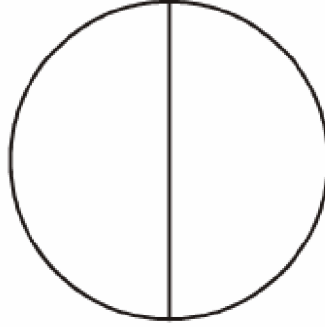
(iv) دوپہر کے وقت سایہ..... اور طلوع وغروب آفتاب کے وقت..... ہوتا ہے۔

(سب سے لمبا/سب سے چھوٹا)

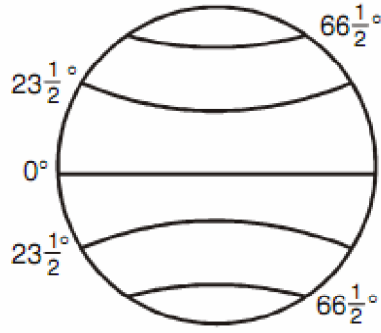
2- درج ذیل شکل میں تینوں خطوط کے نام لکھیے۔



3- درج ذیل شکل میں دونوں قطبین کو ملانے والے خط کا نام لکھیے۔



4- درج ذیل شکل میں حرارتی منطقوں کے نام لکھیے۔



رول نمبر.....

نام:.....

[سوشل سائنس: SA-I]

ورک شیٹ-4

کلاس-VI

تاریخ

1- جنگ میں قیدی بنائے گئے لوگ:

..... (دسیو/آریہ)

2- رگ وید کی ویدک دعاؤں کے تخلیق کار کون ہیں؟

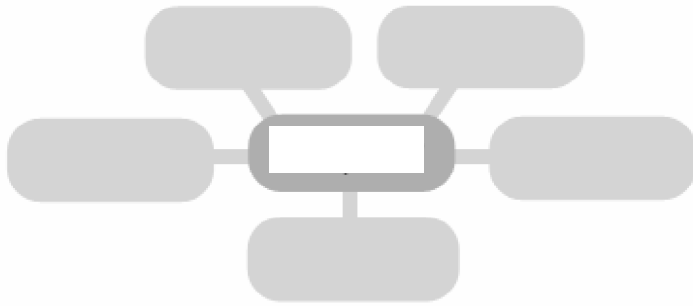
..... (رشی/دیوتا)

3- سنگھ لفظ کا استعمال کس کے لیے ہوتا تھا؟

..... (مجلس یا تنظیم/ریاست)

4- نیچے دیے ہوئے الفاظ کو درج ذیل خانوں میں بھریے۔

شکاری- ذخیرہ اندوز- کسان- تاجر- دست کار- مویشی پالنے والے



-5

درج ذیل میں صحیح اور غلط بیانات کی نشاندہی کیجیے۔

(i) اشومیدہ کے گھوڑے کو اپنی ریاست سے گزرنے کی آزادی دینے والے راجاؤں کو قربانی میں مدعو کیا جاتا تھا۔

()

(ii) راجا کے اوپر سار تھی متبرک پانی چھڑکتا تھا۔

()

(iii) ماہرین آثر قدیمہ کو جن پدوں کی بستوں میں محلات ملے ہیں۔

()

(iv) منقش خاکستر برتنوں میں اناج رکھا جاتا تھا۔

()

(v) مہاجن پدوں میں بہت سے شہر قلعہ کے حصار میں تھے۔

()

ورک شیٹ-5

کلاس-VI

علم شہریت

- 1- ہندوستان بہت سی.....کا ملک ہے۔
- (a) مذہبوں
(b) زبانوں
(c) تہواروں
(d) تنوعات
- 2- عدم مساوت کی مثال ہے
- (a) مختلف مذہب
(b) امیری-غریبی
(c) مختلف ثقافتیں
(d) مختلف ذاتیں
- 3-.....میں گیتوں اور گانوں کی مالا مال روایت چلی آ رہی ہے۔
- (a) لداخ
(b) کیرل
(c) تمل ناڈو
(d) تبت
- 4- 'کیسر کا قصہ' کہاں مشہور ہے؟
- (a) کیرل
(b) راجستھان
(c) لداخ
(d) تمل ناڈو
- 5- 'چینی چٹی' کیا ہے؟
- (a) مچھلی پکڑنے کا جال
(b) چینی جال
(c) اہم غذا
(d) مچھلی تلنے کا برتن
- 6- پنڈت جواہر لال نہرو نے کتاب لکھی:
- (a) پنچ تنتر
(b) بھارت کی کھوج
(c) گودان
(d) میگھدوت

7- 'اونم' کہاں منایا جاتا ہے؟

- (a) جموں کشمیر میں
(b) کیرل میں
(c) بنگال میں
(d) راجستھان میں

8- عربی اور یہودی تاجر سب سے پہلے کہاں آئے تھے؟

- (a) کیرل
(b) اڑیسہ
(c) کرناٹک
(d) لداخ

9- ڈاکٹر بھیم راؤ امبیڈکر کون تھے؟

- (a) صدر جمہوریہ
(b) وزیر اعلیٰ
(c) بابائے آئین
(d) وزیر اعظم

10- 'معذور' لفظ کی جگہ آج کس لفظ کا استعمال ہونے لگا ہے؟

- (a) مخصوص خیالات والا
(b) عام اسکول میں پڑھنے والا
(c) خاص ضرورت کا حامل
(d) مخصوص کام کو انجام دینے والا

ورک شیٹ-6

کلاس-VI

جغرافیہ

صحیح متبادل کا انتخاب کیجیے۔

- 1- سال کبیہ (Leap Year) میں کتنے دن ہوتے ہیں؟
- (a) 365 (b) 366
(c) 360 (d) 361
- 2- 21 جون کو ان علاقوں میں سب سے لمبا دن اور سب سے لمبی رات ہوتی ہے۔ زمین کی اس حالت کو..... کہتے ہیں۔
- (a) گرمائی راس السرطان (b) سرمائی راس السرطان
(c) نقطہ اعتدال (d) جنوبی نصف کرہ
- 3- زمین اپنے محور پر ایک چکر پورا کرنے میں..... کا وقت لیتی ہے۔
- (a) 24 گھنٹے (b) $365\frac{1}{4}$ دن
(c) ایک سال (d) ایک مہینہ
- 4- زمین اگر گردش نہ کرے تو سورج کی طرف والے زمین کے حصے میں ہمیشہ..... ہوگا۔
- (a) رات کا وقت (b) دن کا وقت
(c) سردی کا موسم (d) گرمی کا موسم
- 5- گرمی میں کرسمس کا تہوار کہاں منایا جاتا ہے؟
- (a) آسٹریلیا (b) جاپان
(c) ہندوستان (d) بنگلہ دیش
- 6- زمین کا اپنے محور پر گھومنا..... کہلاتا ہے۔
- (a) محوری گردش (b) مداری گردش
(c) مدار (d) نقطہ اعتدال

- 7- زمین کی محوری گردش کی وجہ سے.....
- (a) دن اور رات بنتے ہیں
(b) سردی اور گرمی پڑتی ہے
(c) موسم بدلتے ہیں
(d) چاند اور سورج نکلتے ہیں

- 8- زمین کی مدار کی گردش کی وجہ سے.....
- (a) دن اور رات بنتے ہیں
(b) سردی اور گرمی پڑتی ہے
(c) موسم بدلتے ہیں
(d) چاند اور سورج نکلتے ہیں

9- کس مہینے میں دن اور رات تقریباً مساوی (برابر) ہوتے ہیں؟

- (a) جون
(b) ستمبر
(c) دسمبر
(d) مارچ

10- لونڈ (لیپ) کے سال میں کس مہینے میں ایک دن زیادہ ہوتا ہے؟

- (a) جون
(b) ستمبر
(c) دسمبر
(d) فروری

ورک شیٹ-7

کلاس-VI

تاریخ

درج ذیل میں سے مناسب الفاظ کا انتخاب کر کے خالی جگہوں کو پُر کیجیے۔

قلمی نسخہ - انڈس - سون - پام - گدھ

- 1- گنگا کی معاون ندی..... ہے۔
- 2- دستاویز..... کے پتوں پر لکھے جاتے تھے۔
- 3-..... ریاست گنگا کے جنوب میں واقع ہے۔
- 4- ہاتھ سے لکھی ہوئی کتابوں کو..... کہا جاتا ہے۔
- 5- لفظ انڈیا..... سے ماخوذ ہے۔
- 6- درج ذیل سوالوں کے دو جوابات دیے ہوئے ہیں۔ صحیح جواب کا انتخاب کیجیے اور دی ہوئی جگہ میں لکھیے۔

(i) جس عہد میں ہمیں ماحولیاتی تبدیلیوں کا سراغ ملتا ہے اسے

— قدیم حجری عہد کہتے ہیں

— وسطی پتھر کا عہد کہتے ہیں۔

(ii) بھیم پوٹکا کہاں واقع ہے؟

— آندھرا پردیش

— مدھیہ پردیش

7- مندرجہ ذیل کالموں کا ملان کیجیے۔

کالم-B

پہلی وسیع حکومت

شکار اور ذخیرہ اندوزی

تقریباً 2500 سال قبل کے شہر

ابتدائی زراعت

پہلے شہر

کالم-A

وادی نرمدا

مگدھ

گارو پہاڑیاں

سندھ اور اس کی معاون ندیاں

وادی گنگا

ورک شیٹ-8

کلاس-VI

علم شہریت

صحیح متبادل کا انتخاب کیجیے۔

- 1- حکومت..... سطحوں پر کام کرتی ہے۔
(a) تین
(b) دو
(c) چار
- 2- گاڑی چلانے والے کے پاس..... ہونا چاہیے۔
(a) لائسنس
(b) پاسپورٹ
(c) راشن کارڈ
- 3- شہنشاہیت میں فیصلہ لینے اور حکومت چلانے کا اختیار..... کے پاس ہوتا ہے۔
(a) بادشاہ یا ملکہ
(b) عوام
(c) شہری
- 4- جمہوریت میں لوگوں کو..... دینے کا حق حاصل ہے۔
(a) دولت
(b) ووٹ
(c) تعلیم
- 5- امریکہ میں عورتوں کو ووٹ دینے کا حق..... میں حاصل ہوا۔
(a) 1910
(b) 1920
(c) 1930
- 6- 'سفر تاج' کا کیا مطلب ہے؟
(a) ووٹ دینے کا حق
(b) اسکول جانے کا حق
(c) انتخابات میں حصہ لینے کا حق

7- جنوبی افریقہ ایک ایسا ملک ہے جہاں..... کے لوگ رہتے ہیں۔

(a) ایک نسل ک

(b) کئی نسلوں

(c) تین نسلوں

8- جنوبی افریقہ کی پارٹی افریقی نیشنل کانگریس کے لیڈر..... تھے۔

(a) مہاتما گاندھی

(b) نیلسن منڈیلا

(c) ہیکٹر ٹڈلوو

9- ہندوستان میں انتخابات..... میں ایک مرتبہ ہوتے ہیں۔

(a) تین سال

(b) چار سال

(c) پانچ سال

10- کرناٹک کا..... کا ویری ندی پر واقع ہے۔

(a) کرشنا ساگر باندھ

(b) بھاگڑا باندھ

(c) مٹر و باندھ

11- جمہوریت میں حکومت..... کے تئیں جوابدہ ہوتی ہے۔

(a) عوام

(b) وزیر اعظم

(c) صدر جمہوریہ

ورک شیٹ-9

کلاس-VI

جغرافیہ

1- ان رنگوں کا استعمال نقشے میں کیا ظاہر کرتا ہے؟ ملان کیجیے۔

کالم-A کالم-B

کٹھی رنگ پٹھار (پلیٹو)

پیلارنگ میدان

ہرارنگ آبی مخازن

نیلارنگ پہاڑ

2- صحیح لفظ کا انتخاب کر کے خالی جگہوں کو پر کیجیے۔

ایٹلس — شمال جنوب — چھوٹا پیمانہ — بڑا پیمانہ — قطب نما — پلان

(i) جب بہت سے نقشوں کو ایک ساتھ رکھ دیا جاتا ہے تو..... بن جاتا ہے۔

(ii) بڑا پیمانہ استعمال کر کے کسی چھوٹے علاقے کی بنائی جانے والی ڈرائنگ..... کہلاتی ہے۔

(iii)..... کی مدد سے سمت معلوم کی جاسکتی ہے۔

(iv) قطب نما کی سوئی ہمیشہ..... کی سمت میں اشارہ کرتی ہے۔

(v) بڑے رقبے والے علاقوں پر..... کا استعمال ہوتا ہے۔

(vi) چھوٹے رقبے والے علاقوں پر..... کا استعمال ہوتا ہے۔

3- نقشے کے تین اجزاء کے نام لکھیے۔

..... (i)

..... (ii)

..... (iii)

4- مخصوص اطلاع فراہم کرنے والے نقشوں کو کس نام سے جانا جاتا ہے؟

طبیعی نقشہ ، موضوعاتی نقشہ ، سیاسی نقشہ

.....

5- درج ذیل روایتی علامتیں کیا ظاہر کرتی ہیں؟

1. ++++++

2. ==

3. ::::

4. ○

5. ==

6. P.T.O.

ورک شیٹ-10

کلاس-VI

تاریخ

- 1- بدھ نے اپنی پہلی تعلیم کشی نگر میں دی۔ ()
- 2- مہاویر نے جین مذہب کی بنیاد رکھی۔ ()
- 3- بدھ نے جانوروں کی قربانی کو فروغ دیا۔ ()
- 4- گوتم بدھ اور مہاویر نے اپنی تعلیم سنسکرت زبان میں دی۔ ()
- 5- اشوک نے دھم کی کھوج کی۔ ()
- 6- کلنگ کا قدیم نام پٹنہ تھا۔ ()
- 7- مور یہ سلطنت کی ابتدا 2300 سال قبل ہوئی تھی۔ ()
- 8- مناسب لفظ کی مدد سے خالی جگہوں کو پر کیجیے۔

پناہ گاہ ہیں — سارناتھ — گوتم بدھ — چندر گپت — ٹیکس

- (i) بدھ مذہب کے بانی..... تھے۔
- (ii) وہاں بودھ راہوں کی..... تھیں۔
- (iii) مہاتما بدھ نے اپنی پہلی تعلیم..... میں دی۔

(iv) جہاں پر شہنشاہوں کی براہ راست حکومت تھی وہاں افسران..... وصول کرتے تھے۔

(v) مور یہ سلطنت کی بنیاد..... نے رکھی۔

9- صحیح متبادل کا انتخاب کیجیے۔

(i) 'ارتھ سٹریٹز' نامی کتاب کے مصنف کون تھے؟

چانکیہ ، چندر گپت

.....

(ii) بدھ نے علم حاصل کیا۔

بودھ گیا ، کلنگ

.....

ورک شیٹ-11

کلاس-VI

جغرافیہ

1- دیے ہوئے الفاظ میں سے صحیح لفظ کا انتخاب کر کے خالی جگہوں کو پر کیجیے۔

کرہ حجری	بحری طاس	ماؤنٹ ایوریسٹ	آسٹریلیا	کرہ بادیا فضائی کرہ
خاکنائے	افریقہ	صحارا ریگستان	8848 میٹر	حیاتیاتی کرہ
	ہندوستان	بحر اوقیانوس	براعظم	یوریشیا

- (i) خشکی کے بڑے بڑے ٹکڑے..... کہلاتے ہیں۔
- (ii) زمین کے ٹھوس حصہ کو..... کہا جاتا ہے۔
- (iii) دنیا کی سب سے اونچی چوٹی..... ہے۔
- (iv)..... کو جزیرائی براعظم بھی کہتے ہیں۔
- (v)..... ایک ایسا براعظم ہے جہاں سے خط سرطان، خط استوا اور خط جدی تینوں گزرتے ہیں۔
- (vi) بحر ہند کا نام..... کے نام پر رکھا گیا ہے۔
- (vii)..... انگریزی کے S حرف کی شکل کا ہے۔
- (viii) یورپ اور ایشیا کے مشترک زمینی حصے کو..... کہتے ہیں۔

- (ix) شمالی امریکہ جنوبی امریکہ سے ایک پتلے..... سے جڑا ہوا ہے۔
- (x) ماؤنٹ ایوریسٹ کی اونچائی..... ہے۔
- (xi) ہماری زمین چاروں طرف سے گیسوں کی ایک پرت سے گھری ہوئی ہے۔ اس پرت کو..... کہتے ہیں۔
- (xii)..... ایک ایسا پتلا خطہ ہے جہاں ہوا، پانی اور خشکی ایک دوسرے کے ربط میں آتے ہیں۔
- (xiii) دنیا کا سب سے گرم ریگستان..... ہے۔
- (xiv) بڑے بڑے آبی مخازن..... کہلاتے ہیں۔

ورک شیٹ-12

کلاس-VI

علم شہریت

1- درج ذیل میں صحیح متبادل کا انتخاب کیجیے۔

(i) گرام سبھا کا ممبر بننے کے لیے امیدوار کی عمر..... سال یا اس سے زیادہ ہونی چاہیے۔

(a) 17 (b) 18

(c) 19 (d) 20

(ii) گرام سبھا کے تمام ممبر ایک..... بھی منتخب کرتے ہیں۔

(a) وزیراعظم (b) سرینچ

(c) وزیرتعلیم (d)

(iii) گرام پنچایت کے سکریٹری کی تقرری..... کرتی ہے۔

(a) حکومت (b) عوام

(c) گرام سبھا (d) گرام پنچایت

2- خالی جگہوں کو پر کیجیے۔

(i) لوگ چوری، لڑائی جھگڑے وغیرہ کی شکایت..... میں درج کرا سکتے ہیں۔

(اسکول/پولیس اسٹیشن/اسپتال)

(ii) زمین کی پیمائش اور اس کا ریکارڈ رکھنا..... کی ذمہ داری ہے۔

(پٹواری/پراپرٹی ڈیلر/کلکٹر)

(iii) پٹواری زمین ناپنے کے لیے لوہے کی جس زنجیر کا استعمال کرتے ہیں اسے.....کہتے ہیں۔

(نظیر/ضریب)

(iv) پٹواری زمین کے نقشے اور اطلاعات کے ریکارڈ رکھتے ہیں۔ اسے.....کہتے ہیں۔

(خسرہ/قانون گو)

(v) پٹواری کے کاموں کی نگرانی.....کرتا ہے۔

(تھانے دار/تخصیل دار)

(vi) طلباء کو ذات سے متعلق سرٹیفکیٹ.....جاری کرتا ہے۔

(پٹواری/تھانے دار/تخصیل در)

ورک شیٹ-13

کلاس-VI

تاریخ

صحیح جواب کا انتخاب کیجیے۔

-1

(i) سمدرگپت کی پرشستی شاعر ہری شین کے ذریعے..... زبان میں لکھی گئی۔

(سنسکرت/پالی)

(ii) راجہ..... نے 1400 سال قبل حکومت کی تھی۔

(ہرش وردھن/سمدرگپت)

(iii) سنسکرت راماین کے مصنف..... ہیں۔

(والمیکی/آریہ بھٹ)

(iv) مندروں کے سب سے اہم حصہ کا نام..... ہے۔

(گر بھگرہ/شکھر)

(v) پران کس زبان میں لکھے گئے.....

(ہندی/سلیس سنسکرت)

مناسب الفاظ کی مدد سے خالی جگہوں کو پر کیجیے۔

-2

مہرولی — آریہ بھٹ — صفر — کائی لون — ٹیلہ

(i) استوپ کے لفظی معنی ہیں.....

(ii) ہندوستان کے ریاضی دانوں نے..... کے لیے ایک نئی علامت ایجاد کی۔

(iii) کانڈکی ایجاد 1900 سال قبل..... نامی شخص نے چین میں کی تھی۔

(iv)..... ایک عظیم ریاضی داں تھے۔

(v)..... کے اہنی ستون میں آج تک زنگ نہیں لگا۔

3- مندرجہ ذیل کالموں کو ملائیے۔

کالم-A

استوپ

شکھر

منڈپ

گر بھ گرہ

پردکشنا پتھ

کالم-B

دیوی دیوتاؤں کی مورقی نصب کرنے کا مقام

ٹیلہ

استوپ کے چاروں طرف گول راستہ

مندر میں لوگوں کے جمع ہونے کی جگہ

گر بھ گرہ کے اوپر لمبائی میں کی گئی تعمیر

ورک شیٹ-14

کلاس-VI

جغرافیہ

1- مندرجہ ذیل کالموں کو ملائیے۔

کالم-B	کالم-A
ذخیرہ گھر ہوتے ہیں	(i) بعض پہاڑوں میں برف کی ندیاں ہوتی ہیں
تبت کا پٹھار ہے	(ii) پہاڑ پانی کے
گلیشیر	(iii) دنیا کا سب سے اونچا پٹھار
ملک کا سب سے زیادہ آبادی والا علاقہ ہے	(iv) ہندوستان میں گنگا کا میدان
ٹھنڈی ہوتی جاتی ہے	(v) ہندوستان کے چھوٹے ناگپور کے پٹھار میں
سب سے کارآمد علاقے ہوتے ہیں	(vi) جیسے جیسے آپ اوپر جائیں گے آب دہوا
لوہا، کوئلہ، مینکنیز کے پٹھار پائے جاتے ہیں	(vii) ہماچل اور آپس
لہریں دار پہاڑ	(viii) میدان انسانی آباد کاری کے لیے

2- خالی جگہوں کو مناسب لفظ کی مدد سے پر کیجیے۔

گرا بن ہار سٹ بلاک

جب بہت بڑے علاقے میں ٹوٹ پھوٹ ہو جاتی ہے اور یہ علاقے عمودی طور پر اوپر کی طرف اٹھ جاتے ہیں تب.....

پہاڑوں کی تشکیل ہوتی ہے۔ اوپر اٹھ جانے والے بلاک کو..... اور نیچے والے بلاک کو.....

کہتے ہیں۔

ورک شیٹ-15

کلاس-VI

علم شہریت

- مندرجہ ذیل خالی جگہوں کو مناسب لفظ/ الفاظ کی مدد سے پر کیجیے۔
- 1- میونسپل کارپوریشن میں منتخب ممبروں کو..... کہا جاتا ہے۔
(وزیراعظم/کونسلر/میئر/سرپنچ)
- 2- میونسپل کارپوریشن کے انتخاب..... سال میں ہوتے ہیں۔
(دس/پانچ/سات)
- 3- ہر ایک وارڈ میں..... کونسلر منتخب کیے جاتے ہیں؟
(تین/دو/ایک/چار)
- 4- شہر کو مختلف..... میں بانٹا جاتا ہے۔
(وارڈوں/تحصیلوں/پنچایتوں)
- 5- میونسپل کارپوریشن کے فیصلوں کو عملی جامہ پہنانے کا کام..... کرتا ہے۔
(کمشنر اور انتظامی عملہ/کونسلر/تھانے دار)
- 6- میونسپل کارپوریشن کو جائیداد ٹیکس سے کل..... فیصد آمدنی ہوتی ہے۔
(15 تا 20 / 20 تا 30 / 25 تا 30)
- 7- چھوٹے قصبوں کا انتظام و بندوبست..... کرتا ہے۔
(گرام پنچایت/میونسپل کارپوریشن/نگر پارلیکا)
- 8- وہ رقم ہے جو لوگ حکومت کو اس کے ذریعے فراہم کی جانے والی خدمات کے لیے ادا کرتے ہیں۔
(زر/ٹیکس/آمدنی/پیسہ)

ورک شیٹ-16

کلاس-VI

علم شہریت

- 1- مندرجہ ذیل خالی جگہوں کو مناسب لفظ/ الفاظ کی مدد سے پُر کیجیے۔
راما لنگم کی کھیتی کی زمین..... ایکڑ تھی۔
(دس/ بیس/ تیس)
- 2- ناگالینڈ کے لوگ..... کھیتی کرتے ہیں۔
(سیڑھی نما/ سپاٹ ٹکڑوں پر)
- 3- ساحلی علاقوں میں رہنے والے زیادہ تر لوگ..... کا کام کرتے ہیں۔
(مچھلی پکڑنے/ لکڑی کاٹنے)
- 4- چرائی گاؤں میں رہنے والے لوگ..... فرقہ سے تعلق رکھتے ہیں۔
(چھا کے سانگ/ کلپو)
- 5- کسانوں کی خودکشی کی اہم وجہ..... کا بوجھ ہے۔
(بھوک/ غریبی/ قرض)
- 6- پکی دکانوں کا لائسنس..... سے حاصل ہوتا ہے۔
(پنچایت/ میونسپل کارپوریشن)
- 7- ہندوستان میں پانچ ہزار سے زیادہ شہر اور..... بڑے شہر ہیں۔
(پچیس/ چھیس/ ستائیس)
- 8- بچو ایک دن میں..... روپے کمالیتا ہے۔
(80-100، 50-100)
- 9- بچو گاؤں سے آیا تھا وہ اپنے دوستوں کے ساتھ..... کمرہ میں رہتا تھا۔
(کرائے کے/ انجی)

ورک شیٹ-17

کلاس-VI

جغرافیہ

صحیح متبادل کا انتخاب کیجیے اور جملوں کو مکمل کیجیے۔

- 1- رقبے کے اعتبار سے ہندوستان کا سب سے بڑا صوبہ..... ہے۔
(راجستھان/ اتر پردیش)
- 2- رقبے کے اعتبار سے ہندوستان کا سب سے چھوٹا صوبہ..... ہے۔
(ہریانہ/ گوا)
- 3- 2004 میں..... جزائر کو سونامی نے متاثر کیا تھا۔
(لکشدریپ/ انڈمان نکوبار)
- 4-..... ہندوستان کو سری لنکا سے الگ کرتی ہے۔
(آبنائے پاک/ خط جدی)
- 5- ہندوستان میں..... صوبے اور..... مرکز کے زیر انتظام علاقے ہیں۔
(28/7)
- 6- ہم + آلیہ کا مطلب ہے.....
(ہمالیہ/ برف کا گھر)

- 7- ہندوستان کے مغرب میں..... مشرق میں..... اور جنوب میں بحر ہند ہے۔
(خلیج بنگال/بحیرہ عرب)
- 8- زمین کا وہ حصہ جو تینجا نب سے پانی سے گھرا ہوتا ہے..... کہلاتا ہے۔
(برا عظم/جزیرہ)
- 9- عظیم ہندوستانی ریگستان ہندوستان کے..... حصے میں واقع ہے۔
(مشرقی/مغربی)
- 10- مغرب کی سمت بہنے والی اور بحیرہ عرب میں گرنے والی ندیاں..... اور..... ہیں۔
(گنگا، جمنا/نرمدا، تاپی)
- 11- سونامی ایک زبردست لہر کو کہتے ہیں جو سمندر کی تہ میں آئے..... کی وجہ سے پیدا ہوتی ہے۔
(سیلاب/زلزلے)

ورک شیٹ-18

کلاس-VI

تاریخ

صحیح متبادل کا انتخاب کیجیے اور جملوں کو مکمل کیجیے۔

- 1- تامل علاقے میں بڑے زمینداروں کو..... کہا جاتا ہے۔
(ویلا لرا/گرام بھوجک)
- 2- سب سے قدیم سکے گود کر بنائے گئے تھے جو تقریباً..... سال چلے۔
(500/1000)
- 3- سات واہنوں کا سب سے اہم بادشاہ..... تھا۔
(گوتمی پتر شری ست کرنی/کشان)
- 4- روم میں..... کو کالا سونا کہا جاتا ہے۔
(سیاہ مرچ/دارچینی)
- 5-..... عیسائی مذہب کے بانی تھے۔
(عیسیٰ مسیح/مہاویر)

مندرجہ ذیل اقتباس کو پڑھیے اور دیے ہوئے سوالوں کے جواب لکھیے۔
سلک روٹ پت کنٹرل رکھنے والے حکمرانوں میں سب سے مشہور کشان تھے۔ پیشاور اور متھر ان کے اقتدار کے دو خاص مرکز تھے۔
تکشا بھی ان کی ہی سلطنت کا ایک حصہ تھا۔ ان کے عہد حکومت میں ہی سلک روٹ کی ایک شاخ وسط ایشیا سے گزر کر دریائے سندھ
کے دہانے کی بندرگاہ تک جاتی تھی۔ اس برصغیر میں سب سے پہلے سونے کے سکے جاری کرنے والے حکمرانوں میں کشان تھے۔ سلک
روٹ پر سفر کرنے والے تاجران کا استعمال کیا کرتے تھے۔

سوالات:

- (i) سلک روٹ پر کنٹرول رکھنے والے حکمرانوں میں سب سے مشہور کون تھے؟
- (ii) ان کے اقتدار کے دو خاص مرکز کون کون سے تھے؟
- (iii) کشان حکمرانوں نے سب سے پہلے کس طرح کے سکے جاری کیے؟

ورک شیٹ-19

کلاس-VI

جغرافیہ

(A) دیئے ہوئے الفاظ میں سے مناسب لفظ کا انتخاب کر کے جملوں کو مکمل کیجیے۔

کھارے پانی	موسینرام	مانسونی جنگلات	درجہ حرارت
سدا بہار جنگلات	آب و ہوا	خشک حصوں	قدرتی نباتات

- 1- کسی جگہ کے موسم کے مختلف عناصر کے بارے میں متعدد سالوں تک ریکارڈ کرنے کے بعد اس جگہ کے موسمی حالات کو وہاں کی.....
.....کہتے ہیں۔
- 2- گھاس، جھاڑیاں اور پودے جو انسان کی مدد کے بغیر ہی اگتے ہیں.....کہلاتے ہیں۔
- 3- دنیا میں سب سے زیادہ بارش.....میں ہوتی ہے۔
- 4- چمرنگ کے جنگلات.....میں ہی زندہ رہ سکتے ہیں۔
- 5- ٹراپیکل بارانی جنگلات کو.....کہا جاتا ہے۔
- 6- اونچائی بڑھنے کے ساتھ ساتھ.....کم ہوتا جاتا ہے۔
- 7- کانٹے دار جھاڑیاں ملک کے.....میں پائی جاتی ہیں۔
- 8- ٹراپیکل پت جھڑوالے جنگلات کو.....کہا جاتا ہے۔

(B) درج ذیل کالموں کو ملائیے۔

کالم-B	کالم-A
ممبئی اور کولکاتا	(i) گرم علاقے
جموں و کشمیر میں دراس اور کارگل	(ii) معتدل آب و ہوا
راجستھان، کارگیستان، جیسلمیر	(iii) برقی ٹھنڈ
فضا میں ہونے والی روزمرہ کی تبدیلیاں	(iv) موسم

(C) اگر کسی سال مانسون کمزور پڑ جائے یا آئے ہی نہیں تو کیا ہوگا؟ صحیح جواب پر نشان لگائیے۔

متاثر ہوگی / غیر متاثر ہوگی	زراعت
اوپر نیچے ہو جائے گی۔	کنوؤں میں پانی کی سطح
لمبا ہوگا / چھوٹا ہوگا	گرمی کا موسم