

Name _____

Roll No. _____

SA-I

कक्षा - सात

कार्यपत्र

भूगोल

अप्रैल 1

उपयुक्त शब्द भरिए :-

1. भूमि, जल, वायु, पेड़, पौधे एवं जन्तु मिलकर पर्यावरण बनाते हैं।
(प्राकृतिक/अप्राकृतिक)
2. पृथ्वी के चारों ओर फैली वायु की पतली परत को कहते हैं।
(वायुमंडल / स्थलमंडल)
3. प्रत्येक वर्ष को विश्व पर्यावरण दिवस मनाया जाता है।
(8 जून / 5 जून)
4. सौरमंडल में ही ऐसा ग्रह है जहाँ जीवन पाया जाता है।
(पृथ्वी / मंगल)

सही (✓) उत्तर चिन्हित कीजिए।

1. कौन सा मानव निर्मित पर्यावरण है।
(क) पुल (ख) पानी (ग) हिमालय

2. गर्मी में हम क्या खाना पसंद करते हैं?
(क) मूंगफली (ख) रसीला तरबूज (ग) गर्म पकौड़े
3. स्थलमंडल में हम किसे शामिल नहीं करते?
(क) पर्पटी (ख) घाटी (ग) वायु
4. वस्तुओं की अदला-बदली का व्यापार जिसमें धन का प्रयोग नहीं होता।
(क) आयात (ख) वस्तु-विनिमय पद्धति
(ग) निर्यात
5. निम्नलिखित में कौन-सा मानव-निर्मित पर्यावरण है?
(क) सड़क (ख) समुद्र (ग) पहाड़

Name _____

Roll No. _____

SA-I

कक्षा - सात

कार्यपत्र

इतिहास

अप्रैल

मिलान कीजिए।

अनजाना व्यक्ति	राष्ट्रकूट
दक्कन	नाडु
सुल्तान	विदेशी
कलिंग	शासक
गाँवों के समूह	उड़ीसा

रिक्त स्थान की पूर्ति कीजिए।

1. इतिहासकार के बारे में सूचना इकट्ठी करने के लिए पर निर्भर करता है।
(शिलालेखों / कागज)
2. नस्तलिक लिपि में वर्ण जोड़कर धाराप्रवाह रूप से लिखे जाते हैं।
(बायीं ओर / दायीं ओर)
3. अल-इद्रीसी एक भूगोल शास्त्री था।
(अरब / फ्रांसीसी)

4. रहट का प्रचलन में होता था।
(सिंचाई / कताई)
5. सर्वक्षेत्रीय साम्राज्य एक साथ क्षेत्र में फैले विशाल साम्राज्य थे।
(एक / कई)
6. कल्हण एक था जिसने कश्मीर के शासकों के बारे में लिखा।
(रचनाकार / कथाकार)
7. चाहमानों का सबसे प्रसिद्ध राजा था पृथ्वीराज।
(द्वितीय / तृतीय)

Name _____

Roll No. _____

SA-I

कक्षा - सात

कार्यपत्र

नागरिक शास्त्र

मई 1

निम्नलिखित प्रश्नों का सही उत्तर दीजिए।

1. लोकतन्त्र की प्रमुख विशेषता बताइए। (समानता / असमानता)
2. रोज़ा पार्क्स कौन थी? (अफ्रीकी महिला / अफ्रीकी-अमेरिकन महिला)
3. ओमप्रकाश वाल्मिकी का अनुभव तथा अंसारी दम्पति का अनुभव किस बात का संकेत देता था? (समानता / असमानता)
4. शासन में संविधान द्वारा मान्य किए गए समानता के अधिकार किस प्रकार लागू किये जाते हैं?
(कानून द्वारा / सरकार की योजना द्वारा / उपरोक्त सभी)

मिलान कीजिए।

- | क | ख |
|--|--|
| 1. एक प्रसिद्ध दलित लेखक | तमिलनाडु में शुरु हुआ। |
| 2. स्कूलों में दोपहर का भोजन सर्वप्रथम | संयुक्त राज्य अमेरिका में 1950 के दशक के अन्त में प्रारम्भ हुआ |
| 3. एक व्यक्ति | ओमप्रकाश वाल्मिकी |
| 4. नागरिक अधिकार आन्दोलन | एक वोट |
| 5. जब लोगों के साथ असमानता का व्यवहार होता है तब | उनके सम्मान को ठेस पहुंचती है। |

Name _____

Roll No. _____

SA-I

कक्षा - सात

कार्यपत्र

भूगोल

अप्रैल 1

मिलान कीजिए।

अवसाद

सोना, कोयला

भूकंपमापी

लावा

नियाग्रा

भूकंप का मापन यंत्र

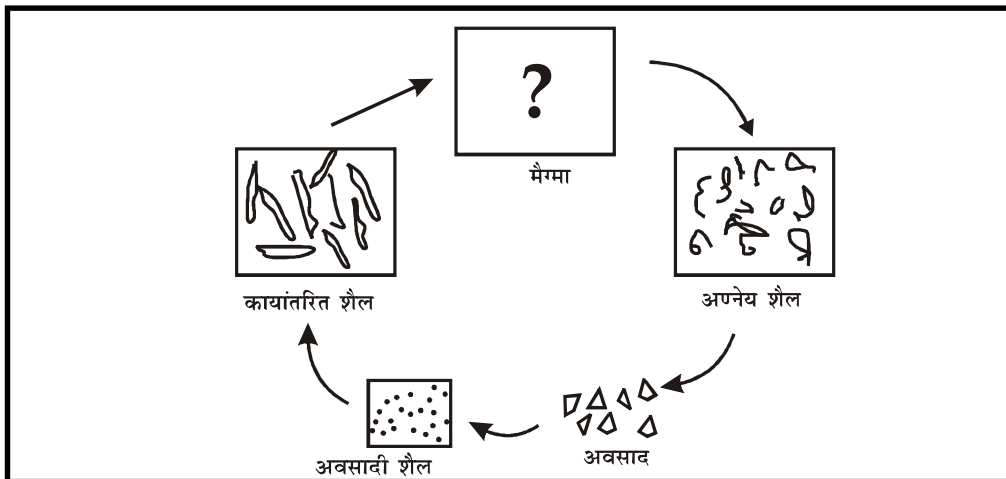
ज्वालामुखी

जल प्रपात

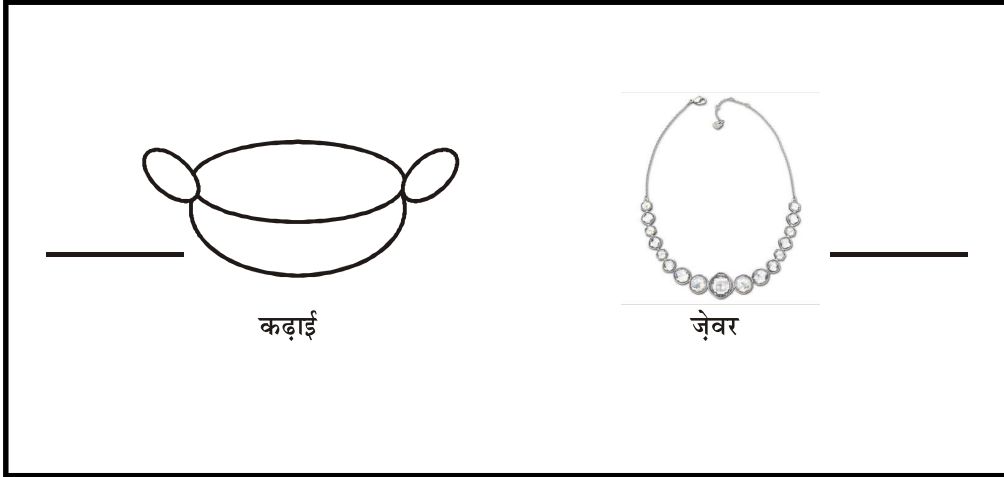
छोटे कण

खनिज

चित्र बनाइए



खनिज का नाम लिखिए।



तीन प्रकार की शैलों के नाम लिखिए

1. 2. 3.

Name _____

Roll No. _____

SA-I

कक्षा - सात

कार्यपत्र

नागरिक शास्त्र

जुलाई 2

सही व गलत चुनिए।

1. गरीब लोग पहले ही पोषण की कमी का शिकार हैं
2. अधिक पैसा कमाने के लिये निजी सेवाएँ प्रायः सस्ते व घटिया
साधनों का इस्तेमाल करती हैं।
3. बड़ी-बड़ी कम्पनियाँ अस्पताल भी चलाती हैं।
4. निजी सेवाओं का मूल्य अपेक्षाकृत कम होता है।

निम्न शब्दों का विस्तृत रूप लिखिए :-

1. ओ.पी.डी.
2. आर.एम.पी.

रिक्त स्थान में उचित शब्द भरिए :-

1. कोस्टारिका को का सबसे स्वस्थ देश माना जाता है।
(उत्तरी अमेरिका / दक्षिण अमेरिका)
2. भारत विश्व का दवाइयाँ निर्मित करने वाला बड़ा देश है।
(चौथा / पहला)

सार्वजनिक व निजी स्वास्थ्य सेवाओं का तुलनात्मक अन्तर तालिका में स्पष्ट कीजिए :-

सुविधा	चिकित्सक सेवा का मूल्य	सफाई सेवा	दवाईयों की उपलब्धता
--------	------------------------	-----------	---------------------

निजी

सार्वजनिक

Name _____

Roll No. _____

SA-I

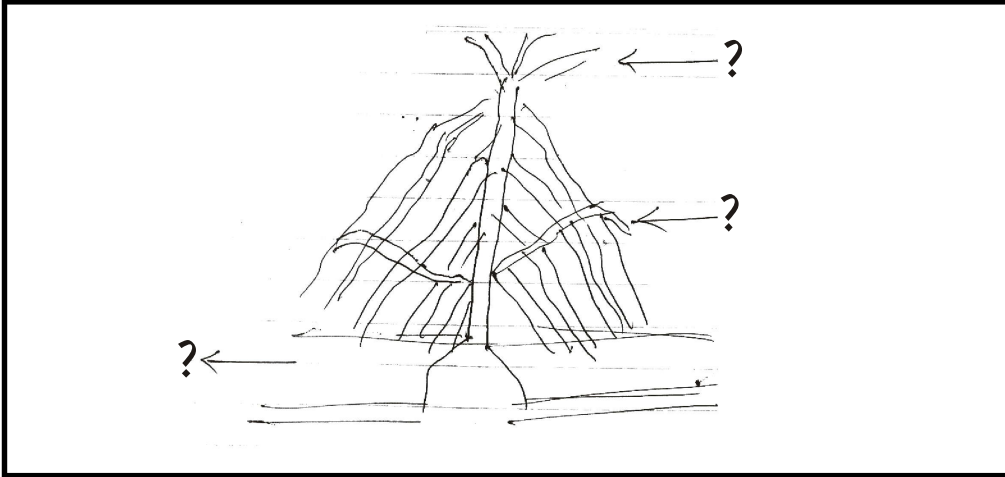
कक्षा - सात

कार्यपत्र

भूगोल

जुलाई 3

लेबल कीजिए।



सही (✓) उत्तर चिह्नित कीजिए।

- | | |
|-------------------------------------|--------------------------------|
| 1. भूकंप के दौरान आश्रय ले | मेज के नीचे या तस्वीर के नीचे। |
| 2. जलप्रपात बनता है | नदी के बहने या गिरने से। |
| 3. समुद्री तरंगें लगातार टकराती हैं | शैलों से या बर्फ से। |
| 4. रेगिस्तान में दिखती हैं | छत्रक शैल या आग्नेय शैल |

रिक्त स्थान भरिए :-

1. पृथ्वी के अंदर पिघला हुआ मैग्मा रूप में घूमता है।
(वृत्तीय / त्रिभुजीय)
2. भूकंपीय तरंगे प्रकार की होती है।
(तीन / पांच)
3. जब नदी मैदानी क्षेत्र में प्रवेश करती हैं तो वह मार्ग पर बहने लगती हैं।
(सीधे / मोड़दार)
4. में चापझील पाई जाती है।
(नदी घाटी / रेगिस्तान)
5. भू-पर्पटी के नीचे वह स्थान जहाँ कंपन आरंभ होता है कहलाता है।
(भूकंप केन्द्र / उद्गम केन्द्र)

Name _____

Roll No. _____

SA-I

कक्षा - सात

कार्यपत्र

नागरिक शास्त्र

जुलाई 4

दर्शक दीर्घा, विधान सभा, एक, राज्यपाल, संसद में से उपयुक्त शब्द निम्न वाक्यों में भरिए :-

1. प्रत्येक निर्वाचन क्षेत्र से जनता प्रतिनिधि चुनती है।
2. राज्य का प्रमुख कहलाता है।
3. विधान सभा में उपर एक होती है जहां से नीचे का विशाल हाल देखा जा सकता है।
4. किसी विषय पर कानून बनाने का काम प्रत्येक राज्य की द्वारा किया जाता है।
5. पूरे देश के लिये कानून में बनाए जाते हैं।

प्रमुख दो राष्ट्रीय दलों के नाम लिखिए :-

1.
2.

सही (✓) उत्तर चिन्हित कीजिए।

1. जब सत्ताधारी दल एक पार्टी का न होकर कई पार्टियों से मिलकर बनता है, उसे
(एक दलीय सरकार कहते हैं / गठबंधनीय सरकार कहते हैं)
2. जिस राजनीतिक दल के विधायक आधे से अधिक निर्वाचन क्षेत्रों में जीत जाते हैं, उस दल को
(विरोधी पक्ष वाला कहा जाता है / बहुमत में माना जाता है)
3. एक निश्चित क्षेत्र जहाँ रहने वाले सब मतदाता अपना प्रतिनिधि चुनते हैं, उसे
(लघु क्षेत्र कहते हैं / निर्वाचन क्षेत्र कहते हैं)
4. किसी राज्य के विधायक प्रतिनिधित्व करते हैं।
(राष्ट्र का / राज्य का)

हिमाचल प्रदेश की विधानसभा चुनाव के वर्ष 2003 के परिणाम थे-

राजनीतिक दल	चुने गये सदस्य संख्या
कांग्रेस पार्टी	42
भारतीय जनता पार्टी	18
अन्य राजनीतिक दल	03
निर्दलीय	05

1. कुल विधायकों की संख्या बताइये
2. किस दल को बहुमत मिला
3. कौन सा दल विपक्षी पार्टी है?
4. बहुमत के लिये कितने विधायक चाहिये?

Name _____

Roll No. _____

SA-I

कक्षा - सात

कार्यपत्र

इतिहास

अगस्त 1

सही (✓) उत्तर चिन्हित कीजिए :-

1. तोमर राजपूतों के काल में राजधानी बनी।
दिल्ली / आगरा
2. रजिया किसकी बेटी थी।
कुतुबुद्दीन / इल्तुतमिश
3. इब्न बतूता किस देश से भारत आया?
(अमेरीका / मोरक्को)
4. पांडुलिपि तैयार करते वक्त कितने चरण होते हैं?
(चार / तीन)
5. नमाज़ के दौरान मुसलमान किस ओर मुँह करते हैं?
(पूर्व / पश्चिमी)

रिक्त स्थान की पूर्ति कीजिए :-

1. माता की ओर से मुगल के वंशज थे
(मंगोल / लोधी)
2. तैमूर ने दिल्ली पर सन् में कब्जा किया।
(1389 / 1398)

3. अकबर राजपूतों के साथ संबंध बनाना चाहता था।
(मित्रतापूर्ण / शत्रुतापूर्ण)
4. बैरम खान का संरक्षक था।
(अकबर / बीरबल)
5. मनसबदारी प्रथा का उद्देश्य में सुधार लाना था।
(जनता में / सेना में)
6. में पानीपत के मैदान में बाबर ने इब्राहिम लोदी को हराया।
(1536 / 1526)
7. अबुल फ़ज़्ल ने अकबर के शासन काल का इतिहास तीन जिल्दों में लिखा,
जिसका शीर्षक है।
(आइने-अकबरी / अकबरनामा)

Name _____

Roll No. _____

SA-I

कक्षा - सात

कार्यपत्र

भूगोल

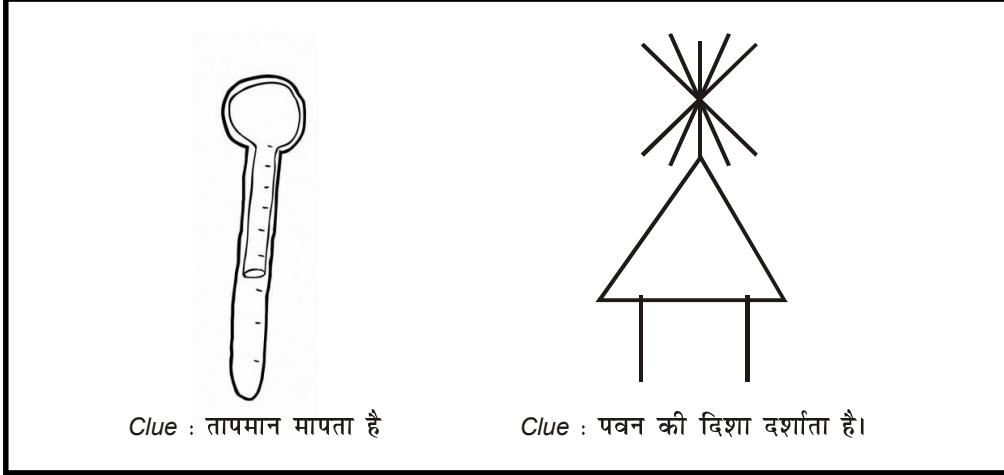
अगस्त 2

शब्द छाँटकर एक शब्द में उत्तर दीजिए :-

मध्यमंडल	आर्द्रता	आतपन	नाइट्रोजन
पवन	0° सेल्सियस	100° सेल्सियस	पछुआ

1. पानी जमता है
2. वायुमंडल की तीसरी परत
3. वायु में किसी भी समय जलवाष्प की मात्रा को
4. वायु में सबसे ज्यादा पाई जाने वाली गैस
5. पश्चिम से आने वाली पवन
6. कारक जो तापमान के वितरण को प्रभावित करता है
7. पानी उबलता है
8. वायु की गति को कहते हैं।

चित्र पहचानकर यंत्र का नाम लिखिए :-



सही (✓) या गलत (×) लगाइए :-

1. चांद पर वायु नहीं है। ()
2. समतापमंडल हवाई जहाज उड़ाने के लिए आदर्श नहीं होता। ()
3. कार्बन-डाईआक्साइड वायु में सर्वाधिक पाई जाने वाली गैस है। ()
4. वर्षण के दूसरे रूप हिम, वृष्टि तथा ओला है। ()

Name _____

Roll No. _____

SA-I

कक्षा - सात

कार्यपत्र

नागरिक शास्त्र

अगस्त 3

नीचे लिखे कथनों में सत्य असत्य बताइये :-

1. सभी समुदायों और समाजों में लड़के और लड़कियों के काम और उनकी भूमिका के बारे में एक जैसे विचार नहीं होते।

.....

2. वे महिलाएँ जो घर पर रहती हैं कोई काम नहीं करती।

.....

3. महिलाओं के काम पुरुषों के काम की तुलना में कम मूल्यवान समझे जाते हैं।

.....

4. हमारा समाज बढ़ते हुए लड़कों और लड़कियों में कोई भेदभाव नहीं करता।

.....

5. घर के काम शारीरिक रूप से थकाने वाले होते हैं।

.....

निम्नलिखित तालिका में से नीचे दिये गये प्रश्नों का उत्तर दें।

वर्ग	पुरुष	महिला
शिक्षक	5	25
किसान	30	0

पायलट	27	3
वैज्ञानिक	25	5
नर्स	0	30

कुल संख्या
------------	-------	-------

1. पुरुषों व महिलाओं की कुल संख्या अलग अलग लिखें।
पुरुष महिलायें
2. किस प्रकार के व्यवसायों में स्त्रियों की अपेक्षा पुरुषों की संख्या अधिक है।
.....
3. कितने वैज्ञानिक पुरुष हैं?
.....
4. महिला किसानों की संख्या बताइये।
.....
5. पायलट पुरुषों की संख्या महिलाओं से कितनी अधिक है?
.....

Name _____

Roll No. _____

SA-II

कक्षा - सात

कार्यपत्र

इतिहास

अक्टूबर 1

सही उत्तर पर निशान लगाइये :-

1. कुतुब मीनार के बनने का साल
(क) 1198 (ख) 1199
2. ताजमहल का निर्माण पूरा हुआ-
(क) 1750 (ख) 1643
3. शिखर क्या है?
(क) मंदिर का मुख्य भाग (ख) मंदिर का सबसे ऊँचा भाग
4. शाहजहाँ के सिंहासन के पीछे किस जड़ाऊ काम की श्रंखला बनाई गई?
(क) पितरा-दूरा (ख) गोथिक शैली
5. 'आब' शब्द का अर्थ है
(क) आबाद (ख) पानी
6. चारबाग बनाने की परम्परा शुरु हुई।
(क) शाहजहाँ के जमाने में (ख) अकबर के जमाने में।

सही शब्द छाँटकर रिक्त स्थान की पूर्ति कीजिए :-

999	राजेन्द्र प्रथम	ग्यारहवीं शताब्दी	1648
1590	शाहजहाँ	भैरव	

1. के आरम्भ में चोल राजा राजेन्द्र प्रथम ने शिव मंदिर का निर्माण करवाया।
2. दीवान-ए-आम के सिंहासन के छज्जे का निर्माण में पूरा किया गया।
3. शाही वास्तुशिल्पी के रूप में प्रसिद्ध हुआ।
4. चंदेल राजवंश के राजा धंगदेव ने शिव की स्तुति में महादेव मंदिर का निर्माण में किया।
5. ग़जनी का सुल्तान महमूद का समकालीन था।
6. मथुरा वृंदावन में गोविंद देव मंदिर का निर्माण में हुआ।
7. शिव का एक रूप है।

Name _____

Roll No. _____

SA-II


कक्षा - सात

कार्यपत्र

भूगोल

अक्टूबर 2

जलचक्र की प्रक्रिया को पूरा कीजिए।



रिक्त स्थान की पूर्ति कीजिए :-

1. गल्फ स्ट्रीम एक धारा है।
(गर्म / ठण्डी)
2. सबसे अधिक लवणता सागर है।
(अरब सागर / मृत सागर)

3. पृथ्वी की सतह का भाग जल से ढका है।
(3/4 / 2/3)
4. सभी जलराशियों का सामूहिक नाम है।
(जलमंडल / स्थलमंडल)
5. महासागरीय धाराओं की दिशा में परिवर्तन लाती है।
(पवन / जलधारा)
6. सुनामी एक भाषा का शब्द है।
(चीनी / जापानी)
7. विश्व जल दिवस को मनाया जाता है।
(22 फरवरी / 22 मार्च)

मिलान कीजिए :-

हिंद महासागर	सबसे लंबा तथा गहरा महासागर
प्रशांत महासागर	ठंडी जलधारा
कैस्पियन सागर	गर्म जलधारा
गल्फ स्ट्रीम	विशालतम झील
लेब्राडोर	भारतीय उपमहाद्वीप में स्थित

Name _____

Roll No. _____

SA-II

कक्षा - सात

कार्यपत्र

नागरिक शास्त्र

अक्टूबर 3

दिए गए विकल्पों में से सही विकल्प छाँटकर वाक्य पूरे कीजिए :-

जनसंचार माध्यम	टी.वी.	विज्ञापन	सरकार
मीडिया	स्वतन्त्र	व्यक्तिगत भावनाओं	धनाढ्य
महंगा	उपभोक्ता		

1. वह शब्द जो सामूहिक रूप से रेडियो, टी.वी., इंटरनेट, अखबार और संसार के साधनों के लिए प्रयुक्त होता है को कहते हैं।
2. आज हमारे लिए के बिना जीवन की कल्पना करना कठिन है।
3. जिनकी पहुंच लाखों लोगों तक है, देश-विदेश, जन समूह तक है, इसलिए इन्हें कहते हैं।
4. संतुलित रिपोर्ट लिख पाना, संचार माध्यमों के होने पर निर्भर करता है।
5. जन संचार माध्यम विभिन्न वस्तुओं के द्वारा धन अर्जित करते हैं।
6. संचार माध्यम के नियंत्रण में है।

7. ऐसा व्यक्ति जिसके लिए उत्पादन बनाया गया है जो उत्पाद को खरीदने और उनका उपयोग करने के लिए धन देता है, को कहते हैं।
8. विज्ञापन हमें अधिकांशतः लोगों की जीवनशैली के चित्र दिखाते हैं।
9. विज्ञापन बनाना और मीडिया में दिखाना बहुत है।
10. अधिकतर विज्ञापन हमारी को केन्द्र बनाने की कोशिश करते हैं।

Name _____

Roll No. _____

SA-II

कक्षा - सात

कार्यपत्र

इतिहास

नवम्बर 1

उपयुक्त शब्द भरका वाक्य की पूर्ति कीजिए।

1. व्यापारियों या शिल्पियों का संघ कहलाता है।
(काफिला / गिल्ड)
2. राजस्थान के घुमक्कड़ छोटे व्यापारी को कहते हैं।
(गडरिए / बंजारा)
3. नदी तंजावूर के पास से बहती है।
(कावेरी / नर्मदा)
4. मसूलीपट्टनम का किला के निवासियों ने बनवाया।
(फ्रांस / हॉलैंड)
5. वास्को-डि-गामा में कालीकट पहुंचा।
(1498 / 1489)
6. हम्पी साम्राज्य की राजधानी थी।
(राजनगर / विजयनगर)
7. पश्चिम का प्रवेश द्वार कहलाता है।
(बम्बई / सूरत)

सही (✓) का और गलत (×) का निशान लगाइए :-

1. सूरत बंगाल की खाड़ी पर स्थित एक महत्वपूर्ण व्यापारिक पत्तन है। ()
2. सौदागर अकेले के बजाए काफिलों में जाना पसंद करते थे। ()
3. चोल काल में कांस्य मूर्तियाँ लुप्तमोम तकनीक से बनाई जाती थी। ()
4. अजमेर बारहवीं शताब्दी में चौहान राजाओं की राजधानी था। ()
5. बीदर के शिल्पकार लोहे तथा कांस्य के काम के लिए प्रसिद्ध थे। ()
6. हम्पी नगर कृष्णा तथा तुंगभद्रा नदियों की घाटी में स्थित है। ()
7. गुमाश्ता ईस्ट इंडिया कंपनी द्वारा नियुक्त व्यापारी वर्ग था। ()
8. 18वीं सदी में 'ब्लैक' यानी देसी व्यापारियों और शिल्पकारों को 'ब्लैक टाउन्स' में सीमित कर दिया गया। ()

Name _____

Roll No. _____

SA-II

कक्षा - सात

कार्यपत्र

भूगोल

नवम्बर 2

सही शब्द छांटकर एक शब्द में उत्तर दीजिए।

तापमान व नमी पर

प्राकृतिक वनस्पति

टुंड्रा

घास स्थल, ऐनाकोंडा, शुद्ध या अनछुआ

1. ध्रुवीय प्रदेश पायी जाने वाली वनस्पति
2. मध्यम वर्षा वाले क्षेत्र में विकसित होते हैं
3. विश्व का सबसे बड़ा सांप
4. वनस्पति की वृद्धि आमतौर पर निर्भर करती है।
5. इसमें वन, घास भूमियां तथा झाड़ियां सम्मिलित हैं।
6. रूसी भाषा में 'टैगा' का अर्थ है।

वनो का उनमें पाए जाने वाले वृक्षों से मिलान कीजिए।

1. उष्ण कटिबंधीय सदाबहार वन जैतून, अंजीर, नींबू
2. शीतोष्ण सदाबहार वन टीक, चंदन, शीशम
3. शंकुधारी भूमध्य सागरीय प्रदेश
4. विश्व का फलोद्यान बांज, चीड़, यूकेलिप्टस
5. भूमध्यसागरीय वनस्पति देवदार, चीड़

वर्ग पहेली से वनस्पति तथा जीवों से सम्बन्धित शब्दों की पहचान कीजिए:-

(क) कोई दो वनस्पति तथा

(ख) कोई दो वन्य जीव

M	T	N	L	P	L	M	E	H	R	T
B	E	A	R	A	I	X	S	E	E	R
T	L	P	F	L	O	R	A	N	L	E
A	E	I	A	M	N	L	I	C	H	E
N	P	G	U	D	O	G	R	T	Z	X
A	H	T	N	H	N	D	P	I	N	E
C	A	C	A	M	P	O	S	G	V	N
O	N	A	C	M	O	W	L	E	E	E

(क)

(ख)

नोट : पहेली का उत्तर अंग्रेजी शब्दों में दीजिए।

Name _____

Roll No. _____

SA-II

कक्षा - सात

कार्यपत्र

इतिहास

नवम्बर 3

मिलान कीजिए :-

बलोच	घुमंतू लोग
पीटर मंडी	बंजारों का कारवां
टांडा	उत्तर-पश्चिम की जनजाति का नाम
खाना बदोश	अंग्रेजी व्यापारी

विभिन्न जनजाति के क्षेत्र को पहचानकर लिखिए

पंजाब	पश्चिमी और मध्य भारत	पश्चिमी हिमालय	
बिहार	मध्य प्रदेश	कर्नाटक	पूर्वी भारत
1. भील		
2. गोंड जनजाति		
3. खोखर		
4. नागा		
5. गड्डी गड़रिए		
6. कोली		
7. चेर		

शब्दों की सहायता से स्थानांतरीय कृषि की व्याख्या कीजिए।

पेड़	झाड़ियों को काटना	जलाना	राख में फसल
उर्वरता	समानता	दूसरी जमीन	साफ

.....

.....

.....

.....

.....

.....

.....

.....

.....

.....

Name _____

Roll No. _____

SA-II

कक्षा - सात

कार्यपत्र

नागरिक शास्त्र

दिसम्बर 1

निम्नलिखित प्रश्नों के उत्तर दिए गए विकल्पों में से सही विकल्प पर निशान लगा कर दीजिए।

1. बाजार कितने प्रकार के होते हैं?
(क) शॉपिंग काम्प्लेक्स (ख) पड़ोस की गुमटी
(ग) साप्ताहिक बाजार (घ) उपरोक्त सभी
2. जो सप्ताह के किसी एक दिन निश्चित दिन लगता हो-
(क) साप्ताहिक बाजार (ख) पड़ोस की गुमटी
(ग) दैनिक बाजार (घ) उपरोक्त में से कोई नहीं।
3. साप्ताहिक बाजार में चीजें सस्ते दामों पर मिल जाती हैं।
(क) दुकानों का किराया नहीं देना पड़ता (ख) बिजली का बिल नहीं देना पड़ता।
(ग) सरकारी शुल्क नहीं देना पड़ता। (घ) उपरोक्त सभी।
4. सामानों का उत्पादन होता है।
(क) घरों में (ख) दुकानों में
(ग) कारखानों में (घ) उपरोक्त में से कोई नहीं।

5. वस्तु के उत्पादक और वस्तु के उपभोक्ता के बीच कड़ी का काम करते हैं।
 (क) व्यापारी (ख) खरीददार
 (ग) थोक व्यापारी (घ) उपरोक्त में से कोई नहीं।
6. जहां पर कई तरह की दुकानें होती हैं-
 (क) पड़ोस की गुमटी (ख) शॉपिंग कॉम्प्लेक्स
 (ग) साप्ताहिक बाजार (घ) कोई नहीं।
7. साप्ताहिक बाजार में छोटा दुकानदार शॉपिंग कॉम्प्लेक्स के दुकानदार की तुलना में -
 (क) कम कमाता है। (ख) अधिक कमाता है
 (ग) न कम न अधिक कमाता है।

निम्न तालिका के आधार पर एक साप्ताहिक बाजार और एक शॉपिंग कॉम्प्लेक्स की तुलना करते हुए उनका अंतर बताइए :-

बाजार	बेची जाने वाली वस्तुओं के प्रकार	वस्तुओं का मूल्य	विक्रेता	ग्राहक
साप्ताहिक बाजार				
शॉपिंग कॉम्प्लेक्स				

Name _____

Roll No. _____

SA-II

कक्षा - सात

कार्यपत्र

इतिहास

दिसम्बर 2

मिलान कीजिए :-

श्रीमद्भगवद्गीता	शैव संत
नरसी मेहता	मुस्लिम विद्वान
उलेमा	हिन्दुओं का धार्मिक ग्रंथ
नयनार	गुरुद्वारा
धर्मसाल	प्रसिद्ध गुजराती संत

रिक्त स्थानों की पूर्ति कीजिए :-

1. दार्शनिक शंकर का जन्म में हुआ था।
(केरल / आन्ध्र प्रदेश)
2. बसवन्ना ने आंदोलन प्रारंभ किया।
(ब्राह्मणवादी / वीरशैव)
3. संतों और में बहुत अधिक समानता थी।
(कवियों / सूफियों)

4. सूफी संत में विशेष बैठक का आयोजन किया करते थे।
(आश्रम / खानकाह)
5. तुलसीदास ने ईश्वर को के रूप में धारण किया।
(राम / कृष्ण)

भक्ति संत तथा उनसे जुड़े क्षेत्र छाँटकर लिखिए।

राजस्थान	उत्तर प्रदेश	महाराष्ट्र	तमिलनाडु
1. एकनाथ		
2. रामानुज		
3. सूरदास		
4. मीराबाई		

Name _____

Roll No. _____

SA-II

कक्षा - सात

कार्यपत्र

भूगोल

दिसम्बर 3

विद्यालय आते वक्त हम किस परिवहन का प्रयोग करते हैं? (कोई दो)




1.

2.

सही उत्तर भरिए :-

सघन बस्तियाँ	ऋतु प्रवास	राष्ट्रीय महामार्ग	संचार
पर्यावरण	प्रकीर्ण बस्तियाँ		
1. ये सड़कें देश के प्रमुख नगरों को जोड़ती हैं।		
2. घर आसपास होते हैं।		
3. लोगों का मौसमी आवागमन कहलाता है।		
4. यह बस्तियाँ पहाड़ी तथा वन प्रदेशों में पाई जाती हैं।		
5. वे दशाएं जो मानव व उसके विकास की स्थिति बनाती हैं।		
6. सूचना एवं समाचार देने के साधनों को कहा जाता है।		

चित्र पहचानकर संचार के साधन का नाम लिखिए :-



सही (✓) उत्तर चिन्हित कीजिए :-

- जनसंपर्क माध्यम किसे कहते हैं।
(क) समाचार पत्र
(ख) रेडियो एवम् टेलीविज़न
(ग) उपरोक्त सभी
- विश्व का सबसे लम्बा रेलमार्ग है-
(क) भारतीय रेलमार्ग
(ख) ट्रांससाइबेरियन रेलमार्ग
(ग) यूरोपीय रेलमार्ग
- इनमें से कौन-सा सड़क का भूमिगत निर्माण है?
(क) सब वे
(ख) एक्सप्रेस वे
(ग) फ्लाई ओवर
- यातायात का कौन-सा साधन पर्यावरण को प्रदूषित नहीं करता?
(क) बस
(ख) साइकिल
(ग) वायुयान
- नाव्य नदियों व झीलों का उपयोग किस जलमार्ग के लिये होता है?
(क) अंतर्देशीय जलमार्ग
(ख) समुद्रीमार्ग
(ग) महासागरीय मार्ग

Name _____

Roll No. _____

SA-II

कक्षा - सात

कार्यपत्र

भूगोल

जनवरी 1

निम्नलिखित अनुच्छेद को पढ़कर अंत में दिए गए प्रश्नों के उत्तर दीजिए:-

गंगा तथा ब्रह्मपुत्र की सहायक नदियाँ मिलकर भारतीय उपमहाद्वीप में गंगा ब्रह्मपुत्र बेसिन का निर्माण करती हैं। घाघरा, सोन, चंबल, गंडक, कोसी जैसी गंगा की सहायक नदियाँ एवं ब्रह्मपुत्र की सहायक नदियाँ इसमें अपवाहित होती हैं। गंगा एवं ब्रह्मपुत्र के मैदान, पर्वत, हिमालय के गिरिपाद तथा सुंदरवन डेल्टा इस बेसिन की मुख्य विशेषताएँ हैं। यहाँ के पर्वतीय क्षेत्र में कम लोग रहते हैं। ब्रह्मपुत्र के मैदानी क्षेत्रों में घने बांस के झुरमुट पाए जाते हैं।

1. गंगा-ब्रह्मपुत्र बेसिन का निर्माण कौन करता है?

.....

2. गंगा की तीन सहायक नदियों के नाम बताइये।

.....

3. इस बेसिन की एक मुख्य विशेषताएँ बताइये।

.....

4. कम लोग कहाँ पाए जाते हैं?

.....

5. घने बाँस के झुरमुट कहाँ पाए जाते हैं?

.....

सही जोड़े बनाइए।

टूकन	एक प्रकार का पौधा
ताजमहल	डेल्टा
सुसु	पक्षी
सुन्दरवन	आगरा
ब्रोमिलायड	एक प्रकार की डाल्फिन

गंगा-ब्रह्मपुत्र बेसिन के लोगों का कैसा जीवन है?

संकेत : कृषि, उपयुक्त जलवायु, मृदा उपजाऊ, उद्योग।

उत्तर:

.....

.....

.....

.....

.....

Name _____

Roll No. _____

SA-II

कक्षा - सात

कार्यपत्र

इतिहास

जनवरी 2

उत्तर छाँटकर भरिए :-

कथक	पीर	बृहद् धर्मपुराण	मणिप्रवालम्
चारण-भाट	जीववाद	लघु चित्र	रासलीला
1. राजपूत राजाओं की स्तुति गाने वाले लोग		
2. वह शब्द जो 'कथा' से निकला है।		
3. छोटे आकार वाले चित्र।		
4. राधा-कृष्ण की पौराणिक कहानियों का लोक नाट्य के रूप में प्रस्तुत करना।		
5. यह मानना कि पेड़-पौधों, जड़ वस्तुओं और प्राकृतिक घटनाओं में भी जीवात्मा है।		
6. फारसी शब्द जिसका अर्थ है आध्यात्मिक मार्गदर्शक।		
7. तेरहवीं शताब्दी का संस्कृत ग्रंथ		
8. संस्कृत या क्षेत्रीय भाषा का साथ-साथ प्रयोग करते हुए एक भाषाशैली।		

नृत्य का राज्य से मिलान कीजिए :-

भरतनाट्यम	आंध्र प्रदेश
कथाकली	मणिपुर
ओडिसी	केरल
कुचिपुडि	उड़ीसा
मणिपुरी	तमिलनाडु

भोजन की सूची के सामने राज्य का नाम भरिए :-

बिहार	तमिलनाडु	गुजरात	पंजाब	राजस्थान
1. दही की लस्सी, मक्की की रोटी			
2. बाजरे की रोटी			
3. इडली डोसा			
4. सत्तू, दाल चावल			
5. ढोकला, खाकरा			

Name _____

Roll No. _____

SA-II

कक्षा - सात

कार्यपत्र

भूगोल

जनवरी 3

सही उत्तर चुनिए :-

1. उत्तरी अमरीका की शीतोष्ण घास भूमियाँ किस नाम से जानी जाती है?
(क) वेल्ड (ख) प्रेअरी (ग) सहारा
2. प्रेअरी के मूल अमेरिकन कहे जाते हैं।
(क) काले इंडियन (ख) गोरे इंडियन (ग) रेड इंडियन
3. मिसीसिपी किस देश में बहती है।
(क) चिली (ख) कनाडा (ग) संयुक्त राज्य अमेरिका
4. किम्बरले किसके लिए प्रसिद्ध है?
(क) कोयला (ख) चांदी (ग) हीरा
5. वेल्ड किस गोलार्ध में स्थित है?
(क) पूर्वी (ख) दक्षिणी (ग) उत्तरी

मिलान कीजिए :-

जोहांसबर्ग

वेल्ड

बाइसन

विशाल फार्म

कंबाइन

अमरीकी भैंस

दक्षिण अफ्रीका का
शीतोष्ण घासस्थल

एक मशीन जो बुआई, जुताई एवं
थ्रेशर का काम करती है।

रैंच

स्वर्ण राजधानी

रिक्त स्थान की पूर्ति सही शब्द से कीजिए :-

1. आमतौर पर विश्व के घासस्थलों को जलवायु के आधार पर मुख्य श्रेणियों में बाँटा जाता है।
(दो / तीन)
2. प्रेअरी पश्चिम में तथा पूर्व में ग्रेट लेक से घिरे हुए हैं।
(एंडीस पर्वत / रॉकी पर्वत)
3. चिनूक एक पवन है जो शीत ऋतु में बहती है।
(ठण्डी / गर्म)
4. हिन्द महासागर के प्रभाव के कारण वेल्ड की जलवायु होती है।
(शुष्क / नम)
5. वेल्ड में का प्रचुर भंडार है।
(खनिजों / अनाज)

Name _____

Roll No. _____

SA-II

कक्षा - सात

कार्यपत्र

इतिहास

फरवरी 1

रिक्त स्थानों की पूर्ति उचित शब्द से कीजिए :-

1. सन् में औरंगजेब की मृत्यु हुई।
(1717 / 1707)
2. सन् में नादिरशाह ने भारत पर आक्रमण किया।
(1729 / 1739)
3. सवाई राजा ने जयपुर में अपनी नई राजधानी स्थापित की।
(जयसिंह / मानसिंह)
4. शताब्दी के दौरान सिक्ख एक राजनैतिक समुदाय के रूप में गठित हो गए।
(पन्द्रहवीं / सत्रहवीं)
5. मराठों को 1761 में पानीपत की लड़ाई में अन्य शासकों से कोई सहायता नहीं मिली।
(दूसरी / तीसरी)

मिलान कीजिए :-

चूड़ामन	भू-राजस्व का 9-10 प्रतिशत हिस्सा
देशमुख	हैदराबाद राज्य की स्थापना की
सरदेशमुखी	जोधपुर
निज़ाम-उल-मुल्क आसफ जाह	सिक्खों के दसवें गुरु
मेहरानगढ़ किला	मराठों का योद्धा परिवार
गुरु गोबिंद सिंह	जाट नेता

सही उत्तर चुनिए :-

- ब्रिटिश ईस्ट इंडिया कम्पनी ने सत्ता स्थापित की।
(क) 1757 (ख) 1771
- चौथ भू-राजस्व था।
(क) 25 प्रतिशत (ख) 10 प्रतिशत
- मराठा साम्राज्य का संस्थापक कौन था?
(क) टीपू सुल्तान (ख) शिवाजी
- महाराजा रणजीत सिंह ने लाहौर को अपनी राजधानी बनाया।
(क) 1715 (ख) 1799
- बुरहान-उल-मुल्क सआदत खान ने स्थापना की थी।
(क) बंगाल राज्य (ख) अवध राज्य

Name _____

Roll No. _____

SA-II

कक्षा - सात

कार्यपत्र

नागरिक शास्त्र

फरवरी 2

दिए गए शब्दों में से सही शब्द छांट कर वाक्यों को पूरा कीजिए :-

महिलाएँ	दलित	आदिवासी	मुसलमान लोकतंत्र
व्यस्क मताधिकार	तवा मत्स्य संघ	गरीबी और	संसाधनों का अभाव

1. हर व्यस्क नागरिक को चुनावों के दौरान समान रूप से मतदान का अधिकार कहलाता है।
2. भारतीय समाज में विषमता और असमानता के कारण हैं।
3. मछुआरों की सहकारी समितियों का संघ है।
4. समता का मूल्य के केन्द्र में है।
5. 2001 की जनगणना के अनुसार हमारी जनसंख्या में 48 प्रतिशत हैं, 13 प्रतिशत हैं, 16 प्रतिशत हैं और 8 प्रतिशत हैं।

स्तम्भ (क) और स्तम्भ (ख) के जोड़े बनाइये।

- | | |
|--|---------------|
| 1. वह फैक्टरी जहां रूई के गोलों से बीज अलग किए जाते हैं। | दादन व्यवस्था |
| 2. वह व्यक्ति जो विदेशों में माल बेचता है। | जिनिंग मिल |
| 3. व्यापारी और बुनकरों के बीच व्यवस्था | निर्यातक |

Name _____

Roll No. _____

SA-II

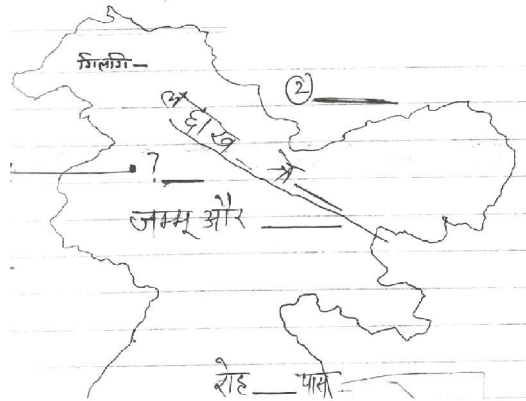
कक्षा - सात

कार्यपत्र

भूगोल

फरवरी 3

पूरा कीजिए :



1. दो देशों के नाम रिक्त स्थान में लिखिए।
2. नक्शे के अंदर रिक्त स्थान भरिए।

सही उत्तर छाँटकर भरिए :-

1. अफ्रीका के किस प्रदेश में सहारा मरुस्थल है।
(क) मध्य अफ्रीका (ख) उत्तरी अफ्रीका
2. विश्व में किस ऊर्जा उत्पाद की भारी मांग है?
(क) तेल (ख) कोयला

3. किन दो शब्दों से लद्दाख बना है?
 (क) ला और दाख (ख) लाड और दाख
4. गैंग्री क्या है?
 (क) नदी (ख) हिमानी
5. लद्दाख का दूसरा नाम क्या है?
 (क) इंडस (ख) खा-पा-चान

निम्नलिखित शब्दों की सहायता से सहारा रेगिस्तान के जीवन के बारे में लिखिए :-

बकरी	भेड़ पालते हैं	गर्म वायु	भारी वस्त्र
खजूर	खनिज	ऊंट	शहर की तरफ पलायन

उत्तर :

.....

.....

DIRECTORATE OF EDUCATION
Govt. of NCT of Delhi

WORKSHEETS

FOR THE SESSION : 2012 - 2013

SOCIAL SCIENCE

Class : VII

Under the guidance of :

Dr. SUNITA S. KAUSHIK

Addl. DE (School/Exam)

Coordination by :

KRISHAN GOPAL

Vice Principal

Prepared by :

Ms. SUNITA
TGT (S.St.)
Govt. Girls Sr. Sec. School
Begumpur, Delhi

Sh. ARVIND KUMAR SINGH
TGT (S.St.)
Govt. Boys Sr. Sec. School
Begumpur, Delhi