

نام:.....
[سوشل سائنس: SA-I]

رول نمبر.....

ورک شیٹ-1

کلاس-VII

جغرافیہ

1- مناسب الفاظ کی مدد سے جملوں کو مکمل کیجیے۔

(i) زمین، پانی، ہوا، نباتات اور جاندار مل کر..... ماحول بناتے ہیں۔

(قدرتی / مصنوعی)

(ii) زمین کے چاروں طرف موجود ہوا کی تپلی پرت کو..... کہتے ہیں۔

(کرہ باد / کرہ جبری)

(iii) ہر سال..... کو یوم عالمی ماحول منایا جاتا ہے۔

(8 جون / 5 جون)

(iv) نظام شمسی میں..... ہی صرف ایسا سیارہ ہے جہاں زندگی پائی جاتی ہے۔

(زمین / مریخ)

2- صحیح جواب کی نشاندہی کیجیے۔

(i) درج ذیل میں سے کون سا ماحول انسانی ماحول ہے؟

(a) پل

(b) پانی

(c) ہمالیہ

(ii) گرمی میں ہم کیا کھانا پسند کرتے ہیں؟

(a) مونگ پھلی (b) رس دار تربوز (c) گرم پکوڑے

(iii) کرہ حجری میں ہم کسے شامل نہیں کرتے؟

(a) جائیداد (b) گھاٹی (وادی) (c) ہوا

(iv) چیزوں کے مبادلہ کا طریقہ جس میں روپے پیسے کا استعمال نہیں ہوتا:

(a) درآمد (b) بارٹر نظام (c) برآمد

(v) درج ذیل میں سے کون سا ماحول انسانی ماحول ہے؟

(a) سڑک (b) سمندر (c) پہاڑ

نام:.....
[سوشل سائنس: SA-I]

رول نمبر.....

ورک شیٹ-2

کلاس-VII

تاریخ

1- درج ذیل کالموں کو ملائیے

کالم-A	کالم-B
اجنبی	راشٹرکوٹ
دکن	ناڈو
سلطان	غیرملکی
کلنگ	حکمران
گاؤں کے مجموعے	اڑیسہ

2- خالی جگہوں کو پر کیجیے۔

(i) مورخ ماضی کے بارے میں معلومات حاصل کرنے کے لیے..... پر انحصار کرتا ہے۔

(کتابت/کاغذ)

(ii) نستعلیق طرز تحریر..... حروف کو ملا کر لکھی جاتی ہے۔

دائیں طرف/بائیں طرف)

(iii) الادرسی ایک.....جغرافیاداں تھا۔

(عرب/فرانسیسی)

(iv) رہٹ کا استعمال.....میں ہوتا تھا۔

(آب پاشی/کتائی)

(v) خطوں کا مجموعہ سلطنتیں.....مختلف خطوں میں پھیلی ہوئی تھیں۔

(ایک/کئی)

(vi) کلہانا ایک.....تھا جس نے کشمیر کے حکمرانوں کے بارے میں لکھا ہے۔

(شاعر/واقع نگار)

(vii) چاہمان حکمرانوں میں سب سے مشہور.....تھا۔

(پرتھوی راج دوئم/پرتھوی راج سوئم)

ورک شیٹ-3

کلاس-VII

علم شہریت

1- مندرجہ ذیل سوالوں کے صحیح جواب لکھیے۔

- (i) جمہوریت کی اہم خصوصیت بتائیے۔ (مساوات/عدم مساوات)
- (ii) روز اپارکس کون تھیں؟ (افریقی خاتون/افریقی نژاد امریکن خاتون)
- (iii) انصاری خاندان اور اوم پرکاش بالمیکی کا تجربہ کس بات کی طرف اشارہ کرتا ہے؟ (مساوات/عدم مساوات)
- (iv) حکومت نے برابری کے اصول کو کس طریقے سے نافذ کرنے کی کوشش کی ہے؟ (قوانین کے ذریعے/سرکار کی اسکیموں کے ذریعے/یہ سبھی)

2- مندرجہ ذیل کالموں کو ملائیے۔

- | | |
|--------------------------------------|---|
| کالم-A | کالم-B |
| ایک مشہور دولت مصنف | تمل ناڈو میں شروع ہوا |
| اسکول میں دو پہر کا کھانا سب سے پہلے | ریاستہائے متحدہ امریکہ میں 1950 کی دہائی کے اواخر میں شروع ہوئی |
| ایک شخص | اوپ پرکاش بالمیکی |
| شہری حقوق کی تحریک | ایک ووٹ |
- جب لوگوں کے ساتھ نابرابری کا سلوک کیا جاتا ہے تو ان کے وقار کو چوٹ پہنچتی ہے۔

نام:.....
[سوشل سائنس: SA-I]

رول نمبر.....

ورک شیٹ-4

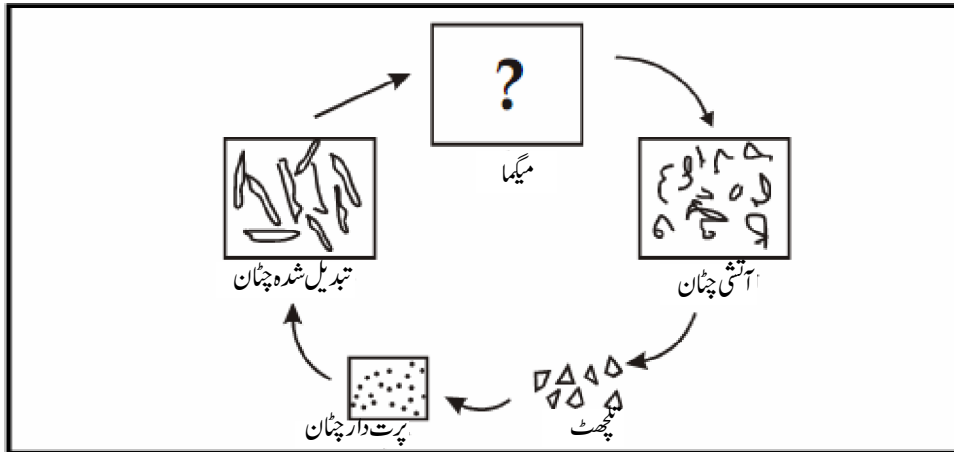
کلاس-VII

جغرافیہ

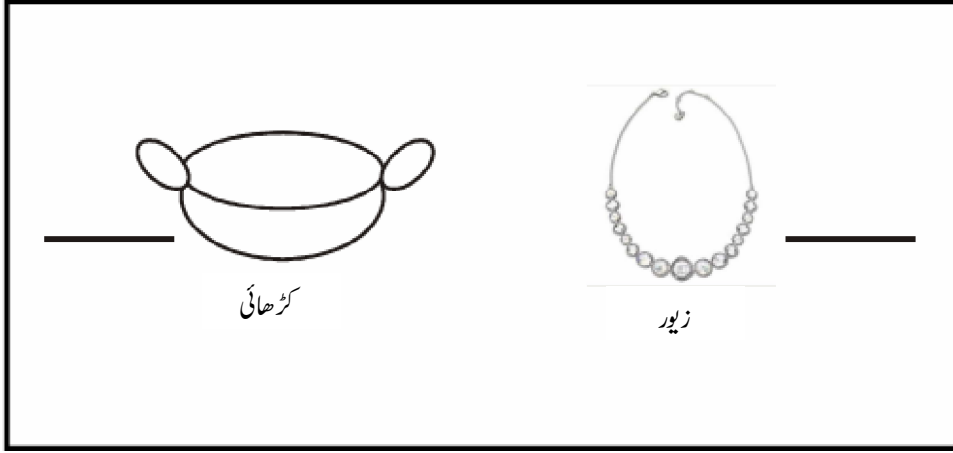
1- مندرجہ ذیل کالموں کو ملائیے۔

کالم-A	کالم-B
تپجھٹ	زلزلہ ناپنے کا آلہ
سوننا اور کوئلہ	آتش فشاں
زلزلہ پیما	آبشار
میگما (لاوا)	چھوٹے چھوٹے ذرات
نیا گرا	معدنیات

2- تصویر بنائیے۔



3- معدنیات کا نام لکھیے۔



4- تین قسم کی چٹانوں کے نام لکھیے۔

- (i)
- (ii)
- (iii)

رول نمبر.....

نام:.....

[سوشل سائنس: SA-I]

ورک شیٹ-5

کلاس-VII

علم شہریت

1- صحیح اور غلط کی نشاندہی کیجیے۔

(i) غریب لوگ پہلے ہی تغذیہ کی کمی کا شکار ہیں

(ii) زیادہ پیسہ کمانے کے لیے نجی خدمات عموماً سستے اور ادنیٰ ذرائع کا استعمال کرتی ہیں

(iii) بڑی بڑی کمپنیاں اسپتال بھی چلاتی ہیں

(iv) نجی خدمات عموماً سستی ہوتی ہیں

2- درج ذیل کے پورے نام لکھیے۔

(i) او۔ پی۔ ڈی۔ (OPD)

(ii) آر۔ ایم۔ پی (RMP)

3- مناسب لفظ/الفاظ کی مدد سے جملوں کو مکمل کیجیے۔

(i) کوشاریکا کا شمار..... کے سب سے صحت مند ممالک میں ہوتا ہے۔

(شمالی امریکہ/جنوبی امریکہ)

(ii) دوائیاں بنانے کے معاملے میں ہندوستان دنیا کا..... بڑا ملک ہے۔

(چوتھا/پہلا)

4- عوامی اور نجی صحت کی خدمات کا موازنہ کیجیے۔

سہولت	علاج کا خرچ	صفائی ستھرائی	دواؤں کی دستیابی
نجی			
عوامی			

رول نمبر.....

نام:.....

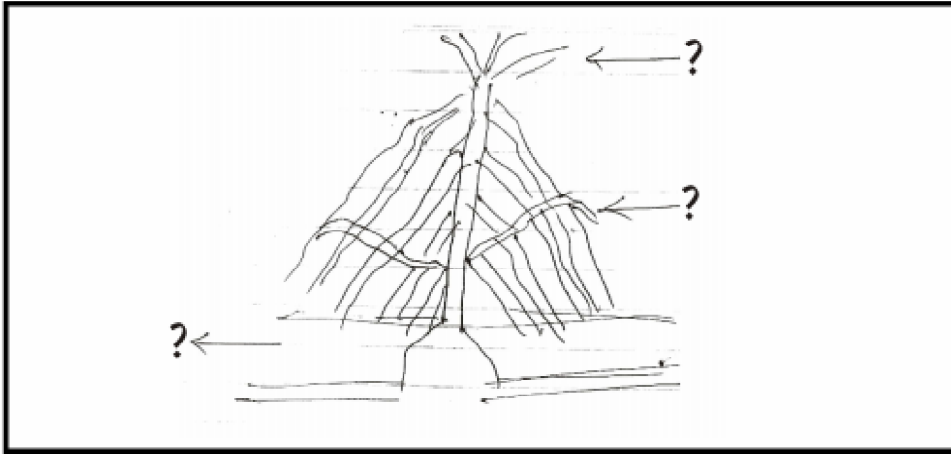
[سوشل سائنس: SA-I]

ورک شیٹ-6

کلاس-VII

جغرافیہ

1- درج ذیل تصویر کو لیبیل کیجیے۔



2- صحیح جواب کی نشان دہی کیجیے۔

- | | |
|--|------------------------------|
| (i) زلزلہ کے دوران کس جگہ پناہ لیننی چاہیے | میز کے نیچے یا تصویر کے نیچے |
| (ii) آبشار کی تشکیل ہوتی ہے | دریا کے بہنے یا گرنے سے |
| (iii) سمندری لہریں لگا تا ٹکراتی ہیں | چٹانوں سے یا برف سے |
| (iv) ریگستانی علاقوں میں پائی جاتی ہیں | سارگی چٹان یا آتشی چٹان |

(i) زمین کے اندر پگھلا ہوا میگما..... شکل میں گھومتا ہے۔

(دائری/تکوئی)

(ii) زلٹی لہریں..... قسم کی ہوتی ہیں۔

(تین/پانچ)

(iii) جب دریا میدانی علاقے میں داخل ہوتا ہے تو وہ..... گزرتا ہے۔

(سیدھا/بل کھاتا ہوا)

(iv) ہلائی جھیل..... میں پائی جاتی ہے۔

(دریائی وادیوں/ریگستان)

(v) قشر ارض کے نیچے وہ جگہ جہاں سے زلزلہ شروع ہوتا ہے..... کہلاتا ہے۔

(زلزلہ کا انکاسی مرکز/زلزلہ کا مرکز)

نام:.....
[سوشل سائنس: SA-I]

رول نمبر.....

ورک شیٹ-7

کلاس-VII

علم شہریت

درج ذیل الفاظ میں سے مناسب لفظ کا انتخاب کر کے خالی جگہوں کو پُر کیجیے۔

گیلری — ودھان سبھا — ایک — گورنر — پارلیمنٹ

1- ہر ایک حلقہ انتخاب سے عوام اپنا..... نمائندہ چنتے ہیں۔

2- ریاست کا صدر..... ہوتا ہے۔

3- ودھان سبھا میں اوپر ایک..... ہوتی ہے جہاں سے نیچے بنا بڑا ہال دیکھا جاسکتا ہے۔

4- کسی خاص مسئلے پر قانون بنانے کا کام ہر ریاست کی..... کرتی ہے۔

5- پورے ملک کے لیے قوانین..... میں بنائے جاتے ہیں۔

دو بڑی سیاسی جماعتوں کے نام لکھیے۔

(i)

(ii)

صحیح جواب کی نشاندہی کیجیے۔

(i) جب حکمراں پارٹی صرف ایک ہی پارٹی نہیں ہوتی بلکہ کئی پارٹیوں کا گروپ ایک ساتھ مل کر کام کرتا ہے اسے ہم

(ایک پارٹی کی حکومت کہتے ہیں/مخلوط حکومت کہتے ہیں)

(ii) جس سیاسی جماعت کے ممبران قانون ساز اسمبلی اس ریاست کے آدھے سے زیادہ چناؤ حلقوں سے جیت کر آتے ہیں اسے

(حزب مخالف کہا جاتا ہے/ اکثریت میں کہا جاتا ہے)

(iii) وہ مقررہ علاقہ جہاں رہنے والے رائے دہندگان (ووٹر) اپنا نمائندہ چنتے ہیں

(حلقہ انتخاب کہلاتا ہے/ چھوٹا علاقہ کہلاتا ہے)

(iv) کسی ریاست کے ایم ایل اے نمائندگی کرتے ہیں

(ملک کی/ ریاست کی)

ہماچل پردیش میں 2003 کے ودھان سبھا انتخابات کے نتائج مندرجہ ذیل ہیں۔

سیاسی پارٹی	چنے گئے ممبران کی تعداد
کانگریس پارٹی	42
بھارتیہ جنتا پارٹی	18
دیگر سیاسی پارٹیاں	03
آزاد امیدوار	05

(i) قانون ساز اسمبلی کے کل ممبران کی تعداد بتائیے

(ii) کس جماعت (پارٹی) کو اکثریت حاصل ہوئی؟

(iii) کون سی پارٹی (جماعت) حزب مخالف ہے؟

(iv) اکثریت حاصل کرنے کے لیے کتنے ممبران کی ضرورت ہے؟

رول نمبر.....

نام:.....

[سوشل سائنس: SA-I]

ورک شیٹ-8

کلاس-VII

تاریخ

صحیح جواب کی نشاندہی کیجیے۔

1- تو مر راجپوتوں کے دور حکومت میں راجدھانی بنی

(دہلی/آگرہ)

2- رضیہ کس کی بیٹی تھی؟

(قطب الدین/التمش)

3- ابن بطوطہ کس ملک سے ہندوستان آیا تھا؟

(امریکہ/مراکش)

4- مخطوطات تیار کرتے وقت کتنے مرحلے ہوتے ہیں؟

(چار/تین)

5- نماز کے دوران مسلمان کس طرف منھ کرتے ہیں؟

(مشرق/مغرب)

خالی جگہوں کو پر کیجیے۔

- 1- ماں کی طرف سے مغلوں کا تعلق..... حکمراں خاندانوں سے تعلق رکھتے تھے۔
(منگول/لودھی)
- 2- تیور نے دہلی پر..... میں قبضہ کیا۔
(1398/1389)
- 3- اکبر راجپوتوں کے ساتھ..... تعلقات قائم کرنا چاہتا تھا۔
(دوستانہ/حاکمانہ)
- 4- بیرم خان..... کا محافظ تھا۔
(اکبر/پیر بل)
- 5- منصب داری کا مقصد..... میں سدھار لانا تھا۔
(عوام/انواج)
- 6-..... میں پانی پت کے میدان میں بابر نے ابراہیم لودھی کو شکست تھی۔
(1526/1536)
- 7- ابوالفضل نے اکبر کے دور حکومت کی تاریخ تین جلدوں میں لکھی، جس کا عنوان..... ہے
(آئینہ اکبری/اکبر نامہ)

نام:.....
[سوشل سائنس: SA-I]

رول نمبر.....

ورک شیٹ-9

کلاس-VII

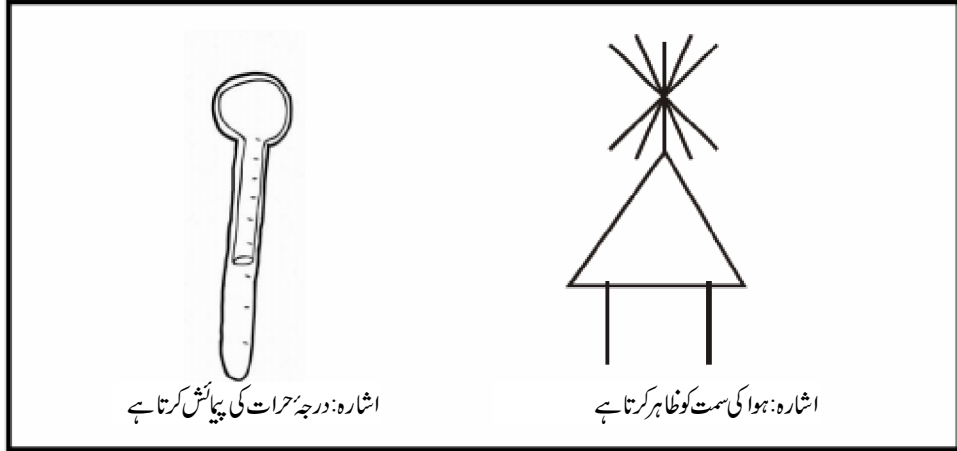
جغرافیہ

صحیح لفظ کا انتخاب کر کے ایک لفظ میں جواب دیجیے۔

کرہ میانہ	رطوبت	اشعاع شمسی	نائٹروجن
باد	0 ڈگری سیلسیوس	100 ڈگری سیلسیوس	مغربی ہوا

- 1- پانی جمتا (مجھد ہو جاتا) ہے.....
- 2- کرہ باد کا تیسرا طبقہ.....
- 3- ہوا میں کسی بھی وقت موجود آبی بخارات کی مقدار.....
- 4- ہوا میں سب سے زیادہ پائی جانے والی گیس.....
- 5- مغرب سے آنے والی ہوا.....
- 6- حرارت کی تقسیم کو متاثر کرنے والا سب سے اہم عنصر.....
- 7- پانی ابلتا ہے.....
- 8- زیادہ دباؤ سے کم دباؤ والے علاقے کی طرف ہوا کی حرکت.....

تصویر کی شناخت کیجیے اور دکھائے گئے آلے کا نام لکھیے۔



صحیح اور غلط کی نشاندہی کیجیے۔

- 1- چاند پر ہوا نہیں ہے۔ ()
- 2- فضائے قائمہ فضائی پرواز کے لیے موزوں نہیں ہے۔ ()
- 3- کاربن ڈائی آکسائیڈ ہوا میں سب سے زیادہ پائی جانے والی گیس ہے۔ ()
- 4- برفباری، اولہ ترسیب کی دیگر شکلیں ہیں۔ ()

نام:.....
[سوشل سائنس: SA-I]

رول نمبر.....

ورک شیٹ-10

کلاس-VII

علم شہریت

درج ذیل میں صحیح اور غلط بیان کی نشاندہی کیجیے۔

1- ہر معاشرہ لڑکوں اور لڑکیوں کے رول کے بارے میں یکساں نہیں سوچتا۔

.....

2- گھر پر رہنے والی عورتیں کام نہیں کرتیں۔

.....

3- مردوں کے کام کے مقابلے میں عورتوں کے کام کی اہمیت کم ہے۔

.....

4- ہمارا معاشرہ لڑکوں اور لڑکیوں کے درمیان ان کی نشوونما میں فرق نہیں کرتا۔

.....

5- گھریلو کاموں میں جسمانی محنت درکار ہے۔

.....

مندرجہ ذیل جدول کی مدد سے دیے ہوئے سوالوں کے جواب دیجیے۔

زمرہ	مرد	عورت
استاد	5	25
کسان	30	0
پائلٹ	27	03
سائنس داں	25	05
نرس	0	30
کل تعداد

1- عورتوں اور مردوں کی کل تعداد علیحدہ علیحدہ لکھیے۔

مرد عورت

2- کس قسم کے پیشوں میں عورتوں کے مقابلے مردوں کی تعداد زیادہ ہے۔

.....

3- کتنے سائنس داں مرد ہیں؟

.....

4- کتنی عورتیں کاشتکار (کسان) ہیں؟

.....

5- پائلٹ مردوں کی تعداد عورتوں کی تعداد سے کتنی زیادہ ہے؟

.....

رول نمبر.....

نام:.....

[سوشل سائنس: SA-II]

ورک شیٹ-11

کلاس-VII

تاریخ

صحیح جواب کی نشاندہی کیجیے۔

1- قطب مینار کے بننے کا سال

1199 (b)

1198 (a)

2- تاج محل کی تعمیر مکمل ہوئی

1643 (b)

1750 (a)

3- شگھارا کیا ہے؟

(b) مندر کا سب سے اونچا حصہ

(a) مندر کا خاص حصہ

4- شاہجہاں کے تخت کے پیچھے پتھروں کی کندہ کاری

(b) گاتھک طرز تعمیر

(a) پیٹرا ڈیورا

5- لفظ 'آب' کا مطلب ہے

(b) پانی

(a) آباد

6- چارباغ بنانے کی روایت شروع ہوئی

(b) اکبر کے زمانے میں

(a) شاہجہاں کے زمانے میں

صحیح لفظ کا انتخاب کر کے خالی جگہوں کو پُر کیجیے۔

999	راجپند راول	گیارہویں صدی	1648
1590	شاہجہاں	بھیرو	

- 1- کے شروع میں چولا بادشاہ راجپند راول عیشیو مندر کی تعمیر کرائی۔
- 2- دیوان عام میں تخت کی بالکنی..... میں مکمل ہوئی
- 3- شاہی معمار کے طور پر..... مشہور ہوا۔
- 4- چند یلا خاندان کے حکمران دھنگا دیو نے شیو کی عقیدت میں مہادیو مندر کی تعمیر..... میں کی۔
- 5- غزنی کا سلطان محمود..... کا ہم عصر تھا۔
- 6- متھر اور نداون میں گووند دیوا کے مندر کی تعمیر..... میں ہوئی۔
- 7- شیو کا ایک روپ ہے۔

رول نمبر.....

نام:.....


[سوشل سائنس: SA-II]

ورک شیٹ-12

کلاس-VII

جغرافیہ

1- پانی کی گردش کے عمل کو مکمل کیجیے۔



2- خالی جگہوں کو پر کیجیے۔

(i) گلف اسٹریم ایک..... سمندری رو ہے۔

(گرم/ٹھنڈی)

(ii)..... کی شوریٹ سب سے زیادہ ہے۔

(بحر عرب/بحیرہ مردار)

(iii) زمین کا..... حصہ پانی سے ڈھکا ہوا ہے۔

(2/3 یا 3/4)

(iv) تمام آبی ذخائر کا مجموعی نام ہے۔

(کرہ آب / کرہ حجری)

(v) سمندری دھاراؤں کی سمت میں تبدیلی لاتی ہے۔

(باد / آبی دھارا)

(vi) سنائی زبان کا لفظ ہے۔

(چینی / جاپانی)

(vii) ورلڈ واٹر ڈے کو منایا جاتا ہے۔

(22 فروری / 22 مارچ)

3- مندرجہ ذیل کالموں کا ملان کیجیے۔

کالم-B

کالم-A

سب سے لمبا اور گہرا سمندر

بحر ہند

ٹھنڈی سمندری رو

بحر اوقیانوس

گرم سمندری رو

بحر کیسپین

سب سے بڑی جھیل

گلف اسٹریم

برصغیر میں واقع

لیبراڈور

ورک شیٹ-13

کلاس-VII

علم شہریت

دیے ہوئے متبادلات میں سے صحیح متبادل کا انتخاب کر کے جملوں کو مکمل کیجیے۔

ماس میڈیا	ٹی وی۔	اشتہار	حکومت	میڈیا
آزادی	ذاتی جذبات	امیر لوگ	مہنگا	صارف

- 1- وہ لفظ جو ریڈیو، ٹی وی، انٹرنیٹ، اخبار اور ترسیل کے دیگر ذرائع کا یکجا طور پر ذکر کرنے کے لیے استعمال ہوتا ہے اسے.....
..... کہتے ہیں۔
- 2- آج ہمارے لیے..... کے بغیر زندگی کا تصور ممکن نہیں ہے۔
- 3- جس کی پہنچ لاکھوں لوگوں، ملک و بیرون ممالک اور عوام تک ہے اسے..... کہتے ہیں۔
- 4- متوازن رپورٹ لکھنا میڈیا کی..... پر منحصر کرتا ہے۔
- 5- ماس میڈیا مختلف چیزوں کے..... کے ذریعے پیسہ کماتے ہیں۔
- 6- ماس میڈیا..... کے کنٹرول میں ہیں۔
- 7- وہ شخص جس کے لیے مصنوعات تیار کی گئی ہیں اور وہ قیمت ادا کر کے اسے خریدتا اور استعمال کرتا ہے..... کہلاتا ہے۔
- 8- اشتہارات ہمیں زیادہ تر..... کے طرز زندگی کو دکھاتے ہیں۔
- 9- اشتہارات کو بنانا اور انھیں میڈیا میں دکھانا بہت..... ہے۔
- 10- زیادہ تر اشتہارات ہمارے..... کو نشانہ بنانے کی کوشش کرتے ہیں۔

.....رول نمبر

.....نام:

[سوشل سائنس: SA-II]

ورک شیٹ-14

کلاس-VII

تاریخ

مناسب الفاظ کی مدد سے جملوں کو مکمل کیجیے۔

1- تاجروں اور دستکاروں کا گروہ..... کہلاتا ہے۔

(قافلہ/گڈ)

2- راجستھان کے خانہ بدوش چھوٹے تاجر..... کہلاتے ہیں۔

(بنجارے/گڈریے)

3-..... دریا تھنجاور کے نزدیک سے ہو کر بہتا ہے۔

(کاویری/نرمد)

4- مسولی پٹنم کا قلعہ..... کے باشندوں نے بنوایا۔

(فرانس/ہالینڈ)

5- واسکوڈی گاما..... میں کالی کٹ پہنچا۔

(1489/1498)

6- ہمپس..... سلطنت کی راجدھانی تھی۔

(راج گنگر/وے نگر)

7-..... مغرب کا دروازہ کہلاتا ہے۔

(سورت/ممبئی)

صحیح اور غلط بیانات کی نشاندہی کیجیے۔

- 1- سورت خلیج بنگال میں واقع ایک اہم تجارتی بندرگاہ ہے۔ ()
- 2- سوداگرا کیلئے جانے کے بجائے قافلوں میں جانا پسند کرتے تھے۔ ()
- 3- چولا برونز کے مجسمے موم بہانے کی تکنیک سے بنائے جاتے تھے۔ ()
- 4- اجمیر بارہویں صدی میں چوہان بادشاہوں کی راجدھانی تھا۔ ()
- 5- بیدر کے دستکار لوہے اور کانسے کے کام کے لیے مشہور تھے۔ ()
- 6- ہمبھی شہر دریائے کرشنا اور تنگا بھدرا کے طاس میں واقع ہے۔ ()
- 7- گماشتہ ایسٹ انڈیا کمپنی کا سرکاری تاجر تھا۔ ()
- 8- اٹھارویں صدی میں کالے یادہیسی تاجر اور دستکاروں کو کالے شہروں میں محصور کر دیے گئے تھے۔ ()

رول نمبر.....

نام:.....

[سوشل سائنس: SA-II]

ورک شیٹ-15

کلاس-VII

جغرافیہ

درج ذیل الفاظ میں سے صحیح لفظ کا انتخاب کر کے دیے ہوئے سوالوں کے جواب دیجیے۔

ٹنڈرا	قدرتی نباتات	درجہ حرارت اور نمی پر
’جسے کسی نے چھوانہ ہو‘	اینا کوٹڈا	گھاس کے میدان

- 1- قطبی علاقوں میں پائی جانے والی نباتات۔
.....
- 2- معتدل بارش والے علاقوں میں پائے جاتے ہیں۔
.....
- 3- دنیا کا سب سے بڑا سانپ
.....
- 4- نباتات کی نمو..... پر منحصر کرتی ہے۔
.....
- 5- روسی زبان میں ’ٹیک‘ کا مطلب ہے:
.....

مندرجہ ذیل کالموں کو ملائیے

کالم-B

کالم-A

- | | |
|------------------------|--------------------------|
| زیتون، انجیر، نیبو | 1- ٹراپیکل پت جھڑ جنگلات |
| سال، ساگوان، نیم، شیشم | 2- معتدل سدا بہار جنگلات |

- 3- مخروطی جنگلات خط استوائی جنگلات
- 4- دنیا کے باغات اوک، شاہ بلوط، یوکلیپٹس
- 5- بحر رومی نباتات چیڑ، دیودار، سدرہ

درج ذیل خانوں میں کچھ جانوروں اور نباتات کے نام پوشیدہ ہیں۔ ان کی شناخت کیجیے اور دو نباتات اور دو جانوروں کے نام لکھیے۔

د	یو	د	ا	ر	ش	ی	ش	م	ر	ا
ر	و	ر	ب	بھ	ے	ٹ	یا	ہ	ب	ن
خ	ل	ن	گ	و	ر	ا	ل	و	ن	ا
ت	و	ش	ا	ہ	ب	ل	و	ط	د	ک
آ	م	ہ	و	گ	ن	ی	م	ن	ر	و
ا	ٹ	م	ا	ن	چ	ی	ٹ	ی	ر	ن
ت	ی	ن	د	ہ	ا	ت	ی	ت	ر	ڈ
ٹ	ن	ڈ	ر	ا	ن	گ	چ	ی	ت	ا

دو نباتات کے نام

.....

.....

دو جانوروں کے نام

.....

.....

نام:.....
[سوشل سائنس: SA-II]

رول نمبر.....

ورک شیٹ-16

کلاس-VII

تاریخ

مندرجہ ذیل کالموں کو ملائیے

کالم-B	کالم-A
گشتی لوگ	1- بلوچ
بنجاروں کا قافلہ	2- پیٹرمنڈی
شمال مغرب کا ایک طاقتور قبیلہ	3- ٹانڈا
انگریز تاجر	4- خانہ بدوش

مختلف قبیلوں کے علاقوں کی شناخت کر کے انھیں نیچے دی ہوئی جگہ میں لکھیے۔

پنجاب	مغربی اور وسطی ہندوستان	مغربی ہمالیہ	بہار
مدھیہ پردیش	کرناٹک	مشرقی ہندوستان	

1- بھیل
2- گونڈ
3- کھوکھر

4- ناگا

.....

5- گڈی گڈریے

.....

6- کولی

.....

7- چیرو

.....

نیچے دیے ہوئے الفاظ کی مدد سے منتقلی کاشت (مقام بدل کر کھیتی) کی وضاحت کیجیے۔

راکھ میں فصل

جلانا

جھاڑیوں کو کاٹنا

پیڑ

دوسرا قطعہ زمین صاف کرنا

زرخیزی کا بحال ہونا

.....

.....

.....

.....

.....

.....

.....

.....

.....

.....

.....

ورک شیٹ-17

کلاس-VII

علم شہریت

درج ذیل میں صحیح متبادل کا انتخاب کیجیے۔

1- درج ذیل میں سیکون بازار کی ایک قسم ہے؟

(a) شاپنگ کمپلکس (b) محلہ کی دکان

(c) ہفتہ وار بازار (d) مذکورہ بالا سبھی

2- وہ بازار جو ہفتہ کے ایک مخصوص دن میں لگتا ہے۔

(a) ہفتہ وار بازار (b) محلہ کی دکان

(c) یومیہ بازار (d) ان میں سے کوئی نہیں

3- ہفتہ وار بازاروں میں چیزیں سستی قیمتوں میں مل جاتی ہیں کیونکہ

(a) دکانوں کا کرایہ نہیں دینا پڑتا (b) بجلی کا بل نہیں ادا کرنا پڑتا

(c) سرکاری فیس نہیں دینی پرتی (d) مذکورہ بالا سبھی

4- سامان تیار ہوتا ہے:

(a) گھروں میں (b) دکانوں میں

(c) کارخانوں میں (d) ان میں سے کوئی نہیں

5- سامان پیدا کرنے والے اور صارف کے درمیان..... ہوتے ہیں۔

(a) تاجر (b) خریدار

(c) تھوک تاجر (d) ان میں سے کوئی نہیں

6- جہاں پر کئی قسم کی دکانیں ہوتی ہیں اس جگہ کو..... کہتے ہیں

(a) محلّہ کی دکان (b) شاپنگ کا مپلیکس

(c) ہفتہ وار بازار (d) ان میں سے کوئی نہیں

7- ہفتہ وار بازار میں چھوٹا دکاندار شاپنگ کا مپلیکس کے دکاندار کے مقابلے میں

(a) کم کماتا ہے (b) زیادہ کماتا ہے

(c) نہ تو کم کماتا ہے اور نہ ہی زیادہ (d) ان میں سے کوئی نہیں

مندرجہ ذیل باتوں میں ہفتہ وار بازار اور شاپنگ کا مپلیکس کا موازنہ کیجیے۔

بازار	فروخت ہونے والے سامان کی قسم	سامان کی قیمت	فروخت کرنے والے	خریدار
ہفتہ وار بازار				
شاپنگ کا مپلیکس				

نام:.....
[سوشل سائنس: SA-II]

رول نمبر.....

ورک شیٹ-18

کلاس-VII

تاریخ

مندرجہ ذیل کالموں کو ملائیے

کالم-B	کالم-A
شیو کے معتقد سنت	1- بھگود گیتا
مسلمان عالم	2- ناری مہتا
ہندوؤں کی مذہبی کتاب	3- علما
گرو دوارا	4- نینار
مشہور گجراتی سنت	5- دھرم شالہ
	خالی جگہوں کو پر کیجیے۔
	1- فلسفی شنکرا.....میں پیدا ہوئے تھے۔
(کیرالہ/ آندھرا پردیش)	
	2- بسا و ننانے.....تحریک شروع کی۔
(برہمنی/ ویراشیو)	

3- سنتوں اور..... میں بہت زیادہ یکسانیت تھی۔

(صوفیوں/شاعروں)

4- صوفی سنت اپنی مجلسیں اپنی ہی..... میں کیا کرتے تھے۔

(خانقاہوں/آشرموں)

5- تلسی داس نے اپنے خدا کو..... کے روپ میں سمجھا تھا۔

(رام/کرشن)

بھکتی سنت اور ان سے منسوب خطوں کو درج ذیل فہرست میں سے چھانٹ کر لکھیے۔

راجستھان	اتر پردیش	مہاراشٹر	تمل ناڈو
1- ایکنا تھ		
2- رمانج		
3- سورداس		
4- میرابائی		

ورک شیٹ-19

کلاس-VII

جغرافیہ

اسکول آتے وقت ہم نقل و حمل کے کس ذریعہ کا استعمال کرتے ہیں؟

1-

2-

صحیح لفظ کا انتخاب کر کے سوالوں کے جواب دیجیے۔

قومی شاہراہ

موسمی نقل مکانی

کثیف (گھنی) بستیاں

چھدری بستیاں

موقع (یا محل وقوع)

مواصلات

1- وہ سڑکیں جو ملک کے بڑے شہروں کو آپس میں جوڑتی ہیں۔
.....

2- مکان بہت قریب قریب ہوتے ہیں۔
.....

3- موسم کے لحاظ سے لوگ ایک جگہ سے دوسری جگہ منتقل ہو جاتے ہیں
.....

4- یہ بستیاں پہاڑی اور گھنے جنگلات والے علاقے میں پائی جاتی ہیں۔
.....

5- وہ مقام جہاں مکان اور بستیاں تعمیر کی جاتی ہیں۔
.....

6- دوسروں تک پیغام رسانی کا ذریعہ ہیں۔
.....

درج ذیل تصویروں کی شناخت کیجیے اور مواصلات کے ذریعے کا نام لکھیے۔



صحیح متبادل کا انتخاب کیجیے۔

- (i) لوگوں سے رابطہ قائم کرنے کا ذریعہ (ماس میڈیا) ہے
- (a) اخبارات
- (b) ریڈیو اور ٹیلی ویژن
- (c) مذکورہ بالا سبھی
- (ii) دنیا کی سب سے لمبی ریلوے لائن کا نظام ہے:
- (a) ہندوستانی ریلوے
- (b) ٹرانس سائبیریا ریلوے
- (c) یورپی ریلوے
- (iii) ان میں سے کون سڑک کی زمین دوز تعمیر ہے؟
- (a) سب وے
- (b) ایکسپریس وے
- (c) فلائی اوور
- (iv) نقل و حمل کا کون سا ذریعہ ماحول کو آلودہ نہیں کرتا
- (a) بس
- (b) سائیکل
- (c) ہوائی جہاز
- (v) وہ دریا اور جھیلیں جو کشتی چلانے کے قابل ہیں ان کو..... کے لیے استعمال کیا جاتا ہے۔
- (a) اندرون ملک آبی راستوں
- (b) بحری راستوں
- (c) مذکورہ بالا دونوں

ورک شیٹ-20

کلاس-VII

جغرافیہ

مندرجہ ذیل اقتباس کو پڑھیے اور دیے ہوئے سوالوں کے جواب دیجیے۔
”گنگا اور برہم پتر کے معاون دریا مل کر برصغیر ہند میں گنگا و برہم پتر کا طاس بناتی ہیں۔ گھاگھرا، سون، چنبل، گندک، کوتسی وغیرہ جیسی گنگا کی معاون ندیاں اور برہم پتر کی معاون ندیاں اس طاس میں بہتے ہیں۔ گنگا اور برہم پتر کے میدان، پہاڑ اور ہمالیہ کے دامناور سندربن ڈیلٹا اس طاس کی چند خصوصیات ہیں۔ یہاں کے پہاڑی علاقوں میں آبادی کم ہے۔ برہم پتر کے میدانی علاقوں میں بانس کے جھرمٹ ملتے ہیں۔“

سوالات:

1- گنگا اور برہم پتر کا طاس کون بناتا ہے؟

.....

2- گنگا کی تین معاون ندیوں کے نام بتائیے۔

.....

3- اس طاس کی اہم خصوصیات بتائیے۔

.....

4- کن علاقوں کی آبادی کم ہے؟

.....

5- بانس کے جھر مٹ کہاں پائے جاتے ہیں؟

صحیح جوڑے ملائیے۔

ٹوکان	ایک قسم کا پودا
تاج محل	ڈیلٹا
سوس	پرنده
سندر بن	آگرہ
برومیلیاڈ	ایک قسم کی ڈالفن

گنگا برہم پتر طاس کے لوگوں کی زندگی کے بارے میں لکھیے۔

اشارات: زراعت — مناسب آب و ہوا — زرخیز مٹی — صنعت

جواب:

.....

.....

.....

.....

.....

.....

.....

.....

نام:.....
[سوشل سائنس: SA-II]

رول نمبر.....

ورک شیٹ-21

کلاس-VII

تاریخ

مناسب لفظ چھانٹ کر جواب لکھیے۔

چھوٹی تصویر

راس لیلا

کتھک

منی پراولم

برہادھر ماپوران

دھرم پوران

پیر

بھاٹ

1- راجپوت راجاؤں کی شان میں گانے والے لوگ۔

2- 'کتھا' لفظ سے اخذ کی گئی اصطلاح۔

3- چھوٹے سائز کی تصویر۔

4- رادھا کرشن کے بارے میں روایتوں اور کہانیوں کو لوک ناولوں کی شکل میں پیش کرنا۔

5- یہ ماننا کہ پیڑ پودوں، جاندار اور قدرتی اشیاء میں بھی روح ہے۔

6- ایک فارسی لفظ جس کے معنی ہیں روحانی رہنما۔

7- تیرھویں صدی کا سنسکرت متن۔

8- سنسکرت اور علاقائی زبان کا ساتھ ساتھ استعمال کرتے ہوئے ایک طرزِ تحریر۔

مندرجہ ذیل کلاسیکی رقص کا ان سے متعلق ریاستوں کے ساتھ ملان کیجیے۔

بھارت ناٹیم	آندھرا پردیش
کتھاکلی	منی پور
اوڈیسی	کیرل
کوچی پوڈی	اڑیسہ
منی پوری	تمل ناڈو

ذیل میں مختلف کھانوں کی فہرست دی ہوئی ہے۔ ان سے متعلق ریاست کا نام ان کے سامنے دی ہوئی جگہ میں لکھیے۔

بہار	تمل ناڈو	گجرات	پنجاب	راجستھان
1-	دہی کی لسی مکا کی روٹی		
2-	باجرے کی روٹی		
3-	اڈلی ڈوسا		
4-	ستو، دال چاول		
5-	ڈھوکلا، کھا کرا		

ورک شیٹ - 22

کلاس - VII

جغرافیہ

صحیح متبادل کا انتخاب کیجیے۔

- 1- معتدل خطہ کے گھاس کے میدانوں کو شمالی امریکہ میں کیا کہتے ہیں؟
- (a) ویلڈ (b) پریری (c) سہارا
- 2- پریری کے اصل امریکن باشندے کیا کہلاتے ہیں؟
- (a) کالے انڈین (b) گورے انڈین (c) ریڈ انڈین
- 3- مسی سی کس ملک میں بہتی ہے؟
- (a) چلی (b) کناڈا (c) ریاست ہائے متحدہ امریکہ
- 4- کبر لے کس کے لیے مشہور ہے؟
- (a) کونکہ (b) چاندی (c) ہیرا
- 5- ویلڈ کس نصف کرہ میں واقع ہے؟
- (a) مشرقی (b) جنوبی (c) شمالی

مندرجہ ذیل کالموں کو ملائیے

کالم-B	کالم-A
ویلڈ	(i) جوہنس برگ
موشی پالنے کے بڑے بڑے فارم	(ii) بائسین
امریکی بھینس	(iii) کمبائن
وہ مشین جو بوائی، جتائی اور تھریشر کا کام کرتی ہے	(iv) جنوبی افریقہ کے معتدل گھاس کے میدان
سونے کا دارالسلطنت	(v) ریچ

مناسب الفاظ کی مدد سے خالی جگہوں کو پُر کیجیے۔

- (i) عام طور پر دنیا کے گھاس کے میدانوں کو آب و ہوا کی بنیاد پر..... زمروں میں تقسیم کیا جاتا ہے۔
(دو/تین)
- (ii) پریری مغرب میں..... اور مشرق میں عظیم جھیلوں سے گھرے ہوئے ہیں۔
(کوہ راکی/کوہ انڈیز)
- (iii) چنوک ایک..... ہوا ہے جو موسم سرما میں چلتی ہے۔
(گرم/سرد)
- (iv) بحر ہند کے اثر کی وجہ سے ویلڈ کی آب و ہوا..... ہوتی ہے۔
(خشک/نم)
- (v) ویلڈ میں..... کے بڑے ذخائر موجود ہیں۔
(معدنیات/اناج)

ورک شیٹ-23

کلاس-VII

تاریخ

مناسب الفاظ کی مدد سے خالی جگہوں کو پُر کیجیے۔

- 1- سن..... میں اورنگ زیب کا انتقال ہوا۔
(1707/1717)
- 2- سن..... میں نادر شاہ نے ہندوستان پر حملہ کیا۔
(1739/1729)
- 3- سوائی راجا..... نے جے پور میں اپنی نئی راجدھانی قائم کی۔
(جے سنگھ/مان سنگھ)
- 4-..... صدی کے دوران سکھ ایک سیاسی گروہ کی شکل میں منظم ہو گئے۔
(پندرہویں/سترہویں)
- 5- مراٹھوں کو 1761 میں پانی پت کی..... لڑائی میں دیگر حکمرانوں سے کوئی مدد نہیں ملی۔

مندرجہ ذیل کالموں کو ملائیے

کالم-A	کالم-B
چورامان	زمینی محصول کا 10-9 فیصد حصہ
دیش مکھ	حیدرآباد ریاست قائم کی
سر دیش مکھی	جو دھپور
نظام الملک آصف جاہ	سکھوں کے دسویں گرو
مہران گڑھ قلعہ	مراٹھوں کا جنگجو خاندان
گرو گوبند سنگھ	جاٹ نیتا

صحیح متبادل کا انتخاب کیجیے۔

- 1- برطانوی ایسٹ انڈیا کمپنی نے اقتدار قائم کر لیا۔
(a) 1757 (b) 1771
- 2- چوتھ، زمین داروں کے حاصل کیے ہوئے محصول کا..... حصہ تھا
(a) 25 فیصد (b) 10 فیصد
- 3- مراٹھا سلطنت قائم کی
(a) ٹیپو سلطان نے (b) شیواجی نے
- 4- مہاراجا رنجیت سنگھ نے لاہور کو اپنی راجدھانی بنایا۔
(a) 1715 میں (b) 1799 میں
- 5- برہان الملک سعادت خان نے..... قائم کی۔
(a) بنگال ریاست (b) اودھ ریاست

نام:.....
[سوشل سائنس: SA-II]

رول نمبر.....

ورک شیٹ-24

کلاس-VII

علم شہریت

نیچے دیے ہوئے الفاظ میں سے مناسب لفظ کا انتخاب کیجیے اور جملوں کو مکمل کیجیے۔

خواتین	دلت	آدی واسی	مسلمان
جمہوریت	بالغہ رائے دہندگی	تاوامتسیا سنگھ	غریبی اور وسائل کی کمی
1-	ہر بالغ شہری کو انتخابات کے دوران مساوی طور پر ووٹ ڈالنے کا حق..... کہلاتا ہے۔		
2- ہندوستانی سماج میں نابرابری کی وجہ ہے۔		
3-	مانہی گیروں کی کوآپریٹو سوسائٹی..... ہے۔		
4-	برابری کے مسائل..... کا مرکز ہیں۔		
5-	2001 کی مردم شماری کے اعداد و شمار کے مطابق کل آبادی کا 48 فیصد..... 13 فیصد..... ہیں، 16 فیصد..... اور 8 فیصد..... ہیں۔		

مندرجہ ذیل کالموں کو ملائیے

کالم-A	کالم-B
(i) وہ فیکٹری جہاں کپاس کے بنولوں سے بیج علیحدہ کیے جاتے ہیں	براہ راست نظام
(ii) وہ شخص جو ملک سے باہر سامان بیچتا ہے	کپاس بیلنے کا مل
(iii) تھوک تاجر اور بنکروں کے بیچ کا انتظام	ایکسپورٹ

رول نمبر.....

نام:.....

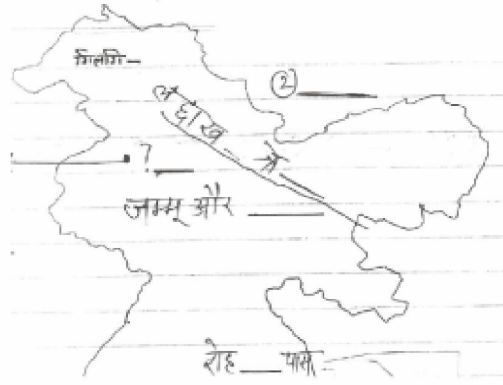
[سوشل سائنس: SA-II]

ورک شیٹ-25

کلاس-VII

جغرافیہ

مکمل کیجیے:



(i) دو ممالک کے نام خالی جگہ میں لکھیے۔

(ii) نقشے کے اندر خالی جگہوں کو پر کیجیے۔

صحیح متبادل کا انتخاب کیجیے۔

1- افریقہ کے کس حصے میں صحارا ریگستان ہے۔

(a) وسطی افریقہ (b) شمالی افریقہ

2- دنیا میں توانائی کے کس ذریعہ کی سب سے زیادہ مانگ ہے؟

(a) معدنی تیل (b) کوئلہ

3- لداخ کن دو لفظوں سے مل کر بنا ہے؟

(a) 'لا' اور 'داک' (b) 'لاڈ' اور 'داک'

4- گانگری کیا ہے؟

(a) ندی
(b) گلشیر

5- لداخ کا دوسرا نام کیا ہے؟

(a) سندھ
(b) کھا-پا-چان

مندرجہ ذیل الفاظ کا استعمال کر کے صحارا ریگستان کی زندگی کے بارے میں لکھیے۔

بھری کپڑے	گرم ہوا	بھیڑ پالتے ہیں	بکری
شہر کی طرف ہجرت	اونٹ	معدنیات	کھجور

جواب:

.....

.....

.....

.....