

PREPARATION of Question Bank

SOCIAL SCIENCE

Class X

2009- 2010

Group Leader : **Mrs. Pushpa Tripathi**
P.G.T. Geography
R.P.V.V. , Yamuna Vihar
Delhi- 110053

- Members** :
- 1. Gopal Prasad Shahi**
T.G.T. S.Sc.
R.P.V.V. Sham Nath Marg,
Delhi-110054
 - 2. Neelam Sharma**
T.G.T.
R.P.V.V. Yamuna Vihar,
Delhi-110053
 - 3. S.D. Sharma T.G.T.**
R.P.V.V., Hari Nagar
Delhi- 110064
 - 4. Ashok Kr. Singh Rathore T.G.T.**
R.P.V.V. Gandhi Nagar,
Delhi -110053
 - 5. Mrs. Sanghamitra**
G.S.K.V., G.T. Road,
Shahdara, Delhi-110053

प्रश्न कोष
2009- 10
सामाजिक विषय कक्षा-X

- भाग 1. भारत और समकालीन विव -2
- भाग 2. समकालीन भारत -2
- भाग 3. लोकतान्त्रिक राजनीति -2
- भाग 4. आर्थिक विकास की समझ

CENTRAL BOARD OF SECONDARY EDUCATION
SHIKSHA SADAN, 17-ROUSE AVENUE,
NEW DELHI-110002

CBSE/EO(COM.)/2009/

Dated : 17/04/2009

Circular No. 11/09

The Heads of Institutions

Affiliated to CBSE

Subject Social Science Syllabus of Class-X for Board Examination 2010

Dear Principal,

Your kind attention is drawn to the office circulars no. 15/08 dated 11.04.2008 and 20/08 dated 14.05.2008 conveying the changes effected in respect of evaluation of Disaster Management through project work and assignments along with details of the modalities for the same.

Consequent upon this, the 8 marks allocated to Disaster Management were reallocated to the other components of History, Geography, Political Science and Economics making the Units total as 22,22,18,18 marks respectively.

In continuation of these changes keeping in view the recommendations contained in NCF 2005 to give equal weight age to the four components of History, Geography, Political Science and Economics, the marks have been further revised as –

Unit 1 : India and the Contemporary World II	(History)	20 Marks
Unit 2 : India – Resources and their Development	(Geography)	20 Marks
Unit 3 : Democratic Politics II	(Political Science)	20 Marks
Unit 4 : Understanding Economic Deveopment	(Economics)	20 Marks

Accordingly the syllabus for Social Science has been updated as follows which will be effected from the Board's Examination 2010 onwards.

In Unit 1 : India and the contemporary World, the students will exercise their option of choice among the prescribed themes in the following manner :-

Sub. Unit 1.1 – Events and Processes

Theme 1 : Nationalism in Europe

Theme 2 : Nationalist Movement in Inco-China

Theme 3 : Nationalism in India

(Any one theme out of themes 1 and 2. Theme 3 is compulsory)

Sub-Unit 1.2 – Economies and Livelihood

Theme 4 : Industrialization 1850s – 1950s

Theme 5 : Urbanization and Urban Lives

Theme 6 : Trade and Globalization

(Any one theme out of themes 4, 5 and 6)

Sub-Unit 1.3 – Culture, Identity and Society

Theme 7 : Print culture and nationalism

Theme 8 : History of the novel

(Any one theme out of themes 7 and 8)

Hence, the students will be required to study four themes in Unit 1 (History) India and the Contemporary World II.

In Unit 2 (Geography), India – Resources and their development, class X, the topic on ‘Forest and Wild Life Resources’ has been included for the Board Examination, 2010 and onwards and the sub-topics given in chapter 4 of the NCERT's Geography text book - Contemporary India Part II, namely Food Security (page 44) and Impact of Globalization on Agriculture (Page 46) will remain deleted.

The syllabus in the remaining three components remains the same. Also disaster management continues to be evaluated through projects and assignments only. Sample question paper based on the revised pattern will be soon uploaded on the Board's website www.cbse.nic.in. Kindly bring the changes mentioned above to the notice of all concerned.

Yours faithfully

(C.Gurumurthy)

Director (Academics)

Design of Question Paper

Social Science

(Class - X)

Time- 3 hours

Max Marks=80

The Weightage of marks over different dimensions of the Question shall be as Under:-

I Weightage of Different form of Questions

Form of Questions	Marks	No of Que	Total Marks
Long answer Que	4	10	40
Short Ans Que	3	8	24
Very Short answer Que	1	10	10
Map Questions	2,4	1	06
Total		29	80

II Weightage of Content Units

Unit I India and the Contemporary World-2 (History) 20 Marks.

1. Events and Processes.

Any one theme out of theme 1 and 2 (4 Marks)

Theme 1 Nationalism in Europe (Chapter 1)

Theme 2 National movement in Indo China (Ch.2)

Compulsory Theme (6 marks) - Theme 3- Nationalism in India (Ch. 3)

1.2. Economic and livelihood (Marks 4)

Any one themes

Theme 4. The making of Global world

Theme 5. The age of Industrialization

Theme 6. work, life and leisure

1.3. Culture, Identity and Society (Marks 4) Any one theme

Theme 7. Print, Culture and nationalism, (Chapter 7.)

Theme 8. Histry of Novel

Unit 2 : Contemporary India (Geography) (20 Marks)

Chapter	Name	Marks
2,1	Resources and Development	} 6 Marks
2.2	Forest	
2.4	Agriculture	
2.3	Water Resources	} 6 Marks
2.5	Minerals and Energy Resources	
2.6	Manufacturing Industries	

2.7 Life line of National Economy 4 Marks
Map

**Unit 3 Democratic Politice-2
(Political Science) 20 Marks**

3.1	Power Sharing Mechanism in Democracy	}	6 Marks
3.2	Federelism		
3.3	Democracy and Diversities	}	6 Marks
3.4	Cast, Religion and Gender Issues		
3.5	People Movement	}	4 Marks
3.6	Political Parties		
3.7	Out comes of Democracy Challenges of Democracy	}	4 Marks

Unit 4. Understanding Economics 20 Marks

4.1	The Story of Devloperment	4 Marks
4.2	The Sectors of Indian Economy	4 Marks
4.3	Money and credit	4 Marks
4.4	Globalization and Indian Economy	4 Marks
4.5	Consumer Rights	4 Marks

III Weightage of Difficulty Level

Estimated difficulty Level	%	Total
Difficult	20	16
Average	50	40
Easy	30	24
Total	100	80

Project on given Topice (Any one)=20 Marks

IV SCHEME OF OPTIONS :-

Internal Choice to be provided in Unit 1 (History) Only as specified Under Weightage to Content.

V Word and time limit for Answers:-

- (i) One mark Questions : One word / One sentence each and time - (2 Miniutes each = 10x2 = 20 Minutes)
- (ii) Three mark Ques:- 60-80 words each and time:- 6 Minutes each.(8x6=48 Minutes)
- (iii) Four mark Ques:- 80-100 Words each and time:- 8 Minutes each (10x8=80 Minutes)
- (iv) Map Questions- Time=15 Minutes

Total= 180 Minutes.

VI LIST OF MAP ITEMS FOR CLASS X EXAMINATION

A. History

Outline Political Map Europe (For identification only)

Page 6 : Europe after the Congress of Vienna 1815

1. Sardinia
2. Kingdom of the two Sicilies
3. Austrian Empire-Austria, Hungary and Galicia
4. Portugal
5. France
6. Spain
7. Ottoman Empire
8. Kingdom of papal state-Rome.

Outline political Map of Asia (For identification only)

Page 47 : Four states in Indo-China before the formation of Republic of Vietnam

1. Laos
2. Cambodia
3. North and South Vietnam
4. Thailand

Outline Political Map of Africa (For identification only)

Page 85 : Map of Colonial Africa at the end of the 19th Century

Colonies in Africa of the two powerful Countries of Europe

- (i) **British colonies:-**
1. Egypt
 2. Anglo Egyptain Sudan
 3. Gold Coast
 4. Nigeria
 5. British East Africa
 6. Northern Rhodesia and
 7. Southern Rhodesia
- (ii) **French Colonies :-**
1. Morocco
 2. Algeria
 3. French West Africa
 4. French Equatorial Africa
 5. Middle Congo and
 6. Madagascar

Outline political Map of india (For identification only)

Page 53 : Nationalism in India-1918-1930

(i) For locating and labelling only

1. India National Congress Sessions:- Calcutta (1920), Madras (1927) and Lahore (1929)
2. Important Centres and India National Movement
(Non-Cooperation and Civil Disobedience Movement)
 - (i) Chauri Chaura (U.P) calling of the NCM.
 - (ii) Bardoli (Gujarat) no tax campaign
 - (iii) Dandi (Gujarat) Civil Disobedience Movement
 - (iv) Champaran (Bihar) Movements of indigo Planters
 - (v) Amritsar (Punjab) Jallianwala Bagh incident

(ii) For identification only

3. Main centres of overseas trade in Western coast and Eastern coast india (Page 91):
Goa, Surat, Madras and Masulipatam
4. Large-scale industrial region in india, 1931 (Page 123): Bengal, Bombay, Madras etc.

B. Geography

Chapter 1 : Resources and Development

Identification: Major soil Types.

Chapter 3 : Water Resources

Locating and Labelling-Dams: 1. Salal 2. Bhakra Nangal 3. Tehri 4. Rana Pratap
5. Gandhi Nagar 6. Sardar Sarovar 7. Rihand 8. Hirakud 9. Ramagundam 10. Nagarjuna Sagar
11. Tungabhadra 12. Koyna and 13. Periyar Dam

Chapter 5 : Mineral and Energy Resources

Minerals: (identification only)

- (i) Iron ore mines: Mayurbhanj, Durg, Bailadila, Bellary and Kudremukh
- (ii) Bauxite mines: Koreput, Katni, Amarkantak and Bilaspur
- (iii) Manganese mines: Sundargarh, Balaghat, Shimoga and Nagpur
- (iv) Mica mines: Ajmer, Beawar, Nellore, Gaya and Hazaribagh
- (v) Coal mines: Raniganj, Jharia, Bokaro, Talcher, Korba, Singareni and Neyveli
- (vi) Oil Fields: Digboi, Naharkatia, Mumbai High, Bassian, Kalol and Ankaleshwar

Power Plants : (Locating and Labelling only)

- (a) Thermal: Namrup, Loktak, Bongaigaon, Barauni, Harduaganj, Chandraura, Korba, Delhi, Satpura, Bhusawal, Uran, Ramagundam, Vijaywada and Tuticorin
- (b) Nuclear: Norora, Rawat, Bhata, Kakrapar, Tarapur, Kaiga and Kalpakkam

Chapter 6 : Manufacturing industries

Locating and Labelling only

- (i) Cotton Textile industries: Mumbai, Pune, Aurangabad, Indore, Ahmedabad, Surat, Agra, Kanpur, Moradabad, Chennai, Coimbatore and Madurai
- (ii) Woollen industry: Srinagar, Amritsar, Ludhiana, Panipat, Kikaner, Kanpur, Mirzapur and Jamnagar
- (iii) Silk industry: Baramula, Anantnag, Srinagar, Murshidabad, Bankura, Kolar, Mysore and Bangalore
- (iv) Iron and Steel Plants: Burnpur, Durgapur, Bokaro, Jamshedpur, Raurkela, Bhilai, Vijaynagar, Bhadravati, Vishakhapatnam and Salem

Chapter 7 : Lifelines of National Economy

Identification only: Golden Quadrilateral, North-South Corridor and East-west Corridor.

National Highways : NH-1 ,NH-2 ,NH-3, NH-5, NH-7, NH-8, NH-9, NH-15 and NH-17

Locating and Labelling : Major Ports-Kandla, Mumbai, Jawahar lal Nehru, Marmaga, New Mangalore, Kochi, Tuticorin, Chennai, Vishakhapatnam, Paradip, Haldia and Kolkata

International Airports : Amritsar (Raja Sansi);

Delhi (Indira Gandhi international); Mumbai (Chhatrapati Shivaji);

Triuvanantapuram (Nedimbachery): Chennai (Meenam Bakkam);

Kolkata (Netaji Subhash Chandra Bose) and Hyderabad

Note : Items of locating and labelling may also be given for identification.

भारत और समकालीन विश्व-2

अध्याय-1 यूरोप में राष्ट्रवाद का उदय

1. अंक वाले प्रश्न -

1. 'कल्पनार्दा समाज' से क्या अभिप्राय है?
2. राष्ट्रराज्य की संकल्पना के आधार क्या थे?
3. निरंकुवाद का अर्थ बताइये।
4. 18वीं सदी में यूरोप में कौन से दो नए सामाजिक समूह अस्तित्व में आये?
5. यूरोप में 19वीं सदी के दौरान नए मध्य वर्गों के लिए उदारवाद का क्या मतलब था?
6. आर्थिक क्षेत्र में उदारवाद किन दो बातों का पक्षधर था?
7. ब्रितानी राष्ट्र में रहने वाले किन्ही दो नजातीय समूहों के नाम लिखिये?
8. बाल्कन क्षेत्र पर किस साम्राज्य का प्रभुत्व था?

3 अंक वाले प्रश्न-

9. फ्रांसीसी क्रान्ति के फलस्वरूप फ्रांस में आये राजनीतिक और संवैधानिक बदलावों को तीन बिन्दुओं में स्पष्ट कीजिये।
10. 18वीं सदी में राष्ट्र के विचार को विकसित करने में कुलीन वर्ग की भूमिका को किन्हीं तीन बिन्दुओं में स्पष्ट कीजिये।
11. 1834 में गठित जुल्क संघ जॉलवेराइन की तीन विषयतायें बताइयें।
12. ज्युसेपी मेत्सिनी कौन था ? उसके द्वारा मार्सेई तथा बर्न में स्थापित क्रांतिकारी संगठनों के नाम बताइयें।
13. जर्मन दार्शनिक योहान गॉटफ्रीड के विचारों की तीन बिन्दुओं में समीक्षा कीजिये।
14. भाषा ने यूरोप की राष्ट्रीय भावनाओं के विकास में महत्वपूर्ण भूमिका निभाई है। तीन बिन्दुओं द्वारा स्पष्ट कीजिये।
15. यूरोप में राष्ट्रीय भावनाओं को विकसित करने में रूमानी चिंतकों के किन्हीं तीन योगदानों का उल्लेख कीजिये।
16. एकीकृत इतावली गणराज्य के निर्माण में काउंट कैमिलो दे कावूर की भूमिका को स्पष्ट कीजिये।

4 अंक वाले प्रश्न

17. फ्रांसीसी लोगों में एक सामूहिक पहचान की भावना विकसित करने के लिये क्रांतिकारियों द्वारा उठाये गये चार कदम क्या थे? स्पष्ट कीजिए।
18. "नेपोलियन द्वारा प्रासनिक क्षेत्र में क्रांतिकारी सिद्धान्तों का समावेश किया गया ताकि पूरी व्यवस्था अधिक तर्कसंगत और कुशल बन सके।" इस कथन को किन्हीं 4 बिन्दुओं में स्पष्ट कीजिये।
19. वियना संधि कब हुई? इस संधि के किन्ही तीन परिणामों का उल्लेख कीजिये।
20. "1830 का दाक यूरोप में भारी कठिनाइयां लेकर आया।" इस कथन को किन्ही चार बिन्दुओं द्वारा स्पष्ट कीजिये।

21. 1804 की नेपोलियन नागरिक संहिता की चार प्रमुख विशेषताओं का उल्लेख कीजिये?
22. मारीआन व जर्मनिया कौन थे? उन्हें किस प्रकार चित्रित किया गया?
23. फ्रेंकफर्ट संसद कब आयोजित की गई? जर्मन राष्ट्र निर्माण में फ्रेंकफर्ट संसद के योगदान का तीन बिन्दुओं में उल्लेख कीजिये।
24. जर्मन एकीकरण प्रक्रिया के विभिन्न चरणों का उल्लेख कीजिये।
25. एकीकृत इतालवी गणराज्य की स्थापना के चार-प्रमुख चरणों का उल्लेख कीजिये।
26. ब्रिटेन में राष्ट्रवाद के विकास की प्रक्रिया का उल्लेख कीजियें।
27. राजनीतिक आकांक्षाओं की पूर्ति के लिये बाल्कन क्षेत्र किस प्रकार विस्फोटक साबित हुआ? चार बिन्दुओं द्वारा स्पष्ट कीजिये।
28. “राष्ट्रवाद और समाजवाद एक दूसरे के पूरक थे”। इस कथन को चार तथ्यों द्वारा स्पष्ट कीजिये।
29. “राष्ट्र के विचार के निर्माण में संस्कृति ने महत्वपूर्ण भूमिका निभाई”। इस कथन को यूरोप के रूमानीवाद के सन्दर्भ में चार उदाहरण देकर स्पष्ट कीजिये।

हॉट्स प्रश्न

30. फ्रेडरिक सॉरयू द्वारा बनाये गये चित्र में राष्ट्रवाद को किस प्रकार चित्रित किया गया है? चार बिन्दुओं में उल्लेख कीजिये। (4 अंक)
31. निम्नलिखित पंक्तियों को पढ़कर उनके नीचे लिखे प्रश्नों के उत्तर दीजिये:- (4 अंक)
 जॉल्वेराइन का लक्ष्य जर्मन लोगों को आर्थिक रूप में एक राष्ट्र में बाँध देना है। वह राष्ट्र की आर्थिक हालत जितना बाहरी तरह से उसके हितों की रक्षा करके मजबूत बनाएगा, उतना ही आंतरिक उत्पादकता को बढ़ा कर भी। उसे प्रांतीय हितों को आपस में जोड़कर राष्ट्रीय भावना को जगाना और उठाना चाहिए। जर्मन लोग यह समझ गए हैं कि एक मुक्त आर्थिक व्यवस्था ही राष्ट्रीय भावनाओं के उत्पन्न होने का एकमात्र जरिया है।
 (i) जॉल्वेराइन का लक्ष्य क्या है?
 (ii) राष्ट्रीय हितों को किस-प्रकार जागत करना चाहिए?
 (iii) राष्ट्रीय भावनाओं के उत्पन्न होने का एकमात्र जरिया क्या है?
 (iv) उपर्युक्त पंक्तियाँ किसके द्वारा कही गई हैं?
32. यूनान के स्वतन्त्रता संग्राम ने यूरोप के शिक्षित अभिजात वर्ग में राष्ट्रीय भावनाओं का संचार किया”। इस कथन की पुष्टि तीन तथ्यों द्वारा कीजिए। (3 अंक)

पाठ-2

इंडों चाइना में राष्ट्रवादी आन्दोलन

1 अंक वाले प्रश्न

1. उन दों के नाम लिखिए, जो इण्डो चाइना में ामिल हैं। (कोई दो दे के नाम) ।
2. वियतनाम पर चीनी साम्राज्य के वर्चस्व के कई दो प्रदीर्त प्रभाव लिखिए।
3. वियतनाम में राष्ट्रवाद का उदय किन परिस्थितियों में पनपा ? दो कारण लिखिए ।
4. दूरवर्ती इलाकों में स्थित दो गैर-वियतनामी समुदाय जो व्यापार मार्गों के माध्यम से वियतनाम से जुड़े थे?
5. इंडो चाइना में रहने वाले लोगुरू में किस क्तिताली साम्राज्य के अधीन थे?
6. कोलोन किन्हें कहा जाता है?
7. फ्रांसीसी सेवा वियतनाम में कब आई तथा फ्रैंच इंडो चाइना का गठन कब किया गया?
8. “नापाम” ाब्द का अर्थ स्पष्ट कीजिए।
9. रेवोल्यूनरी सोसायटी की स्थापना कब और किसने की?
10. समन्वयवाद का क्या अर्थ है?
11. फ्रांसीसी सरकार के विरोध में वियतनाम छात्र-छात्राओं ने किस राजनैतिक पार्टी की स्थापना की?
12. वियतनाम का एकीकरण कब हुआ?
13. हो ची मिन्ह ने किस पार्टी की स्थापना की तथा बाद में इस पार्टी को किस नाम से जाना गया?

तीन अंक वाले प्रश्न

14. वियतनाम के साम्राज्यवाद विरोधी आंदोलन में औरतों की क्या भूमिका रही? किन्ही तीन बिंदुओं से इस विरोधी आंदोलन में राष्ट्रवादी विचारधारा प्रकट कीजिए।
15. वियतनाम में तीसरी सदी की पात्र त्रियु अयु किस प्रकार व्यापक राष्ट्रवादी आख्यान का महत्वपूर्ण हिस्सा बन गई? तीन बिंदुओं से स्पष्ट कीजिए।
16. 1907 में वियतनाम में ‘टोकिन फ्री’ स्कूल खोलने की अवधारणा को तीन बिंदुओं में स्पष्ट कीजिए।
17. वियतनाम की आर्थिक प्रगति को बाधित करने वाली तीन समस्याओं का वर्णन कीजिए।
18. “पाठालाएँ राजनैतिक अखाड़ों में तब्दील होती जा रही थी।” इस कथन की पुष्टि तीन बिंदुओं में कीजिए?
19. चीन के विरूद्द विद्रोह में ‘ट्रंग बहनों का क्या योगदान रहा? तीन बिंदुओं में स्पष्ट कीजिए।
20. 1902 में फ्रांसीसी सरकार द्वारा चूहों को पकड़ने के लिए अपनाए गए तीन उपायों का वर्णन कीजिए।
21. स्कालर्स रिवोल्ट क्या था? वियतनाम पर इसका क्या प्रभाव पड़ा, दो बिंदुओं से स्पष्ट कीजिए।

22. होआ हाओ आन्दोलन के संस्थापक कौन थे? लोगों के लिए उन्होंने कौन से कार्य किए?
23. वियतनाम के संदर्भ में औपनिवेशिक शिक्षा की क्या दुविधा थी? शिक्षा की भाषा के मामले पर कौन से दो मत थे, स्पष्ट कीजिए।
24. 1931 तक वियतनाम किस प्रकार विव में चावल का तीसरा बड़ा निर्यातक देश बन गया?
25. 1926 में साइगान नेटिव गर्ल्स स्कूल में होने वाले विवाद को चार बिंदुओं में स्पष्ट कीजिए।
26. 1930 की महामन्दी का वियतनाम पर क्या प्रभाव पड़ा? चार बिंदुओं में लिखिए।
27. वियतनाम गणराज्य के सामने मुख्य चुनौतियाँ क्या थी, किन्हीं चार के विषय में लिखिए।
28. “ औपनिवेशिक शासन को उचित ठहराने के लिए किताबों में फ्रांसीसी सभ्यता का गौरव गान किया गया।” कथन के पक्ष में चार तर्क दीजिए।
29. फान यू त्रिन्ह का वियतनाम के संदर्भ में क्या उद्देश्य था? फान बोइ चाउ और फान यू त्रिन्ह के विचारों की भिन्नता को दो बिंदुओं में स्पष्ट कीजिए।

हॉट्स प्रश्न

30. वियतनाम में वहाँ के समाज के विभिन्न वर्गों द्वारा फ्रांसीसियों की हर चीज के खिलाफ किए गए संघर्ष के फलस्वरूप वहाँ राष्ट्रवाद का उदय किस प्रकार हुआ? स्पष्ट कीजिए। (4 अंक)
31. हनोई पर प्लेग का हमला किस मायने में फ्रांसीसी सत्ता की सीमा और सभ्यता प्रसार के म्यान में निहित अंतर्विरोधों का दार्ता है, कथन की पुष्टि 3 बिंदुओं से कीजिए। (3 अंक)
32. बीसवीं सदी के पहले दशक में 'पूरब की ओर चलो' किस प्रकार समाजिक एवं राजनैतिक बदलाव का प्रतीक बना, उदाहरण देते हुये समझाइये। (4 अंक)

अध्याय-3

भारत में राष्ट्रवाद

1 अंक वाले प्रश्न-

1. सत्याग्रह का अर्थ बताइये।
2. भारत में स्थित किन्ही दो स्थानों के नाम लिखिए, जहाँ गांधीजी द्वारा सत्याग्रह आंदोलन चलाया गया।
3. “हिंद स्वराज” के लेखक कौन थे?
4. “असहयोग आंदोलन” का प्रस्ताव कांग्रेस के किस अधिवेशन में पारित किया गया था?
5. गांधीजी दक्षिणी अफ्रीका से भारत कब लौटे थे?
6. जालियांवाला बाग हत्याकांड कब और कहाँ हुआ था?
7. गांधीजी ने असहयोग आंदोलन कब और किस घटना से दुखी होकर वापस ले लिया था?
8. “स्वराज पार्टी” के गठन में किन दो नेताओं ने महत्वपूर्ण भूमिका निभाई।
9. “वन्देमातरम्” गीत के लेखक कौन थे?
10. “ दमित वर्ग एसोसिएशन’ का गठन कब और किसने किया?
11. ‘आनन्दमठ’ के लेखक कौन थे?
12. “इनलैन्ड एमिग्रेशन एक्ट” क्या था?


तीन अंक वाले प्रश्न-

13. “ प्रथम विवयुद्ध ने एक नयी आर्थिक और राजनीतिक स्थिति को जन्म दिया” किन्ही तीन बिन्दुओं का उल्लेख कीजिए।
14. असहयोग आंदोलन में हरी मध्यवर्ग की क्या भूमिका रही? तीन बिन्दुओं में स्पष्ट कीजिए।
15. किन कारणों से हरी क्षेत्र में असहयोग आंदोलन कमजोर पड़ गया था? तीन बिन्दुओं में स्पष्ट कीजिए।
16. असहयोग आंदोलन के समर्थन में ग्रामीण इलाकों में विद्रोह हुए- इसके तीन कारण उदाहरण सहित स्पष्ट कीजिए।
17. बागान मजदूरों ने असहयोग आन्दोलन को किस प्रकार लिया? किन्ही तीन बिन्दुओं में उल्लेख कीजिए।
18. साइमन कमीशन का गठन क्यों किया गया? यह भारत कब पहुँचा तथा इसे विरोध का सामना क्यों करना पड़ा।
19. सन 1929 के लाहौर अधिवेशन की अध्यक्षता किसने की? इस अधिवेशन में लिए गए प्रमुख निर्णय क्या थे?
20. खिलाफत आंदोलन क्यों शुरू किया गया? इस आन्दोलन से जुड़े दो भारतीय नेताओं के नाम बताओं।
21. “दांडी यात्रा”, सविनय अवज्ञा आन्दोलन का ही एक रूप थी। स्पष्ट कीजिए।
22. गांधी-इरविन समझौता कब हुआ? इसकी दो तर्कों का उल्लेख कीजिए।

23. “सिविल नाफरमानी आंदोलन में औरतों ने बड़े पैमाने पर हिस्सा लिया”। किन्ही तीन बिन्दुओं द्वारा स्पष्ट कीजिए।

4 अंक वाले प्रश्न -

24. सन 1919 में पारित रोलेट ऐक्ट की दो प्रमुख बातों का उल्लेख करते हुए तत्कालीन भारतीय राजनीति पर इसके प्रभाव की विवेचना कीजिए।
25. सविनय अवज्ञा आंदोलन में विभिन्न वर्गों और समूहों ने हिस्सा क्यों लिया? चार कारण बताइए।
26. “सविनय अवज्ञा आन्दोलन जातिगत, राजनीतिक एवं धार्मिक कारणों की वजह से सीमाओं में बंधा हुआ था”। स्पष्ट कीजिए।
27. “पूना पैक्ट” कब तथा किन नेताओं के बीच हुआ? इसमें किन मुद्दों पर सहमति हुई।
28. राष्ट्रवादी नेताओं द्वारा लोगों को एकजुट करने के लिए किस प्रकार के चिन्हों एवं प्रतीकों का प्रयोग किया गया चार उदाहरणों का उल्लेख कीजिए।
29. राष्ट्रवाद का उत्थान करने में सांस्कृतिक प्रक्रियायें भी शामिल थीं। चार तथ्यों द्वारा स्पष्ट कीजिए।
30. भारतीय स्वतन्त्रता संग्राम में “आजाद हिन्द फौज” की भूमिका चार बिन्दुओं में स्पष्ट कीजिए।
31. असहयोग आन्दोलन के सन्दर्भ में महात्मा गांधी द्वारा सुझाये गये तीन मुख्य सुझावों का उल्लेख कीजिए।
32. चित्र को देखकर प्रश्नों के उत्तर दीजिए -



1. प्रस्तुत चित्र में दिखाई देने वाले किन्ही दो नेताओं के नाम बताओं।
2. यह बैठक कब और कहाँ पर आयोजित की गई थी?
3. गांधीजी द्वारा चलाये गये एक आन्दोलन का नाम और उसकी दो विशेषतायें बताओं।

3 अंक वाले हॉट्स प्रश्न

33. सविनय अवज्ञा आन्दोलन में केवल अंग्रेजों की अवज्ञा ही नहीं बल्कि औपनिवेशिक कानूनों का उल्लंघन करना भी शामिल था” इस कथन को तीन बिन्दुओं द्वारा स्पष्ट कीजिए।

4 अंक वाले

34. “उपनिवेशवाद विरोधी आंदोलन ने आधुनिक राष्ट्रवाद को जन्म दिया” इस कथन को चार बिन्दुओं में स्पष्ट कीजिए।
35. “इतिहास की पुनर्व्याख्या राष्ट्रवाद की भावना पैदा करने का महत्वपूर्ण साधन बनीं” इस कथन की व्याख्या चार तर्कों के आधार पर कीजिए।

अध्याय-4

भूमंडलीकृत विश्व का बनना

1 अंक वाले प्रश्न

1. ऐसे दो खाद्य पदार्थों के नाम लिखिए, जो लगभग 500 साल पहले हमारे पूर्वजों के पास नहीं थे लेकिन आज हमारे मुख्य खाद्य पदार्थ है?
2. दक्षिण अमेरिका के किस ाहर को “सोने का ाहर” माना जाने लगा था?
3. रिंडरपेस्ट क्या है?
4. “बहत्-उत्पादन” के प्रणेता कौन थे? इस पद्धति से बनने वाली पहली कार का मॉडल क्या था?
5. आर्थिक महामंदी की ँरूआत कब हुई?
6. “धुरी ाष्ट्र” में ामिल किन्ही दो ढों के नाम बताइये।
7. “वीटों” क्या है?
8. युद्धोत्तर अन्तर्राष्ट्रीय आर्थिक व्यवस्था के दो मुख्य उद्देय क्या थे ?
9. “मित्र ाष्ट्र” में ामिल किन्ही दो ढों के नाम बताइए।
10. G-77 क्या है?
11. “विनिमय दर” किसे कहते हैं?
12. दो अन्तर्राष्ट्रीय वित्तीय संस्थाओं के नाम लिखिए, जो विव की औद्योगिक जरूरतों को पूरा करती है।
13. आयात सीमा निर्धारण तथा निर्यात सीमा क्या है।?
14. दो ढों के नाम लिखिए जहाँ से ब्रिटेन के लिए वस्तुओं का आयात होता था।
15. गिरमिटिया मजदूर अपना दो छोड़ने के लिए मजबूर क्यों हुए? दो कारण बताइयें।

तीन अंक वाले प्रश्न-

16. सिल्क मार्ग किन दो महाद्वीपों को जोड़ता है तथा इस मार्ग से कौन-2 सी वस्तुओं का आदान प्रदान होता था? विवरण दीजिए।
17. अर्थास्त्रियों के अनुसार अंतर्राष्ट्रीय आर्थिक विनिमय के तीन प्रवाह कौन से थे?
18. कॉर्न-ला क्या था तथा ब्रिटा सरकार को यह मजबूरन क्यों समाप्त करना पड़ा?
19. भारत के किन इलाकों से ज्यादातर अनुबंधित गिरमिटिया मजदूर जाते थे और क्यों? इन्हें किन ढों में ले जाया जाता था?
20. भारत के साथ ब्रिटेन के “व्यापार अधिष” ने ब्रिटा अर्थव्यवस्था को किस प्रकार मजबूती प्रदान की? तीन बिन्दुओं में स्पष्ट करें।

21. प्रथम विव युद्ध कब और किन दों के बीच हुआ? वैवीकरण पर इसका क्या प्रभाव पड़ा?
22. न्यू हैम्पार स्थित “ब्रेटन वुडस” में कौन सी दो संस्थाओं की स्थापना हुई तथा उसका मुख्य उद्देश्य क्या था?
23. ब्रेटन वुडस व्यवस्था ने पचिमी औद्योगिक राष्ट्रों और जापान के लिये आर्थिक जगत में नये युग का सूत्रपात किया” तीन बिन्दुओं द्वारा स्पष्ट कीजिए।
24. “सांस्कृतिक समागम से वैविक दुनिया का उदय हुआ था” भोजन के सन्दर्भ में दो उदाहरण देकर स्पष्ट कीजिए।
25. ‘विकसित जनसंचार तकनीक ने भूमंडलीकरण को तेजी से बढ़ाया है’ तीन तर्क देकर समझाइए।
26. विव बैंक और आई.एम.एफ (अन्तर्राष्ट्रीय मुद्रा कोष) को ब्रेटन वुडस संस्थान की “जुड़वा सन्तान” क्यों कहा जाता है? तीन तर्क दीजिए

चार अंक वाले प्रश्न :-

27. 1870 के दक तक अमेरिका से यूरोप को मांस का निर्यात क्यों नहीं किया जाता था? चार बिन्दुओं द्वारा पुष्टि कीजिए।
28. अफ्रीका में यूरोपीय लोगों ने मजदूरों को अपने पास रोकने के लिये क्या कदम उठाये-तीन बिन्दुओं द्वारा स्पष्ट कीजिए।
29. प्रथम विव युद्ध से प्रभावित दों की अर्थव्यवस्था को सुधारने के क्या प्रयास किये गये? चार प्रयास लिखिए।
30. “बहुत् उत्पादन पद्धति ने औद्योगिक जगत में क्रान्तिकारी परिवर्तन ला दिये” तीन बिन्दुओं द्वारा स्पष्ट कीजिए।
31. 1929 की महामंदी के प्रमुख कारण क्या थे? स्पष्ट कीजिये।
32. औद्योगिक दों में महामंदी का सबसे बुरा असर अमेरिका पर पड़ा। चार तथ्यों द्वारा स्पष्ट कीजिए।
33. वैवीकरण वर्तमान अर्थव्यवस्था का एक रूप नहीं अपितु प्राचीन काल की देन है” कथन की पुष्टि चार तर्क देकर कीजिए।
34. ‘1929 की महामंदी के कारण दुनिया के एक हिस्से में होने वाली कंकंपाहट बाकी हिस्सों तक भी पहुँच जाती थी’। भारत के सन्दर्भ में कथन की पुष्टि कीजिए।
35. “अठारहवीं सदी के पूर्वार्ध तक भारत एवं चीन सम्पन्न दों की श्रेणी में थे लेकिन उपनिवेशीकरण ने स्थिति बदल दी” उदाहरण सहित स्पष्ट कीजिए।
36. प्रथम विवयुद्ध ने ब्रिटेन के लोगों के आर्थिक जीवन को किस प्रकार बदल दिया,? स्पष्ट कीजिए।

हॉट्स प्रश्न :-

37. अफ्रीका में रिंडरपेस्ट ने वहाँ के लोगों की आजीविका और अर्थव्यवस्था को बुरी तरह से प्रभावित किया। तीन तर्क देकर स्पष्ट कीजिए । (3 अंक)
38. गिरमिटिया श्रमिकों का बाहरी दों में ले जाया जाना, 19वीं सदी की दुनिया की विविधता को प्रकट करता है। यह तत्कालीन विव की किन तीन बातों को प्रदीति करता है (3 अंक)
39. भूमंडलीकरण की प्रक्रिया में गिरमिटिया मजदूरों का प्रवसन एक महत्वपूर्ण घटना थी” इस तथ्य को चार बिन्दुओं में स्पष्ट कीजिए। (4 अंक)

अध्याय-5

औद्योगिकीकरण का युग

1 अंक वाले प्रश्न

1. 1901 में प्रकाशित "दो जादूगर" तस्वीर अलादीन व मैकनिक क्रमा: विव के किन दो आयामों का महिमामंडन बर्ती है?
2. गाँवों में गरीब कातकार व दस्तकार मुख्यतः किसके लिए काम करते थे?
3. लंदन को मुख्यत फिनिगिंग सेंटर के रूप में क्यों जाना जाने लगा था?
4. भाप के इंजन का आविष्कार किसके द्वारा किया गया?
5. आदि-औद्योगिकीकरण से क्या अभिप्राय है?
6. सत्रहवीं और अठारहवीं ताब्दी के यूरोपीय त्हरों में व्यापारिक गिल्ड्स क्या थे?
7. स्टेप्लर्स और फुलर्ज कौन थे?
8. अहस्तक्षेप की नीति से क्या अभिप्राय है?
9. भारत में पहली जूट मिल कहाँ पर लगाई गई थी?
10. फ्लाई अटल से क्या तात्पर्य है?
11. औद्योगिक उत्पादन से क्या अभिप्राय है?
12. प्रौद्योगिकीय बदलावों की गति धीमी क्यों थी?
13. औद्योगिकीकरण के पहले चरण के सबसे बड़े उद्योग का नाम लिखिए।
14. मजदूर नई प्रौद्योगिकी (मीन) के विरोधी क्यों थे?
15. भारत में पहली कपड़ा मिल कब लगी?
16. भारत के दो प्रारंभिक उद्यमियों के नाम लिखिए।
17. उन पूर्व औपनिवेशिक मुख्य बन्दरगाहों के नाम लिखिए, जहाँ से समुद्री व्यापार फलता-फूलता था। (कोई दो)
18. भारतीय बुनकरों ने ब्रिटिश निर्माताओं के द्वारा भारतीय बाजार पर कब्जे का विरोध किया एवं अपने माल को बाजार में फैलाया। इसके लिये उन्होंने किस सक्षम माध्यम का प्रयोग किया।
19. नए उपभोक्ता पैदा करने के तरीकों के नाम लिखिए।
20. उद्योगों में काम करने के लिए मजदूर कहाँ से आते थे?

3 अंक वाले प्रश्न

21. "डॉन आफ द सेंचुरी" (नयी सदी का उदय) चित्रों में औद्योगिकीकरण को किस प्रकार चित्रित किया गया है? तीन

बिन्दुओं में उत्तर दीजिये।

22. ब्रिटेन के बहुत सारे उद्योगों में श्रमिकों की माँग मौसमी आधार पर घटती-बढ़ती रहती थी। इस कथन के परिप्रेक्ष्य में तीन उदाहरण लिखिए।
23. विक्टोरिया कालीन ब्रिटेन में उच्च वर्ग के लोग कुलीन और पूँजीपति वर्ग हाथ से बनी चीजों को तरजीह क्यों देते थे?
24. अठारहवीं शताब्दी में मजदूरों की स्थिति कैसी थी? तीन बिन्दुओं में स्पष्ट कीजिये।
25. 1840 के दशक के बाद के यूरोप में तारों के निर्माण की गतिविधियाँ तेजी से बढ़ीं। तीन उदाहरण देकर स्पष्ट कीजिए।
26. हाथ से बुने वस्त्र की प्रमुख तीन विशेषताओं का वर्णन कीजिए।
27. 19वीं सदी में कपड़ा निर्यात में कमी क्यों आई? तीन कारण देकर स्पष्ट कीजिये।
28. “चैम्बर ऑफ कामर्स” का पहला कार्यालय भारत में कहाँ स्थापित हुआ? इसकी स्थापना के पीछे प्रमुख उद्देश्यों का उल्लेख कीजिए।
29. आधुनिक विकास की प्रगति के कारण कौन सी समस्याएँ पैदा हुई थी? तीन बिन्दुओं द्वारा स्पष्ट कीजिए।
30. गुमाता कौन थे? उनके कोई दो कार्य लिखिए।
31. यूरोपीय प्रबंधकीय एजेंसियों की कुछ खास तरह के उत्पादों में दिलचस्पी थी। तीन उदाहरण देकर स्पष्ट कीजिये।
32. उपनिवो में बुनकरों की समस्याएँ क्या थी? तीन बिन्दुओं द्वारा स्पष्ट कीजिये।
33. प्रथम विवयुद्ध के दौरान भारत में औद्योगिक उत्पादन तेजी से बढ़ा। कथन के पक्ष में तीन तर्क दीजिये।
34. जॉबर किन्हें कहते हैं? उन्हें कौन व क्यों रखते थे?

चार अंकों वाले प्रश्न

35. औद्योगिकीकरण से भारत में होने वाले बदलाव कौन से थे? किन्हीं चार को स्पष्ट कीजिये।
36. बीसवीं शताब्दी के पूर्वार्द्ध में भारत में लघु उद्योगों की बहुतायत क्यों थी? कोई चार कारण लिखिए।
37. औद्योगिकीकरण ने लोगों के जीवन स्तर को ऊँचा उठाने में किस प्रकार से मदद की। चार बिन्दुओं द्वारा स्पष्ट कीजिये।
38. “औद्योगिकीकरण क्रांति मिश्रित वरदान साबित हुई” इस कथन के सन्दर्भ में अपने विचार दीजिये।
39. औद्योगिकीकरण का अर्थ केवल फैक्ट्री उद्योगों के विकास तक ही सीमित नहीं था। चार तर्क देकर स्पष्ट कीजिये।
40. विज्ञापन से क्या अभिप्राय है? नए उपभोक्ता उत्पन्न करने हेतु विज्ञापन का क्या महत्व है? मेनचेस्टर उद्योगपतियों ने भारत में अपना कपड़ा बेचने के लिए इसका प्रयोग किस प्रकार किया?
41. ब्रिटिश निर्माताओं ने विज्ञापन की मदद से भारतीय व्यापार पर किस प्रकार कब्जा करने के प्रयास किए? तीन उदाहरणों द्वारा स्पष्ट कीजिये।

हॉट्स प्रश्न

42. प्रथम विवयुद्ध के बाद भारतीय बाजार में मैनचेस्टर को पहले जैसी प्रतिष्ठा पुनः हासिल क्यों नहीं हो पायी? कोई तीन प्रमुख कारण लिखिए। (3 अंक)

अध्याय 6

काम, आराम और जीवन

1 अंक वाले प्रश्न :-

1. मुम्बई कितने टापुओं से मिलकर बना है?
2. भारत के उस पहले इहर का नाम बताइए जहाँ धुँआ निरोधक कानून पास हुआ?
3. टेनेमेंट्स को परिभाषित कीजिए।
4. भारत के किस इहर को मायापुरी या रूपहले सपनों का इहर के नाम से जाना जाता है? कारण बताइये।
5. दुनिया की पहली भूमिगत रेलगाड़ी कब और कहाँ चली?
6. बम्बई में पहली सूती कपड़ा मिल कब स्थापित की गई?
7. ब्रिटिश शासन के समय भारत के प्रेसीडेंसी इहर कौन-कौन से थे?
8. भारत की पहली फीचर फिल्म कौन सी थी? इसके निर्माता का नाम बताइये।
9. संयमता आन्दोलन मुख्यतः किन दो दों में शुरू हुआ था?
10. भारतीय फिल्म उद्योग को किस प्रकार एक राष्ट्रीय स्वरूप प्राप्त हुआ?

तीन अंक वाले प्रश्न :-

11. लंदन में भूमिगत रेल की आवश्यकता क्यों पड़ी थी? तीन बिन्दुओं द्वारा स्पष्ट कीजिये।
12. "19वीं सदी के मध्य में बम्बई की आबादी बड़ी तेजी से बढ़ी"। इसके प्रमुख तीन कारण दीजिये।
13. इहर किसे कहते हैं? इहरों की तीन विषताएँ बताइए।
14. 18वीं सदी के मध्य से लंदन की आबादी क्यों फैलने लगी? तीन कारण बताइए।
15. लंदन की भूमिगत रेलवे को प्रारंभ में लोगों ने क्यों नकारा, कोई तीन तर्क दीजिये।
16. बम्बई के परिप्रेक्ष्य में आधुनिक नगरों की तीन विषताएँ बताइए।
17. 19वीं सदी में लंदन के प्रमुख उद्योग कौन-कौन से थे, जिन्होंने इहरीकरण को बढ़ावा दिया।
18. लंदन में 'हाण्डिये के समूह' के अन्तर्गत कौन-कौन से लोग आते थे? इनमें सुधार के लिये किये गये कार्य बताइये।

19. 'हरोँ में गरीबों के लिए भी आवास का इन्तजाम करना जरूरी है।' लंदन के सन्दर्भ में इस चिन्ता के तीन कारण लिखिए।
20. बम्बई में चॉलों की आवयकता क्यों पड़ी? इनकी तीन प्रमुख विषताएँ बताइए।
21. 'बम्बई के विकास में भूमि विकास परियोजनाओं का अहम् स्थान रहा' कथन की सार्थकता स्पष्ट कीजिये।
22. 17वीं व 18वीं सदी में बम्बई भारत का सबसे महत्वपूर्ण शहर क्यों बना रहा? तीन बिन्दुओं द्वारा स्पष्ट कीजिये।

चार अंको वाले प्रश्न:-

23. इंग्लैण्ड में शहरों में रहने वाले लोगों के मनोरंजन के प्रमुख साधन कौन-कौन से थे?
24. लंदन के सन्दर्भ में 'गार्डन सिटी' की अवधारणा किसने प्रस्तुत की? इसकी तीन मुख्य विषतायें बताइये।
25. भूमिगत रेलों से लंदनवासियों को हुए लाभ बताइये।
26. बम्बई की बहुत सी फिल्में शहर के बाहर से आने वालों की जिन्दगी पर आधारित क्यों होती थी? चार कारण दीजिए।
27. 19वीं शताब्दी में भूमिगत रेलमार्ग लंदन में परिवहन समस्याओं के साथ-साथ आवासीय समस्याओं को किस हद तक हल करने में सफल रहा?
28. अपराधियों को सुधारने के लिए लंदन की पुलिस ने क्या-क्या प्रयास किए?
29. उन्नीसवीं और बीसवीं सदी के बीच लंदन में औरतों के लिए उपलब्ध कामों में किस तरह के बदलाव आये? ये बदलाव किन कारणों से आये?
30. 'पेरिस का हासमानीकरण' का क्या अर्थ है? पक्ष और विपक्ष में दो-दो तर्क दीजिये।

हॉट्स प्रश्न:

31. 'हरीकरण की प्रक्रिया ने सामाजिक बदलाव लाने में महत्वपूर्ण भूमिका अदा की'। इसके पक्ष में तीन तर्क दीजिये।
(3 अंक)
32. 'हरीकरण और परिस्थितिकीय एवं पर्यावरण का नुकसान' एक ही सिक्के के दो पहलू हैं। इस कथन के पक्ष में चार तर्क दीजिये।
(4 अंक)

पाठ -7

मुद्रण संस्कृति और आधुनिक दुनिया

1 अंक वाले प्रश्न:-

1. हाथ से बड़े-सुडौल अक्षरों में सही-सही कलात्मक लिखाई को किस काम से जाना जाता था।
2. मुद्रण की सबसे प्राचीन तकनीक किन दो दो में विकसित हुई?

3. वेलम से क्या तात्पर्य है?
4. जापान में सन् 868 ई. में छपी पुस्तक का नाम लिखिए।
5. प्रिंटिंग प्रेस के आविष्कारक कौन थे? उनकी पहली पुस्तक का नाम लिखिए।
6. इंग्लैन्ड में एक पैसिया किताबें बेचने वालों को किस नाम से पुकारा जाता था?
7. रोमन कैथोलिक चर्च की कुरीतियों की आलोचना करने वाले धर्म सुधारक का नाम बताइये।
8. जातिगत भेद भाव के खिलाफ किन दो भारतीय लेखकों ने सबसे पहले लिखा?
9. राजा राम मोहन राय ने सबसे पहले कब एवं कौन सी पत्रिका प्रकाशित की थी?
10. पाँडुलिपि से क्या तात्पर्य है?
11. गिल्लिंग सीरीज क्या थी?
12. बाल गंगाधर तिलक ने कौन सा समाचार पत्र छापना शुरू किया था?
13. उस कानून का नाम लिखिए जिसके द्वारा ब्रिटिश सरकार ने भारतीय भाषा में छपने वाले समाचार पत्रों पर अंकु लगाने का प्रयास किया।
14. 'बंगाल गजट' नामक साप्ताहिक पत्रिका का सम्पादन किसने व कब किया था?
15. 'इन्क्वीज़ीशन' को स्पष्ट कीजिए।

3 अंक वाले प्रश्न :-

17. भारतीय साहित्य को रवीन्द्र नाथ टैगोर की क्या देन है? तीन बिन्दुओं में उल्लेख कीजिए।
18. सत्रहवीं ताब्दी तक चीन में छपाई में किस प्रकार की विविधता आई? तीन परिवर्तनों का उल्लेख कीजिए।
19. वर्ना कुल प्रेस एक्ट क्या था? तीन बिन्दुओं में उल्लेख कीजिए।
20. मुद्रण के प्रारम्भिक काल में पुस्तकों की साज सज्जा किस प्रकार की जाती थी? तीन बिन्दुओं में स्पष्ट कीजिए।
21. 'प्रिंटिंग प्रेस से संचार के क्षेत्र में दूरगामी बदलाव हुए'। कथन के सन्दर्भ में प्रिंटिंग प्रेस के कोई तीन लाभ लिखिए।
22. दो मुस्लिम लेखकों के नाम लिखिए जिन्होंने मुसलमानों को शिक्षा देने पर जोर दिया। उनके इस योगदान का क्या प्रभाव पड़ा?
23. "मुद्रण ईश्वर की दी हुई महानतम देन है, सबसे बड़ा तोहफा है" इतिहासकारों के इस मत के पक्ष में तीन तर्क दीजिए।
24. दिये गये अनुच्छेद को ध्यानपूर्वक पढ़कर निम्न प्रश्नों के उत्तर दीजिए :- जानी-मानी शिक्षा विद् और लेखिका वेगम रोकैया रोखावत हुसैन ने 1926 बंग महिला शिक्षा सम्मेलन को सम्बोधित करते हुए, धर्म के नाम पर महिलाओं को पढ़ने से रोकने वाले पुरुषों की निन्दा की।
नारी शिक्षा के विरोधी कहते हैं कि इससे महिलाएं उद्दंड हो जायेगी

‘छिः! ये खुद को मुसलमान कहते हैं, और इस्लाम द्वारा औरतों को बराबरी की तालीम का हक देने के बुनियादी उसूल के खिलाफ जाते हैं। अगर पुरुष पढ़ लिख कर नहीं भटकते तो महिलाएं क्यों बिगड़ जायेंगी?’

- क. महिलाओं की शिक्षा में आने वाली दो बाधाएं क्या हैं? 1
- ख. उपरोक्त कथन के सन्दर्भ में महिलाओं के शिक्षित होने से पुरुष समाज को क्या डर था? दो तर्क दीजिए। 2
25. रोमन कैथोलिक चर्च ने सोलहवीं ताब्दी के मध्य से प्रतिबन्धित किताबों की सूची रखनी क्यों शुरू कर दी? चार कारण देकर स्पष्ट कीजिए।
26. “अनेक कारणों से मेरी दुनियाँ छोटी है, मेरे जीवन में आधी से अधिक खुशियाँ किताबे पढ़ने से आई हैं” इस तथ्य को किसने तथा क्यों लिखा? तीन बिन्दुओं में स्पष्ट कीजिए।
27. 19वीं सदी के दूसरे अर्द्धभाग में प्रेस ने आधुनिक राष्ट्रवाद के प्रसार में अहम भूमिका निभाई। चार तर्क देकर स्पष्ट कीजिए।
28. 19वीं सदी में भारत की गरीब जनता पर मुद्रण संस्कृति का क्या असर हुआ? चार बिन्दु देकर स्पष्ट कीजिए।
29. जाति भेद जैसी असमानता को समाप्त करने में प्रिंटिंग प्रेस का एक विशेष महत्व है। उदाहरण देकर स्पष्ट कीजिए।
30. मुद्रकों और प्रकाशकों ने अपने उत्पाद को बेचने के लिए कौन-कौन से नये तरीके अपनाये? तीन तरीके बताए।

हॉट्स प्रश्न

31. ‘छापाखाना प्रगति का सबसे ताकतवर औजार है इससे बन रही जनमत की आंधी में निरंकुवाद उड़ जायेगा।’ फ्रांस की क्रान्ति के संदर्भ में कथन को तीन तर्क देकर समझाइये। 3

पाठ-8

उपन्यास , समाज और इतिहास

1 अंक वाले प्रश्न :-

1. पत्रात्मक उपन्यास से क्या तात्पर्य है?
2. ‘पिकविक पेपर्स’ किस उपन्यास कार ने लिखा?
3. यूरोप की किन्ही दो महिला उपन्यास कारों के नाम लिखिए।
4. खदान मजदूरों की गौचनीय दाा का वर्णन करते हुए एमिला जोला ने किस उपन्यास की रचना की?
5. चार्ल्स डिकिन्स के औद्योगीकरण से प्रभावित दो उपन्यासों के नाम लिखिए।
6. ‘प्राइड एन्ड प्रिज्यूडाइस’ उपन्यास के रचयिता का नाम लिखिए।
7. उपन्यास विधा का असली विकास 18वीं सदी में किन दो यूरोपीय देशों में हुआ?

8. एक ऐसे उपन्यास कार का नाम लिखिए जिसने उपनिवेशवाद के विरोध में लिखा है।
9. हिन्दी साहित्य का सबसे प्रसिद्ध उपन्यासकार किसको माना जाता है? उनके एक उपन्यास का नाम भी लिखिए।
10. रत्नचन्द्र चट्टोपाध्याय ने अपने उपन्यास किस भाषा में लिखे?
11. मलयालम भाषा में उपन्यास लिखने का श्रेय सबसे अधिक किसे मिला?
12. आधुनिक हिन्दी साहित्य के पुरोधा के रूप में किसे माना जाता है?
13. हिन्दी का पहला उपन्यास लिखने का श्रेय किस लेखक को जाता है? उनके उपन्यास का नाम लिखिए।
14. मूी प्रेमचन्द ने अपने उपन्यासों में मुख्यतः समाज की किन कुरीतियों पर विशेष बल दिया है? किन्ही दो के नाम लिखिये।
15. 1836 में छपे धारावाहिक उपन्यास व उसके लेखक का नाम बताइये।
16. इन्दुलेखा उपन्यास किस भाषा में लिखा गया तथा इसके उपन्यास कार का क्या नाम है?

3 अंक वाले प्रश्न

17. "औद्योगीकरण ने उपन्यास कारों को उपन्यास लिखने के लिए प्रेरित किया।" दो उपन्यासों का उदाहरण देकर कथन की पुष्टि कीजिए।
18. धारावाहिक उपन्यास एवं पत्रात्मक उपन्यास में अन्तर समझाते हुए एक-एक उपन्यास का उदाहरण लिखिए।
19. मूी प्रेमचन्द के उपन्यासों में समाज के विभिन्न वर्गों की समस्याएं परिलक्षित होती हैं तीन उदाहरण देकर स्पष्ट कीजिए।
20. परीक्षा गुरु उपन्यास को नई पीढ़ी का उपन्यास माना गया है। इसमें युवाओं को क्या-क्या सुझाव दिये गये हैं?
21. भारत में राष्ट्रीयता के विकास में उपन्यासों ने महत्वपूर्ण भूमिका निभाई है। कथन की पुष्टि में तीन तर्क दीजिए।
22. जातिप्रथा जैसी बुराइयों पर लिखित किन्ही दो उपन्यासों के नाम लिखिए तथा उनकी दो विशेषताएं बताइये।
23. उपन्यासों की लोकप्रियता को बढ़ाने में किराये पर चलने वाले पुस्तकालयों की विशेष भूमिका रही। तीन तर्क देकर पुष्टि कीजिए।
24. जनभाषा को ही अधिकां उपन्यास कारों ने क्यों अपनाया? इसके पक्ष में तीन उल्लेख कीजिए।

4 अंकों वाले प्रश्न :-

25. महिला उपन्यास कारों ने समाज में फैली कुरीतियों एवं महिलाओं के प्रति होने वाले भेद भाव को किस प्रकार दायिया? चार बिन्दुओं में उल्लेख कीजिए।
26. भारत में उपन्यास मध्यवर्ग के मनोरंजन का प्रमुख साधन था। चार उदाहरण देकर स्पष्ट कीजिए।
27. पत्रात्मक उपन्यास एवं धारावाहिक उपन्यासों की दो-दो विशेषताएं एवं दोनों प्रकार के एक एक उपन्यास का नाम लिखिए।
28. उपन्यास के विकास से ब्रिटेन की महिलाओं में किस प्रकार के सामाजिक बदलाव आये? कोई चार बदलाव समझाये।

29. ब्रिटेन गसन काल में उपन्यास राष्ट्रवादियों एवं औपनिवेशिकों के लिए किस प्रकार लाभदायक थे?
30. ब्रिटन व फ्रांस में उपन्यास के प्रति बढ़ती लोकप्रियता के पीछे क्या मुख्य कारण थे? स्पष्ट कीजिए।
31. पुरुष प्रधान समाज में महिलाओं को उपन्यास पढ़ने से रोकने के पीछे क्या तर्क थे? क्या यह तर्क ठीक थे? उत्तर की पुष्टि के लिए चार बिन्दुओं में विवेचना कीजिए।

भाग -2

भूगोल - समकालीन भारत-2

संसाधन एवं विकास

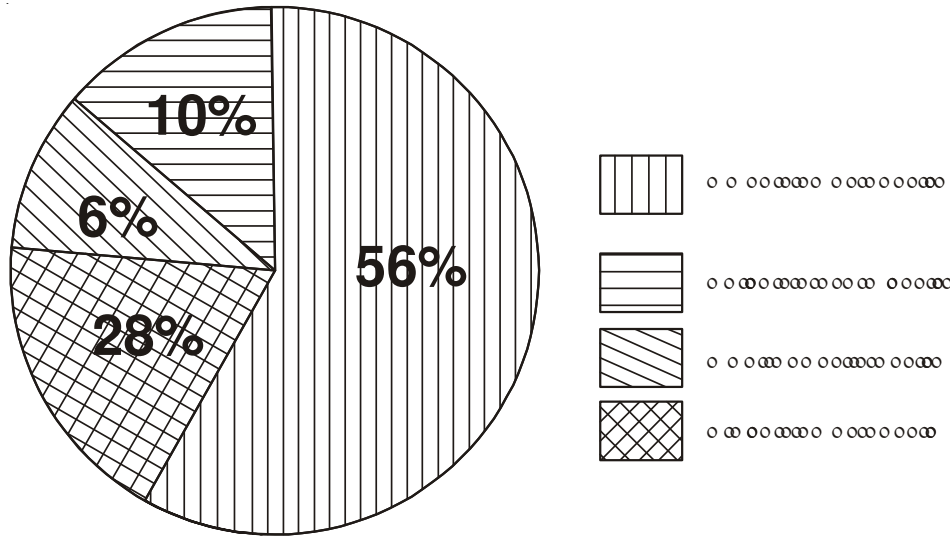
1 अंक वाले प्रश्न

1. संसाधन शब्द में निहित प्रमुख अवयवों के आधार पर उसे परिभाषित कीजिए।
2. संसाधनों को वर्गीकृत करने के कोई दो आधार लिखिए।
3. जैव और अजैव संसाधन को एक-एक उदाहरण से समझाइए।
4. भंडार शब्द से आप क्या समझते हैं?
5. संचित कोष किसे कहते हैं? (भूगोल के संदर्भ बिंदुसे)
6. संसाधनों के अंधाधुंध षोषण से उत्पन्न कोई दो वैश्विक पारिस्थितिकी संकट लिखो।
7. संसाधन नियोजन से क्या अभिप्राय है?
8. भारत जैसे देश में संसाधन नियोजन क्यों महत्वपूर्ण है?
9. किसी क्षेत्र के विकास के लिए दो महत्वपूर्ण तर्क क्या हैं?
10. भूमि, किस प्रकार एक महत्वपूर्ण प्राकृतिक संसाधन है?
11. देश के क्षेत्रफल का कितना प्रतिशत हिस्सा पठारी क्षेत्र है?
12. पठारी क्षेत्र किस प्रकार हमारे लिए उपयोगी है?
13. मैदानी क्षेत्र की कोई दो उपयोगिता लिखिए।
14. अधिक सिंचाई किस प्रकार भूमि निम्नीकरण के लिए उत्तरदायी है?
15. खनिज प्रक्रियाएँ जैसे सीमेंट उद्योग में प्रयुक्त चूना पत्थर किस प्रकार भू-निम्नीकरण का कारण बना?
16. भूमि निम्नीकरण की समस्याओं को सुलझाने के कोई दो तरीके लिखिए।
17. जल प्रदूषण और भूमि प्रदूषण को किस प्रकार कम किया जा सकता है?
18. किन्हीं दो जैव कारकों का नाम लिखिए, जो मृदा बनाने की प्रक्रिया में सहायक हैं।

19. संपूर्ण उत्तरी मैदान का निर्माण मुख्यतः किस मदा से हुआ है?
20. पीली मदा का पीला रंग किस कारण होता है?
21. लेटराइट मदा में ह्यूमस की मात्रा क्यों कम पाई जाती है?
22. अवनालिकाएँ क्या हैं?
23. उत्खात भूमि (bad lands) किसे कहते हैं? चंबल बेसिन में यह किस नाम से जानी जाती है?
24. चादर अपरदन (Sheet erosion) से क्या अभिप्राय है?
25. ढाल वाली भूमि में किन दो प्रकार की कृषि का अधिक प्रचलन है?
26. पूर्वी तटीय मैदान विषकर महानदी, गोदावरी, कृष्णा और कावेरी नदियों के डेल्टा किस प्रकार की मदा से बने हैं?

तीन अंको वाले प्रश्न :-

27. काली कपास मदा दक्कन पठार के किन दो राज्यों में मुख्यतः पाई जाती है? इस मदा की कोई चार विशेषताएँ लिखिए।
28. पहाड़ी और पर्वतीय क्षेत्रों में आमतौर पर किस प्रकार की मदा पाई जाती है? इस मिट्टी की कोई चार विशेषताएँ लिखिए।
29. भारत : बंजर भूमि - 2000



उपरोक्त चित्र देखकर दिए गए प्रश्नों के उत्तर दीजिए।

- क. उपरोक्त विवरण के अनुसार भूमि निम्नीकरण के चार कारण क्या हैं?
- ख. यद्यपि लवणीय व क्षारीय क्षेत्र में निम्नीकरण का प्रतिशत कम है परन्तु भविष्य के लिये यह घातक संकट कैसे है? दो उपाय भी सुझाएँ।

ग. वायु अपरदन को कम करने की एक तकनीक लिखिए।

30. प्रौद्योगिक और आर्थिक विकास के कारण संसाधनों का अधिक उपभोग कैसे हुआ है? तीन बिंदुओं से स्पष्ट कीजिए।

चार अंक वाले प्रश्न

31. भारत के अधिकांश भू-भाग पर पाई जाने वाली मदा की चार विषताएँ लिखिए।

32. लेटराइट मदाएँ तमिलनाडु और केरल राज्य में किस फसल के लिए अधिक उपयुक्त है? तथा इस मदा की तीन विषताएँ क्या हैं?

33. संसाधन नियोजन के तीन प्रमुख सोपान लिखिए। किसी एक राष्ट्रीय संसाधन का नाम लिखिए।

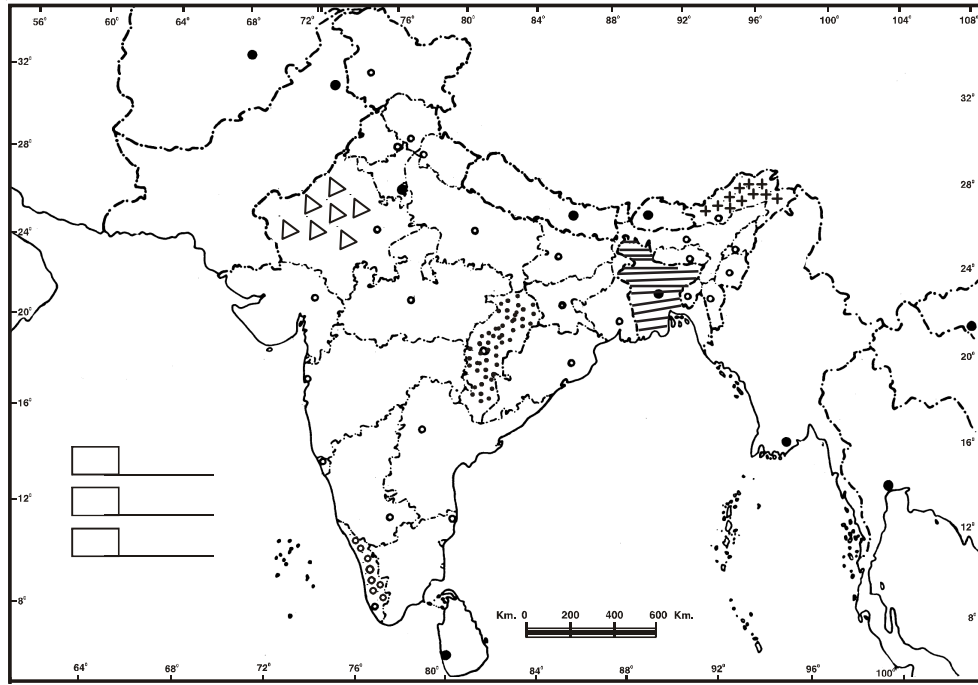
34. संसाधनों का विकास किन दो मूल कारकों पर निर्भर है? विकसित संसाधन क्या है? उदाहरण देते हुए स्पष्ट करें।

हॉट्स प्रश्न:-

35. गैर कृषि प्रयोजनों में लगी भूमि उपयोग के दो उदाहरण लिखिये। किस प्रकार भूमि संरक्षण एवं प्रबन्धन की अवहेलना के कारण गैर कृषि प्रयोजन भू संसाधनों के निम्नीकरण में सहयोग कर रहे हैं?

4

प्रश्न :- नीचे कुछ क्षेत्रों के नाम लिखे हैं और मानचित्र में उन्हें दर्शाया गया है उन्हें पहचानिये एवं राज्य/ क्षेत्रों के नाम लिखिये।



लाल और पीली मदा वाला राज्य।



जलेह मदा का राज्य।



वह राज्य जहाँ बुद्ध बोया गया क्षेत्र 10 प्रतिशत से कम है।



मदा का वह प्रकार जो राज्य में काजू की फसल के लिए उपयुक्त है।



राज्य, जो पट्टी कृषि व रक्षक मेखला प्रयोग कर रेत के टीलों के स्थायीकरण में मदद लेता है।

वन एवं वन्य जीव संसाधन -2

1 अंक वाले प्रश्न :-

1. पौधों एवं प्राणियों की सुभेद्य जातियों से क्या तात्पर्य है?
2. एशियाई चीता एवं गुलाबी सिर वाली बत्तख को अंतर्राष्ट्रीय प्राकृतिक संरक्षण एवं प्राकृतिक संरक्षण संघ (IUCNB) ने किस श्रेणी में रखा है?
3. पौधों एवं प्राणियों के संदर्भ में स्थानिक जातियाँ किसे कहते हैं? दो उदाहरण दीजिये।
4. भारतीय वन्य जीवन रक्षण अधिनियम किस वर्ष लागू किया गया।
5. बक्सा टाइगर रिजर्व किस राज्य में है? इस रिजर्व का अस्तित्व खतरे में क्यों पड़ गया है?
6. भारत के किस राज्य में स्थाई वनों के अतर्गत सर्वाधिक क्षेत्र है?
7. भैरोदेव डाकव सेंचुरी किस राज्य में है?
8. वनों की कटाई के दो परोक्ष परिणाम क्या हैं?
9. वनों एवं वन्य जीवन के खत्म होने का वन्य समाज की महिलाओं पर क्या प्रभाव पड़ा है?
10. समुदायों की सीधी भागीदारी करने वाले पर्यावरण संरक्षण के दो तरीके बताइये।

तीन अंक वाले प्रश्न :-

11. नदी घाटी परियोजनाओं ने पर्यावरण को किस प्रकार नुकसान पहुँचाया है? तीन बिन्दुओं में स्पष्ट कीजिए।
12. प्रबन्धन की दृष्टि से भारत में वनों को कितने वर्गों में बाँटा गया है? प्रत्येक की एक-एक विशेषता लिखिए।
13. पर्यावरण को नुकसान पहुँचाने वाली प्रमुख आर्थिक क्रियायें कौन सी हैं और उन्होंने पर्यावरण को किस तरह नुकसान पहुँचाया है?
14. जैव संसाधनों का विना सांस्कृतिक विविधता को किस तरह प्रभावित कर रहा है? उदाहरण देते हुये स्पष्ट कीजिये।
15. संयुक्त वन प्रबन्धन योजना क्या है और इससे स्थानीय लोगों को क्या लाभ होता है? स्पष्ट कीजिये।
16. हिमालय के पहाड़ी क्षेत्रों में पर्यावरण संरक्षण संबंधी मुख्य तीन आंदोलनों को उनकी प्रमुख विशेषताओं के साथ लिखिये।
17. “अधिक जनसंख्या के बावजूद भारत विकसित देशों की तुलना में पर्यावरण को नुकसान पहुँचाने में अपेक्षाकृत कम जिम्मेदार है” इस कथन की पुष्टि उपयुक्त उदाहरणों के साथ कीजिये।

चार अंक वाले प्रश्न

18. भारत में प्राकृतिक पर्यावरण के संरक्षण में हमारी समृद्ध सांस्कृतिक परंपरा का अमूल्य योगदान रहा है चार उदाहरण देते हुये स्पष्ट कीजिये।
19. जैव विविधता से क्या आया है इसे बनाये रखने के लिये सरकार ने क्या-क्या कदम उठाये हैं? स्पष्ट कीजिये।

हॉट्स

1 अंक वाले प्रश्न

1. वनों को प्राथमिक उत्पादक क्यों कहते हैं?
2. किस अधिनियम के अन्तर्गत कीटों को भी संरक्षण नियोजन के अंतर्गत रखा गया है?

4 अंक वाले प्रश्न

3. 'पर्यावरण संसाधन प्रबन्धन में स्थानीय समुदायों को शामिल करना चाहिये' उपयुक्त उदाहरण के साथ इस कथन के पक्ष में चार तर्क दीजिये।

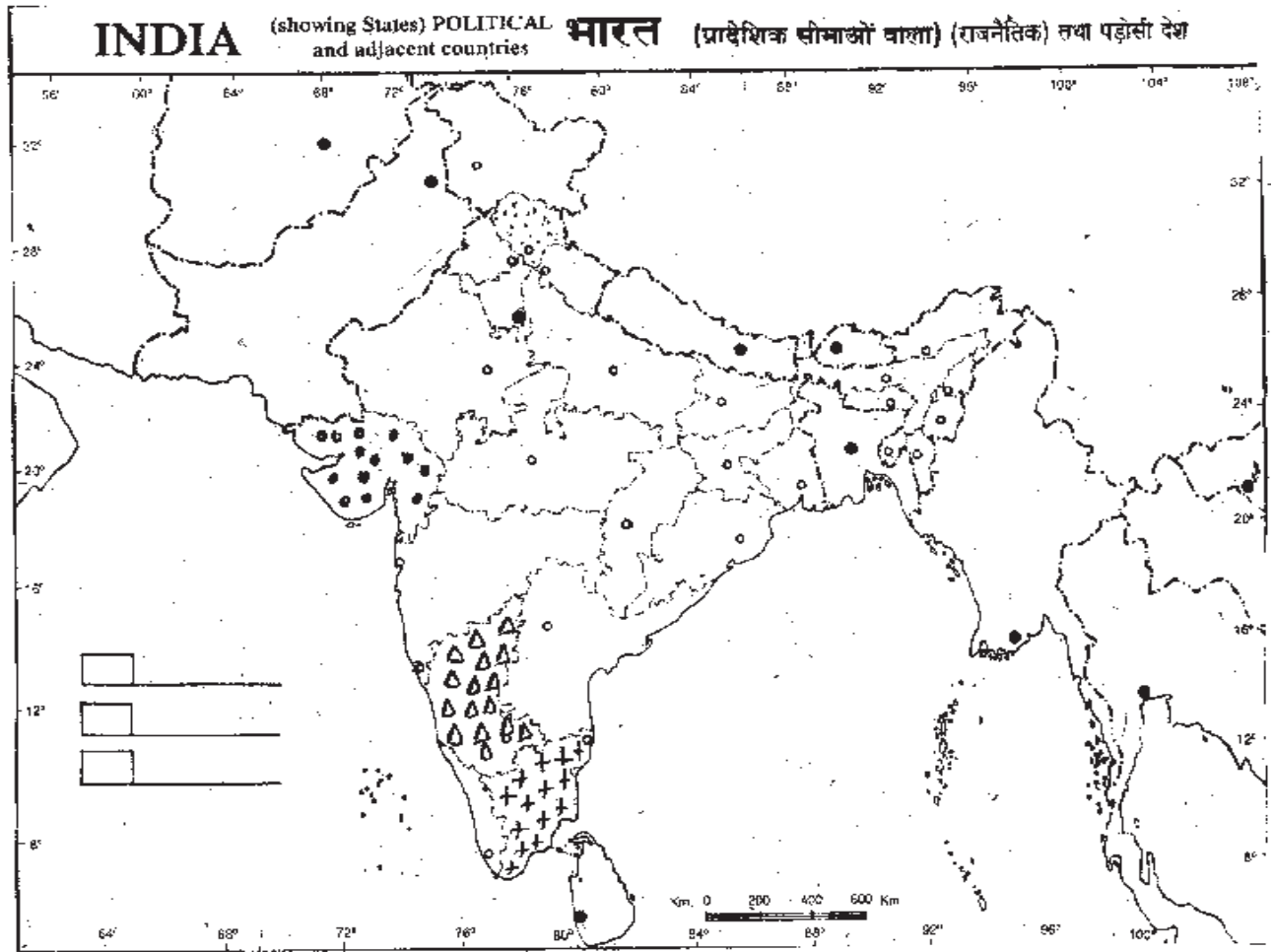
जल संसाधन -3





1 अंक वाले प्रश्न :-

1. अलवणीय जल के दो स्रोतों के नाम लिखिए।
2. भारत में बढ़ती हुई जल दुर्लभता (जल की कमी) के दो कारण लिखिए।
3. अधिक जनसंख्या किस प्रकार जल की कमी का कारण है?
4. वर्तमान समय में भारत में कुल विद्युत का लगभग कितना प्रतिशत जल विद्युत से प्राप्त होता है?
5. निजी कुएँ और नलकूप सिंचाई करके उत्पादन बढ़ा रहे हैं, इसके दो नकारात्मक परिणाम क्या हैं?
6. भारत विश्व की कुल वृष्टि का कितना प्रतिशत हिस्सा प्राप्त करता है?
7. भारत में कुल नवीकरण योग्य जल संसाधन कितना अनुमानित है?
8. 'बाँधों को बहुउद्देशीय परियोजनाएँ भी कहा जाता है' क्यों? दो कारण बताइये।
9. उन दो सामाजिक आन्दोलनों के नाम लिखिए जिनका संबंध बहुउद्देशीय परियोजनाओं के विरोध से जुड़ा रहा।
10. 'नर्मदा बचाओ आंदोलन' और 'टिहरी बाँध आंदोलन', परियोजनाओं के विरोध का मुख्य बिंदु क्या है?
11. बाँध किस प्रकार भूमि निम्नीकरण की समस्या को बढ़ावा देते हैं?
12. बहुउद्देशीय परियोजनाओं के हानिप्रद असर और उन पर उठे विवादों के चलते सामाजिक-आर्थिक और परिस्थितिक तौर पर विकल्प लिखिए।
13. 'छत वर्षा जल संग्रहण का तरीका किस राज्य में पहले से ही आम प्रयोग में था? इस रीति में उस राज्य में वर्तमान समय में कमी क्यों आयी?
14. 'टाँका' क्या थे?
15. खादीन से क्या अभिप्राय है?

तीन अंक वाले प्रश्न

16. कर्नाटक स्थित गंडाथूर गांव ने किस कारण ख्याति अर्जित की है? पहाड़ी और पर्वतीय क्षेत्रों में वर्षा जल संग्रहण की विधियों के नाम लिखिए।
17. उन तीन प्रमुख आपत्तियों का उल्लेख कीजिए, जिनके कारण नदी परियोजनाओं पर उद्देय में विफल होने का आरोप है?
18. बहुउद्देयीय परियोजनाएँ किस प्रकार जलीय-जीवों के लिए घातक सिद्ध हुई है? कोई तीन तर्क देकर समझाइए।
19. कृषि के संदर्भ में बहुउद्देयीय परियोजनाएँ किस प्रकार गंभीर पारिस्थितिक असंतुलन को बढ़ावा दे रही है? ये परियोजनायें किन दो कारणों से अंतर्राज्यीय झगड़ों को बढ़ावा दे रही है?
20. नीचे दी गयी जानकारी के आधार पर भारत के मानचित्र में राज्यों को पहचानिये एवं उनके नाम लिखिये।



-  राज्य जो वर्षा जल संग्रहण के कुल या गुल विधि का प्रयोग करता है।
-  एक मात्र राज्य, जहाँ छत वर्षा जल संग्रहण ढांचा अनिवार्य है।
-  राज्य, जहाँ एक सुदूर गांव, जो वर्षा जल संपन्न ख्याति अर्जित है।
-  राज्य जहाँ, नर्मदा बाँध के विरोध में आंदोलन हुआ।

कृषि-4

1 अंक वाले प्रश्न

1. कृषि के दो प्रमुख कार्य क्या हैं?
2. जीवन निर्वाह कृषि क्या है?
3. कृषि किन पर्यावरणीय परिस्थितियों की उपयुक्तता पर निर्भर करती है? किन्हीं दो के नाम लिखिए।
4. कर्तन-दहन प्रणाली (Slash and burn) कृषि मणिपुर व अंडमान निकोबार में क्रमाः किन नामों से पुकारी जाती है?
5. गहन जीविका कृषि की दो विशेषताएँ क्या हैं?
6. भारत की तीन ऋतुओं के नाम लिखिए।
7. भारत के पश्चिम और उत्तरपश्चिम राज्यों में रबी की फसल दो के अन्य राज्यों की तुलना में अधिक उत्पादित होती है। क्यों?
8. मानसून के आगमन के साथ बोई जाने किन्हीं दो फसलों के नाम लिखो।
9. जायद क्या है?
10. पंजाब, हरियाणा, पश्चिमी उत्तरप्रदेश और राजस्थान के कम वर्षा वाले क्षेत्रों में चावल की फसल उगाना क्यों संभव हो पाया है?
11. चावल के अतिरिक्त भारत की दूसरी सबसे महत्वपूर्ण खाद्यान्न फसल कौन सी है?
12. भारत में उगाए जाने वाले दो मुख्य मोटे अनाजों के नाम लिखिए।
13. क्षेत्रफल और उत्पादन की दृष्टि से दो की तीसरी महत्वपूर्ण खाद्यान्न फसल कौन सी है?
14. ज्वार उत्पादन में कौन सा राज्य अग्रणी है?
15. अरहर के अतिरिक्त अन्य दलहन फसलों को अन्य फसलों के आवर्तन में क्यों बोया जाता है?
16. ऐसी फसल का नाम लिखिए जो खाद्यान्न एवं चारा दोनों रूपों में प्रयोग होती है?
17. मूँगफली के सबसे बड़े उत्पादक राज्य का नाम लिखिए।
18. उस फसल का नाम लिखिए जो उत्तर भारत में खरीफ की फसल है और दक्षिणी भारत में रबी की?
19. भारत में कॉफी की किस किस्म का उत्पादन होता है?
20. रोम उत्पादन से क्या अभिप्राय है?

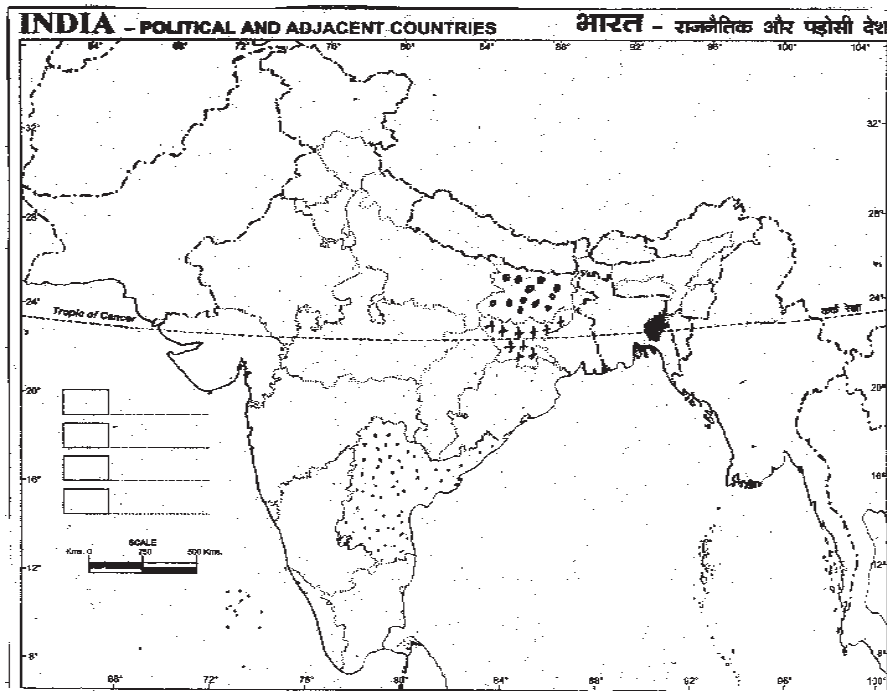
तीन अंक वाले प्रश्न





21. 'कर्तन दहन प्रणाली' कृषि क्या है? इसकी एक विशेषता लिखिए। इस प्रकार की कृषि में उत्पादकता कम क्यों होती है?
22. रोपण कृषि किसे कहते हैं तथा इसकी तीन प्रमुख विशेषताएँ लिखिए।

23. वाणिज्यिक कृषि के दो मुख्य लक्षण क्या हैं? कौन सी फसल हरियाणा और पंजाब में वाणिज्य की फसल है किंतु उड़ीसा में एक जीविका फसल है?
24. खरीफ और रबी की फसल के रूप में उगाई जाने वाली दो-दो दालों के नाम लिखिए। इन्हें फसलों के आवर्तन में क्यों बोया जाता है?
25. दक्कन पठार के शुष्कतर भागों में काली मिट्टी कपास उत्पादन के लिए उपयुक्त मानी जाती है, कपास उत्पादन की तीन अन्य महत्वपूर्ण भौगोलिक सहायक दायें लिखिये।

चार अंक वाले प्रश्न

26. सुनहरे रौ 'जूट' के लिए उपयुक्त जलवायु दायें कौन सी है? तथा किन दो कारणों से बाज़ार में जूट की माँग कम हो रही है?
27. स्वतंत्रता के पचात दे में कृषि के विकास के लिए कौन से चार सस्थागत सुधार किए गए?
28. कृषि के महत्व को समझाते हुए बताइये कि भारत सरकार ने इसके आधुनिकीकरण के लिए कौन से चार प्रयास किए हैं?
29. कृषि में विकास दर में वृद्धि के चार प्रमुख कारण लिखिए।
30. नीचे दी गयी जानकारी के अनुसार चिन्हित राज्यों के नाम लिखिये।



-  एक मोटा अनाज उत्पादक राज्य जो इस प्रदेश के आर्द्र क्षेत्र के लिए उपयुक्त फसल है
-  राज्य, जो रागी के लिए एक प्रमुख उत्पादक राज्य है
-  चाय की खेती का एक राज्य
-  राज्य, जहाँ मक्का रबी की ऋतु में उगाई जाती है।

खनिज तथा उर्जा संसाधन-5

1 अंक वाले प्रश्न

1. खनिज क्या है?
2. खनिजों के खनन की सुविधा किन दो बातों पर निर्भर करती है?
3. 'प्लेसर निक्षेप' किसे कहते हैं?
4. महासागरीय तली में किन खनिजों की प्रचुरता है?
5. समुद्री जल से प्रग्रहीत (प्राप्त) (derived) दो खनिजों के नाम लिखिए।
6. सर्वोत्तम प्रकार के लौह अयस्क का नाम लिखिए।
7. सर्वाधिक महत्वपूर्ण औद्योगिक लौह अयस्क कौन सा है?
8. मैंगनीज़ के कोई दो उपयोग लिखिए।
9. मैंगनीज़ का सबसे बड़ा उत्पादक राज्य कौन सा है?
10. ताँबे के लिए प्रसिद्ध खेतड़ी खदान किस राज्य में स्थित है?
11. खनन को घातक उद्योग बनने से रोकने के लिए कोई दो उपाय लिखिए।
12. विद्युत मुख्यतः किन दो प्रकारों से उत्पन्न की जाती है?
13. यूरेनियम और थोरियम किन दो राज्य में प्रधानतः पाए जाते हैं?
14. सतत पोषणीय उर्जा के दो मुख्य आधार क्या हैं?
15. भारत में भू-तापीय उर्जा के दोहन के लिए भारत में दो प्रायोगिक परियोजनाएँ कहाँ गुरु की गई हैं?
16. वाणिज्यिक प्रयोग के लिए सर्वाधिक उपयोगी कोयला कौन सा है?

तीन अंक वाले प्रश्न

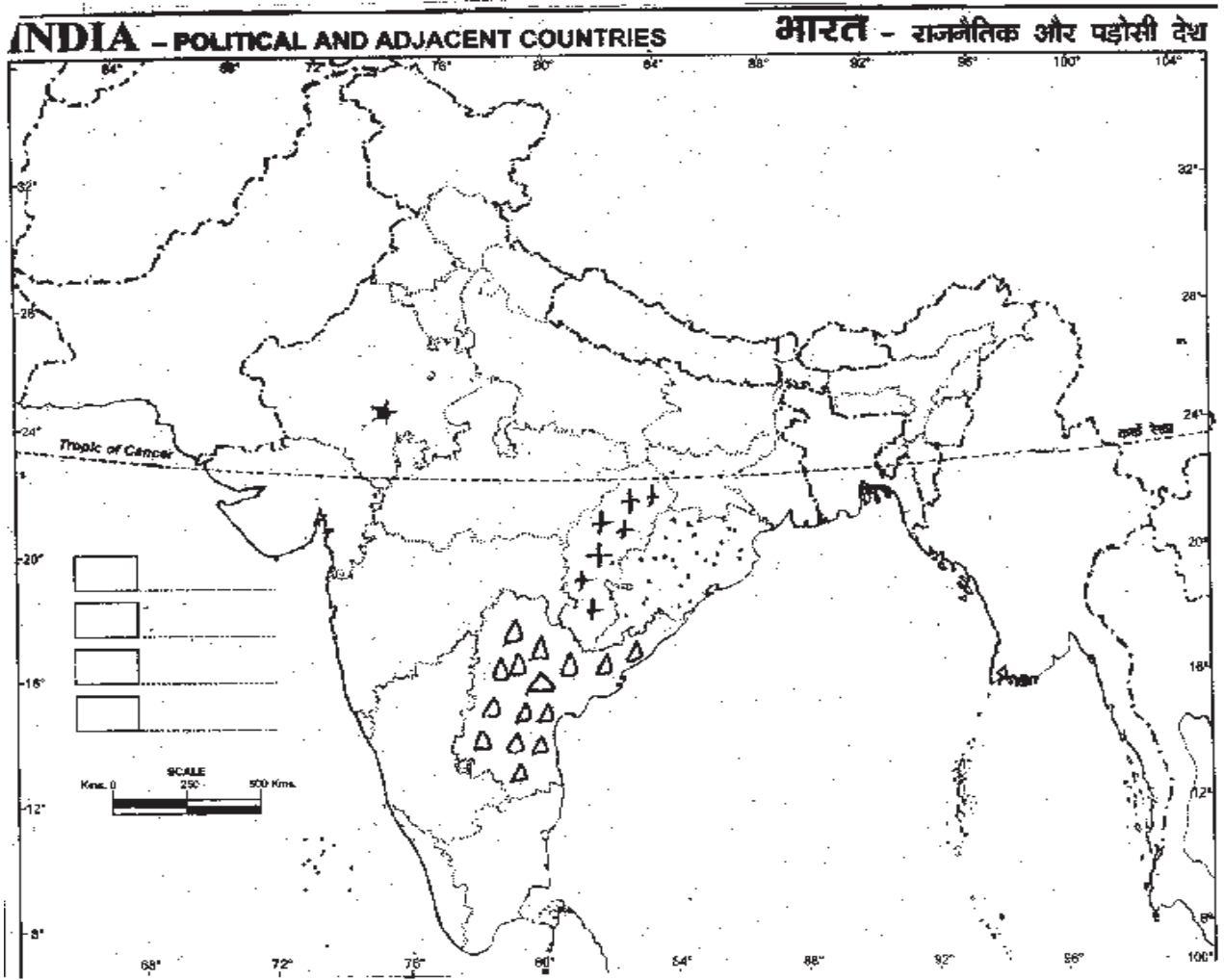
17. अभ्रक, एक अधात्विक खनिज है, तथा यह किस रूप में पाया जाता है, किन्हीं तीन बिंदुओं से स्पष्ट करो कि यह इलेक्ट्रॉनिक उद्योग में प्रयुक्त होने वाले अपरिहार्य खनिजों में से एक है?
18. खनिज संसाधनों के संरक्षण के तीन उपाय लिखिए।
19. ग्रामीण भारत में लकड़ी व उपले बहुतायत में प्रयोग होते हैं, इनका उपयोग किन तीन कारणों से हतोत्साहित किया जाना चाहिए?
20. ऊर्जा के परंपरागत साधन कोयला, तेल, गैस इत्यादि पर निर्भरता को कम करना क्यों आवश्यक है? तीन कारण लिखिए।





चार अंक वाले प्रश्न

21. भू-तापीय ऊर्जा किसे कहते हैं? तथा इसका प्रयोग कैसे होता है?
22. सौर-ऊर्जा को विद्युत ऊर्जा में कैसे परिवर्तित किया जाता है? इस ऊर्जा के दोहन की असीम संभावनाओं के मध्य भारत में सौर ऊर्जा के तीन लाभ लिखिए।

हॉटस

23. भारत विश्व के अल्पतम ऊर्जादक्ष दलों में गिना जाता है। इस कथन के प्रकाश में ऊर्जा की बचत के कोई चार सुझाव दीजिये।
24. दिए गए मानचित्र में निम्नलिखित जानकारी के आधार पर राज्य/स्थान को पहचानिये व नाम लिखिये।



-  राज्य जो अति उत्तम कोटि के हेमेटाइट के लिए प्रसिद्ध है
-  अभ्रक की महत्वपूर्ण उत्पादक पेट्टी वाला राज्य
-  राज्य, जहाँ का कोरापुट जिला बॉक्साइट निक्षेप का केन्द्र है
-  राजस्थान, में, वह स्थान जो ताँबे की खानों के लिए प्रसिद्ध है।

विनिर्माण उद्योग -6

1. विनिर्माण या वस्तु निर्माण किसे कहते हैं?
2. सरकारी नीतियों के अंतर्गत औद्योगिक उत्पादन की बढ़ोत्तरी के लिए किस परिषद का गठन किया गया है?
3. 'समूहन बचत' (Agglomeration Economies) किसे कहा जाता है?
5. कृषि से प्राप्त कच्चे माल पर आधारित किन्ही दो उद्योगों के नाम लिखिए।
6. खनिज आधारित उद्योग किसे कहते हैं?
7. लोहा तथा इस्पात एक भारी उद्योग क्यों है?,
8. सार्वजनिक क्षेत्र के सभी उपक्रम अपने इस्पात की बिक्री किस संस्था के माध्यम से करते हैं?
9. इस्पात उद्योग को अधिक स्पर्धावान बनाने में सहायक दो मुख्य तत्व कौन से हैं?
10. दो में एल्युमिनियम उद्योग की स्थापना में सहायक दो मुख्य तत्व कौन से हैं?
11. जल में तापीय प्रदूषण कैसे होता है?

तीन अंक वाले प्रश्न

12. विनिर्माण उद्योग के तीन महत्व समझाइये।
13. 'हमारे लिये अधिक मात्रा में धागे की निर्यात की अपेक्षा अधिक बुनाई क्षेत्र को सुधारना आवश्यक है।' क्यों? उत्तर की पुष्टि में तीन तर्क दीजिये।
14. वर्तमान समय में सूती वस्त्र उद्योग किन समस्याओं का सामना कर रहा है?
15. पटसन उद्योग हुगली नदी पर ही क्यों केंद्रित है?
16. जूट उद्योग की तीन प्रमुख चुनौतियाँ क्या हैं?
17. जल को औद्योगिक प्रदूषण से बचाने के तीन उपाय लिखिए।

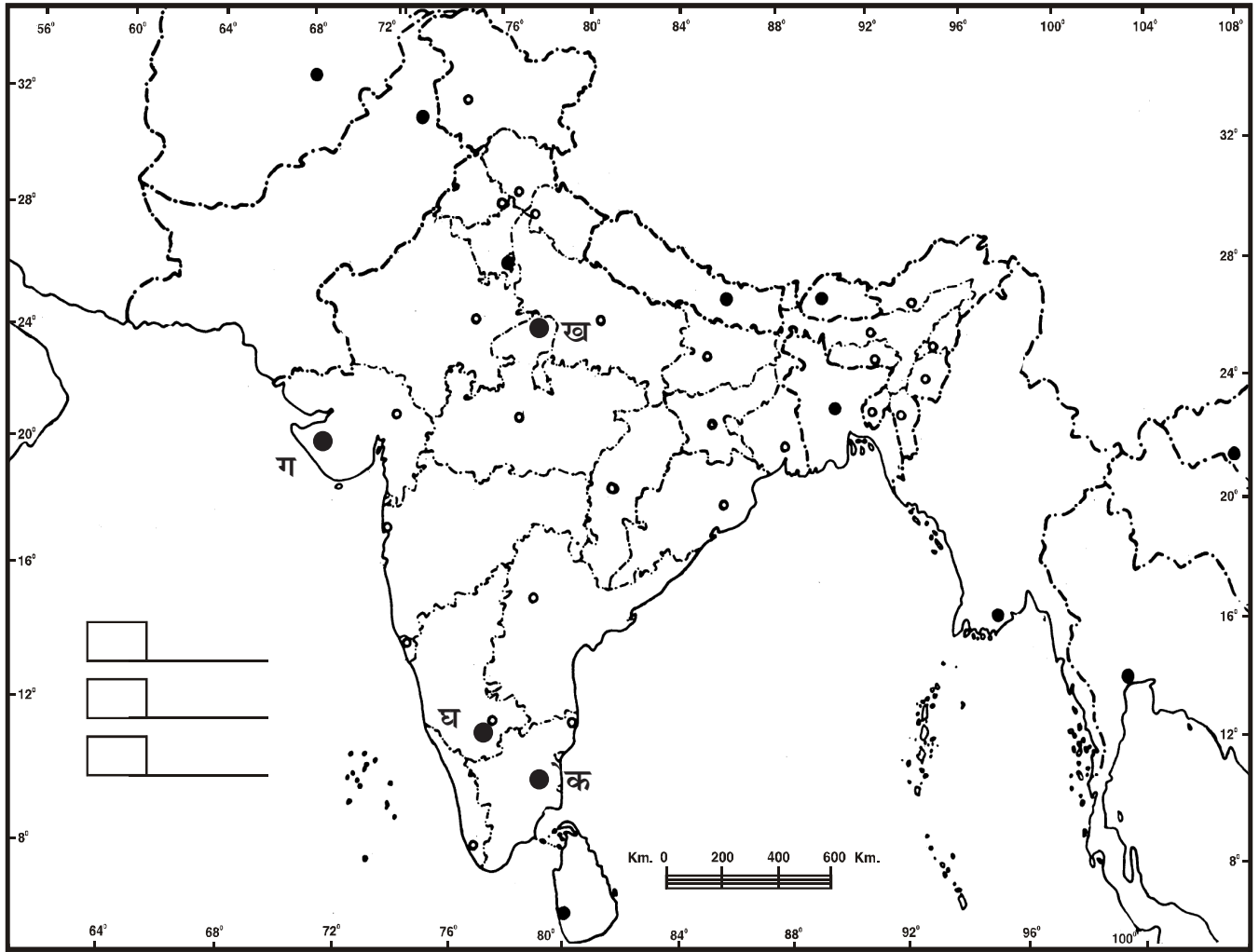
चार अंक वाले प्रश्न

18. भारत संसार का एक महत्वपूर्ण लौह इस्पात उत्पादक देश है तथापि हम इनके पूर्ण संभाव्य विकास नहीं कर पाए हैं, चार कारण लिखिए।
19. वायु में निलंबित प्रदूषण को कम करने के लिए कोई चार उपाय लिखिए।
20. अन्तर स्पष्ट करे:- (1)संयुक्त एवं सहकारी उद्योग (11) निजी एवं सार्वजनिक क्षेत्र के उद्योग

हॉट्स प्रश्न:

21. "किसी उद्योग की स्थापना में कई कारकों की भूमिका होती है"। इस कथन की पुष्टि में चार तर्क दीजिये।(4 अंक)
22. आप कैसे कह सकते हैं कि रसायन उद्योग अपने आप में एक बड़ा उपभोक्ता है? तीन तथ्यों के आधार पर स्पष्ट कीजिये।

21. दिये गये संकेतों के आधार पर नगरों के नाम लिखिये।



- (क) तमिलनाडु स्थित लोहा इस्पात संयंत्र
- (ख) मध्य प्रदेश स्थित ऊनी वस्त्र क्षेत्र/ स्थान
- (ग) गांधी की जन्मस्थली जो सूती वस्त्र उद्योग के लिए प्रसिद्ध है।
- (घ) कर्नाटक राज्य स्थित रोम वस्त्र उद्योग के लिए स्थान।

राष्ट्रीय अर्थव्यवस्था की जीवन रेखाएँ-7

1 अंक वाले प्रश्न

1. दो के ग्रामीण क्षेत्रों को प्रमुख तहरों से पक्की सड़को द्वारा जोड़ने वाली योजना का क्या नाम है?
2. भारत का सर्वाधिक लम्बा राजमार्ग कौन सा है?
3. सड़क घनत्व से क्या अभिप्राय है?
4. राष्ट्रीय राजमार्ग न.1 किन दो महानगरों को जोड़ता है?
5. भारत में सबसे कम तथा सबसे अधिक सड़क घनत्व वाले राज्यों के क्रमाः नाम लिखिए।
6. स्वतंत्रता प्राप्ति के पचात विकसित किए गए पहले पत्तन का नाम लिखिए।
7. भारत के उत्तरी व उत्तरी पचिमी राज्यों के औद्योगिक खाद्यान्नों का आयात निर्यात किस पत्तन से संचालित होता है?
8. वायु परिवहन का राष्ट्रीयकरण किस वर्ष हुआ?
9. भारत के पूर्वोत्तर पर स्थित प्राचीनतम कत्रिम पत्तन कौन सा है?
10. जन संचार माध्यमों से होने वाले दो लाभ बताइये।
11. भारत के संभाव्य पर्यटन विकास स्थलों के नाम लिखिए।
12. भारत के किन्ही दो महत्वपूर्ण राष्ट्रीय जलमार्गों के नाम लिखिए।
13. सुदूर दक्षिण पचिम में लैगून के मुहाने पर स्थित एक प्राकृतिक पोताश्रय का नाम लिखिए।
14. एक अन्तः स्थलीय नदी पत्तन का नाम लिखिए।

तीन अंक वाले प्रश्न :

15. रेल परिवहन के वितरण को प्रभावित करने वाले कोई तीन कारक कौन से हैं?
16. भारत सरकार द्वारा किन तीन जलमार्गों को राष्ट्रीय जलमार्ग घोषित किया गया है?
17. संतुलित और अंसंतुलित व्यापार में क्या अंतर है?
18. वाणिज्य के दृष्टिकोण से व्यापार का सबसे सस्ता साधन क्या है? अपने उत्तर के पक्ष में तीन तर्क दीजिये।
19. सीमांत सड़कों का महत्व तीन बिंदुओं में स्पष्ट कीजिये।
20. परिवहन, संचार एवं व्यापार एक दूसरे के पूरक हैं। तीन तर्क देकर स्पष्ट कीजिये।

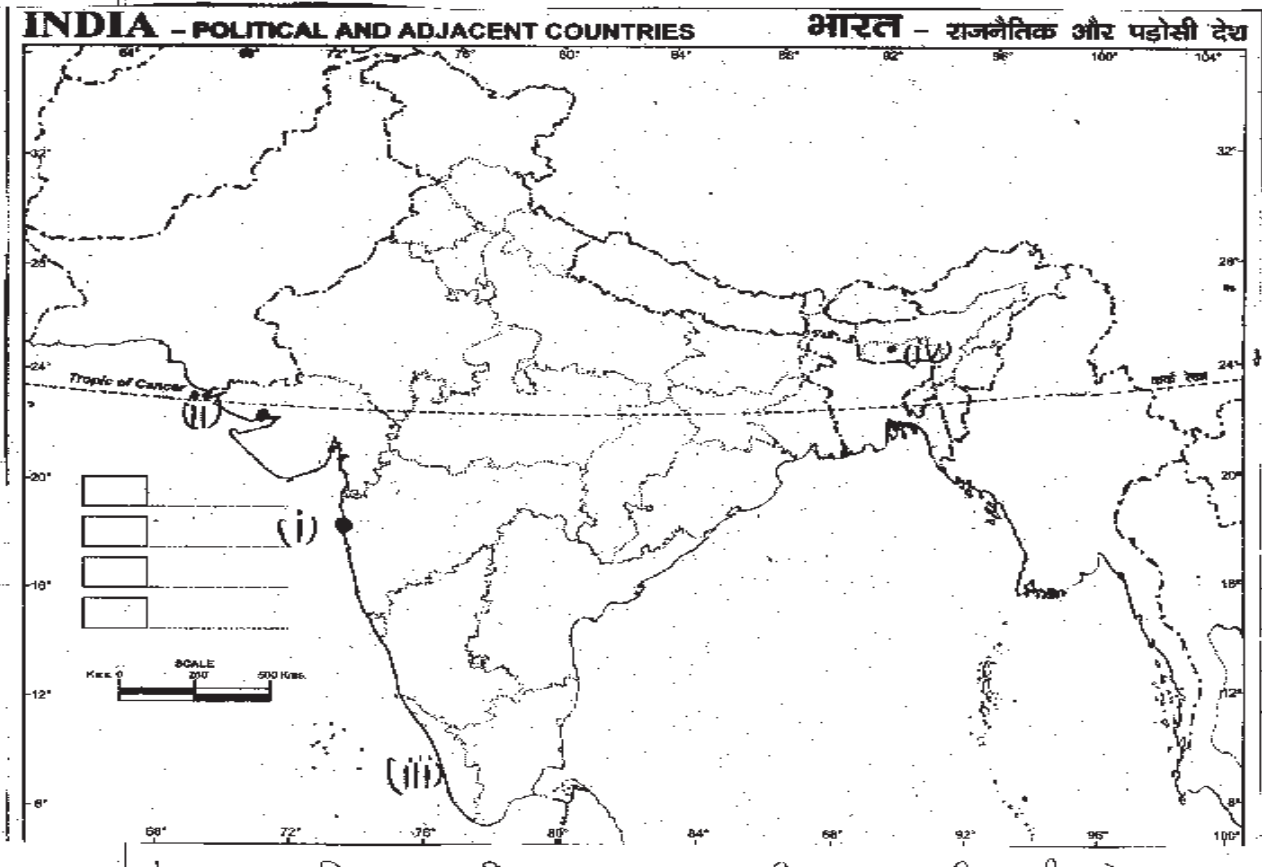
चार अंक वाले प्रश्न

21. सड़क परिवहन, रेल परिवहन की अपेक्षा अधिक महत्ता किन कारणों से अर्जित कर रहा है? कोई चार तर्क दीजिए।

22. डाक संचार साधनों के कोई दो रूप लिखिए। डाक निकास में प्रयुक्त चैनलों की तालिका बनाइए।
23. भारतीय रेल में किए गए चार सुधारों का विवरण दीजिए।
24. प्रासनिक स्तर पर सड़कों को कितने भागों में बाँटा गया है? प्रत्येक का परिचय दीजिए।
25. पेट्रोलियम और प्राकृतिक गैस परिवहन में पाइपलाइनों के चार लाभ लिखिए।

हॉट्स प्रश्न

26. परिवहन तथा संचार के साधनों को किसी दो की अर्थव्यवस्था की जीवन रेखाये क्यों कहा जाता है? स्पष्ट कीजिये।
27. नीचे दी गयी जानकारी के अनुसार मानचित्र में चिह्नित स्थानों के नाम लिखिये :-



- (i) भारत विभाजन के पचात कराची पत्तन की कमी को पूरा करने व व्यापारिक दबाव को कम करने के लिए खोला गया पत्तन
- (ii) एक ज्वारीय पत्तन
- (iii) राज्य, जो सड़क घनत्व की दृष्टि से अग्रणी है।
- (iv) उत्तर-पूर्वी राज्य जो संभाव्य पर्यटन विकास स्थल है।

भाग - 3 लोकतान्त्रिक राजनीति

अध्याय -1

सत्ता की साझेदारी

1 अंक के प्रश्न

1. सत्ता की साझेदारी से क्या तात्पर्य है?
2. बेल्जियम के दो भाषा समूहों के नाम लिखिए।
3. श्रीलंका में प्रमुख जातीय समूह कौन-कौन से हैं?
4. बेल्जियम के दो पड़ोसी देशों के नाम बताइए।
5. श्रीलंका में किस धर्म को सरकारी संरक्षण प्राप्त है?
6. 'बहुसंख्यकवाद' से आप क्या समझते हैं?
7. 'गहयुद्ध' किसे कहते हैं?
8. 'सत्ता के क्षेत्रीय वितरण' से आप क्या समझते हैं?
9. सामुदायिक सरकार का अर्थ स्पष्ट कीजिए।
10. 'युक्तिपरक' फैसले का क्या अर्थ है?

3 अंक के प्रश्न

1. बेल्जियम ने सत्ता की साझेदारी के अन्तर्गत अपनी समस्या का समाधान किस प्रकार किया?
2. श्रीलंका में सिंहलियों की प्रभुसत्ता कायम करने के लिए उठाए गए तीन कदमों को लिखिए।
3. सत्ता की साझेदारी क्यों जरूरी है? तीन तर्क दीजिए।
4. श्रीलंकाई तमिल किन माँगों को लेकर आंदोलन चला रहे हैं?
5. बेल्जियम सरकार और श्रीलंकाई सरकार में तीन अंतर बताइए।

4 अंक वाले प्रश्न

1. बेल्जियम में क्षेत्रीय अंतर और सांस्कृतिक विविधताओं से निपटने के लिए किए गए चार संवैधानिक प्रावधानों को लिखिए।
2. श्रीलंका में बहुसंख्यकवाद की नीति के चार परिणाम बताइए।
3. बेल्जियम में दो विभिन्न भाषाई समूहों के बीच तनाव के कौन से दो-प्रमुख कारण हैं? वहाँ की सरकार द्वारा इसके समाधान हेतु किए गए दो उपायों को विवरण दीजिए।

हॉट्स प्रश्न

1. सत्ता के विभिन्न अंगों के बीच 'नियंत्रण और संतुलन' की व्यवस्था क्यों आवश्यक है? अपने उत्तर के समर्थन में तर्क दीजिए। (4)

अध्याय - 2

संघवाद

1. संघवाद क्या है?
2. संघीय व्यवस्था वाले दो देशों के नाम लिखिए।
3. एकात्मक शासन व्यवस्था किसे कहते हैं?
4. एकात्मक शासन व्यवस्था वाले दो देशों का नाम लिखिए।
5. भारत में विधायी शक्तियों को किन तीन सूचियों में बाँटा गया है?
6. संघ सूची के दो विषयों के नाम लिखिए।
7. समवर्ती सूची किसे कहते हैं?
8. भारत में सर्व प्रथम राज्यों का पुनर्गठन किस आधार पर किया गया था?
9. केन्द्र शासित प्रदेश से आप क्या समझते हैं?
10. भारत की आठवीं अनुसूची में कितनी भाषाओं को शामिल किया गया है?
11. 'गठबंधन सरकार' किसे कहते हैं?
12. सत्ता के विकेन्द्रीकरण से आप क्या समझते हैं?
13. जम्मू-कश्मीर के संदर्भ में दो संवैधानिक प्रावधान बताइए।
14. नगर निगम के प्रमुख को क्या कहते हैं?
15. 'राजभाषा' से क्या तात्पर्य है?

3 अंक वाले प्रश्न

1. संघीय व्यवस्था की तीन विशेषताओं को लिखिए।
2. भारत में संघीय व्यवस्था की आवश्यकता के पक्ष में तीन तर्क दीजिए।
3. भारत में केन्द्र और राज्यों के बीच विधायी शक्तियों को कितने हिस्सों में बाँटा गया है?
4. शासन के संघीय और एकात्मक स्वरूपों में तीन अन्तर स्पष्ट कीजिए।
5. भारत ने अपनी भाषायी समस्या का समाधान किस प्रकार किया है?

6. स्थानीय शासन व्यवस्था के तीन स्तर कौन से हैं? इसके गठन की प्रक्रिया का उल्लेख कीजिए।
7. भारत में 1990 के बाद केन्द्र-राज्य सम्बन्धों में क्या मुख्य परिवर्तन हुए हैं? तीन बिन्दुओं में उल्लेख कीजिए।
8. भारत में संघीय व्यवस्था की सफलता के तीन कारणों को लिखिए।
9. भारत में अधिकांश राज्यों का गठन भाषा के आधार पर हुआ है, परन्तु नागालैण्ड, उत्तराखण्ड और झारखण्ड राज्यों का गठन किन आधारों पर हुआ है? स्पष्ट कीजिये।

4 अंक वाले प्रश्न

1. 'स्थानीय सरकारों की स्थापना, स्वासन के लोकतांत्रिक सिद्धांत को वास्तविक बनाने का सबसे अच्छा तरीका है।' चार तर्कों द्वारा स्पष्ट कीजिए।
2. सत्ता के विकेन्द्रीकरण की दिशा में 1992 में कौन-कौन से संवैधानिक प्रावधान किये गये हैं?
3. 'भारत में केन्द्र व राज्यों के बीच शक्तियों का विभाजन विभिन्न सूचियों में किया गया है।' इस कथन की विवेचना कीजिए।
4. उस प्रक्रिया का नाम बताइए, जिसके अन्तर्गत केन्द्र व राज्य सरकारों से शक्तियाँ लेकर स्थानीय स्वासन को दी जाती है। इसके कोई तीन लाभ बताइए।

अध्याय - 3

लोकतंत्र और विविधता

1 अंक वाले प्रश्न

1. 1968 में ओलंपिक खेलों में किन दो अमरीकी धावकों ने अमेरिका में होने वाले रंगभेद के प्रति अंतर्राष्ट्रीय बिरादरी का ध्यान आकर्षित किया था?
2. सामाजिक विभाजनों के दो आधारों को लिखिए।
3. 'समरूप समाज' किसे कहते हैं?
4. आयरलैंड के लोग किन दो धार्मिक खेमों में बँटे हुए हैं?
5. उन अफ्रीकी लोगों के वांजों के लिए जिन्हें 17वीं सदी से लेकर 19वीं सदी की शुरुआत तक अमरीका में गुलाम बनाकर लाया गया था, किस शब्द का प्रयोग किया जाता था?
6. 'अमरीकी नागरिक अधिकार आंदोलन' का क्या अभिप्राय है?
7. धार्मिक और जातीय विभाजन के आधार पर यूरोप का कौन सा देश कई टुकड़ों में बँट गया?

8. किसी देा का सामाजिक विभाजन किस परिस्थिति में होता है?

3 अंक वाले प्रश्न

1. उन तीन कारकों का उल्लेख कीजिए जिसके आधार पर सामाजिक भेदभाव होता है?
2. उत्तरी आयरलैंड में राजनैतिक टकराव के तीन कारणों का उल्लेख कीजिए।
3. 'सामाजिक विभाजनों की राजनीति का परिणाम तीन आयामों पर निर्भर करता है।' स्पष्ट कीजिए।
4. सामाजिक विभाजन राजनीति को प्रभावित करते हैं। तीन तर्कों के साथ इस कथन की पुष्टि कीजिए।
5. क्या अपने देा के आंतरिक मसले को विव मंच पर उठाना उचित है? अपने विचार की पुष्टि में तीन तर्क दीजिए।

4 अंक वाले प्रश्न

1. युगोस्लाविया के विखंडन के दो कारणों को लिखिए। क्या उस विखंडन को रोका जा सकता था? यदि हाँ तो कैसे? दो सुझाव दीजिए।
2. बेल्जियम और श्रीलंका की सरकार ने अपनी जातीय समस्या का समाधान अपने-अपने ढंग से करने की प्रयास किया है। आपकी राय में उनमें कौन सही है अथवा कौन गलत? अपने उत्तर के समर्थन में दो-दो तर्क दीजिए।
3. "सामाजिक समूह सरकार के महत्वपूर्ण निर्णयों को प्रभावित करते हैं।" इस कथन की पुष्टि में चार तर्क दीजिए।

हॉट्स प्रश्न

लोकतंत्र मतभेद और संघर्षों को दूर करने का अन्य ासन व्यवस्थाओं से बेहतर विकल्प प्रस्तुत करता है। अपने उत्तर के समर्थन में चार तर्क दीजिए। (4)

अध्याय - 4

जाति, धर्म और लैंगिक मसले

1 अंक वाले प्रश्न

1. श्रम का लैंगिक विभाजन क्या है?
2. 'नारीवादी आंदोलन' से क्या तात्पर्य है?
3. 'पित-प्रधान समाज' का क्या अभिप्राय है?
4. सन् 2001 की जनगणना के अनुसार भारत में लिंग अनुपात कितना है?
5. भारत के दो ऐसे राज्यों के नाम बताएं जहाँ लिंग अनुपात, राष्ट्रीय अनुपात से कम है।

6. भारत में महिलाओं की साक्षरता-दर क्या हैं?
7. स्थानीय सरकारों में महिलाओं के लिए कितनी सीटें आरक्षित की गई हैं?
8. विभिन्न धार्मिक समुदायों के मध्य समानता स्थापित करने के लिए भारतीय संविधान में क्या प्रावधान किया गया है?
9. साम्प्रदायिकता किसे कहते हैं?
10. 'धर्म निरपेक्षता' क्या हैं?
11. 'पारिवारिक कानून' किसे कहते हैं?
12. अंत्यज जातियों के साथ छुआछूत के व्यवहार के विरुद्ध आंदोलन चलाने वाले दो प्रमुख नेताओं के नाम लिखिए।
13. किस स्तर की सरकार में महिलाओं के लिए 33 प्रतिशत आरक्षण का प्रयास किया जा रहा है?

3 अंक वाले प्रश्न

1. भारत में महिलाओं की निम्न और दयनीय स्थिति के लिए उत्तरदायी किन्हीं तीन कारणों को स्पष्ट कीजिए।
2. साम्प्रदायिकता एवं राजनीति एक-दूसरे को किस प्रकार प्रभावित करते हैं? तीन बिन्दुओं में व्याख्या कीजिए।
3. भारतीय समाज में महिलाओं की स्थिति को बेहतर बनाने के लिए कौन-कौन से संवैधानिक प्रावधान किए गए हैं? तीन बिन्दुओं में उल्लेख करें।
4. संविधान में भारत को एक धर्म निरपेक्ष राज्य घोषित किया गया है। तीन तर्कों के साथ इसकी सार्थकता को सिद्ध कीजिए।

4 अंक वाले प्रश्न

1. जातिवाद सामाजिक गठन का एक प्रमुख आधार माना गया है और यह भारतीय राजनीति को बहुत हद तक प्रभावित करता है। चार बिन्दुओं में इस तथ्य को स्पष्ट कीजिए।
2. साम्प्रदायिकता क्या है? समाज पर इसके पड़ने वाले तीन प्रमुख दुष्प्रभावों का उल्लेख कीजिए।
3. महिला साक्षरता एवं लैंगिक समानता के विकास के लिए आवश्यक है। इस दिशा में भारत सरकार द्वारा उठाए गए एक किन्हीं चार कदमों का उल्लेख कीजिए।

हॉट्स प्रश्न

जातिगत पहचान पर आधारित राजनीति लोकतंत्र के लिए शुभ नहीं होती बल्कि यह सामाजिक विकास में बाधा पहुँचाती है। चार उदाहरण देकर इसे सिद्ध कीजिए। (4)

अध्याय - 5

जन संघर्ष और आंदोलन

1 अंक वाले प्रश्न :

1. नेपाल में सर्वप्रथम लोकतंत्र की स्थापना कब हुई थी?
2. लोकतंत्र की स्थापना के बाद भी नेपाल में राज्य का प्रधान कौन बना रहा?
3. नेपाल में जन-संघर्ष किसलिए हुआ था?
4. 'माओवादी' किसे कहते हैं?
5. नेपाल में लोकतंत्र की स्थापना के लिए संसद की सभी बड़ी राजनैतिक पार्टियों द्वारा कौन सा संगठन बनाया गया था?
6. नेपाल में रहस्यमय तरीके से किस राजा की हत्या कर दी गई थी?
7. सन् 2004 में लोकतंत्र की स्थापना के बाद नेपाल में किसे प्रधानमंत्री बनाया गया?
8. सन् 2000 में बोलिविया में जन संघर्ष का प्रमुख आधार क्या था?
9. जब किसी दो का गसन वहाँ की सेना के हाथों में आ जाता है, तो इसे क्या कहते हैं?
10. 'लामबंदी' किसे कहते हैं?
11. बोलिविया में जन-संघर्ष का नेतृत्व किस संगठन ने किया था?
12. बामसेफ (BAMCEF) का अर्थ-विस्तार लिखिए?
13. दबाव समूह किसे कहते हैं?

3 अंक वाले प्रश्न

1. सन् 1990 से 2004 के बीच नेपाल में लोकतंत्र की स्थापना के लिए कौन-कौन से प्रयास किये गए?
2. बोलिविया में जन-आंदोलन क्यों हुआ था? तीन कारण बताइए।
3. लोकतंत्र में जन-संघर्ष का क्या महत्व है? तीन बिन्दुओं द्वारा स्पष्ट कीजिए।
4. जन-आंदोलन सरकारी नीतियों को किस प्रकार प्रभावित करते हैं? (कोई तीन बिन्दु)
5. हित-समूह और दबाव समूह में तीन अंतर स्पष्ट कीजिए।

4 अंक वाले प्रश्न

1. 'दबाव समूह' किसी दो की राजनीति को किस प्रकार प्रभावित करता है? चार तथ्यों द्वारा समझाइए।
2. दबाव समूह और राजनीतिक दल में चार अंतर स्पष्ट कीजिए।
3. बोलिविया और नेपाल के जन-आंदोलन किस प्रकार एक-दूसरे से भिन्न थे? स्पष्ट कीजिए।

हॉट्स प्रश्न

कोई दबाव समूह कब राजनैतिक दल बन जाता है? उदाहरण देते हुए समझाइए।

(4)

अध्याय - 6

राजनीतिक दल

1 अंक वाले प्रश्न

1. राजनीतिक दल किसे कहते हैं?
2. राजनीतिक दल को मान्यता कौन प्रदान करता है?
3. गणसक दल किसे कहते हैं?
4. भारत के दो प्रमुख राजनीतिक दलों के नाम लिखिए।
5. लोकतंत्र में बहुदलीय व्यवस्था से क्या तात्पर्य है?
6. गठबंधन सरकार किसे कहते हैं?
7. राष्ट्रीय दल को परिभाषित कीजिए।
8. दुनियाँ के दो दलों के नाम बताइए जहाँ द्वि-दलीय गणसन व्यवस्था है।
9. क्षेत्रीय दल से क्या तात्पर्य है?
10. दो क्षेत्रीय दलों के नाम लिखिए जो अपने-अपने राज्य में सत्ता में हैं

3 अंक वाले प्रश्न

11. लोकतांत्रिक गणसन व्यवस्था में राजनीतिक दलों की जरूरत क्यों होती है? तीन कारण दीजिए।
12. बहुदलीय राजनैतिक प्रणाली लोकतंत्र के सफल संचालन में सहायक है अथवा बाधक। अपने उत्तर की पुष्टि में तीन तर्क दीजिए।
13. बहुदलीय व्यवस्था और गठबंधन सरकार प्रत्येक के तीन प्रमुख दोष बताइयें।
14. भारतीय जनता पार्टी का गठन कब हुआ? इसके दो प्रमुख कार्यक्रम बताइयें।
15. भारतीय राष्ट्रीय कांग्रेस की स्थापना और उसकी नीतियों एवं कार्यक्रम के बारे में बताइए।
16. चुनाव आयोग के तीन प्रमुख कार्यों को स्पष्ट कीजिए।

4 अंक वाले प्रश्न

17. राजनीतिक दलों के चार प्रमुख कार्यों का उल्लेख कीजिए।
18. राष्ट्रीय दल और क्षेत्रीय दल में चार अन्तर बताइयें।
19. भारतीय लोकतंत्र में राजनीतिक दलों के स्तर में लगातार गिरावट हो रही है, इस संदर्भ में चार बिन्दुओं का उल्लेख कीजिए जो राजनीतिक दलों में सुधार लाने के लिए प्रारम्भ किए गए हैं।
20. राजनीतिक दलों की उन चार प्रमुख चुनौतियों का उल्लेख कीजिए, जिनका सामना राजनीतिक दल कर रहे हैं।

अध्याय - 7

लोकतंत्र के परिणाम

1 अंक वाले प्रश्न

1. ासन की वह प्रणाली, जिसे उत्तरदायी, जिम्मेदार और वैध माना जाता है, क्या कहलाती है?
2. दो विभिन्न प्रकार की ासन प्रणालियों के नाम बताइए।
3. किस प्रकार की सरकारों को विधायिका का सामना नहीं करना पड़ता है?
4. तानाहाही सरकार की दो विषताएँ लिखिए।
5. किसी ासन प्रणाली की वैधता किस बात पर निर्भर करती है।
6. राजनैतिक समानता का अर्थ बताइए।
7. 'पारदर्शिता' से क्या तात्पर्य है?
8. किस कारक पर किसी देा का आर्थिक विकास निर्भर करता है?

3 अंक वाले प्रश्न

1. लोकतंत्र की वैधता से आप क्या समझते हैं? इसकी दो विषताओं को लिखिए।
2. भारतीय संदर्भ में लोकतंत्र के समक्ष तीन प्रमुख चुनौतियों को स्पष्ट कीजिए।
3. लोकतंत्र और तानाहाही ासन व्यवस्था वाले एक-एक देा का उदाहरण दीजिए। दोनों ासन व्यवस्थाओं में दो अंतर लिखिए।
4. लोकतंत्र समानता के सिद्धांत पर आधारित ासन व्यवस्था है। तीन बिन्दुओं द्वारा इसे सिद्ध कीजिए।
5. किसी लोकतांत्रिक सरकार से एक आम आदमी क्या अपेक्षा करता है? तीन बातों का उल्लेख कीजिए।

4 अंक वाले प्रश्न

1. संसार की सभी ासन व्यवस्थाओं में लोकतंत्र को सबसे बेहतर माना गया है। चार तथ्यों द्वारा इसे स्पष्ट कीजिए।
2. आर्थिक विकास के मामले में लोकतंत्र एक बेहतर ासन प्रणाली साबित नहीं हुई है। चार कारण दीजिए।
3. सामाजिक विविधताओं में सामंजस्य स्थापित करने के दृष्टिकोण से लोकतंत्र एक बेहतर विकल्प हैं। विभिन्न तर्कों के द्वारा इस कथन की पुष्टि कीजिए
4. 'विभिन्न लोकतांत्रिक दों में नीति-निर्माताओं का लगातार नैतिक पतन हो रहा है, जिससे आम आदमी का लोकतंत्र से भरोसा उठ रहा है।' अपने उत्तर की पुष्टि में चार तर्क दीजिए।

अध्याय - 8

1 अंक वाले प्रश्न

1. 'लोकतंत्र की चुनौती' का क्या तात्पर्य है?
2. लोकतंत्र की दो चुनौतियों को लिखिए।
3. उस दो का नाम बताइए जहाँ विगत 15 वर्षों से लोकतंत्र समर्थक एक महिला नेता को नजरबंद रखा गया है।
4. उस व्यक्ति का नाम बताइए जो 24 वर्षों तक जेल में रहने के बाद रिहा किये गए और उसके बाद दक्षिण अफ्रीका के राष्ट्रपति बने।
5. एनक्रूमा किस दो के राष्ट्रपति थे?
6. उस दो का नाम बताइए जहाँ महिलाओं को सार्वजनिक गतिविधियों में हिस्सा लेने की अनुमति नहीं है।
7. वह कौन सा राष्ट्रपति है जिसे आधुनिक विव का सबसे बड़ा तानाहा माना गया है?
8. यूगोस्लाविया का विखण्डन किन दो जातीय समूहों के बीच संघर्ष का परिणाम था?
9. किसी एक दो का उदाहरण दें जहाँ एकल पार्टी ासन की व्यवस्था है।

3 अंक वाले प्रश्न

1. लोकतंत्र की तीन प्रमुख चुनौतियों का उल्लेख कीजिए।
2. दो दों का उदाहरण देते हुए दो बिन्दुओं में स्पष्ट कीजिए कि वहाँ लोकतंत्र के समक्ष अलग-अलग प्रकार की चुनौतियाँ हैं।
3. भारतीय लोकतंत्र के संदर्भ में किन्हीं तीन राजनीतिक सुधारों का वर्णन कीजिए।
4. सूचना का अधिकार क्या है? इस अधिकार ने किस प्रकार लोकतंत्र की जड़ें मजबूत की है? (दो बिन्दु)

4 अंक वाले प्रश्न

1. एक अच्छे लोकतंत्र की क्या विशेषताएँ होती हैं? तीन बिन्दुओं में स्पष्ट कीजिए।
2. दुनियाँ के चार देशों का नाम लिखिए जहाँ अलग-अलग प्रकार की गणतंत्र व्यवस्था है तथा उस देश की एक-एक चुनौती को भी लिखिए।

हॉट्स प्रश्न

1. क्या कानून मात्र से लोकतंत्र में राजनैतिक सुधार लाए जा सकते हैं? अपने उत्तर की पुष्टि में चार तर्क दीजिए।
(4 अंक)

भाग - 4

आर्थिक विकास की समझ - 2

अध्याय - 1 विकास

1 अंक वाले प्रश्न

1. लोगों के विकास के लक्ष्य भिन्न-भिन्न क्यों होते हैं?
2. मृत्यु दर से क्या अभिप्राय है?
3. साक्षरता दर से आप क्या समझते हैं?
4. किसी देश के आर्थिक विकास को मापने की कोई एक साधारण विधि बताइए।
5. किसी देश की प्रति व्यक्ति आय/औसत आय से क्या आया है?
6. विश्व बैंक की विश्व विकास रिपोर्ट 2006 के अनुसार देशों का वर्गीकरण करने में किस मापदण्ड को आधार के रूप में प्रयोग किया गया है?
7. विश्व बैंक की विश्व विकास रिपोर्ट 2006 के अनुसार समृद्ध देश व निम्न आय वाले देशों का निर्धारण करने के लिए प्रति व्यक्ति आय की न्यूनतम सीमा क्या है?

3 अंक वाले प्रश्न

8. किसी देश के आर्थिक विकास में आय के अतिरिक्त कौन से दो मानवीय कारक सहायक हैं?
9. विकास की धारणीयता का क्या अर्थ है? आर्थिक विकास के संदर्भ में इसकी महत्ता को दो बिन्दुओं में स्पष्ट कीजिए।
10. विकास का आंकलन करने वाले मापदण्ड कौन-कौन से हैं किन्हीं तीन के विषय में लिखिए।
11. 'विकास की अवधारणा प्रत्येक व्यक्ति के लिए अलग है', कोई तीन उदाहरण देकर स्पष्ट कीजिए।

4 अंक वाले प्रश्न

12. आय के अतिरिक्त चार अन्य ऐसे कारक बताइए जो हमारे जीवन के महत्वपूर्ण पहलू हैं?
13. हम औसत का प्रयोग क्यों करते हैं, विकास से जुड़े तीन उदाहरण देकर स्पष्ट कीजिए।
14. नीचे दी गई तालिका का अध्ययन करके नीचे दिए गए प्रश्नों के उत्तर दीजिए।

राज्य	शिशु मृत्यु दर	साक्षरता दर	कक्षा 1 से 5 तक
	प्रति हजार व्यक्ति	प्रतिशत	निबल उपस्थिति अनुपात
	2003	%	1995-96
पंजाब	49	70	81
केरल	11	91	91
बिहार	60	47	41

1. निबल उपस्थिति अनुपात किस राज्य में कम है?
2. किस राज्य में साक्षरता दर सबसे अधिक है?
3. शिशु मृत्यु दर किस राज्य में सबसे कम है और क्यों?

हॉट्स प्रश्न:

15. केरल, पंजाब और बिहार में तुलनात्मक रूप से केरल में शिशु मृत्यु दर कम है, इस कथन को दो सार्थक तर्क देते हुए स्पष्ट कीजिए।

(4)

अध्याय - 2

भारतीय अर्थव्यवस्था के क्षेत्रक

1 अंक वाले प्रश्न

1. अर्थव्यवस्था के प्राथमिक क्षेत्र से क्या अभिप्राय है?
2. सेवा क्षेत्रक की ऐसी दो अपरिहार्य सेवाएं बताइए जो प्रत्यक्ष रूप से वस्तुओं के उत्पादन में सहायता नहीं करती।
3. जी.डी.पी. (सकल घरेलू उत्पाद) किसे कहते हैं?
4. अल्प बेरोजगारी या प्रच्छन्न बेरोजगारी किसे कहते हैं?

5. ऐसी दो प्राथमिक जिम्मेदारी कौन सी हैं, जिन पर व्यय करना सरकार की अनिवार्यता है।
6. किन्हीं दो संगठित क्षेत्रों के उदाहरण लिखिए।
7. निजी क्षेत्र के कोई दो उदाहरण दीजिए।

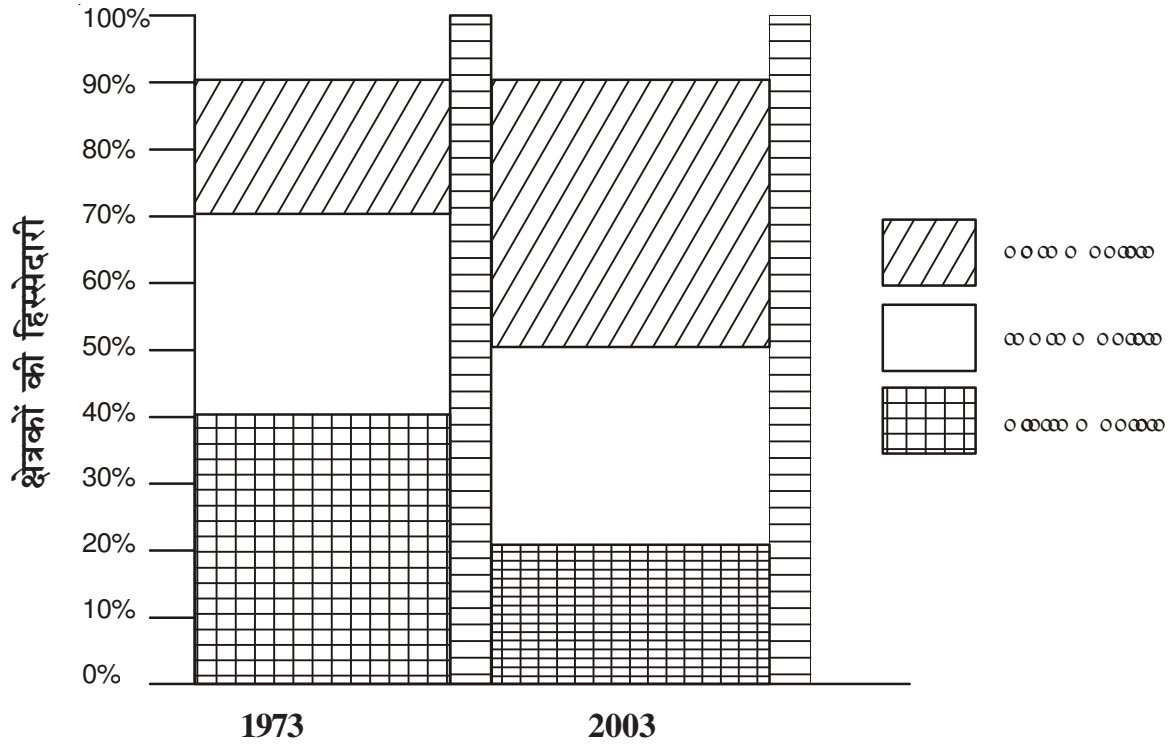
3 अंकों वाले प्रश्न

8. प्राथमिक क्षेत्र को प्राथमिक क्यों कहा जाता है, दो कारण बताइए। इस क्षेत्र को अन्य किस नाम से जाना जाता है?
9. अर्थव्यवस्था में द्वितीयक क्षेत्र से क्या तात्पर्य है, इसे औद्योगिक क्षेत्र क्यों कहा गया है?
10. प्राथमिक और द्वितीयक क्षेत्र के विकास में मदद करने वाली गतिविधियाँ किस क्षेत्र के अंतर्गत आती हैं, कोई दो उदाहरण देकर स्पष्ट कीजिए।
11. प्रत्येक क्षेत्र की विविध वस्तुओं और सेवाओं की गणना में केवल अंतिम सेवाओं और वस्तुओं की ही गणना क्यों ही जाती है, तीन उदाहरण देकर स्पष्ट कीजिए।
12. ऐतिहासिक परिप्रेक्ष्य में अर्थव्यवस्था के क्षेत्रों में हुए परिवर्तन को तीन बिन्दुओं में स्पष्ट कीजिए।
13. अतिरिक्त रोजगार का सजन अल्प बेरोजगारी की समस्या का समाधान है, कैसे? तीन उदाहरण से स्पष्ट कीजिए।
14. अधिकांत: श्रमिक असंगठित क्षेत्र में काम करने के लिए विवा क्यों हैं, कोई तीन कारण बताइए।
15. ग्रामीण व शहरी क्षेत्रों में अधिकांत: असंगठित क्षेत्रों में लगे लोग कौन हैं, जिन्हें संरक्षण की आवश्यकता है।
16. 'सेवा क्षेत्र में सभी सेवाओं का समान संवर्धन नहीं हो पा रहा है,' कथन की सार्थकता को दो बिन्दुओं में स्पष्ट कीजिए।

4 अंकों वाले प्रश्न

17. एन.आर.इ.जी.ए (राष्ट्रीय ग्रामीण रोजगार गारंटी अधिनियम) 2005 की चार विशेषताएँ बताइए।
18. संगठित व असंगठित क्षेत्र में कोई चार अंतर स्पष्ट कीजिए।
19. स्वामित्व के आधार पर अर्थव्यवस्था को किन दो क्षेत्रों में विभाजित किया गया है, इनमें कोई तीन अंतर बताइए।
20. निजी क्षेत्र की कुछ गतिविधियों को सरकारी समर्थन की जरूरत क्यों पड़ती है, कोई चार कारण बताइए।
21. किसी दो के आर्थिक विकास में सार्वजनिक क्षेत्र महत्वपूर्ण भूमिका कैसे अदा करता है, चार बिन्दुओं में स्पष्ट कीजिए।
22. नीचे दिए गए आरेख का अध्ययन करके उसके नीचे दिए गए प्रश्नों के उत्तर दीजिए।

जी.डी.पी. में क्षेत्रों की हिस्सेदारी (प्रतिशत)



1. 1973 में सबसे बड़ा उत्पादक क्षेत्र कौन सा था?
2. 2003 में सबसे बड़ा उत्पादक क्षेत्र कौन सा था? इस क्षेत्र का कुल जी. डी. पी. में क्या योगदान था?
3. 2003 में तृतीयक क्षेत्र में हुई वृद्धि के दो कारण बताइए।

4 अंकों वाले प्रश्न

23. 'भारत में प्राथमिक क्षेत्र को प्रतिस्थापित करते हुए तृतीयक क्षेत्र सबसे बड़े उत्पादक क्षेत्र के रूप में उभरा है' कथन की सार्थकता के पक्ष में चार तर्क दीजिए।
24. भारत में जी.डी.पी. में तीनों क्षेत्रों की हिस्सेदारी में परिवर्तन हुआ है, फिर भी यह परिवर्तन रोजगार में परिलक्षित नहीं होता। क्यों? चार तर्क दीजिए।

अध्याय - 3

मुद्रा और साख

1 अंक वाले प्रश्न

1. 'आवयकताओं के दोहरे संयोग' से आप क्या समझते हैं?
2. वस्तु विनिमय प्रणाली की अनिवार्य तर्त क्या है?
3. मुद्रा विनिमय का माध्यम क्यों है?
4. प्रारम्भिक काल में मुद्रा के रूप में प्रयोग की जाने वाली दो वस्तुओं के नाम लिखिए।
5. मुद्रा का आधुनिक रूप क्या है?
6. आधुनिक मुद्रा बहुमूल्य धातु से नहीं बनी फिर भी इसे विनिमय का माध्यम क्यों स्वीकार किया गया है?
7. भारत में नोट कौन जारी करता है?
8. माँग जमा किसे कहते हैं?
9. बैंकों की आय का प्रमुख स्रोत क्या है?
10. ऋण से क्या तात्पर्य है?
11. समर्थक ऋणाधार से क्या अभिप्राय है?
12. बैंक अतिरिक्त मुद्रा वाले लागों व जरूरतमंद लागों के बीच मध्यस्थता का काम किस प्रकार करते हैं?

3 अंकों वाले प्रश्न

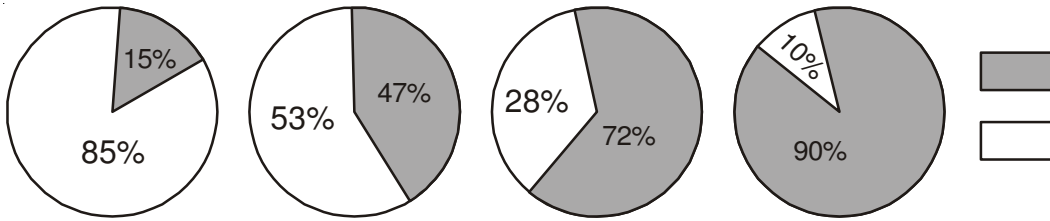
13. मुद्रा किस प्रकार दोहरे संयोग की जरूरत को खत्म कर देती है, उदाहरण सहित समझाइए।
14. चेक क्या है? आधुनिक अर्थव्यवस्था में इसे भी मुद्रा क्यों कहा गया है, कोई दो कारण बताइए।
15. विभिन्न प्रकार के ऋणों को कितने वर्गों में बांटा गया है, नाम बताइए व प्रत्येक के दो उदाहरण दीजिए।
16. कर्जदाता कर्ज देते समय ऋणाधार की माँग क्यों करते हैं?, तीन बिन्दुओं में स्पष्ट कीजिए।
17. औपचारिक स्रोतों की कार्यप्रणाली पर कौन सी संस्था नजर रखती है व कैसे? दो बिन्दुओं में उल्लेख कीजिए।
18. स्वयं सहायता समूह क्या है? उसकी कार्यविधि भी स्पष्ट कीजिए।
19. ग्रामीण क्षेत्रों में आज भी अनौपचारिक ऋण के स्रोतों की महत्ता बनी हुई है, क्यों? कोई तीन कारण दीजिए।

4 अंकों वाले प्रश्न

20. ग्रामीण क्षेत्रों में बैंकों व सहकारी समितियों को अपनी गतिविधियाँ बढ़ाने की आवयकता क्यों है? चार बिन्दुओं में स्पष्ट कीजिए।
21. ऋण के औपचारिक व अनौपचारिक स्रोतों में कोई चार अन्तर बताइए।

22. 'सस्ता और सामर्थ्य के अनुकूल कर्ज दे के विकास को प्रोत्साहित करता है, कथन की सार्थकता चार तर्क देकर कीजिए।
23. ऋण लेने की चार प्रमुख तर्क बताइयें।
24. नीचे दिए गए आरेख को देखकर उसके नीचे दिए गए प्रश्नों के उत्तर दीजिए

2003 में कुल लिए गए ऋण का वितरण



1. गरीब परिवार कितने प्रतिशत ऋण अनौपचारिक क्षेत्र से प्राप्त कर रहे हैं?
2. समृद्ध परिवार कितने प्रतिशत ऋण औपचारिक क्षेत्र से प्राप्त कर रहे हैं?
3. औपचारिक क्षेत्र से सबसे ज्यादा ऋण किसे मिल रहा है एवं क्यों, एक कारण लिखिए।

हॉट्स प्रश्न

3 अंकों वाले प्रश्न

25. ऋण की तर्कों में एक ऋण व्यवस्था से दूसरी ऋण व्यवस्था में काफी अन्तर है। उदाहरण देकर स्थिति को स्पष्ट कीजिए।
25. 'स्वयं सहायता समूह' ने कर्जदारों को ऋणाधार की कमी की समस्या से उबरने में मदद ही नहीं की है, अपितु सामाजिक विषयों के लिए आम मंच भी प्रदान किया है' – कथन की सार्थकता सिद्ध करते हुए तीन तर्क दीजिए।

4 अंकों वाले प्रश्न

26. किसी व्यक्ति के विकास में ऋण सकारात्मक व नकारात्मक दोनों भूमिका निभाते हैं; उदाहरण देते हुए समझाइए।

अध्याय - 4

वैश्वीकरण और भारतीय अर्थव्यवस्था

1 अंक वाले प्रश्न

1. लम्बे समय से विभिन्न देशों को आपस में जोड़ने का प्रमुख माध्यम क्या रहा है?
2. वैश्वीकरण किसे कहते हैं?
3. वैश्वीकरण की प्रक्रिया को उत्प्रेरित करने वाला प्रमुख कारक क्या है?
4. उदारीकरण का क्या अर्थ है?
5. 2006 के आंकड़ों के अनुसार विव व्यापार संगठन में कितने सदस्य हैं?
6. बहुराष्ट्रीय कंपनियों ने किन वस्तुओं व सेवाओं के निवेश में रूचि दिखाई है, किन्हीं दो के नाम लिखिए।
7. दो ऐसी भारतीय कंपनियों के नाम बताइए, जिन्हें वैश्वीकरण ने बड़ी बहुराष्ट्रीय कंपनियों के रूप में स्थापित किया है।
8. व्यापार अवरोधक का एक उदाहरण दीजिए।
9. विदेशी निवेश किसे कहते हैं?

3 अंकों वाले प्रश्न

10. बहुराष्ट्रीय कंपनी किसे कहते हैं, इसकी कोई दो प्रमुख विशेषताएँ लिखिए।
11. निवेश से आप क्या समझते हैं? इसके दो उद्देश्य बताइए।
12. संयुक्त उत्पादन से बहुराष्ट्रीय कंपनियों को दोहरा लाभ होता है, कैसे? स्पष्ट कीजिए।
13. विदेशी व्यापार विभिन्न देशों के बाजारों को जोड़ने में किस प्रकार सहायक है, तीन बिन्दुओं में स्पष्ट कीजिए।
14. विदेशी व्यापार और विदेशी निवेश में कोई दो अंतर स्पष्ट कीजिए।
15. आयात पर कर एक व्यापार अवरोधक है, इसे अवरोधक क्यों कहा गया है? कोई तीन तर्क दीजिए।
16. विव व्यापार संगठन का मुख्य उद्देश्य क्या है इसके दो प्रमुख कार्य बताइए।
17. 'उत्पादकों और श्रमिकों पर वैश्वीकरण का एक समान प्रभाव नहीं पड़ा है' कथन की सार्थकता तीन बिन्दुओं में सिद्ध कीजिए।

4 अंक वाले प्रश्न

18. बहुराष्ट्रीय कंपनियाँ उत्पादन इकाइयों को स्थापित करते समय किन-किन बातों का ध्यान रखती हैं, कोई चार कारक बताइए।

19. बहुराष्ट्रीय कंपनियां दूरस्थ स्थानों के उत्पादन पर किन तरीकों को अपनाकर अपना प्रभाव जमा रही हैं? कोई चार तरीके बताइए।
20. वैवीकरण की प्रक्रिया में सहायक चार कारक कौन-कौन से हैं?
21. भारतीय वस्त्र उद्योग ने श्रमिकों, निर्यातकों और बहुराष्ट्रीय कंपनियों को प्रतिस्पर्धा में किस प्रकार प्रभावित किया है? चार बिन्दुओं में लिखिए।

हॉट्स प्रश्न

3 अंकों वाले प्रश्न

22. बहुराष्ट्रीय कंपनियों ने स्थानीय कंपनियों को खरीदकर अपने निवेश को बढ़ावा दिया है, कैसे? स्पष्ट कीजिए।
23. भारतीय अर्थव्यवस्था पर वैवीकरण का प्रभाव एक समान दिखाई नहीं पड़ता, क्यों? तीन बिन्दुओं में लिखिए।

4 अंकों वाले प्रश्न

24. भारत में वैवीकरण को न्यायसंगत बनाने के लिए सरकार द्वारा किए गए किन्हीं चार प्रयासों को लिखिए।

अध्याय - 5

उपभोक्ता अधिकार

1 अंक वाले प्रश्न

1. उपभोक्ता आंदोलन का प्रारम्भ क्यों हुआ?
2. व्यवस्थित रूप में उपभोक्ता आंदोलन का उदय कब हुआ?
3. सूचना पाने का अधिकार, (आरटीआई) क्या है?
4. उपभोक्ताओं को अनुचित सौदेबाजी और गौषण के विरुद्ध कौन सा अधिकार प्रदान किया गया है?
5. एक जागरूक उपभोक्ता बनने की दो र्ति लिखिए।
6. भारत में किस दिवस को राष्ट्रीय उपभोक्ता दिवस के रूप में मनाया जाता है?
7. उपभोक्ता आंदोलन में प्रारम्भिक ढाक में उपभोक्ताओं को जागरूक करने के लिए प्रयोग में लाए गए दो तरीकों का उल्लेख कीजिए।
8. भारत सरकार द्वारा 'सूचना पाने का अधिकार' कब लागू किया गया?
9. भारत में मानकीकरण का प्रमाणपत्र देने वाली दो संस्थाओं के नाम लिखिए।
10. बाजार में नियमों एवं विनियमों की आवश्यकता क्यों है?

3 अंकों वाले प्रश्न

11. बाजार में उपभोक्ताओं के गौषण के कोई तीन तरीके बताइए।

12. 1986 में उपभोक्ताओं के षण को रोकने के लिए भारत सरकार द्वारा क्या कदम उठाया गया, इसके अंतर्गत क्या व्यवस्था की गई है?
13. भारत में उपभोक्ताओं को प्रदान किए गए अधिकारों को सूचीबद्ध कीजिए व उनके विषय में संक्षेप में लिखिए।
14. किसी वस्तु के पैकेट पर क्या जानकारियाँ दी गई होती हैं एवं क्यों?
15. निम्नलिखित का पूर्ण रूप लिखिए।
(i) एम. आर. पी. (ii) आई. एस. आई. (iii) आर. टी. आई

4 अंकों वाले प्रश्न

16. उपभोक्ताओं के किन्हीं चार कर्तव्यों के विषय में लिखिए।
17. उपभोक्ता संरक्षण परिषद की कार्यविधि को चार बिन्दुओं में स्पष्ट कीजिए।
18. कोपरा के अंतर्गत त्रि-स्तर पर किस प्रकार विवादों को निपटाया जाता है? स्पष्ट कीजिए।

हॉट्स प्रश्न

19. भारत में उपभोक्ता आंदोलन के संगठित होने के बावजूद उपभोक्ता षण निवारण प्रक्रिया जटिल, खर्चीली और समय साध्य साबित क्यों हो रही है? (3 अंक)

संक्षिप्त उत्तर (एक अंक वाले प्रश्नों के)

भारत और समकालीन विश्व (इतिहास)

अध्याय- 1 यूरोप में राष्ट्रवाद का उदय

1. एक ऐसे समाज की कल्पना जो इतना आर्दा है कि उसका साकार होना लगभग असंभव होता है।
2. एक साझा पहचान का भाव और साझा इतिहास या विरासत।
3. ऐसी ासन व्यवस्था जिसमें सत्ता पर कोई अंकु नहीं होता।
4. श्रमिक वर्ग के लोग, और मध्य वर्ग के लोग जिसमें उद्योगपति, व्यापारी और सेवा क्षेत्र के लोग ामिल थे।
5. व्यक्ति के लिए आजादी व कानून के समक्ष बराबरी।
6. बाजारों की मुक्ति और चीजों तथा पूँजी के आवागमन पर राज्य द्वारा लगाए गए नियंत्रण को खत्म करना।
7. अंग्रेजी, वेल, स्कॉट और आयरिश।
8. ऑटोमन साम्राज्य।

अध्याय - 2 इंडोचाइना में राष्ट्रवादी आन्दोलन

1 अंक वाले प्रश्न

1. वियतनाम, लाओस, इत्यादि
2. चीनी ासन व्यवस्था को अपनाना, चीन संस्कृति को भी अपनाना
- 3.(i) राष्ट्र का रूप स्वरूप औपनिवेशिक वर्चस्व के खिलाफ चले संघर्षों से ही तय हुआ।
(ii) राष्ट्रवादी औपनिवेशिक परिस्थितियों का विकास
4. खमैर, कंबोडियाई
5. चीन
6. वियतनाम में रहने वाले फ्रांसीसी नागरिक
7. 1858, 1887
8. अग्निवामों के लिए गैसलिन की फुलाने में इस्तेमाल होने वाला एक आर्गनिक कम्पाऊंड
9. 1919 मो. अली, नैकत अली
10. भिन्नताओं की बजाय समानताओं पर ध्यान, आचारों को एक दूसरे के साथ लाने का प्रयास
11. यंग अन्नान

संक्षिप्त उत्तर

अध्याय - 3 भारत में राष्ट्रवाद

1. एक पद्धति जिसमें सत्य की त्क्ति पर आग्रह और सत्य की खोज पर जोर दिया जाता था।
2. 1916 में बिहार के चंपारण तथा 1917 में गुजरात के खेड़ा जिलें में।
3. महात्मा गाँधी।
4. दिसम्बर 1920 में कांग्रेस के नागपुर अधिवेशन में।
5. जनवरी 1915 में।
6. 13 अप्रैल 1919 को अमतसर में।
7. फरवरी 1922 में चौरा-चौरी की घटना से।
8. सी.आर.दास और मोतीलाल नेहरू।
9. 1970 के दक में, बकिंम चन्द्र चट्टोपाध्याय।
10. 1930, डॉ. भीमराव अम्बेडकर ने।
11. बंकिमचन्द्र चट्टोपाध्याय।

12. बागानों में काम करने वाले मजदूरों को बिना इजाजत बागान से बाहर जाने नहीं दिया जाता था।

संक्षिप्त उत्तर

भारत और समकालीन विश्व (इतिहास)

अध्याय - 4 भूमंडलीकृत विश्व का बनना

1. आलू, मूँगफली, मक्का, टमाटर, मिर्च, आकरकंद। (कोई 2)
2. एल डोराडो
3. 1880 के दशक में अफ्रीका के मवेशियों में प्लेग की तरह फैलने वाली बीमारी, जो ब्रिटिश आधिपत्य वाले एशियाई देशों से आए जानवरों के द्वारा पहुँची।
4. हेनरी फोर्ड, टी-मॉडल।
5. आर्थिक महामंदी की शुरुआत 1929 में हुई।
6. धुरी राष्ट्र - नात्सी जर्मनी, जापान और इटली (कोई दो)
7. निषेधाधिकार- इस अधिकार के सहारे एक ही सदस्य की असहमति किसी भी प्रस्ताव को खारिज करने का आधार बन जाती है।
8. औद्योगिक विप्लव में आर्थिक स्थिरता एवं पूर्ण रोजगार बनाए रखना।
9. मित्र राष्ट्र-ब्रिटेन, सोवियत संघ, फ्रांस और अमेरिका।
10. 1950-60 के दशक में विकासील देशों का संगठन, जिसने एक नई अंतर्राष्ट्रीय आर्थिक प्रणाली के लिए आवाज उठाई।
11. विनिमय दर के जरिये अंतर्राष्ट्रीय व्यापार की सुविधा के लिए विभिन्न देशों की राष्ट्रीय मुद्राओं को एक-दूसरे से जोड़ा जाता है।
12. आई. एम. एफ. और विव बैंक
13. किसी देश द्वारा आयातित वस्तुओं एवं निर्यातित वस्तुओं के लिए यात्रा निर्धारित करना।
14. पूर्वी यूरोप, रूस, अमेरिका, आस्ट्रेलिया।
15. स्वदेश में कुटीर उद्योगों का खत्म होना, जमीन का भाड़ा बढ़ जाना, खानों और बागानों के लिये जमीनों को साफ करना तथा काम की तलाश में।

संक्षिप्त उत्तर - अध्याय - 5-औद्योगीकरण का युग

1. अलादीन - पूरब और अतीत का प्रतीक
मैकैनिक - पश्चिम और आधुनिकता का।

2. सौदागरों के लिए
3. लन्दन में कपड़ों की फिनींग होती थी।
4. जेम्स वॉट
5. यूरोप में फैक्ट्रियों की स्थापना से भी पहले अंतर्राष्ट्रीय बाजार के लिए बड़े पैमाने पर औद्योगिक उत्पादन होता था।
6. तहरों में उत्पादकों के संगठन
7. स्टेप्लर्स-ऐसा व्यक्ति जो दों के हिसाब से ऊन को 'स्टेपल' करता या छांटता है।
फुलर्ज - जो चुन्नटों के सहारे कपड़े को समेटता है।
8. सरकार का उद्योग एवं व्यापार में हस्तक्षेप न करना।
9. 1855 में बंगाल में।
10. यह पुलियों तथा रस्सियों के द्वारा चलने वाला एक यांत्रिक उपकरण है, जिसका उपयोग बुनाई के लिए किया जाता है।
11. फैक्ट्रियों में होने वाला उत्पादन।
12. महँगी तकनीक
मरम्मत काफी खर्चीली थी।
13. सूती उद्योग, कपास उद्योग
14. बेरोजगारी की आंका के कारण।
15. 1854 में
16. डिनाँ पेटिट, जमोदजी नुसरवान जी टाटा, हुकुमचन्द्र,
17. सूरत, मछलीपटनम, हुगली।
18. विज्ञापन द्वारा।
19. विज्ञापन
20. गाँवों एवं औद्योगिक इलाकों के आसपास के जिलों से।

संक्षिप्त उत्तर

अध्याय - 6

काम, आराम और जीवन

1. 7 टापुओं से
2. कलकत्ता
3. कामचलाऊं और अक्सर बेहिसाब भीड़ वाले अपार्टमेंट, बड़े इहरों में गरीब इलाको कें मकान।
4. बम्बई
5. 1863 -इंग्लैंड में
6. 1854 ई. में
7. बम्बई, मद्रास, बंगाल
8. राजा हरिचन्द्र, दादा साहिब फाल्के
9. इंग्लैण्ड और अमेरिका
10. फिल्म उद्योग में काम करने वाले ज्यादातर लोग लाहौर, कलकत्ता, मद्रास आदि दूसरे इहरों से आए होने के कारण फिल्म उद्योग को राष्ट्रीय स्वरूप मिला।

अध्याय 7 मुद्रण-संस्कृति एवं आधुनिक दुनियाँ

1 अंक वाले प्रश्नों के उत्तर

1. सुलेखन
2. चीन, जापान
3. चर्मपग या जानवरों की खाल से बनी लेखन की सतह।
4. डायमंड सूत्र
5. योहान गुटेन्बर्ग, बाईबल
6. चैपमेन
7. मार्टिन लूथर
8. (1) ज्योतिबा फूले (2) डा. भीमराव अम्बेडकर
9. संवाद कौमुदी, 1821 ई.में
10. हाथ में ताम्रपत्र, एवं पत्थरों पर लिखे गये लेख।

11. ये वे पुस्तकें जो सस्ती थी और जो 1920 के दक में छापी गई।
12. केसरी।
13. वर्नाक्युलर प्रेस एक्ट
14. जेम्स आगस्टन हिक्की, 1780.
15. विधर्मियों की निराख्त करने और सजा देने वाली रोमन कैथोलिक संस्था।

अध्याय - 8 उपन्यास, समाज और इतिहास

1 अंक वाले प्रश्न

1. पत्रों की श्रंखला के रूप में लिखा हुआ।
2. चार्ल्स डिकेन्स
3. जेन आस्टिन, पारलाट ब्रान्ड
4. जर्मिनल
5. हार्ड टाइम्स, ओलिवर ट्विस्ट
6. जेन आस्टिन
7. इंग्लैण्ड व फ्रांस
8. जोसफ कान रेड
9. प्रेमचन्द्र, गोदान,
10. बंगला
11. चन्दू मेनन
12. भारतेन्दु हरिन्द्र
13. श्री निवास दास, परीक्षागुरू
14. बालविवाह, दहेज प्रथा
15. पिकविक पेपर्स, चार्ल्स डिकेन्स
16. मलयालम, चन्दू मेनन

अध्याय - 1

संसाधन एवं विकास (भूगोल)

1 अंक वाले प्रश्नों के उत्तर

1. पर्यावरण में उपलब्ध वस्तु जो आवयकता पूर्ति करती है और जिसको बनाने के प्रौद्योगिकी उपलब्ध है, आर्थिक रूप से संभाव्य और सांस्कृतिक रूप से मान्य है।
2. उत्पत्ति का आधार, समाप्यता का आधार, स्वामित्व का आधार विकास के स्तर का आधार (कोई दो)
3. जैव संसाधन : मनुष्य, प्राणिजात, वनस्पतिजात, इन संसाधनों की प्राप्ति जीवमंडल से होती है।
अजैव संसाधन : चट्टान, धातु, ऐसे सारे संसाधन जो निर्जीव वस्तुओं से मिलते हैं।
4. पर्यावरण में उपलब्ध वे पदार्थ जो मानव की आवयकताओं की पूर्ति कर सकते हैं परन्तु उपयुक्त प्रौद्योगिकी के अभाव में उसकी पहुँच से बाहर है।
5. जिन्हें उपलब्ध तकनीकी ज्ञान की सहायता से प्रयोग में लाया जा सकता है, परन्तु इनका उपयोग अभी आरम्भ नहीं हुआ है।
6. भूमंडलीय तापन, ओजोन परत अवक्षय, भूमि निम्नीकरण, पर्यावरण प्रदूषण।
7. संसाधनों के विवेकपूर्ण उपयोग; सर्वमान्य रणनीति नियोजन जो संसाधनों के न्यायसंगत प्रयोग पर बल दे।
8. संसाधनों के असमान्य वितरण के कारण; संसाधनों की उपलब्धता में बहुत अधिक विविधता है।
9. संसाधनों की उपलब्धता, संसाधनों को प्रयोग करने की तकनीक।
10. इसी (भूमि) पर अनेकों आर्थिक क्रियाकलाप जैसे कृषि, खनन इत्यादि होते हैं। वन्य जीवन, मानव जीवन, प्राकृतिक वनस्पति, परिवहन इत्यादि भूमि पर ही आधारित हैं।
11. 27 प्रतिता।
12. इसमें खनिजों, जीवाम ईंधन और वनों का अपार संचय कोष है।
13. कृषि और उद्योग के विकास के लिए सुविधाजनक हैं।
14. अति सिंचन से उत्पन्न जलाक्रांतता भूमि निम्नीकरण के लिए उत्तरदायी है जिससे मृदा में लवणीयता और क्षारीयता बढ़ जाती है।
15. चूना पत्थर पीसने से वायुमंडल में धूल विसर्जित होती है जब इसकी परत भूमि पर जम जाती है तो मृदा की जल सोखने की प्रक्रिया अवरूद्ध हो जाती है।
16. वनारोपण, चरागाहों का उचित प्रबंधन।

17. बंजर भूमि के उचित प्रबंधन, खनन नियंत्रण, औद्योगिक जल को परिष्करण के पचात विसर्जित करके।
18. वनस्पति, मत्त जीव जन्तु
19. जलेहृम्न।
20. जलयोजन के कारण
21. क्योकि अत्यधिक तापमान के कारण जैविक पदार्थो को अपघटित करने वाले बैक्टीरिया नष्ट हो जाते हैं।
22. बहता जल मत्तिकायुक्त मदाओं को काटते हुए गहरी वाहिकाएँ बनाता है, जिन्हें अवनलिकाएँ कहते हैं।
23. बहता जल मत्तिकायुक्त मदाओं को काटते हुए अवनलिकाओं का निर्माण करता है, ऐसी भूमि जोतने योग्य नहीं रहती और इसे उतखात भूमि कहते हैं। चंबल बेसिन में ऐसी भूमि को खड्ड भूमि कहा जाता है।
24. ऊपरी मदा घुलकर जल के साथ बह जाती है
25. समोच्च जुताई पट्टी कषि।
26. जलेहृम्न।

अध्याय - 2

वन एवं वन्य जीवन संसाधन

1 अंक वाले प्रश्नों के उत्तर

1. वे जातियाँ जिनकी संख्या घट रही है यदि इनका संरक्षण नहीं किया गया तो ये संकट ग्रस्त जाति में शामिल हो जायेगी जैसे - नीली भेड़, डाल्फिन।
2. लुप्त जातियाँ।
3. भौगोलिक सीमाओं से अलग विशेष क्षेत्रों में पायी जाने वाली जातियाँ। अंडमानी टील, निकोवारी कबूतर।
4. 1972 में।
5. पचिम बंगाल में। डोलोमाइट खनन के कारण।
6. मध्य प्रदे में।
7. राजस्थान के अलवर जिले में।
8. सूखा एवं बाढ़ की समस्या में वद्धि।
9. उन्हें खाना, चारा, जल एवं अन्य आवयक वस्तुओं को इकट्ठा करने के लिये दूर-दूर जक जाना पड़ता है।
10. संयुक्त वन प्रबन्धन, बीज बचाओ आन्दोलन।

अध्याय - 3

जल संसाधन

1 अंक वाले प्रश्न

1. सतही अपवाह, भौमजल स्रोत
2. अतिसिंचन, जल का असमान वितरण
3. अधिक जनसंख्या के कारण जल की मांग बढ़ती है। जल अधिक घरेलू उपयोग के लिए नहीं, अपितु अधिक अनाज उत्पादन के लिए चाहिए। जल के अतिसिंचन से सिंचित क्षेत्र बढ़ा है, शुष्क ऋतु में भी कृषि संभव हो गई है।
4. 4 प्रति
5. (i) भौम जल स्तर में गिरावट, (ii) जल की उपलब्धता में कमी यानि भोजन सुरक्षा को खतरा।
6. 22 प्रति
7. 1,897 वर्ग किमी प्रतिवर्ष
8. क्योंकि एकत्रित जल के अनेकों उपयोग समन्वित हैं।
9. 'नर्मदा बचाओ आंदोलन' टिहरी बांध आंदोलन
10. वहद स्तर पर स्थानीय लोगों का विस्थापन
11. तलछट जो कि प्राकृतिक उर्वरक है, बाढ़ के मैदानों तक नहीं पहुँचती।
12. वर्षा जल संग्रहण
13. राजस्थान, इन्दिरा गाँधी नहर से जल प्राप्त हो जाने के कारण
14. पानी संग्रहित करने के लिए भूमिगत टैंक।
15. वर्षा जल एकत्रित करने के लिए बनाए गए गड्ढे, जैसलमेर में इन्हें खादीन कहा जाता है।

अध्याय-4

कृषि

1 अंक वाले प्रश्नों के उत्तर

1. खाद्यान्नों की पूर्ति, उद्योगों के लिए कच्चे माल का उत्पादन।
2. भूमि के छोटे टुकड़ों पर आदिम कृषि औजारों (लकड़ी का हल, डाओ आदि) के द्वारा समुदाय श्रम की मदद की जाती है।

3. मानसून, मृदा की प्रकृतिक उर्वरता।
4. पामूल, दीपा।
5. श्रम गहन खेती, भूमि पर जनसंख्या का दबाव।
6. रबी, खरीफ, जायद।
7. हरित क्रांति के अतिरिक्त गीत ऋतु में गीतोष्ण पश्चिमी विक्षोभों से होने वाली वर्षा।
8. चावल, मक्का, ज्वार, बाजरा, कपास, जूट। कोई दो।
9. रबी और खरीफ फसल ऋतुओं के बीच ग्रीष्म ऋतु में बोई जाने वाली फसल को जायद कहा जाता है।
10. नहरों के जाल और नलकूपों की सघनता के कारण।
11. गेहूँ।
12. ज्वार, बाजरा, रागी।
13. ज्वार।
14. महाराष्ट्र।
15. क्यों कि ये वायु से नाइट्रोजन लेकर भूमि की उर्वरता को बनाये रखती है।
16. मक्का।
17. अंध प्रवे।
18. तिल।
19. अरेबिका।
20. रोम उत्पादन के लिए रोम के कीड़ों का पालन, जो मलबरी पेड़ की हरी पत्तियों पर पलता है, रोम उत्पादन कहलाता है।

अध्याय -5

खनिज एवं ऊर्जा संसाधन

1अंक वाले प्रश्नों के उत्तर

1. खनिज एक प्राकृतिक रूप से विद्यमान समरूप तत्व है, जिसकी एक निश्चित आंतरिक संरचना है
2. लौह का निर्माण व संरचना, आर्थिक विकास, तकनीकी प्रगति।
3. पहाड़ियों के आधार तथा घाटी तल की रेत में जलोढ़ जमाव के रूप में कुछ खनिज पाए जाते हैं।
4. मैंगनीज ग्रंथिकाओं ; (NODULES)
5. नमक, मैंगनीयम, ब्रोमाइन

6. मैग्नेटाइट
7. हेमेटाइट
8. पेंट बनाने में, कीटनाक में प्रयोग, ब्लीचिंग पाऊडर।
9. उड़ीसा
10. राजस्थान
11. दढ़ सुरक्षा विनियम और पर्यावरणीय कानूनों का क्रियान्वयन।
12. प्रवाही जल से जो हाइड्रो-टरबाइन चलाकर जलविद्युत उत्पन्न करता है और कोयला व प्राकृतिक गैस को जलॉकर टरबाइन चला कर।
13. झारखंड, राजस्थान, केरल
14. ऊर्जा संरक्षण की प्रोन्नति और नवीकरणीय ऊर्जा संसाधनों का बढ़ता प्रयोग।
15. हिमाचल प्रदेश में मणिकरण के निकट पार्वती घाटी और लद्दाख में पूगा घाटी में स्थित।
16. बिटूमिनस

अध्याय - 6

विनिर्माण उद्योग

1 अंक वाले प्रश्नों के उत्तर

1. कच्चे पदार्थ को मूल्यवान उत्पाद में परिवर्तित कर अधिक मात्रा में वस्तुओं के उत्पादन को विनिर्माण कहते हैं।
2. राष्ट्रीय विनिर्माण प्रतिस्पर्धा परिषद।
3. नगर केंद्रों द्वारा दी गई सुविधाओं से लाभावित, जब उद्योग नगर के पास केंद्रित हो
4. बेंगलोर
5. पटसन, रेम, सूती वस्त्र।
6. वे उद्योग जो खनिज व धातुओं को कच्चे माल के रूप में प्रयोग करते हैं, उदाहरण लोहा-इस्पात उद्योग।
7. क्योंकि इसमें प्रयुक्त कच्चा तथा तैयार माल दोनों ही भारी और स्थूल होते हैं।
8. स्टील अथॉरिटी ऑफ इंडिया लिमिटेड
9. निजीक्षेत्र में उद्यमियों के प्रयत्न से, उदारीकरण, प्रत्यक्ष विदेशी निवेश, अनुसंधान और विकास के संसाधनों को नियत करके। (कोई दो)
10. ऊर्जा की पूर्ति और कम कीमत पर कच्चे माल की उपलब्धता।
11. जब कारखानों और तापघरों से गर्म जल को बिना ठंडा किए ही नदियों और तालाबों में छोड़ दिया जाता है।

अध्याय - 7

राष्ट्रीय अर्थव्यवस्था की जीवन रेखायें

1 अंक वाले प्रश्नों के उत्तर

1. प्रधान मंत्री ग्रामीण सड़क परियोजना।
2. राष्ट्रीय राजमार्ग-7
3. प्रति सौ वर्ग कि.मी. क्षेत्र में सड़को की लम्बाई को सड़क घनत्व कहा जाता है।
4. दिल्ली - अमृतसर
5. जम्मू-कमीर 10कि.मी., केरल 375 कि.मी.
6. काण्डला (गुजरात)
7. काण्डला (गुजरात)
8. 1953
9. चैन्नई (तमिल नाडु)
10. 1. राष्ट्रीय एवं नीतियों के प्रति जागरूक करता है 2. मनोरंजन करता है।
11. उत्तरी पूर्वी भारत, हिमालय के अन्दरूनी भाग।
12. इलाहाबाद हल्दियां, केरल में पचिमी तटीय नहर
13. कोच्चि (केरल)
14. कोलकाता

भाग 3

लोकतान्त्रिक राजनीति

अध्याय-1

सत्ता की साझेदारी

1 अंक वाले प्रश्नों के उत्तर

1. ऐसी व्यवस्था जिसके अंतर्गत किसी दे की सत्ता को विभिन्न स्तरों पर बाँटा जाता है।

2. डच एवं फ्रेंच।
3. सिंहली एवं तमिल।
4. नीदरलैंड, यूक्रेन और जर्मनी। (कोई दो)
5. बौद्ध धर्म को।
6. वह मान्यता जिसमें बहुसंख्यक समुदाय अपने मनचाहे ढंग से ासन कर सकता है और अल्पसंख्यक समुदाय की अवहेलना कर सकता है।
7. किसी दो की सरकार विरोधी हिंसक लड़ाई, जो युद्ध सा रूप धारण कर ले।
8. सरकार के तीनों अंगों (विधायिका कार्यपालिका एवं न्यायपालिका) के बीच सत्ता का बँटवारा।
9. ऐसी सरकार जिसका चुनाव एक ही भाषा बोलने वाले लोगों के द्वारा किया जाता है।
10. हानि-लाभ का हिसाब लगाकर नैतिकता के आधार पर लिया गया फैसला।

अध्याय-2

संघवाद

1 अंक वाले प्रश्नों के उत्तर

1. सरकार का वह स्वरूप जिसके अन्तर्गत कितियाँ केन्द्रीय सरकार एवं उसको बनाने वाली इकाइयों में बाँटी जाती हैं।
2. भारत, कनाडा, अमेरिका, आस्ट्रेलिया आदि।
3. ासन का वह स्वरूप जिसमें सारी कितियाँ एक ही केन्द्रीय सत्ता में निहित होती हैं।
4. श्रीलंका, फ्रांस आदि।
5. संघ सूची, राज्य सूची एवं समवर्ती सूची।
6. प्रतिरक्षा, विदेी मामले, बैकिंग, संचार (कोई दो)
7. जिन विषयों पर कानून बनाने का अधिकार केन्द्रीय सरकार एवं राज्य सरकार, दोनों को हैं।
8. भाषा।
9. वे छोटे क्षेत्र/प्रांत जो अपने आकार के चलते स्वतंत्र प्रांत नहीं बन सकते और न ही किसी मौजूदा प्रांत में विलय करना संभव है।
10. 22 भाषाएँ।
11. जब चुनाव में किसी एक पार्टी को स्पष्ट बहुमत प्राप्त नहीं होता एवं छोटी-बड़ी कई पार्टियाँ मिलकर सरकार बनाती हैं।
12. सत्ता को विभिन्न स्तरों की सरकारों के बीच बांटना।

13. जम्मू-कमीर के स्थायी निवासी के अतिरिक्त कोई भी भारतीय नागरिक वहाँ जमीन या मकान नहीं खरीद सकता तथा वहाँ की विधान सभा की सहमति के बगैर कोई बदलाव नहीं किया जा सकता।
14. मेयर।
15. जिस भाषा में सरकारी अथवा कार्यालयी कामकाज होते हैं।

अध्याय - 3

लोकतन्त्र एवं विविधता

1 अंक वाले प्रश्नों के उत्तर

1. टॉमी स्मिथ और जॉन कार्लोस।
2. जन्म, धर्म पे संस्कृति इत्यादि।
3. एक ऐसा समाज जहाँ रहने वाले अधिकतर लोग एक ही नस्ल और संस्कृति के होते हैं।
4. प्रोटेस्टेंट और कैथोलिक।
5. एफ्रो-अमरीकी अथवा अवेत।
6. अमरीका में एफ्रो-अमरीकी लोगों के प्रति होने वाले नस्लीय भेदभाव के विरुद्ध चलाया गया आंदोलन।
7. यूगोस्लाविया।
8. जब कुछ सामाजिक अंतर दूसरी विभिन्नताओं से ऊपर और बड़े हो जाते हैं।

अध्याय -4

जाति, धर्म एवं लैंगिक मसले

1 अंक वाले प्रश्नों के उत्तर

1. वह मान्यता जिसके अनुसार किसी खास कार्य को किसी लिंग विशेष के लिए निर्धारित कर दिया जाता है।
2. पारिवारिक व सामाजिक जीवन में स्त्री-पुरुष के लिए समान अधिकारों और अवसरों की माँग।
3. ऐसा समाज जहाँ सभी महत्वपूर्ण फैसले पुरुषों के द्वारा लिए जाते हैं।

4. 927 स्त्रियाँ प्रति हजार पुरुषों पर
5. पंजाब, हरियाणा, हिमाचल प्रदेश, गुजरात।
6. 54 प्रतिशत
7. एक-तिहाई।
8. भारत को एक धर्म निरपेक्ष राज्य घोषित करना।
9. अपने धर्म को श्रेष्ठ बताना एवं अन्य धर्मों को निम्नतर समझना।
10. सभी धर्मों को समान समझना तथा धार्मिक मामलों में तटस्थ रहना।
11. विवाह, तलाक एवं उत्तराधिकार से सम्बन्धित कानून।
12. ज्योतिबा फुले, महात्मा गाँधी, डॉ. अम्बेडकर, पी. आर. नायकर।
13. केन्द्रीय सरकार।

अध्याय -5

जन संघर्ष एवं आंदोलन

1 अंक वाले प्रश्नों का उत्तर

1. 1990 में।
2. राजा।
3. लोकतंत्र की स्थापना के लिए।
4. चीनी नेता माउत्से तुंग की विचारधारा को मानने वाले।
5. सेवेन पार्टी अलायंस।
6. वीरेंद्र विक्रम शाह।
7. गिरिजा प्रसाद कोइराला।
8. पानी के निजीकरण को लेकर।
9. मर्ल लॉ।
10. जनहित के लिए लोगों का एकजुट होकर आंदोलन चलाना।
11. फेडकोर।
12. बैकवर्ड एंड माइनॉरिटी कम्युनिटी एम्प्लॉइज फेडरेशन।
13. ऐसा संगठन जो सरकार की नीतियों को प्रभावित करने के लिए उस पर दबाव डालते हैं।

अध्याय -6

राजनीतिक दल

1 अंक वाले प्रश्नों का उत्तर

1. लोगों का ऐसा संगठित समूह जो चुनाव लड़ने और राजनीतिक सत्ता प्राप्त करने के उद्देश्य से काम करते हैं।
2. चुनाव आयोग।
3. जो दल सत्ता में होता है।
4. भारतीय राष्ट्रीय कांग्रेस, भारतीय जनता पार्टी, भारतीय कम्युनिस्ट पार्टी, बहुजन समाज पार्टी।
5. ऐसी व्यवस्था, जिसमें अनेक राजनैतिक दलों का अस्तित्व होता है।
6. जब किसी एक दल को स्पष्ट बहुमत प्राप्त नहीं होता है और छोटे-बड़े कई दल मिल कर सरकार बनाते हैं।
7. जब कोई दल लोकसभा चुनाव में पड़े कुल वोट का अथवा चार राज्यों के विधान सभा चुनाव में पड़े कुल वोटों का 6 प्रतिशत हासिल करता है तथा लोकसभा के चुनाव में कम से कम चार सीटें हासिल करता है।
8. ब्रिटेन, अमेरिका, जर्मनी।
9. जिसका प्रभाव एक सीमित क्षेत्र में रहता है।
10. डी. एम. के. (तमिलनाडु) तथा बीजू जनता दल (उड़ीसा)

अध्याय -7

लोकतन्त्र के परिणाम

1 अंक वाले प्रश्नों के उत्तर

1. लोकतंत्र।
2. लोकतंत्र, तानाशाही, राजतंत्र।
3. सैनिकासन।
4. जनमत को कोई महत्व न देना, बंदूक की नोक पर शासन करना, संविधान का न होना। कोई दो
5. निश्चित समयावधि पर स्वतंत्र एवं निष्पक्ष चुनाव।
6. जिसमें सभी लोगों को वोट डालने एवं चुनाव लड़ने का अधिकार होता है।
7. वह प्रक्रिया जिसमें लोकतंत्र के निर्णय विधि द्वारा स्थापित नियमों के अनुसार लिए जाते हैं।
8. जनसंख्या का आकार, विविध व्यापी स्थिति, दूसरे देशों से सहयोग आदि।

अध्याय 8

लोकतन्त्र की चुनौतियाँ

1 अंक वाले प्रश्नों के उत्तर

1. वैसी मुकिलें जो महत्वपूर्ण हैं तथा जिन्हें दूर करने की संभावना रहती हैं।
2. विस्तार की चुनौती, लोकतंत्र को मजबूत करने की चुनौती।
3. म्यांमार।
4. नेल्सन मण्डेला।
5. घाना।
6. सउदी अरब।
7. जनरल पिनो (चिली)
8. सर्व एवं मुस्लिम।
9. चीन।

अध्याय 1

विकास

1. क्योंकि लोगों के जीवन की परिस्थितियां भिन्न-भिन्न होती हैं।
2. किसी एक वर्ष में पैदा हुए 1000 जीवित बच्चों में से एक वर्ष की आयु से पहले मर जाने वाले बच्चों का अनुपात।
3. 7 वर्ष और उससे अधिक आयु के लोगों में साक्षर जनसंख्या का अनुपात।
4. आय विधि।
5. देश की कुल आय को कुल जनसंख्या से विभाजित करने के बाद प्राप्त होने वाली आय।
6. प्रति व्यक्ति आय को
7. समृद्ध देश की प्रतिव्यक्ति आय - 4,53,000 रु. प्रतिवर्ष, निम्न आय देश की प्रतिव्यक्ति आय - 37,000 रु. प्रति वर्ष।

अध्याय 2

भारतीय अर्थव्यवस्था के क्षेत्रक

1. प्राकृतिक संसाधनों का उपयोग करके किसी वस्तु का उत्पादन करना।
2. शिक्षा व स्वास्थ्य।
3. तीनों क्षेत्रकों के उत्पादनों के योगफल को देश का सकल घरेलू उत्पाद (G.D.P.) कहते हैं।
4. जहाँ लोग प्रत्यक्ष रूप से काम कर रहे हैं, पर अपनी क्षमता से कम।
5. स्वास्थ्य, शिक्षा।
6. रेलवे, डाक व तार विभाग, दूर संचार विभाग, सरकारी कार्यालय। (कोई दो)
7. टिस्को-टाटा आयरन व स्टील कम्पनी लिमिटेड, रिलायंस इण्डस्ट्रीज़ लिमिटेड।

अध्याय 3

मुद्रा और साख

1. जब दोनों पक्ष एक दूसरे से चीजें खरीदने और बेचने पर सहमति रखते हैं।
2. आवश्यकताओं का दोहरा संयोग होना।
3. मध्यवर्ती भूमिका प्रदान करने के कारण।
4. भारतीय अनाज, प्या, सोना, चांदी, तांबा। कोई दो।
5. करेंसी-कागज के नोट व सिक्के
6. क्योंकि किसी देश की सरकार इसे प्राधिकृत करती है।
7. रिज़र्व बैंक ऑफ इंडिया।
8. बैंक खातों में जमा धन को।
9. कर्जदारों से लिए गए ब्याज और जमाकर्ताओं को दिये गये ब्याज के बीच का अंतर।
10. एक सहमति जहाँ साहूकार कर्जदार को धन, वस्तुएं या सेवाएं उपलब्ध कराता है और बदले में भविष्य में कर्जदार से भुगतान करने का वादा लेता है।
11. ऐसी संपत्ति जिसका मालिक कर्जदार है और इसका इस्तेमाल वह उधारदाता को गारंटी देने के रूप में करता है।
12. अतिरिक्त मुद्रा को ऋण के रूप में प्रदान करके।

अध्याय 4

वैश्वीकरण और भारतीय अर्थव्यवस्था

1. व्यापार
2. विभिन्न देशों के बीच परस्पर संबंध और तीव्र एकीकरण की प्रक्रिया।
3. प्रौद्योगिकी में तीव्र उन्नति।
4. सरकार द्वारा अवरोधों अथवा प्रतिबंधों को हटाने की प्रक्रिया।
5. लगभग 150 देश।
6. सेलफोन, मोटर गाड़ी, इलैक्ट्रॉनिक उत्पाद, ठंडे पेय पदार्थ। (कोई दो)
7. टाटा मोटर्स, इंफोसिस, रैनबैक्सी, एयिन पेंट्स, सुदरम् फास्नर्स। (कोई दो)
8. आयात पर कर।
9. बहुराष्ट्रीय कंपनियों द्वारा किए गए निवेशों को विदेशी निवेश कहते हैं।

अध्याय 5

उपभोक्ता अधिकार

1. उपभोक्ता के शोषण के कारण।
2. 1960 के दशक में।
3. सरकारी विभागों के कार्य-कलाप की सभी सूचनाएँ पाने का अधिकार।
4. क्षतिपूर्ति निवारण का अधिकार।
5. उपभोक्ता अधिकारों का ज्ञान, रसीद लेना मानक चिन्हों का ध्यान रखना। (कोई दो)
6. 24 दिसम्बर।
7. उपभोक्ता अधिकार से सम्बंधित आलेखों का लेखन, प्रदर्शनी का आयोजन।
8. अक्टूबर 2005।
9. आई. एस. आई, एगमार्क।
9. उपभोक्ताओं की सुरक्षा के लिए।

नमूना प्रश्न पत्र-1 (उत्तर सहित)

सामाजिक विज्ञान

कक्षा दसवीं

निर्धारित समय : 3 घंटे

अधिकतम अंक : 80

सामान्य निर्देश

1. कुल 29 प्रश्न हैं सभी प्रश्न अनिवार्य हैं।
2. प्रत्येक प्रश्न के अंक प्रश्न के सामने दिए हैं।
3. प्रश्न संख्या 1 से 10 तक प्रश्न एक-एक अंक के हैं। प्रत्येक प्रश्न का उत्तर एक शब्द से एक वाक्य तक होना चाहिए।
4. प्रश्न संख्या 11-18 तक के प्रश्न तीन-तीन अंकों के हैं; प्रत्येक प्रश्न का उत्तर 80 शब्दों से अधिक नहीं होना चाहिए।
5. प्रश्न संख्या 19-28 तक के प्रश्न चार अंकों के हैं; प्रत्येक प्रश्न का उत्तर 100 शब्दों से अधिक का नहीं होना चाहिए।
6. प्रश्न संख्या 29 मानचित्र से सम्बन्धित है; दिए गए मानचित्र को अपनी उत्तर पुस्तिका के भीतर संलग्न करें।

1. ब्रिटेन के दो प्रारम्भिक औद्योगिक तहनों के नाम बताइए। 2×½=1
अथवा
कौन से दो कारण भूमंडलीकरण में मदद करते हैं ?
अथवा
दुनियां की पहली भूमिगत रेलगाड़ी कब तथा कहां चली ?
2. हिन्दी का पहला उपन्यास किसने लिखा, उपन्यास का नाम भी लिखिए। 1
अथवा
फतवा से क्या तात्पर्य है ?
3. संरक्षित वन क्षेत्र को स्पष्ट कीजिए। 1
4. आयु के आधार पर जलोढ़ मिट्टी के दो प्रकार बताइए। ½ + ½ = 1
5. अवाणिज्यिक ऊर्जा के दो उदाहरण (स्रोत) बताइए। ¼ + ¼ = 1
6. पूँजी के आधार पर उद्योगों के दो प्रकार बताइए। 2×¼ = 1

7. नारीवादी किन्हें कहा जाता है ? 1
8. किन दो अफ्रो-अमेरिकी खिलाड़ियों ने नस्लवाद की नीति के विरुद्ध 1968 में ओलंपिक में विरोध प्रकट किया ? $2 \times \frac{1}{4} = 1$
9. मानव विकास सूचकांक के दो अवयव बताइए। $2 \times \frac{1}{4} = 1$
10. कोपरा (COPRA) कानून भारत में कब लागू किया गया। 1
11. गाँधी जी ने दलित वर्गों के लोगों को देश की मुख्य धारा में लाने के लिए क्या प्रयास किये ? तीन प्रयास सुझाइए। $1 \times 3 = 3$
12. तहरीरों में असहयोग आन्दोलन के कमजोर पड़ने के तीन कारण बताइए। $1 \times 3 = 3$
13. रिन्डरपेस्ट ने यूरोपीय उपनिवेशकारों को अफ्रीका को जीतने तथा गुलाम बनाने में किस प्रकार मदद की ? तीन बिन्दुओं में स्पष्ट कीजिए। $1 \times 3 = 3$

अथवा

ब्रिटिश शासन काल में भारतीय कपड़ा उद्योग के पतन के तीन कारण बताइए।

अथवा

लंदन सीजन परम्परा से क्या तात्पर्य है ? लंदन में मनोरंजन के सन्दर्भ में तीन बिन्दु दीजिए।

14. अठारहवीं शताब्दी में यूरोप में तकनीक के विकास ने उपन्यास के पाठकों की संख्या तेजी से बढ़ाई। तीन कारण दीजिए। $1 \times 3 = 3$

अथवा


मार्टिन लूथर कौन थे ? उन्होंने प्रेस की प्रशंसा क्यों की ? दो कारण दीजिए।

15. संघवाद के कोई तीन लक्षण बताइए। 1
16. बेल्जियम के समाज की जातीय बुनावट की तीन बिन्दुओं में विवेचना कीजिए।
17. "एक सजग एवं विवेकील उपभोक्ता ही स्वयं को बाजार के लोभ से बचा सकता है" कोई तीन सावधानियाँ लिखिए। $1 \times 3 = 3$
18. विकसित एवं विकासशील देशों के बीच अन्तर स्पष्ट कीजिए। $1 \times 3 = 3$
19. "वियतनाम-अमेरिका युद्ध में अमेरिका को अपने देश में ही विरोध का सामना करना पड़ा।" अमेरिका में उठे विरोध के चार कारण बताइए। 4

अथवा

फ्रांसीसी क्रांतिकारियों ने सामूहिक पहचान की भावना पैदा करने के लिए कौन से चार उपाय किए ?

20. नीचे दिए गए चित्र को ध्यान से पहचानिए तथा निम्न प्रश्नों के उत्तर दीजिए।

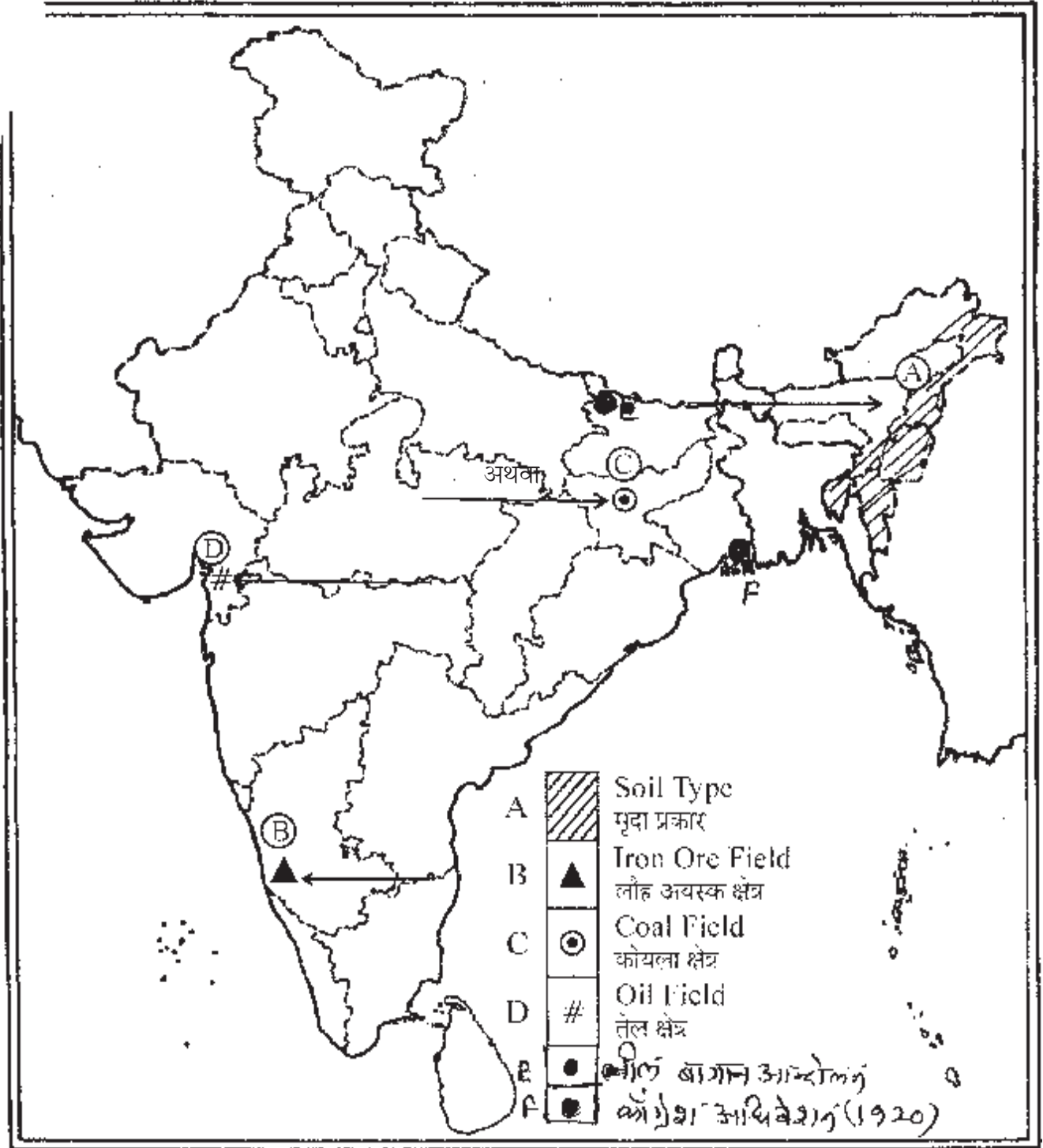


- 20.1. दी गई फसल का क्या नाम है ? 1
- 20.2. यह फसल किन दो राज्यों में उगाई जाती है ? $\frac{1}{4} \times 2 = 1$
- 20.3 रोपण फसल की कोई दो विशेषताएं लिखिए। $1 + 1 = 2$
21. उद्योगों की स्थापना को प्रभावित करने वाले दो मानवीय एवं दो प्राकृतिक कारक बताइए। $2 + 2 = 4$
22. धरातल, आर्थिक क्रियाएं तथा जनसंख्या ने रेल मार्गों को किस प्रकार अधिक प्रभावित किया है ? उत्तर की पुष्टि चार तर्क देकर कीजिए। 4
23. “भारतीय लोकतन्त्र में जाति प्रथा की भूमिका अहम् है” जाति प्रथा किस प्रकार चुनावों को प्रभावित करता है। चार कारण बताइए।
24. गठबन्धन सरकार से क्या तात्पर्य है ? क्षेत्रीय दल किस प्रकार गठबन्धन सरकार को प्रभावित करते हैं ? 4
25. आज दुनियाँ के अधिकांश देशों ने लोकतन्त्र अपना लिया है। कथन के पक्ष में लोकतन्त्र के चार गुण बताइए। 4
26. कृषि क्षेत्र में किसानों को किन समस्याओं का सामना करना पड़ता है ? किन्हीं चार समस्याओं को बताइए। 4
27. वैवीकरण का लाभ सभी वर्गों को समान रूप से क्यों नहीं हुआ ? चार तर्क देकर उत्तर की पुष्टि कीजिए। $1 \times 4 = 4$
28. ग्रामीण क्षेत्रों में ऋण की क्यों आवश्यकता पड़ती है ? ग्रामीण क्षेत्र के लोग इसे किन दो स्रोतों से पूरा करते हैं? $2 + 2 = 4$
29. (क) भारत के राजनैतिक रेखा मानचित्र में निम्न स्थानों को अंकित कीजिए।
(1) दिए गए भारत के रेखा मानचित्र (राजनैतिक) में दिये गए स्थानों को पहचानिए तथा दिए गए संकेतों के सामने लिखिए।
(1) नील बागान आन्दोलन

(ठ) काँग्रेस अधिवेशन

(ख) दिए गए मानचित्र में ABCD को पहचानिए तथा दिए गए संकेतों के सामने लिखिए।

1×4=4



- 29 (i) इसी मानचित्र में निम्न स्थानों को संकेतों के माध्यम से अंकित कीजिए एवं उनका नाम लिखिए।
(क) वह स्थान जहां से गान्धी जी ने नमक कानून का उल्लंघन किया।
(ख) 1929 का कांग्रेस अधिवेशन केन्द्र।
- (ii) भारत के इसी मानचित्र के निम्नलिखित लक्षणों की स्थिति दिखाइए व उनके नाम लिखिए।
(क) प्रमुख जूट उत्पादक राज्य।
(ख) कर्नाटक में स्थित एक परमाणु ऊर्जा केन्द्र।
(ग) तमिलनाडु में स्थित एक कोयला क्षेत्र
(घ) गुजरात का प्रमुख एक पत्तन



नमूना प्रश्न पत्र 1 के उत्तर

1. मानचेस्टर लीड्स

अथवा

कच्चामाल, मजदूर, पूँजी प्रवाह (कोई दो)

अथवा

1863, लन्दन

2. श्रीनिवास दास, परीक्षा गुरू

अथवा

असमंजस की स्थिति में इस्लामी कानून के विद्वानों द्वारा वैधानिक घोषणा।

3. वे वन क्षेत्र जहां कुछ प्रतिबन्धों के साथ पु चराने एवं कृषि करने की अनुमति दी जाती हैं।

4. (क) बाँगर (2) खादर

5. जलाऊ लकड़ी, गोबर के उपले, फसलों के अवोष पदार्थ, गन्ने की छीलन (कोई अन्य दो भी)

6. (क) छोटे पैमाने के उद्योग

(ख) बड़े पैमाने के उद्योग

7. महिलाओं के लिए समान अधिकारों की वकालत करने वाले एवं उनके लिए आन्दोलन करने वाले।

8. (क) टॉमी स्मिथ

(ख) जॉन कार्लोस

9. (क) शिक्षा (ख) प्रति व्यक्ति आय

(ग) स्वास्थ्य (ग) जीवन प्रत्याशा (कोई दो)

10. कोपरा कानून 1986 में लागू किया गया।

11. (क) अस्प्यता (छुआछूत) को खत्म करके।

(ख) अछूतों को हरिजन नाम दिया।

(ग) मन्दिरों, सार्वजनिक स्थलों पर प्रवेश दिलाने के लिए सत्याग्रह किया।

(घ) उच्चवर्ग के लोगों को हृदय परिवर्तन के लिए आग्रह किया।

(कोई तीन)

12. (क) खादी कपड़ों का मिलों के कपड़ों की तुलना में महंगा होना।

(ख) भारतीय शिक्षा संस्थानों की कमी।

(ग) भारतीय अदालतों की कमी।

(घ) रोजगार के लिए भारतीय संस्थानों की कमी

(कोई तीन)

13. (क) रिन्डर पेस्ट बीमारी से पुओं का मरना।

(ख) अफ्रीकी जनता की जीविका में कमी।

(ग) ब्रिटिश/यूरोपीय सरकार ने बचे हुए पुओं को भी मार दिया।

(घ) बागान मालिकों एवं खान मालिकों ने अफ्रीकी जनता को श्रम बाजार में ढकेल दिया।

(कोई भी तीन)

अथवा

(क) मीनों का अधिक प्रयोग।

(ख) ब्रिटिश सरकार द्वारा रूई (COTTON) पर निर्यात कर हटाया।

(ग) तैयार कपड़े पर भारी निर्यात कर लगाना।

अथवा

अमीर ब्रिटेन वासियों के मनोरंजन की पहल से चली आ रही परम्परा 'लन्दन सीजन' के नाम से जानी जाती हैं।

(क) सभ्रांत परिवारों के लिए ऑपेरा, रंगमंच, शास्त्रीय संगीत का आयोजन।

(ख) खबरों का आदान-प्रदान करना।

(ग) राब घर व पब का प्रयोग।

14. (क) मीनों से छपने के कारण सस्ते उपन्यास।

(ख) चित्रात्मक एवं कलात्मक छपाई

(ग) तकनीकी सुधार से छपाई पर कम खर्च

(घ) पुस्तकालयों की स्थापना से किराये पर उपन्यासों का मिलना।

अथवा

(क) मार्टिन लूथर एक धर्म सुधारक

(ख) उन्होंने मुद्रण को एक महान देन माना हैं।

(ग) इसमें नया बौद्धिक माहौल बना हैं।

(घ) मुद्रण के माध्यम से किसी भी निरंकु सत्ता को हटाया जा सकता हैं।

(कोई तीन)

15. (क) सरकार का दो या दो से अधिक स्तरों पर होना।

(ख) सभी स्तरों की सरकारों की कृतियों का संविधान द्वारा विभाजन

(ग) सभी सरकारों का निश्चित अधिकार क्षेत्र

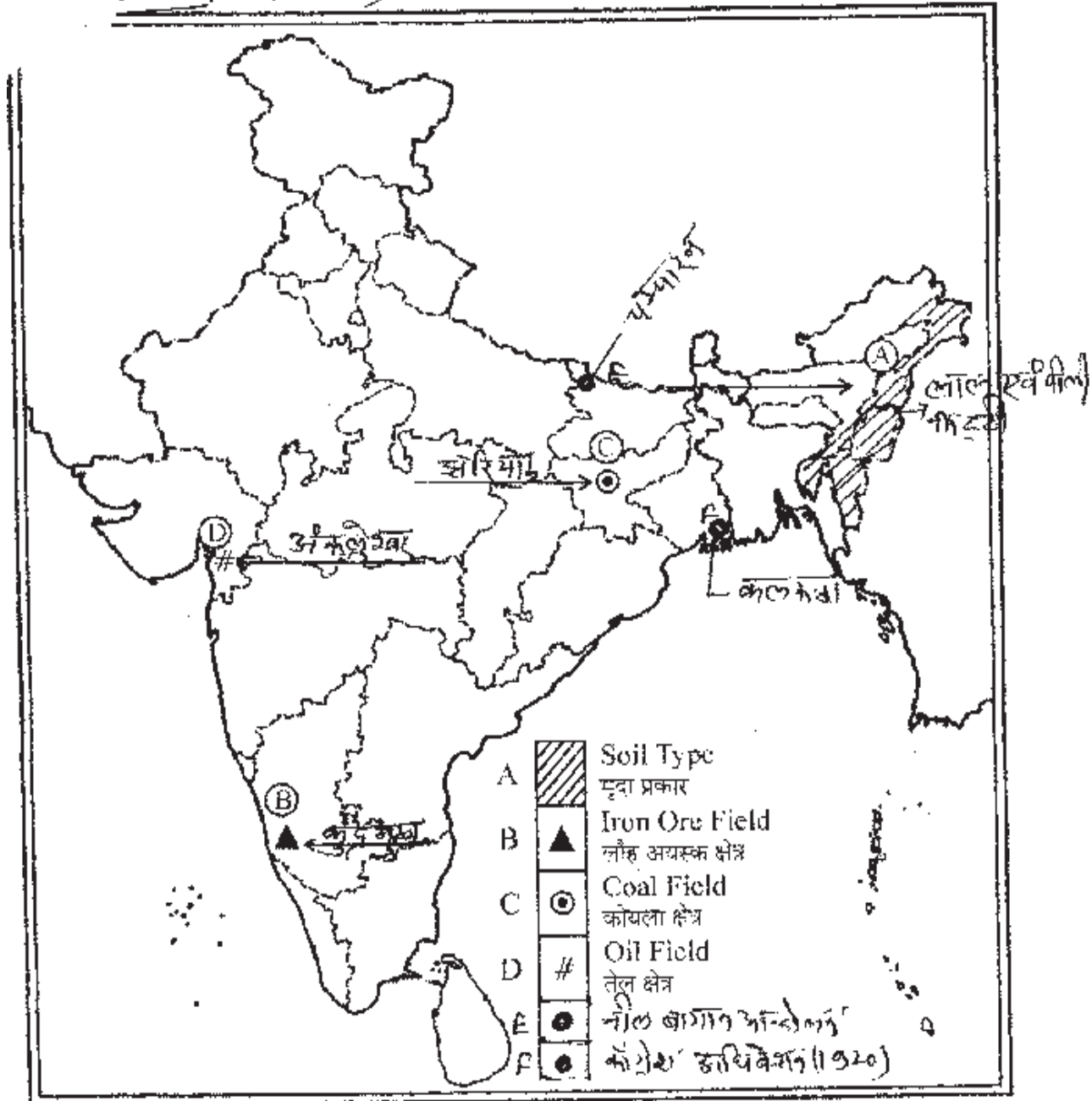
- (घ) सभी सरकारों के लिए स्पष्ट राजस्व व्यवस्था (कोई तीन)
16. (क) बेल्जियम में 59% लोग डच बोलने वाले।
 (ख) 40 प्रतिशत फ्रेंच बोलने वाले।
 (ग) 1 प्रतिशत जर्मन बोलने वाले।
 (घ) राजधानी ब्रसेल में फ्रेंच बोलने वाले बहुमत में तथा डच बोलने वाले अल्पमत में थे। (कोई तीन)
17. (क) उत्पादित वस्तु की तिथि एवं मूल्य की जानकारी लेना।
 (ख) वस्तु की गुणवत्ता को ठीक से जांचना।
 (ग) मोलभाव अधिक करना
 (घ) खरीदे गए सामान की गारन्टी व बिल कार्ड अवय लेना।
 (ङ) उपभोक्ता कानून की जानकारी रखना। (कोई तीन)
18. विकसित वे -
 (क) औद्योगिक क्षेत्रों एवं टेक्नोलोजी का अधिक विस्तार
 (ख) प्रति व्यक्ति आय में अधिकता
 (ग) कुल एवं प्रशिक्षित कारीगर
 विकसीलदे
 (क) कृषि एवं ग्रामीण क्षेत्र का महत्व
 (ख) छोटा औद्योगिक क्षेत्र व टेक्नोलोजी में कमी
 (ग) प्रति व्यक्ति आय कम
 (घ) जनसंख्या में तेजी से वृद्धि। (कोई अन्य भी तीन तीन)
19. (क) युद्ध में अमेरिका के सैनिकों का मरना
 (ख) युद्ध के लम्बा खिंचने से अमेरिका में लोग विरोध करने लगे
 (ग) अमेरिका युद्ध का सीधा प्रसारण होने से जनता में सैनिक कुकृत्यों से रोष उत्पन्न हुआ।
 (घ) मैरी मैकार्थी जैसे अमेरिकी लेखकों ने वियतनाम के लोगों की प्रशंसा की। (कोई अन्य चार भी)
- अथवा
- (क) फ्रेंच भाषा को सामूहिक रूप से स्वीकृति।
 (ख) पितृभूमि और नागरिक जैसे विचार
 (ग) गीतों का गुणगान व नई स्तुतियां रची गईं।

- (घ) नया फ्रांसीसी झंडा
- (ङ) एक केन्द्रीय प्रासनिक व्यवस्था। (कोई चार)
20. (क) केला
- (ख) महाराष्ट्र, केरल, तमिलनाडु, मिजोरम (कोई दो)
- (ग) (1) यह व्यापारिक फसल (2) एक वर्षीय फसल
21. (क) क्लेश्रम
- (ख) पूँजी
- (ग) यातायात संचार के साधन (कोई दो)
- (घ) कच्चा माल
- (ङ) जलवायु
- (च) धरातल (कोई दो)
22. (क) समतल धरातल पर आसानी से रेलें बिछाई जा सकती हैं। पर्वतीय व पठारी भागों में कम।
- (ख) पर्वतीय क्षेत्रों में भूमि कटाव व भूस्खलन का खतरा।
- (ग) कृषि क्षेत्र एवं औद्योगिक क्षेत्रों में रेल सेवा की अधिक मांग।
- (घ) घनी जनसंख्या वाले क्षेत्रों में भी अधिक मांग। (कोई अन्य भी यदि उपयुक्त है)
23. (क) चुनाव में उम्मीदवारों का चयन जाति के आधार पर
- (ख) मतदाता द्वारा अपनी जाति के उम्मीदवारों को ही वरीयता देना
- (ग) सरकार गठन में भी जातियों का सामंजस्य
- (घ) नेताओं द्वारा समान जाति के लोगों को वरीयता ।
24. (क) जब कई दल मिलकर सरकार बनाते हैं।
- (ख) क्षेत्रीय प्रभाव से चुनाव जीतना व सरकार में गठबन्धन से शामिल होना।
- (ग) क्षेत्रीय समस्याओं को वरीयता देना।
- (घ) सरकार को नीतियां बनाते समय अपने क्षेत्र से अवगत कराते हैं।
- (ङ) सरकार से समर्थन वापस लेने पर सरकार का अल्पमत में आना। (कोई चार)
25. (क) लोकतन्त्र में गलती सुधारने का अवसर।
- (ख) जनता द्वारा सरकार का चुनाव
- (ग) निर्णय लेने की क्षमता में सुधार

- (घ) संघर्ष हल करने का अवसर
(ङ) प्रत्येक नागरिक को समानता। (काई अन्य चार भी)
26. (क) सिंचाई की समस्या
(ख) कर्ज का भार
(ग) प्रच्छन्न बेरोजगारी/अल्प बेरोजगारी
(घ) हरी दलालों का षोषण।
(ङ) फसल का उचित मूल्य न मिलना। (कोई चार)
27. (क) कुछ उच्च एवं विविष्ट कम्पनियों को लाभ
(ख) संचार एवं तकनीक के क्षेत्र में ही विकास
(ग) कुछ बहुराष्ट्रीय कम्पनियों जैसे सेलफोन, बैंकिंग एन्ड साफ्टड्रिंक को फायदा
(घ) किसानों के भूमि अधिग्रहण से कृषि क्षेत्र में कमी
(ङ) छोटे उद्योगों/व्यापारियों को नुकसान। (कोई अन्य चार भी)
28. ग्रामीण क्षेत्रों में ऋण की आवश्यकता
(क) सिंचाई के साधनों के लिए
(ख) बीज, खाद एवं कृषि यन्त्र खरीदने के लिए
(ग) गादी एवं अन्य सामाजिक कार्यों के लिए
- ऋण प्राप्त के स्रोत
औपचारिक - बैंक, सहकारी समितियाँ, स्वयं सहायता समूह
अनौपचारिक - जमींदार, साहूकार, मित्र एवं रिश्तेदार

Outline Map of India (Political)

प्रश्न 29 (हल)



नमूना प्रश्न पत्र - 2

सामाजिक विज्ञान

कक्षा 10

निर्धारित समय : 3 घंटे

अधिकतम अंक : 80

सामान्य निर्देश

1. कुल 29 प्रश्न हैं सभी प्रश्न अनिवार्य हैं।
2. प्रत्येक प्रश्न के अंक प्रश्न के सामने दिए हैं।
3. प्रश्न संख्या 1 से 10 तक प्रश्न एक-एक अंक के हैं। प्रत्येक प्रश्न का उत्तर एक शब्द से एक वाक्य तक होना चाहिए।
4. प्रश्न संख्या 11-18 तक के प्रश्न तीन-तीन अंकों के हैं। प्रत्येक प्रश्न का उत्तर 80 शब्दों से अधिक नहीं होना चाहिए।
5. प्रश्न संख्या 19-28 तक के प्रश्न चार अंकों के हैं। प्रत्येक प्रश्न का उत्तर 100 शब्दों से अधिक का नहीं होना चाहिए।
6. प्रश्न संख्या 29 मानचित्र से सम्बन्धित हैं; दिए गए मानचित्र को अपनी उत्तर पुस्तिका के भीतर संलग्न करें।

1. किन्हीं दो बंगला उपन्यासकारों के नाम लिखिए।

अथवा

जेम्स ऑगस्टस हिक्की ने 1780 से कौन सी साप्ताहिक पत्रिका का सम्पादन शुरू किया ?

2. भारत के दो प्रेसीडेंसी शहरों के नाम बताइए।

अथवा

स्टेपलर से क्या तात्पर्य है ?

अथवा

रेम मार्ग से जोड़ने वाले दो महाद्वीपों के नाम लिखिए।

3. काजीरंगा राष्ट्रीय उद्यान किस राज्य में स्थित है ? यह उद्यान किस जीव के लिए मुख्यतः जाना जाता है ?
4. मदा अपरदन के प्रमुख दो रूप क्या हैं ?
5. सौर ऊर्जा का भारत में सबसे बड़ा संयंत्र कहां है ? तथा किस राज्य में स्थित है ?
6. सार्वजनिक क्षेत्र में सरकार द्वारा संचालित किन्हीं दो उद्योगों के नाम बताइए।
7. श्रम के लैंगिक विभाजन से क्या तात्पर्य है ?
8. समरूप समाज की प्रमुख विशेषता लिखिए।

9. सूचना का अधिकार भारत में कब लागू किया गया ?
10. िमृत्यु दर केरल में सबसे कम है, क्यों ? दो कारण बताइए।
- 11.1 दिए गए चित्र को पहचानिए तथा इस चित्र में किस आन्दोलन को दर्शाया गया है ?



- 11.2 इस आन्दोलन में गान्धी जी के साथ कितने सहयोगी प्रारम्भ में थे ?
- 11.3 इस आन्दोलन को शुरू करने का एक उद्देश्य बताइए।
12. सविनय अवज्ञा आन्दोलन की प्रमुख सीमाएं क्या थीं ? कोई तीन सीमाएं लिखिए।
13. तकनीकी विकास ने भूमण्डलीकरण में क्या भूमिका निभाई ? कोई तीन तकनीकी बदलावों की विवेचना कीजिए।

अथवा

प्रथम विश्व युद्ध के बाद मानचेस्टर को पहले जैसी 'हैसियत (प्रतिष्ठा) पुनः हासिल क्यों नहीं हो पाई ? तीन कारण दीजिए।

अथवा

बम्बई में जमीन (भूमि) की कमी को पूरा करने के लिए क्या प्रयास किये गए ? तीन प्रयास लिखिए।

14. "इतिहास में उपन्यास पश्चिम और भारत दोनों जगहों पर विभिन्न लोगों की जिंदगी का अहम् हिस्सा बन जाता है। कैसे ? चार तर्क दीजिए।

अथवा

भारत में पांडुलिपियों का चलन कम होने के पीछे प्रमुख तीन समस्याएं क्या थीं ?

15. 1992 में संविधान सौधन द्वारा किस प्रकार स्थानीय सरकारों को कित्ताली एवं प्रभावाली बनाया गया ? कोई तीन प्रावधान लिखिए।

16. बेल्लिजयम सरकार ने सत्ता की साझेदारी का एक आर्दा प्रस्तुत किया है। तीन सुधारों की विवेचना कीजिए।
17. विकास की अवधारणा प्रत्येक व्यक्ति के लिए अलग-अलग है। कोई तीन उदाहरण देकर स्पष्ट कीजिए।
18. मानकीकरण से क्या अभिप्राय है ? भारत में मानकीकरण का प्रमाण पत्र देने वाली दो संस्थाओं के नाम लिखिए।
19. वियतनाम के बारे में फान यू चिन्ह का उद्देश्य क्या था ? फान बोई चाउ और उनके विचारों में क्या भिन्नता थी ?

अथवा

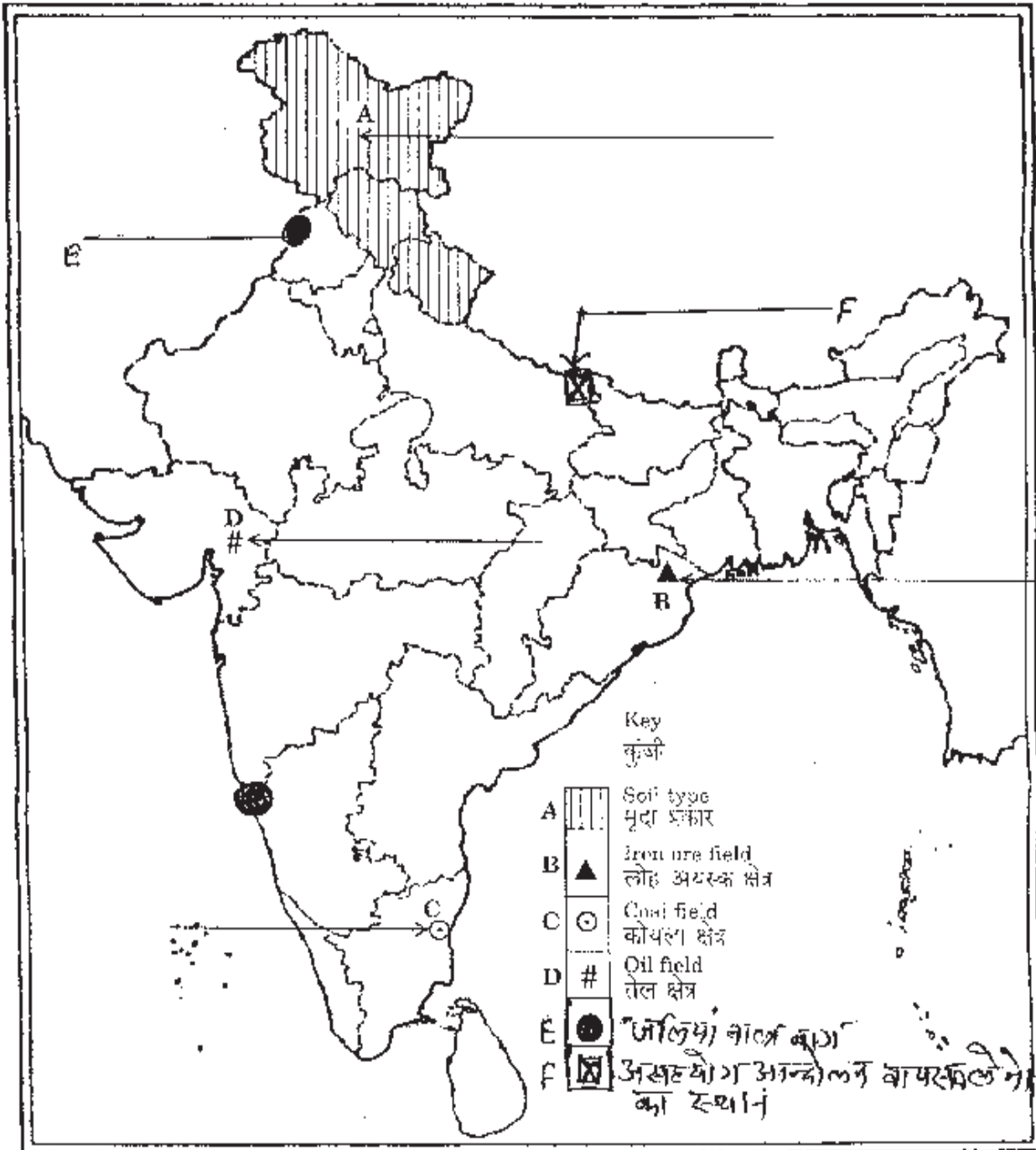
फ्रांसीसी कलाकार फ्रेड्रिक सारयू ने अपने चार चित्रों की श्रृंखला के पहले चित्र में जनतांत्रिक और सामाजिक गणतंत्रों के सपनों के संसार का चित्रण किस प्रकार किया है ? विवरण दीजिए।

20. दिए गए चित्र को ध्यानपूर्वक अध्ययन कीजिए तथा निम्न प्रश्नों के उत्तर दीजिए।



- 20.1. चित्र में दिखाई गई ऊर्जा संयंत्र का नाम लिखिए।
- 20.2. यह ऊर्जा संयंत्र भारत के किस भाग में अधिक प्रचलित है।
- 20.3. चित्र में दिखाई ऊर्जा संयंत्र के दो लाभ लिखिए।
21. “भारत के विभिन्न क्षेत्रों में परम्परागत तरीके से जल संग्रहण किया जाता है। चार पद्धतियाँ बताइए।
22. स्वामित्व के आधार पर उद्योगों का वर्गीकरण कीजिए। प्रत्येक प्रकार के उद्योगों का एक-एक उदाहरण भी लिखिए।
23. भारत में महिलाएं अभी भी कई तरह से दमन और भेदभाव का सामना कैसे करती हैं ? चार उदाहरणों की सहायता से स्पष्ट कीजिए।
24. नेपाल में लोकतन्त्र की स्थापना के लिए किए गए प्रयासों का विवरण दीजिए।
25. उच्च व अधिक समृद्धि हासिल करने में गैर लोकतान्त्रिक सरकारें अधिक सफल क्यों रही हैं ? चार कारण दीजिए।
26. भारतीय रिजर्व बैंक अन्य बैंकों की गतिविधियों पर किस प्रकार नियंत्रण रखती है ? स्पष्ट कीजिए।
27. बहुराष्ट्रीय कम्पनियों का भारत के रोजगार एवं व्यापार पर पड़ने वाले प्रभावों को स्पष्ट कीजिए।

28. सेवा क्षेत्रक से क्या तात्पर्य है ? असंगठित क्षेत्रक के श्रमिकों की तीन समस्याएं बताइए।
29. (क) दिए गए भारत के राजनैतिक मानचित्र में लक्षणों को पहचानिए तथा अंकित लाईनों पर लिखिए।
 (ख) इसे दिए गए मानचित्र में ठीक लक्षणों को पहचानिए तथा मानचित्र में अंकित स्थानों पर लिखिए।



अथवा

29. (क) दिए गए इस मानचित्र में निम्न ऐतिहासिक स्थानों को दाईए।

(1) डांडी (2) मद्रास

(ख) (1) विजय नगर इस्पात केन्द्र (2) लोकटक तापविद्युत केन्द्र (3) भाखड़ा बांध (4) जयपुर साफ्टवेयर पार्क

